

Chapter I 경제 활동과 상업

01. 경제 활동의 요소

- 성취기준: ① 경제 활동이 무엇인지 발표할 수 있다.
② 경제 활동의 주체와 객체를 구분할 수 있다.
③ 경제 원칙과 경제 활동의 순환 과정을 설명할 수 있다.
④ 수요와 공급의 법칙에 대하여 설명할 수 있다.

가. 경제 활동의 이해

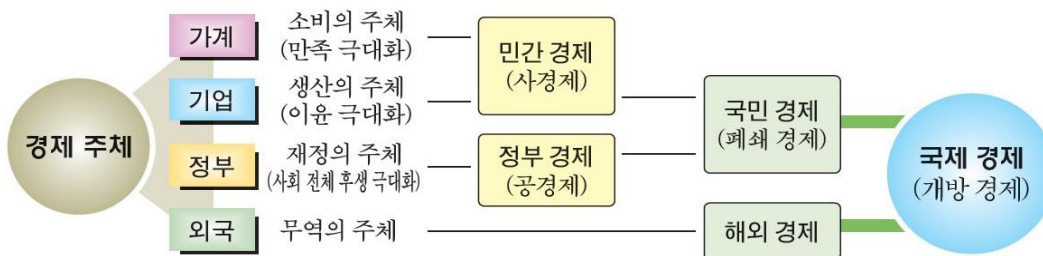
(1) 경제 활동의 개념

우리가 살아가는 데에는 의식주를 비롯하여 여가, 교통, 문화 생활 등에 관련된 여러 가지 형태의 **재화**와 **용역(서비스)**이 필요하다. 이와 같이 생활에 필요한 재화와 용역을 생산하고 분배하며, 소비하는 일련의 활동을 경제 행위 또는 경제 활동이라 한다.

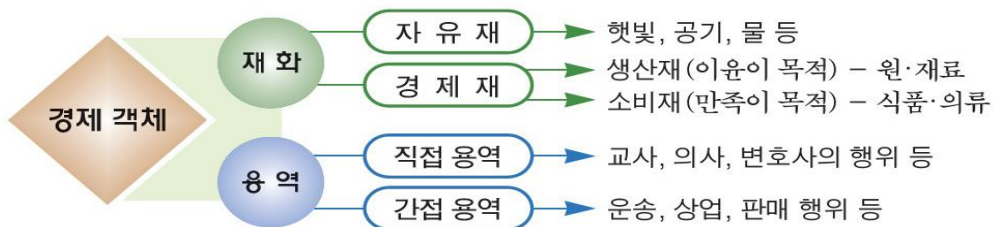
(2) 경제 활동의 유형

우리들의 경제 활동은 생산, 분배, 소비에 의해 이루어진다.

나. 경제 활동의 주체



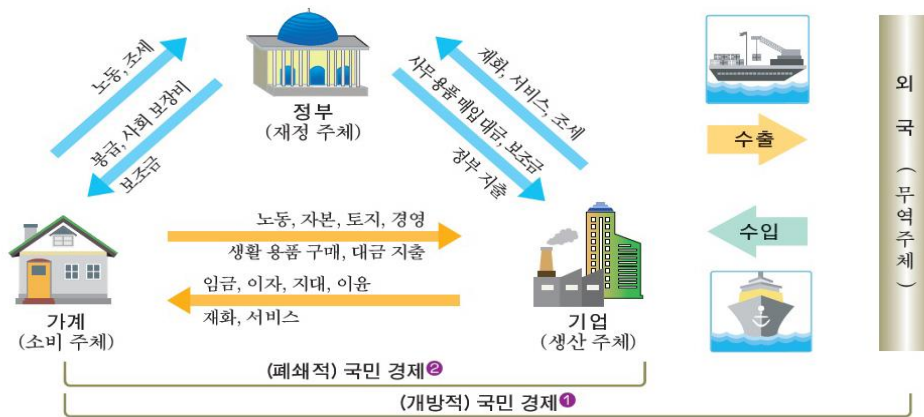
다. 경제 활동의 객체



라. 경제 활동의 원칙과 선택



마. 경제 활동의 순환 과정

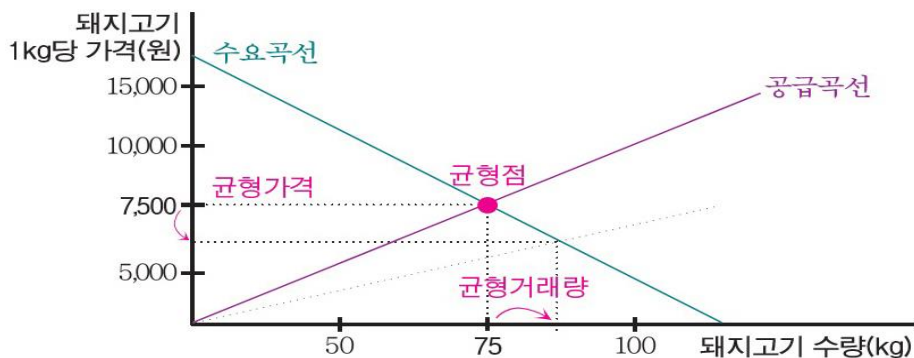


바. 수요와 공급의 법칙

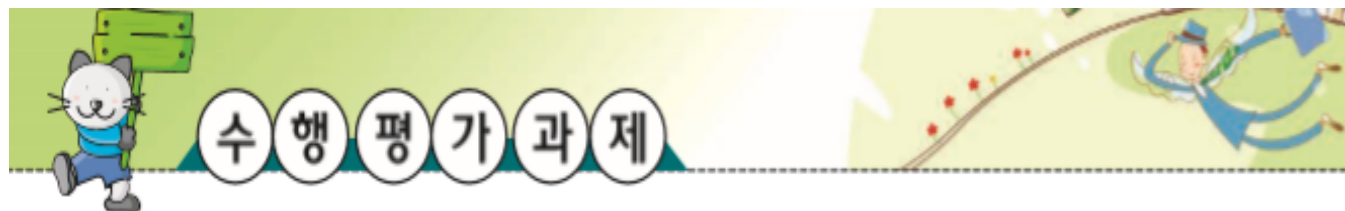
(1) 수요 공급의 법칙

수요는 상품의 가격, 소비자의 소득 등에 영향을 받게 되고, 공급은 상품 가격과 생산비 등에 영향을 받게 된다. 따라서 상품의 가격은 수요와 공급에 의해 결정된다. 만약 주어진 가격에서 수요량이 공급량보다 많으면 가격이 상승하게 되고, 그 반대의 경우는 가격이 하락하게 된다. 그러나 시장 경제에서 상품의 가격은 다음 그림과 같이 수요와 공급이 일치하는 **균형점**에서 균형 가격이 결정되는데, 이것을 수요 공급의 법칙이라 한다.

(2) 수요 및 공급과 가격 변동



수요 공급의 법칙 ※ 돼지고기 1kg 당 7,500원이라는 균형 가격과 75kg이라는 균형 거래량이 결정됨을 알 수 있다. 균형 가격이 7,500원 보다 내려가면 균형 거래량이 증가하게 된다.



- 1 우리 아버지는 회사에 나가 일하시고, 어머니는 전업 주부로 집안 살림을 주로 하신다. 누나는 국가 공무원으로 일하고 있다. 이들의 경제 행위는 무엇인가?

구 분	아버지 생활	어머니 생활	누나의 월급
경제 행위			

- 2 어머니는 오늘 슈퍼마켓에 가서 식료품과 생활 용품을 사 오시고, 아버지는 몸이 좋지 않아 병원에 다녀오시고, 나는 지하철을 이용하여 학교에 다녀왔다. 이들의 경제 활동 객체와 관계 있는 것은 무엇인가?

구 분	어머니	아버지	나
경제 객체			

- 3 다음은 각 경제 주체들이 경제 행위를 할 때 선택의 원칙은 무엇인지 또 그 이유는 무엇인지 논의해 보는 문제이다. 아래 빈칸을 완성하고 발표해 보자.

경제 주체	선택의 원칙	이 유
		이익을 최대화하기 때문
	최대 만족의 원칙	
정부		

- 4 경제 활동의 객체인 생산재와 소비재, 직접 용역과 간접 용역의 사례를 하나씩 들고 그 특징을 발표해 보자.

구분	생산재	소비재	직접 용역	간접 용역
사례				
특징				

- 5 다음 그림을 보고 수요 공급의 법칙과 가격 변동 사례를 들어 발표해 보자.

