

1 다음은 강의 일기이다. 밑줄 친 ㉠-㉣에 대한 설명으로 옳은 것은? [2015학년도 대수능 6월 모의평가]

○월 ○일
방학한 지 3일째, 온종일 바깥다. 오전에는 ㉠ 호수고등학교에서 운영하는 논술 특강을 들었고, 오후에는 ㉡ 근대 펜스 동아리 모임에서 공연 연습을 하였다. 저녁에는 청소년 인권 관련 ㉢ 시민 단체가 주최하는 인권 영화제에 ㉣ 가족과 함께 다녀왔다. 나름 뿌듯한 하루~~

- ① ㉠은 구성원들의 선택 의지에 따라 형성된 1차 집단이다.
② ㉡은 공동 사회이면서 자발적 결사체이다.
③ ㉢은 공익을 추구하는 이익 사회이다.
④ ㉣은 모두 비공식 조직이면서 감의 내집단이 다.
⑤ ㉠, ㉡ 모두 친밀감을 바탕으로 형성된 2차 집단이다.

2 다음은 사회 조직의 유형과 관련하여 감이 작성한 자료이다. 이에 대한 설명으로 옳은 것은?

[사회 조직의 유형]

- A : 구성원의 지위와 책임이 명확하게 규정되고, 정해진 절차에 의해 특정 목적을 달성하기 위한 조직
- B : 공식 조직 내에서 구성원 간의 친밀한 인간 관계에 바탕을 두고 자발적으로 형성한 사회 집단
- C : 공통의 관심사나 목표를 가진 사람들이 자발적으로 결성한 집단

[분류 방법]

만약 어떤 사회 조직이 A~C 세 가지 중 어느 하나에만 해당되면 1점, 두 개에 해당되면 2점, 세

가지 기준에 모두 해당되면 3점을 부여한다.

- ① 어떤 사회 조직이 A에 해당되면, 해당 조직에 부여되는 점수는 무조건 2점이다.
② 어떤 사회 조직이 B에 해당되면, 해당 조직에 부여되는 점수는 무조건 2점이다.
③ 어떤 사회 조직이 C에 해당되면, 해당 조직에 부여되는 점수는 무조건 2점이다.
④ 회사 내 고교 동창회는 3점을 부여받을 수 있다.
⑤ 사내 노동조합은 환경 단체보다 높은 점수를 부여받을 것이다.

3 밑줄 친 ㉠, ㉡에 대한 옳은 설명을 <보기>에서 고른 것은?

사회적 책임이란
대여자의 이해를 증진하고, 사회·문화적 요구를 충족시키는 데 필요한 자원을 투입하고, 사회적 책임을 다하는 것을 의미한다. 이는 경영자가 경영 활동 과정에서 사회적 책임을 다하는 것을 의미한다.

사회적 책임이란
기업이 사회적 책임을 다하는 것을 의미한다. 이는 경영자가 경영 활동 과정에서 사회적 책임을 다하는 것을 의미한다.

<보기>

- ㉠. ㉠은 명시적인 과업을 중심으로 결성된 조직이다.
㉡. ㉡은 구성원의 자발적 참여에 의해 형성된 다.
㉢. ㉢은 ㉡과 달리 이익 사회에 해당한다.
㉣. ㉣은 ㉠과 달리 공식 조직 내에서 인위적으로 형성된다.

- ① ㉠, ㉡ ② ㉠, ㉢ ③ ㉡, ㉢
④ ㉡, ㉣ ⑤ ㉢, ㉣

4 밑줄 친 ㉠, ㉡에 대한 옳은 설명을 <보기>에서 고른 것은?

㉠ ○○고등학교는 행정실, 교무기획부, 연구부, 생활지도부 등 12개 부서에 80여 명의 교직원 이 근무하고 있다. 이 학교의 교직원 중 약 70%는 축구, 배드민턴, 시예, 합창 등 ㉡ 10여 개의 교내 동호회 활동에 참여하고 있다.

<보기>

- ㉠. ㉠에서는 구성원의 역할이 명시적으로 규정된다.
㉡. ㉡은 공식 조직 내에서 인위적으로 형성된 다.
㉢. ㉢은 공동 사회, ㉣은 이익 사회에 해당한다.
㉣. ㉣은 공식 조직 내에서 인위적으로 형성된 다.
㉤. ㉤, ㉡ 모두 구성원에게 1차 집단에 해당한다.

- ① ㉠, ㉡ ② ㉠, ㉢ ③ ㉡, ㉢
④ ㉡, ㉣ ⑤ ㉢, ㉣

5 다음은 중 A~C에 해당하는 사회 집단 유형으로 옳은 것은?

- A에 해당하는 사회 집단은 B에 해당할 수 없다.
- A에 해당하는 사회 집단은 모두 C에 해당한다.

A B C

- ① 1차 집단 공동 사회 이익 사회
② 이익 사회 비공식 조직 자발적 결사체
③ 공동 사회 2차 집단 비공식 조직
④ 비공식 조직 공동 사회 자발적 결사체

⑤ 자발적 결사체 이익 사회 2차 집단

6 밑줄 친 ㉠-㉣에 대한 옳은 설명을 <보기>에서 고른 것은?

한 회사의 임직원들이 입사 전에 가입한 ㉠ 프로야구 팬클럽이나 지지하는 ㉡ 축구단은 다룰 수 있지만 서로 협력하며 업무를 수행한다. 하지만 ㉢ 야구 시합이나 선거와 같은 상황이 되면 ㉣ 다른 모습이 연출되기도 한다. 사람들은 자신이 좋아하는 프로 야구팀이나 정당에 강한 애착을 보이면서 집단 편향에 따라 행동하는 모습을 보이기도 한다.

<보기>

- ㉠. ㉠은 자발적 결사체이며 비공식 조직이다.
㉡. ㉡은 2차 집단이며 공식 조직이다.
㉢. ㉢은 소속 집단과 준거 집단의 불일치로 인해 나타난다.
㉣. ㉣은 ㉠의 구성원들의 내집단 의식을 강화시킨다.

- ① ㉠, ㉡ ② ㉠, ㉢ ③ ㉡, ㉢
④ ㉡, ㉣ ⑤ ㉢, ㉣

7 밑줄 친 '이것'에 해당하는 사회 집단에 대한 옳은 설명만을 <보기>에서 고른 것은?

개인은 자신의 행위를 판단하고 결정하는 데 있어서 이것을 설정한다. 그리고 이것을 기준으로 자신의 사회적 지위, 행복감, 부의 정도, 사회적 행복 정도를 판단한다.


<보기>

- ㉠. 사회적 지위가 같으면 이것도 같다.
㉡. 개인적 판단보다 사회 구조에 의해 결정된다.

- ㉔. 개인의 행위를 평가하고 이해하는데 도움
이 된다.
- ㉕. 소속 집단이 '이것'이 아닌 경우 상대적으로
탈감이 나타날 수 있다.

- ① ג', ג'
- ② ג', ג'
- ③ ג', ג'
- ④ ג', ג'

8 그림 (가), (나)의 사회적 성격을 구분할 수 있는 기준을 <보기>에서 고른 것은?



1. 2명 이상의 사람이 모여 있는가?
 2. 소속감과 공동체 의식을 가지고 있는가?
 3. 구성원 간 지속적인 상호 작용이 이루어지는가?
 4. 문화화된 규약과 절차에 따라 활동이 이루어지는가?

- ① ר. ח.
 ② ר. ח.
 ③ ר. ח.
 ④ ר. ח.

9 밑줄 친 ㉠~㉢에 대한 분석으로 옳지 않은 것은?

▶ **A4** [인] 사회학과 모임

답: (5)가 맞습니다. (4)도 되나요?

문 : 국 사민연대 회원들과 봉사활동하기로 해서 시간이 안될 것 같아.

명 :  교육부
02-312-61000
마이해 ~

정 : 고등학교 동문회 모임이 있어요
끝나고 바로 갈게요.

① ㉔에서는 비공식적 수단에 의한 통제가 일반적이다.

② ㉞은 구성원들의 의지와 선택에 따라 형성된 집단이다.

③ ㉠보다 ㉡에서 구성원 간 친밀한 대면 접촉이 지배적이다.

④ ㄱ, ㄴ은 모두 2차 접단이면서 비공식 조적이
다.

⑤ ㉠, ㉡, ㉢은 모두 자발적 결사체에 해당한다.

10 다음 글의 A, B와 관련된 설명으로 옳은 것은?

- A는 인간 상호 간의 애정을 바탕으로 본질적 의지에 의해 결함된 집단으로 발전이나 저변 등이 그 요소가 된다.
- B는 서로 같은 이익이나 목적을 달성하기 위하여 선택적 의지에 의해 결함된 인위적 집단이다.

① A는 가업과 탈퇴가 자유롭다.

② B는 개인의 자아 정체성에 영향을 주지 못한다.

③ A와 B는 개인의 소속감을 기준으로 분류된다.

④ A와 달리 B는 경쟁적 상호 작용이 지배적이다.

⑤ 현대 사회에서는 A보다 B의 수가 많아지고 기능이 커진다.

11 다음은 수업 시간에 제시된 자료이다. 이를 통해 다룰 수 있는 학습목표로 가장 적절한 것은?

KSA 내에서 가장 활발하게 활동하고 있는 축구 동호회 FC 축구사랑은 약 40명의 회원으로 정되었다. 간혹 이○○ 과정은 동호회 활동 동안 친화력과 열정이 KSA가 열친들의 원인으로 종종 하나라고 말한다. 동호회 회원들은 합운동을 하며 업무가 필요할 정보를 교류하거나 부시나 팀 간에 업무 관련 문제를 해결하기 위하여 활동이 친목과 정보 교류의 장이 되었다. 회사도 동호회의 활동에 대해 재정 지원해주고, 동호회 활동이 있는 주말에는 근무제외시켜주는 등 지원을 아끼지 않는다.

- ① 비공식 조직의 순기능을 이해한다.
- ② 탈관료제 조직의 효율성을 이해한다.
- ③ 경쟁적 상호 작용의 의의를 이해한다.
- ④ 자발적 결사체의 출현 배경을 이해한다.
- ⑤ 공식 조직과 비공식 조직의 차이를 파악한다.

12 다음은 의사 감의 어느 일주일간 주요 활동을 나타낸 것이. 이에 대한 설명 및 분석으로 옳은 것은?

가	나	다	라	마	바
오른 위 팔꿈치 손목 손가락	오른 위 어깨 팔꿈치 손목 손가락	오른 위 어깨 팔꿈치 손목 손가락	오른 위 어깨 팔꿈치 손목 손가락	오른 위 어깨 팔꿈치 손목 손가락	오른 위 어깨 팔꿈치 손목 손가락

- ① 공동 사는 찾아볼 수 없다.
- ② ㉠은 비공식 조직에 해당한다

EBS에서 선생님의 교수지원을 위해 제공하는 문항자료입니다.

ES의 소중한 지적재산이오니, 사전 허락 없이 복제·변형하여 판매·배포·전송하는 일체의 행위를 금하여 주시기 바랍니다.
©FRS All right reserved

③ ㉠의 활동이 조직의 효율성을 저하시킬 수 있다.

④ ㉔에서 감의 역할 같음을 찾아볼 수 있다.

⑤ ④은 1차적 인간관계가 지배적이다.

13 포는 사회 집단 A~D를 비교한 것이다. A~D에 대한 설명으로 옳은 것은? [3]

	A	B	C	D
구상권의 의지나 선택과 무관하게 형성된 집단인가?	예		아니요	아니요
수단적 만남과 간접적 접촉이 이루어지는 집단인가?	예	아니요	예	아니요

① ‘정당’은 A에 해당한다.

② B는 비공식적 통제에 의해 유지된다

③ 고등학급 판공처는 C에 해당한다.

④ 모든 비공식적 사회화 기관은 D에 해당한다.

⑤ 공식 조적은 C가 아니라 D에 속한다

14 다음 글에서 설명하고 있는 사회 집단의 성격만을 <보기>에서 있는 대로 고른 것은?

- 공통의 관심, 목표를 가진 사람들이 자발적으로 조직하였다.
- 명령 체계이나 행위 규범이 엄격하지 않다.
- 취미, 전문성, 이해 관계 등을 공유하는 사람들
들의 참여에 의해 조직된다.

- ㉠. 가입과 탈퇴가 자유롭다.
- ㉡. 이익 사회의 범주에 포함된다.
- ㉢. 집단 구성원 모두에게 준가 집단으로 작용한다.
- ㉣. 1차적 인간 관계와 2차적 인간 관계가 혼재한다.

- ① ㄱ, ㄴ ② ㄱ, ㄷ ③ ㄷ, ㄴ
④ ㄱ, ㄴ, ㄷ ⑤ ㄴ, ㄷ, ㄴ

15 밑줄 친 ㉠~㉢에 대한 설명으로 옳은 것은?

같은 ㉠ ○○대학교 3학년에 재학 중인 학생으로, ㉡ 교내 육상 동아리 ㉢ 회장을 맡고 있다. 지난달에는 학교의 ㉡ 대표 선수로 100여 개 ㉢ 마라톤 동호회가 참가하는 ㉡ 마라톤 대회 개인전에 출전하였는데, 모두의 예상을 깨고 최중 우승하였다.

- ① ㉠은 공식 조직이면서 감의 내집단이다.
② ㉡은 자발적 결사체이면서 공동 사회이다.
③ ㉢과 ㉡ 모두 가입과 탈퇴가 자유로운 비공식 조직이다.
④ ㉢과 달리 ㉡은 성취 지위에 해당한다.
⑤ ㉢은 ㉡로서 감의 역할이다.

16 밑줄 친 '소규모 사회 집단'에 대한 설명으로 옳은 것은?

인간관계 이론은 관료제의 인간 소의 문제점을 해결하여 조직의 효율성을 높이기 위해 등장하였다. 이 이론은 관료제 조직 내에서 구성원들에 의한 소규모 사회 집단의 형성을 장려함으로써 인간 소의를 줄일 수 있다고 본다.

- ① 자발적 결사체에 해당한다.
② 이의 사회보다 공동 사회에 가깝다.
③ 권한의 수직적인 위계 서열이 뚜렷하다.
④ 1차 집단보다 2차 집단의 성격이 강하다.
⑤ 공식적인 규약과 절차에 따른 상호 작용이 강조된다.

17 다음은 감의 일기이다. 밑줄 친 ㉠ ~ ㉢에 대한 설명으로 옳은 것은?

○월 ○일
방학한 지 3일째 온종일 바빴다. 오전에는 ㉠ 호호고등학교에서 운영하는 낚시 특강을 들었고, 오후에는 ㉡ 교내 펜스 동아리 모임에서 공연 연습을 하였다. 저녁에는 청소년 인권 관련 ㉢ 시민 단체가 주최하는 인권 영화제에 ㉡가족과 함께 다녀왔다.
나름 뿌듯한 하루~~

- ① ㉠은 구성원들의 선택 의지에 따라 형성된 1차 집단이다.
② ㉡은 공동 사회이면서 자발적 결사체이다.
③ ㉢은 공익을 추구하는 이익 사회이다.
④ ㉠, ㉡ 모두 비공식 조직이면서 감의 내집단이다.
⑤ ㉡, ㉢ 모두 친밀감을 바탕으로 형성된 2차 집단이다.

18 <자료 1>, <자료 2>에 대한 옳은 설명을 <보기>에서 고른 것은?

<자료 1>
같은 ㉠ ○○대학교에 입학한 이후 평소 관심이 많았던 사회학을 연구하는 ㉡ 교내 합숙 동아리에 가입하였다. 동아리 활동 중 동아리 선배들이 졸업한 이후 함께 모임 ㉢ 시민 단체가 있다는 이야기를 듣게 되었다. 이 단체가 흥미를 느낀 감은 신청서를 작성하여 가입하였는데, ㉡ 호보그룹에 배정되어 지역 분부 및 지부에 정기적으로 소식지를 제공하고 있다.

<자료 2>
B에 해당하는 집단은 모두 A에 포함되며, C에 해당하는 집단은 모두 B에 포함된다. 단, A~C는 각각 비공식 조직, 이익 사회, 자발적 결

사제 중 하나이다.

<보기>
ㄱ. ㉠은 A에는 해당하지만, B에는 해당하지 않는다.
ㄴ. ㉡은 A에는 해당하지만, C에는 해당하지 않는다.
ㄷ. ㉢은 B에는 해당하지만, C에는 해당하지 않는다.
ㄹ. ㉢은 C에는 해당하지만, A에는 해당하지 않는다.

- ① ㄱ, ㄴ ② ㄱ, ㄷ ③ ㄴ, ㄷ
④ ㄴ, ㄹ ⑤ ㄷ, ㄹ

19

다음은 회사원 감이 작성한 주말 계획표이다. 이에 대한 옳은 설명을 <보기>에서 고른 것은?

토요일	일요일
<p><오전> 시내 자전거 동호회 라이딩 <오후> 중국어 학원 회화 강좌 등 등</p>	<p><오전> 지역 축구 동호회 참가 <오후> 회사 영업부 업무 실적 보고용 자료 준비 <저녁> 고향 친구 아들 돌잔치 참석</p>

<보기>
ㄱ. 토요일에는 비공식 조직에서의 활동 계획이 있다.
ㄴ. 일요일에는 회사원으로서의 역할 행동이 나타나 있다.
ㄷ. 일요일과 달리 토요일에는 공식 조직에서의 활동 계획이 있다.
ㄹ. 토요일과 달리 일요일에는 자발적 결사체에서의 활동 계획이 없다.

- ① ㄱ, ㄴ ② ㄱ, ㄷ ③ ㄴ, ㄷ
④ ㄴ, ㄹ ⑤ ㄷ, ㄹ

20

사회 집단 A, B에 대한 옳은 설명을 <보기>에서 고른 것은?

A는 어떤 개인이 실제로 소속되어 있는 집단이다. 한편 B는 구성원들이 가지는 소속감에 따른 구별으로 한 개인이 소속되어 있으면서 그 집단에 소속한다는 느낌을 가지며, 구성원 간에 우리라는 공동체 의식이 강한 집단이다.

<보기>
ㄱ. A에 대한 불만족은 내집단 의식을 더욱 강화시킨다.
ㄴ. B는 개인이 자아 정체감을 형성하는 데 영향을 준다.
ㄷ. A와 달리 B는 선택 의지로 결합된다.
ㄹ. 한 개인에 대해 A가 반드시 B와 일치하는 것은 아니다.

- ① ㄱ, ㄴ ② ㄱ, ㄷ ③ ㄴ, ㄷ
④ ㄴ, ㄹ ⑤ ㄷ, ㄹ

21 밑줄 친 ㉠~㉢에 대한 설명으로 옳은 것은?

별다른 꿈이 없었던 감은 친한 친구들과 대학 진학을 강조하는 ㉠ 스코트학교로 진학하기로 약속하였다. 그런데 감의 부모님은 전문 기술을 배울 수 있는 ㉡ B고등학교로의 진학을 강요하였다. 감은 친구와의 약속을 지키고 싶지만, 동시에 자녀를 도리로서 부모님의 뜻을 거역하고 싶지 않아 ㉢ 마음의 복잡했다. 고민 끝에 감은 B고등학교로 진학하였으며, 졸업 후 ㉡ C기업에 취업하게 되었다. C기업에서 노련한 끝에 지금은 우리나라에서 손꼽히는 ㉢ 명장으로 손꼽히고 있다.

- ① ㉠은 공식적 사회화 기관이자, 1차적 사회화 기관이다.
② ㉡은 감의 부모님에게 내집단이자, 공동 사회이다.

③ ㉔은 두 가지 성취 지위로 인해 겪는 역할 갈등이다.

④ ㉔은 비공식적 사회화 기관이자, 이익 사회이다.

⑤ ㉔은 감의 지위에 따른 역할에 대한 보상이다.

22 (가)~(다)는 관료제에서 나타날 수 있는 일반적인 문제점이다. 이와 관련한 설명으로 옳지 않은 것은?

- (가) 복잡한 규정으로 많은 서류가 만들어지는 과정에서 본연의 업무 처리가 지연될 수 있다.
(나) 의사 결정권이 상위 직급에 집중되어 권력의 남용이나 잘못이 일어날 수 있다.
(다) 승진 시 경력을 중시하므로 무능한 사람이 자기 능력 이상의 자리를 차지할 수 있다.

① (가)는 목표 성취를 위해 융통성을 발휘할 여지를 확대함으로써 완화할 수 있다.
② (나)는 다양한 의사 결정 구조와 방식을 적용함으로써 완화할 수 있다.

③ (다)는 인사 관리에서 연공서열보다 성과를 중시함으로써 완화할 수 있다.

④ (가)는 업무 처리의 형식적 절차를, (나)는 의사 결정의 일방성을 강조하는 과정에서 발생한다.

⑤ (나), (다)는 조직의 과업과 목적에 따라 조직 형태가 수시로 변화하는 과정에서 발생한다.

23

밀줄 친 '이것이' 의미하는 사회 집단에 대한 올바른 설명을 <보기>에서 고른 것은?

공식 조직은 공식적인 인간관계에 의해서만 유지되는 것이 아니다. 때에 따라서는 이것 내에서의 개인적인 인간관계, 즉 원초적 관계를 내포함으로써 조직의 목표 달성이 촉진되기도 한다. 이것의 활동은 구성원 개인에게는 공식 조직에서 나타나는 긴장을 해소할 수 있게 하

고, 공식 조직 입장에서는 조직의 효율성을 제고하는 데 기여한다.

<보기>
ㄱ. 본질 의지로 결합된다.
ㄴ. 자발적 결사체에 해당한다.
ㄷ. 공식 조직을 배경으로 존재한다.
ㄹ. 공식적인 규범과 절차를 강조한다.

- ① ㄱ, ㄴ ② ㄱ, ㄷ ③ ㄴ, ㄷ
④ ㄴ, ㄹ ⑤ ㄷ, ㄹ

24 밀줄 친 ㉠~㉣에 대한 설명으로 옳지 않은 것은?

• 만화가를 꿈꾸던 ㉠A중학교의 학생 갑과 을은 탁월한 그림솜씨로 칭찬을 받았다. 갑은 B대 니메이션고등학교로 진학하기 위해 ㉡가족과 함께 이사를 가면서 을과 헤어졌다. 이후 갑은 유명 만화가가 되었고, 만화가가 되지 못하고 회사원이 된 을은 갑과 같은 학교로 ㉢진학하지 않은 것을 후회했다.

• 병은 C회사를 목표로 취업 준비를 했으나, 불합격하여 ㉣D회사에 취직했다. 신입 사원 때는 회사 내 ㉠직원 분산 모임 활동을 하며 적응하려고 노력했지만, 승진도 안 되고 연봉도 늘지 않자 C회사에 가지 못한 ㉠자신을 책망했다.

- ① ㉠은 이익 사회이면서 2차적 사회화 기관이다.
② ㉡은 1차 집단으로서 갑의 내집단이다.
③ ㉢과 ㉣은 소속 집단과 준기 집단의 불일치로 인한 결과이다.
④ ㉢은 공식 조직이면서 비공식적 사회화 기관이다.
⑤ ㉣은 자연 발생적 의지로 결합된 집단이면서 비공식 조직이다.

25

다음은 고등학교 갑이 작성한 현장 체험 학습 신청서의 일부이다. 밀줄 친 ㉠~㉣에 대한 옳은 설명을 <보기>에서 고른 것은?

현장 체험 학습 신청서			
학년	반	번호	이름
2	1	24	갑
체험 기간	5월 10일 ~ 5월 11일		

• 5월 10일 오전 전담 ○○군에 위치한 ㉠초원의 사무실을 방문하여 중원회에서 주관하는 장학금 수여식에 참가하고, 이후 ○○군 청소년 문화 관련 ㉡시민 단체가 주최하는 자기 주도 학습 사례 발표 대회에 참가할 예정이다.

• 5월 11일 오전에는 ㉢가족과 함께 ㉣○○군 영농조합을 방문하여 농촌 봉사 활동을 한 후, 오후에 집으로 돌아올 예정이다.

<보기>
ㄱ. ㉠은 이익 사회이면서 자발적 결사체이다.
ㄴ. ㉡은 공익 증진을 위해 결성된 이익 사회이다.
ㄷ. ㉢은 갑에 대해 내집단으로 기능하지 못하고 있다.
ㄹ. ㉣은 회원들의 복리 증진을 위해 형성된 비공식 조직이다.

- ① ㄱ, ㄴ ② ㄱ, ㄷ ③ ㄴ, ㄷ
④ ㄴ, ㄹ ⑤ ㄷ, ㄹ

26 다음 자료를 통해 A사가 기대하는 효과로 가장 적절한 것은?

A사의 운영 개선 방향
<ul style="list-style-type: none"> • 결제 단계를 5단계에서 2단계로 축소 • 출근 시간의 유연화(기준 근무 시간 내에서 자율적으로 조정) • 의사 결정 과정에서 실무 담당자의 의견을 최우선으로 고려함 • 성과급 제도의 확대(개인별, 팀별 성과급 확대) • 사내 인터넷망에 토론방 개설(회사 모든 정책에 대해 자유로운 토론 가능) • 부서별 과정 및 협업 근무의 상설화

- ① 수직적 의사소통이 확대될 것이다.
② 중간 관리자의 역할이 커질 것이다.
③ 부서 간 업무 분담이 명확해질 것이다.
④ 경력에 따른 보상 체계가 확립될 것이다.
⑤ 환경 변화에 신속히 대응할 수 있을 것이다.

27

다음은 갑에 대한 소개 자료이다. 밀줄 친 ㉠~㉣에 대한 설명으로 옳은 것은?

	<ul style="list-style-type: none"> • 소속 정당 : ㉠○○당 • ㉡가족 관계 : 배우자 을, 아들 병 • 학력 : ㉢□□대학교 경영학 석사
<ul style="list-style-type: none"> - ㉣○○당 정치인 동석희 회장(현제) - ㉠○○고 학교 운영 위원회 위원장 역임 	

- ① ㉠은 이익 사회이다.
② ㉡은 1차 집단이며, 공식적 사회화 기관이다.
③ ㉢은 사회 집단으로 볼 수 없다.
④ ㉣은 공동 사회이다.
⑤ ㉣은 비공식 조직이다.

35 밑줄 친 '이것'에 대한 설명으로 가장 적절한 것은?

우리는 일상생활에서 끊임없이 의식적이든 무의식적이든 서로를 비교하며 살아간다. 한때 유행했던 '엄친아 (엄마 친구 아들)'라는 말 또한 비교를 중시하는 우리 사회의 모습을 보여 주고 있다. 그런데 그 비교의 기준이 되는 집단은 누구일까? 비교의 근거가 되는 집단이 형성되었을 때, 그 집단은 이것의 역할을 하게 된다. 이것은 물질적 풍요에 따라 비교할 수 있는 집단일 수도 있고, 개인의 도덕적 행위에 직접 영향을 주는 집단일 수도 있다. 이것에 소속되지 못한 경우에는 상대적 박탈감이나 좌절감을 느끼기도 한다.

- ① 특정한 목적을 달성하기 위해 형성된다.
 ② 전인격적 인간관계 형성을 목적으로 한다.
 ③ 개인의 행동을 평가하고 이해하는 기준이 된다.
 ④ 구성원 중 일부의 관심을 바탕으로 조직된다.
 ⑤ 구성원의 의지와 무관하게 자연 발생적으로 형성된다.

36 (가) ~ (다)는 어느 사회 조직의 특징을 나타낸 것이다. 이에 대한 설명으로 옳지 않은 것은?

- (가) 조직의 위계가 엄격히 서열화되어 있다.
 (나) 승진과 보상에 서 구성원의 경력을 중시한다.
 (다) 모든 업무는 표준화된 규칙과 절차에 따라 처리된다.
 (라) 모든 업무가 세분화되어 있고, 구성원들은 전문성을 갖추고 있다.

① (가)는 환경 변화에 대한 유연한 대처를 가능하게 한다.

38 다음 A, B 조직에 대한 설명으로 옳지 않은 것은?

- A 조직과 B 조직은 모두 인위적으로 형성되었다.
- A 조직은 목표 달성을 위해 능률의 논리에 따라 구성된다. B 조직은 감정의 논리에 따라 구성된다.
- A 조직은 그 조직의 모든 구성원들을 포함하나, B 조직은 A 조직의 일부 구성원들만으로 이루어지며 소집단의 성격을 띤다.

- ① A 조직은 구성원의 역할과 책임이 명확하다.
 ② B 조직의 사례로 사내 동호회를 들 수 있다.
 ③ A 조직에 비해 B 조직은 가입과 탈퇴가 자유롭다.
 ④ A 조직에 비해 B 조직은 1차 집단의 성격이 강하다.
 ⑤ A 조직은 B 조직의 한계를 극복하기 위해 구성된다.

39 밑줄 친 ㉠~㉣에 대한 설명으로 옳은 것은?

다자이너를 꿈꾼 갑과 미술 교사가 되려던 을은 ㉠○○ 회사 다자이너에서 함께 근무하고 있다. 갑은 회사 동료들과 ㉡별화 그리기 동호회를 조직하여 활동하고 있다. 또한 환경 보호에도 관심을 가져 얼마 전에는 ㉢△△ 환경 단체에 가입하였다. 을은 입사 초기부터 ㉣○○ 회사 노동조합에 가입하여 적극적으로 참여하고 있다. 갑과 을은 최근 장과금의 텀 내 배분을 둘러싸고 ㉤갈등을 겪고 있다.

- ① ㉠은 갑에게는 대집단, 을에게는 위집단이다.
 ② ㉡은 1차 집단이면서 1차적 사회화 기관이다.
 ③ ㉢은 이익 사회이면서 비공식적 사회화 기관이다.
 ④ ㉣은 비공식 조직이면서 자발적 결사체이다.
 ⑤ ㉤은 역할 갈등에 해당한다.

40 사회 집단 A~C에 대한 옳은 설명만을 <보기>에 서 있는 대로 고른 것은?

- A의 정렬은 B를 전제로 하며, A의 구성원은 항상 B의 구성원이 된다.
- A와 달리 B는 특정한 목표와 과업 달성을 중시한다.
- A, B 모두 인위적, 후천적으로 형성되었다는 점에서 C에 해당한다.

<보기>
 ㄱ. C는 결합 의지에 따른 분류에 의해 구분되는 집단이다.
 ㄴ. A의 활동은 B의 효율성을 높이는 데 기여하기도 한다.
 ㄷ. B와 달리 A는 현대 사회에서 감소하는 추세이다.
 ㄹ. A, B 모두 가입과 탈퇴가 자유롭다.

- ① ㄱ, ㄴ ② ㄱ, ㄷ ③ ㄷ, ㄹ
 ④ ㄱ, ㄴ, ㄹ ⑤ ㄴ, ㄷ, ㄹ

41 밑줄 친 ㉠~㉣을 표의 (가)~(다)와 같이 분류할 때 바르게 연결된 것은?

갑은 ㉠대기업의 부장으로 승진한 뒤 잦은 출장으로 인해 ㉡가출과 보내는 시간이 줄어들 정도로 바빠졌지만, 주말마다 ㉢○○도조기 축구팀모임은 빠지지 않으려고 노력하였다. 그러나 오랫동안 활동해 온 ㉣시리 단체에는 참석이 어려워져 아쉬움이 크다.

분류	(가)	(나)	(다)
질문			
선택 의지로 결합되는가?	예	아니요	예
가입과 탈퇴가 자유로운가?	예	아니요	아니요

14
의 행위를 금하여 주시기 바랍니다.

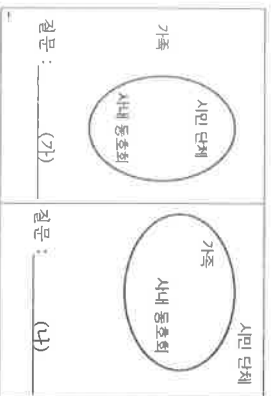
48 그림은 어느 정치인의 5월 둘째 주 일정을 나타낸 것이다. 밑줄 친 ㉠ ~ ㉣에 대한 설명으로 옳은 것은?

7월) ㉠ 24일로 서울시장 주판 계약 체결 참석
8월) ㉡ 25일과 26일의 양원 총회 참석
9월) ㉢ 27일과 28일 노무현 대통령 취임식에 참석
10월) ㉣ 29일과 30일 노무현 대통령 취임식에 참석
11월) ㉤ 31일과 12월 1일 노무현 대통령 취임식에 참석
12월) ㉥ 31일과 1월 1일 노무현 대통령 취임식에 참석
1월) ㉦ 2일과 3일 노무현 대통령 취임식에 참석

- ① ㉠과 ㉢은 비공식 조직이다.
 ② ㉠과 ㉢은 공식 조직이다.
 ③ ㉢은 ㉠과 달리 이익 사회이다.
 ④ ㉢은 ㉠과 달리 자발적 결사체이다.
 ⑤ ㉢은 ㉠과 달리 비공식적 사회화 기관이다.

49

그림은 사회 집단을 질문에 따라 분류한 것이다. 빈칸 (가), (나)에 들어갈 수 있는 질문 내용이 바르게 적혀진 것은? (단, 질문에 대해 '예'와 '아니오' 중 같은 답을 할 수 있는 사회 집단을 한 묶음으로 처리한다.)



- (가) (나)
 ① 1차 집단입니까? 이익 사회입니까?
 ② 1차 집단입니까? 자발적 결사체입니까?

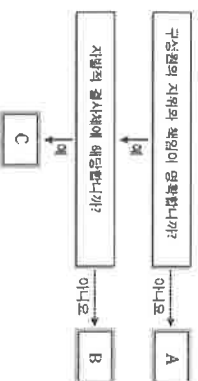
- ③ 공식 조직입니까? 이익 사회입니까?
 ④ 이익 사회입니까? 공식 조직입니까?
 ⑤ 자발적 결사체입니까? 공식적 사회화 기관입니까?

50 밑줄 친 사회 집단 ㉠-㉣에 대한 설명으로 옳은 것은?

같이 소속된 ㉠○○○봉사 동아리는 다음 달에 ㉡□□병원수아암 병동에서 위문 공연을 열 계획이다. 그래서 같은 공연에 필요한 ㉢△△악기 회사제품을 온라인으로 구입했는데, 악기가 과수된채로 배송되었다. 당황한 같은 판매자에게 진화를 했지만 판매처로부터 교환이나 환불이 안 된다는 말을 듣게 되었다. 이에 같은 ㉣△△소비자시민연대홈페이지를 통해 정보를 얻은 후, 소비자 보호를 위해 설립된 ㉤한국소비자원에 피해 구제 신청을 하기로 마음을 먹었다.

- ① ㉠은 이익 사회이면서 자발적 결사체에 해당한다.
 ② ㉢은 구성원에게 청서적 인정과 만족감 제공을 목적으로 한다.
 ③ ㉢은 비공식적 규범에 의한 통제가 지배적이다.
 ④ ㉢은 시민들의 공동 관심사를 기반으로 형성된 비공식 조직이다.
 ⑤ ㉢은 조직의 목표보다는 구성원 간의 인간관계를 중시한다.

51 그림은 한 회사에서 나타낼 수 있는 사회 집단 A~C를 그 일반적 특징에 따라 분류한 것이다. 이에 대한 설명으로 옳은 것은? (단, A~C는 각각 회사, 회사 내 노동조합, 회사 내 동호회 중 하나이다.)



- ① A의 조직 운영 원리는 관료제이다.
 ② C는 친목을 목적으로 구성된다.
 ③ A는 B 내에서의 긴장감 해소에 기여한다.
 ④ A와 C의 구성원이 겹치는 경우는 없다.
 ⑤ B는 C와 달리 파업 중심의 조직이다.

52

표의 A.C에 대한 설명으로 옳은 것은? (단, A.C는 각각 가족, 회사, 회사 내 동호회 중 하나이다.)

구분		A	B	C
선택 의지에 따라 형성된 집단인가?		예	아니오	예
2차적 인간 관계가 지배적인가?		아니오	아니오	예

- ① A는 공식 조직에 해당한다.
 ② B는 모든 사람에게 준거 집단으로 작용한다.
 ③ C는 자발적 결사체의 성격을 띤다.
 ④ C의 구성원 모두에게 A는 내집단이다.
 ⑤ B와 C 모두 개인의 자아 정체성 형성에 영향을 준다.

53

표는 감의 입장에서 사회 집단을 분류한 것이다. 이에 대한 옳은 설명을 <보기>에서 고른 것은?

[3 점]

소속 여부	구분		집단의 지배적인 가치에 대한 태도	
	소속된 사람	소속되지 않은 사람	동조적	저항적
	A	B	C	D

<보기>
 ㄱ. 감의 준거 집단은 A에 포함될 수 없다.
 ㄴ. B에 해당하는 집단은 감과 같은 태도는 반문화로 규정될 수 있다.
 ㄷ. 감의 내집단은 C에 포함될 수 있다.
 ㄹ. 감의 외집단은 D에 포함될 수 있다.

- ① ㄱ, ㄴ ② ㄱ, ㄷ ③ ㄴ, ㄷ
 ④ ㄴ, ㄹ ⑤ ㄷ, ㄹ

54

(가)-(다)에 해당하는 사회 집단에 대한 설명으로 옳은 것은?

(가) 인간의 본질적이고 자연적인 의지에 따라 형성된 집단
(나) 공식적인 목표와 과업을 효율적으로 달성하기 위해 만든 사회 조직
(다) 한 개인이 자신의 신념, 태도, 가치 등을 규정하고 행동의 지침으로 삼는 집단

- ① (가)는 공동의 관심사를 바탕으로 구성원이 결집된다.
 ② (나)는 연구주제를 중시하며, 형식적인 인간 관계가 형성된다.
 ③ (나) 조직 내에서 자발적으로 형성된 조직은 모두 비공식 조직이다.
 ④ (다)는 소속된 경우뿐만 아니라 소속되지 않은 경우도 포함된다.

㉔ ○○ 감성 중친회는 (가)와 (다)에 모두 해당한다.

55 밑줄 친 ㉑과 구별되는 ㉒의 특징만을 <보기>에 서 있는 대로 고른 것은?

인간은 사회를 이루고 산다. 별이나 개미도 집단을 이루며 살지만 인간처럼 필요에 의해 집단이나 사회를 이루지는 않는다. 사회학자 뢰니스는 선택 의지로 형성된 집단을 ㉑ 게젤샤프트(Gesellschaft)라 하고 법규나 정치 등으로 나타나는 사회라고 했다. 반면 혈연과 같은 본질 의지로 형성된 집단을 ㉒ 게마인샤프트(Gemeinschaft)라 하고 관습이나 종교 등으로 표출되는 사회라고 했다.

<보기>
ㄱ. 자연 발생적으로 결합된다.
ㄴ. 구성원 간의 관계가 전인격적이다.
ㄷ. 특정 목적의 달성을 위해 결합된다.
ㄹ. 구성원의 자격 여부를 집단에서 심사한다.

- ① ㄱ, ㄴ ② ㄱ, ㄷ ③ ㄷ, ㄴ
④ ㄱ, ㄴ, ㄷ ⑤ ㄴ, ㄷ, ㄴ

56 다음 글을 통해 파악하거나 추론할 수 있는 내용을 <보기>에서 있는 대로 고른 것은?

인간이 사회 구성원으로서 사회 현상을 지각하고 사회 제도에 대한 지식과 평가 능력을 상속시켜나가는 것이 사회화이다. 사회화는 가정, 학교, 동료 집단 등 다양한 매개체들을 통해 이루어진다. 사회화를 논하는 데 신문과 방송 같은 대중 매체를 빼놓을 수 없으며, 오늘날에는 인터넷이 중요한 역할을 하고 있다. 특히 청소년들은 가족 간 대화 부족, 지나친 입시 경쟁, 사회에 대한 무관심 등으로 인해 어른들과는 달리 개인화된 모바일 미디어로 온라인 관계에

집착하는 경향이 크며, 그들이 가장 중요시하는 집단은 온라인상 또대들이다.

<보기>
ㄱ. 비공식적 사회화 기관이 청소년의 사회화에 미치는 영향이 크다.
ㄴ. 가정 세대는 청소년 세대에 비해 역할 갈등을 경험할 가능성이 낮다.
ㄷ. 청소년 세대는 가정 세대보다 개인주의적 태도를 보일 가능성이 낮다.
ㄹ. 1차적 사회화 기관과 2차적 사회화 기관 모두 사회화에 영향을 주고 있다.

- ① ㄱ, ㄴ ② ㄱ, ㄷ ③ ㄴ, ㄷ
④ ㄱ, ㄷ, ㄴ ⑤ ㄴ, ㄷ, ㄴ

57 밑줄 친 ㉑, ㉒ 집단에 대한 설명으로 옳은 것은? [3 점]

같은 강아지를 키우면서 정보를 얻고 강아지 돌끼리 만나서 서로 어울리게 해 주면 좋은 것 같아 아파트 단지 주민들을 대상으로 ㉑ 강아지들을 좋아하는 사람들의 모임을 만들었다. 비정기적으로 만나 함께 식사도 하고, 정보도 교환하며 친하게 지냈다. 그런데 아파트 단지 내에서 길고양이 학대 사건이 발생했고, 이를 계기로 강아지를 좋아하는 사람들의 모임은 ㉒ 유기견과 길고양이 보호 단체로 개명한 후 시민 단체로 등록하고, 회원들 확보하고 후원금을 모아 매우 적극적으로 동물 구조 활동을 하게 되었다. 이런 소식들이 인터넷을 통해 점차 알려지면서 단체의 규모가 커지기 시작했고, 지도부에서는 회원들의 의견을 제대로 반영하지도 않고 행동 방침을 만드는 등의 문제가 발생하기도 하였다. 정기적인 회의를 하지만 회의의 안전을 결정하기 위한 것이며, 예전과 같은 성격은 찾아보기 어렵게 되었다.

① ㉑은 비공식 조직, ㉒은 공식 조직이다.

② ㉑은 ㉒과 달리 수단적인 인간 관계가 형성된다.

③ ㉑과 달리 ㉒은 자발적 결사체에 해당한다.

④ ㉒은 ㉑보다 관료제적 성격으로 운영될 가능성이 높다.

⑤ ㉒은 ㉑과 달리 구성원 간에 친밀한 인간 관계 형성이 불가능하다.

58 자료에 대한 옳은 설명만을 <보기>에서 있는 대로 고른 것은?

질문: 여터분에게 가장 큰 영향을 미친 사회화 기관을 3가지 말해 보시오.

갑: 가족, 또래 집단, 학교입니다.
을: 저에게는 가족, 회사, 대중 매체의 영향이 컸어요.
병: 학교, 군대, 대중 매체의 영향을 많이 받았어요.

<보기>
ㄱ. 갑은 공식적 사회화 기관을 경험하지 못했다.
ㄴ. 갑의 응답에는 2차적 사회화 기관이 나타나 있다.

ㄷ. 을의 응답에는 1차적 사회화 기관이 나타나 있다.
ㄹ. 병은 공식적 사회화 기관과 비공식적 사회화 기관을 모두 경험하였다.

- ① ㄱ, ㄴ ② ㄱ, ㄷ ③ ㄴ, ㄷ
④ ㄱ, ㄷ, ㄴ ⑤ ㄴ, ㄷ, ㄴ

59 밑줄 친 ㉑, ㉒에 대한 설명으로 옳은 것은?

지역 아동복지	청소년복지
「지역아동복지법」 제20조제1항 지역아동복지사업의 실시 - 대상: 1989. 12. 31 현재 만 18세 이하의 아동 - 목적: 저소득층 아동에게 복지향상을 위하여	「청소년복지지원법」 제20조제1항 청소년복지사업의 실시 - 대상: 1989. 12. 31 현재 만 19세 이하의 청소년 - 목적: 청소년에게 복지향상을 위하여

① ㉑에서는 1차적 인간관계가 나타나지 않는다.

② ㉑에서는 표준화된 규정이 엄격하게 적용된다.

③ ㉑은 ㉒과 달리 비공식적 사회화 기관이다.

④ ㉒은 ㉑과 달리 비공식 조직이다.

⑤ ㉑과 ㉒ 모두 자발적 결사체이다.

60 밑줄 친 ㉑-㉒에 대한 옳은 설명을 <보기>에서 고른 것은?

· 영화배우 갑은 ㉑ 퇴학포에서 건축학을 전공했지만 현재는 아동의 인권 신장을 위해 결성된 ㉑ 시민 단체에서 운영 위원으로 활동하고 있다.
· 의사 을은 업무 후 병원 내 ㉒ 유산 동호회 회원들과 여가 시간을 즐긴다.
· 사회학과 교수 병은 ㉒ 사회학회 학술 위원장으로 활동하고 있으며, ○○ 대학교 ㉒ 초 등학생회의 동창회장도 역임하고 있다.

<보기>
ㄱ. ㉒은 구성원의 친밀한 인간 관계 유지를 목적으로 형성된 이익 사회이다.
ㄴ. ㉑과 ㉒은 구성원들의 본질 의지로 형성된 사회 집단이다.
ㄷ. ㉑-㉒ 모두 2차적 사회화 기관에 해당한다.
ㄹ. ㉑-㉒은 모두 자발적 결사체이고, 이 중 ㉒은 비공식 조직이다.

- ① ㄱ, ㄴ ② ㄱ, ㄷ ③ ㄴ, ㄷ

- ㉔ L, R ㉕ D, R

61

사회 집단과 관련하여 다음 주장을 통해 도출할 수 있는 내용으로 가장 적절한 것은?

초기 인류에 A, B 두 유형의 부족이 있었다고 가정해 보자. A는 낯선 것에 우호적인 반면 B는 적대적이었다면, A와 B 중 어떤 부족이 살아남았을까? 아마도 위기라는 판단에서 먼저 공격을 했을 B 부족이 살아남았을 것이다. 낯선 것과의 싸움 과정에서 B 부족의 구성원들은 더욱 단결했을 것이고 집단의 소속감도 높아졌을 것이다. 인류는 이러한 과정을 거쳐 낯선 것, 이질적인 것에 대해서는 적대감을 갖고 진숙한 것에 대해서는 소속감이 강해지는 방향으로 진화한 것이다.

- ① 내집단은 선택 의지와 무관하게 형성된다.
 ② 외집단과의 갈등은 내집단의 유지, 존속에 기여한다.
 ③ 개인은 준거 집단을 통해 자신의 가치나 태도를 판단한다.
 ④ 1차 집단에 비해 2차 집단은 수단적 만남이 주로 나타난다.
 ⑤ 소속 집단이 준거 집단과 일치하지 않을 경우 소속 집단에 불만을 갖게 된다.

62

사회 집단의 유형 A, B에 대한 설명으로 옳은 것은? (단, A와 B는 구성원 간의 접촉 방식에 따라 구분한다.)

A는 구성원이 자신의 정체성을 확립하고 개인적 자아를 형성하는 데 매우 큰 영향을 미치는 집단으로, 다면적인 공동생활을 특징으로 한다. 일반적으로 집단의 크기가 작고, 소속된 사람들 간의 물리적 거리가 가까우며, 구성원 간에 전인격적 관계를 맺고 있다.

반면, B는 A와 달리 개인 간의 관계가 도구적이고 형식적인 양상을 보이고 있다. B는 소속된 사람들이 실리적인 목적을 위해 서로에게 필요한 측면에만 주목하여 관계를 맺고 있다.

- ① A는 가입과 탈퇴가 자유롭다.
 ② B는 본질적 의지에 따라 형성된다.
 ③ A와 B는 모두 이의 사회에 해당한다.
 ④ 공식 조직은 B보다 A의 성격이 강하다.
 ⑤ A와 달리 B는 공식적 통제가 주로 나타난다.

63

다음은 어떤 사회 집단 개념을 설명하기 위해 고사가 제시한 자료이다. 밑줄 친 부분과 관련하여 고사가 설명하고자 한 사회 집단에 대한 진술로 옳은 것은?

1970년대 달리기 열풍이 불었을 때 한 유명 스포츠용품 제조사는 당대 최고의 육상 선수인 스티브 프리폰테인을 광고에 지속적으로 등장시키면서 달리기 열풍을 주도했다. 그 후, 1980년대 들어 달리기 열풍이 가라앉은 후 농구 열풍이 불자 해당 회사는 마이클 조던이라는 최고의 농구 스타를 광고 전면에 등장시킨다. 회사의 이러한 광고 전략은 일반 사람들이 스포츠 스타들과 자신을 동일시하려고 하는 심리를 영업에 활용하는 것이다.

- ① 원초적 집단의 성격을 갖는다.
 ② 본질 의지에 의해 자연 발생적으로 결집된다.
 ③ 개인의 행동을 비교하고 판단하는 기준이 된다.
 ④ 현대 사회에서 점점 그 수가 적어지고 기능도 작아진다.
 ⑤ 특정한 목적을 달성하고자 노력하고 수단적 만남이 주로 나타난다.

64 다음 글의 사회 집단 A, B에 대한 설명으로 옳지 않은 것은?

앞은 것은?

사회학자 풀리는 한 개인의 자아 형성과 그 개인이 속한 사회 집단이 그 개인에게 부여하는 심리적인 기능과의 관계를 기준으로 사회 집단의 유형을 분류하였다. A는 얼굴과 얼굴을 맞대는 밀접한 결함을 이루어 공동의 작업이나 공동 생활을 하며, 직접적인 접촉에 의한 결함이나 성원 사이의 연대감과 일체감 등을 특징으로 한다. 반면 B는 간접적인 접촉을 통하여 결함되며 특수한 이해 관계를 매개로 한다.

- ① A는 원초적 집단의 성격을 가진다.
 ② B의 구성원 간에는 수단적 관계가 지배적이다.
 ③ 사회 조직은 A보다 B의 성격이 더 강하다.
 ④ 오늘날에 국가는 B보다 A의 성격이 더 강하다.
 ⑤ A와 달리 B에서는 공식적인 통제가 일반적이다.

65 다음 글을 통해 대릴 수 있는 결론으로 가장 적절한 것은?

1924년에서 1932년까지 8년에 걸쳐 경영학에서 매우 중요하게 여기는 연구가 하나 실시되었다. 이 연구는 진화 회사였던 호손 공장에서 하버드 대학 교수인 메이요가 행한 연구로 호손 실험이라고 불린다. 호손 실험의 목적은 회사라는 공식 조직에서 구성원들의 생산성은 임금, 작업 시간, 작업 환경 등 회사의 공식적인 조건에 의해 결정될 것이라는 가설을 검증하는 것이었다. 그런데 8년 간의 실험, 관찰, 인터뷰 등을 통해 얻은 결론은 회사 구성원의 생산성은 구성원 간의 상호 유대감, 친밀한 집단 내에서의 인간 관계에 의해 영향을 받는 것

으로 나타났다.

- ① 메이요가 설정한 가설은 수용되었을 것이다.
 ② 공식 조직 내에 비공식 조직이 많을수록 생산성이 높다.
 ③ 구성원의 안정적인 신분 보장과 높은 보수는 생산성 증대에 기여한다.
 ④ 구성원은 공식적인 통제와 명확한 보상이 주어질 때 성취 욕구가 증진한다.
 ⑤ 비공식 조직은 구성원의 심리적 만족감을 높여 공식 조직의 목표 달성에 기여할 수 있다.

66 사회 조직 (가)~(다)에 대한 설명으로 옳지 않은 것은?

OO기업 권설행 결과 보고서

OO기업은 그동안 연공서열만을 중시하고, 급변하는 외부 환경에 잘 대응하지 못하는 등 비효율성이 나타나고 있으므로 조직의 운영 원리를 [가]에서 [나] (으)로 변화시켜야 한다. 특히 성과급제와 같은 능력과 업적에 따른 보상 체계를 도입해야 한다.

또한 OO기업은 구성원들의 권위를 도모하고 사기를 높이기 위해 회사 내 동호회와 같은 [다]을/를 활성화해야 한다. 이를 통해 직원들은 업무 긴장감과 소외감을 해소하고, 궁극적으로 조직의 효율성을 높이는 데 기여할 것으로 기대된다.

- ① (가)는 규약과 절차에 따른 파업 수업을 중시한다.
 ② (나)에서는 비공식적 수단에 의한 통제가 일반적이다.
 ③ (다)는 공식 조직을 배경으로 성립된 자발적 결사체이다.
 ④ (가)는 (나)에 비해 중간 관리층의 역할과 비중이 크다.
 ⑤ (나)는 (가)에 비해 상황식 의사 결정 방식을 강조한다.

67

다음은 어떤 사회 집단을 설명하기 위해 제시된 글이다. 이 사회 집단에 대한 설명으로 옳은 것은?

한국인들은 '우리'라는 말을 즐겨 쓴다. 일반적으로 '우리'는 '나'와 '너', 즉 '말하는 이'와 '듣는 이'를 포괄하는 개념으로 사용된다. 한국인들은 같은 집단에 속한 사람들끼리 우리나라, 우리 민족, 우리 사회, 우리 지역, 우리 학교라는 표현을 사용하며 동시에 똘똘 뭉친 집단 정체성을 확인하곤 한다. 때로는 한국인들이 사용하는 '우리'라는 말은 '듣는 이'가 배제되고 '말하는 이'만 소속된 집단을 의미한다. 이처럼 '나' 대신에 습관적으로 사용하는 '우리'라는 말 뒤에는 너를 배제하고 싶은 욕망이 숨어 있다. "우리는 그렇지 않아,"라는 말을 할 때, '우리'는 '듣는 이', 즉 '너'는 내가 속한 집단의 구성원이 아니라는 점을 확인하는 장치이다.

- ① 구성원들의 선택적 의식에 의해 결합된다.
- ② 주로 1차적, 비공식적 사회화를 담당한다.
- ③ 구성원들의 공통의 관심사를 바탕으로 형성된다.
- ④ 구성원들은 집단에 대한 소속감과 애착을 가진다.
- ⑤ 구성원들은 유대감이 높으며 수단적인 관계를 형성한다.

68 다음은 회사원 갑의 주간 계획표이다. 이에 대한 옳은 설명을 <보기>에서 고른 것은?

월 : 오후 7시 - 노동조합 임원 간담회
화 : 오후 2시 - 부서 간 업무 협의회
수 : 점심 - 사내 야구 동호회 모임
목 : 저녁 - 어머니 생신 파티를 위한 가족 모임
금 : 저녁 - ○○ 환경 단체 회원 총회 참석
토 : 고등학교 동창회 참석
일 : 종친회 모임

<보기>

- ㄱ. 갑은 자발적 결사체에 속해 있다.
- ㄴ. 제시된 모든 사회 집단은 2차 집단이다.
- ㄷ. 갑은 공식 조직과 비공식 조직에 모두 속해 있다.
- ㄹ. 갑은 주말에 공동 사회와 이익 사회에서의 활동이 예정되어 있다.

- ① ㄱ, ㄴ
- ② ㄱ, ㄷ
- ③ ㄴ, ㄷ
- ④ ㄴ, ㄹ
- ⑤ ㄷ, ㄹ

69 사회 집단 A, B에 대한 옳은 설명을 <보기>에서 고른 것은?

A는 사회 문제에 대해 연구하고 토론하는 ○○대학교의 동아리이다. A는 ○○대학교 1~4학년 26명으로 구성되어 있으며, 매달 정기적으로 모임을 가지고 있다. B는 A 출신의 졸업생들이 구성된 시민 단체이다. B의 구성원들은 본격적으로 사회 문제에 대한 자신들의 의견을 표출하고 있으며, 구체적인 행동으로 실천하기도 한다. B는 구성원들이 남부한 회비를 효과적으로 관리하기 위해 구성원들의 지위와 역할을 명시적으로 규정하여 운영하고

있다.

<보기>

- ㄱ. A는 이익 사회이면서 자발적 결사체이다.
- ㄴ. B는 공익을 추구하는 이익 사회이다.
- ㄷ. A와 달리 B는 비공식 조직이다.
- ㄹ. B와 달리 A는 가입과 탈퇴가 자유롭다.

- ① ㄱ, ㄴ
- ② ㄱ, ㄷ
- ③ ㄴ, ㄷ
- ④ ㄴ, ㄹ
- ⑤ ㄷ, ㄹ

70 밑줄 친 ㉠-㉣에 대한 설명으로 옳은 것은?

갑은 ㉠○○고등학교사회 ㉡교사이다. 갑은 수업 시간마다 수업을 방해하는 학생들을 불러서 타이르고, ㉢분모와 면담하여 ㉣가죽도 ㉤코트를 갖고 지도해 주기를 부탁했지만 달이 지나도록 태도 변화가 없는 상태이다. 그래서 갑은 을을 계속 타이르지 아니면 ㉥생활 지도본부로 보내 교칙에 따라 징계를 받게 할지 고민에 빠졌다.

- ① ㉠은 공동 사회이자 1차적 사회화 기관이다.
- ② ㉡은 1차 집단이자 공식적 사회화 기관이다.
- ③ ㉢과 달리 ㉣은 귀속 지위에 해당한다.
- ④ ㉤은 ㉣의 역할에 해당한다.
- ⑤ ㉥과 달리 ㉤은 비공식 조직이다.

71 밑줄 친 ㉠, ㉡에 대한 옳은 설명을 <보기>에서 고른 것은?

㉠의 조직은 상호 보완적인 소수가 공동의 목표 달성을 위해 책임을 공유하고 문제 해결을 위해 노력하는 수평적 조직이다. ㉡산업 사회의 기술 중심, 계획적 조직 구조를 중시하는 조직과 달리 능력과 적성에 따라 단려적으로 인재를 필요한 곳에 소속시키는 조직 형태이다.

<보기>

- ㄱ. ㉠은 ㉡보다 환경의 변화에 대한 능동적

인 대처가 용이하다.

ㄴ. ㉠은 ㉡보다 업무 수행 시 구성원의 개량권을 보장한다.

ㄷ. ㉠은 ㉡보다 규약과 절차에 따른 표준화된 파업 수행을 강조한다.

ㄹ. ㉡에 비해 ㉠은 연공서열보다 구성원의 능력과 업적에 따른 보상을 중시한다.

- ① ㄱ, ㄴ
- ② ㄱ, ㄷ
- ③ ㄴ, ㄷ
- ④ ㄴ, ㄹ
- ⑤ ㄷ, ㄹ

72 밑줄 친 ㉠ ~ ㉣에 대한 설명으로 옳은 것은?

· 갑은 동료 교사들과 ㉠학교 내 ㉡연극 동아리 활동을 하면서 '팸릿' 공연을 준비하고 있다.

㉢주인공 팸릿 역할을 맡은 갑은 원작을 어떻게 해석해 연기를 해야 할지 ㉣고민에 빠졌다.

· 을은 ㉤스승의 충신의 충무이다. 또한 평소 환경 문제에도 관심이 있어 ㉥□□환경연대라는 환경 단체에서 장의원으로 선출되어 활동하고 있다. 그런데 이번 주말에 두 모임의 일정이 겹쳐 어떻게 해야 할지 ㉦고민에 빠졌다.

- ① ㉠은 갑의 내집단이면서 공동 사회이다.
- ② ㉢은 갑의 ㉣에서의 성취 지위이다.
- ③ ㉤은 혈연적 특성에 의해 선천적으로 부여된 지위이다.
- ④ ㉤은 ㉠과 같이 파업 지향적인 공식 조직이다.
- ⑤ ㉤은 갑의, ㉥은 을의 역할 갈등에 해당한다.

밑줄 친 ㉠-㉣에 대한 설명으로 옳은 것은?

같은 ㉠ .. 종합 상사에 근무하는 신입 사원이다. 어렸을 적 꿈은 프로 바둑기사였지만, 가난한 집안의 ㉡ 장남으로 부모의 부양을 책임져야 해서 자신의 꿈을 절고 .. 종합 상사의 신입 사원 채용 시험에 합격하여 근무하게 되었다. 적성에 맞지 않고 업무가 낯설어 힘들어 했으나 같은 ㉢ 부서 내의 ㉣ 팀장과 선배들의 도움으로 회사에 애착을 갖고 열심히 일하게 되었다. 같은 퇴근 후 ㉤ 외국어 학원에 다니면서 외국어 학습에 열중하고 있으며 매주 토요일마다 ㉥ 환경 단체에 참여하여 활동하고 있다. 또한 신입 동기들과 함께 ㉦ 영화 동호회를 만들어서 함께 영화를 보기도 한다.

- ① ㉠은 구성원 간의 관계 자체가 집단의 목적이
다.
② ㉠, ㉡은 모두 공식적 사회화 기관이다.
③ ㉠, ㉢은 모두 규칙과 질서에 의해 운영되는
공식 조직이다.
④ ㉠, ㉡은 모두 상회 지위이다.
⑤ ㉢, ㉤은 공식 조직 내에서 구성원들에 의해
자발적으로 형성되었다.