

학번 :

성명 :

## 1. 역사의 의미와 역사 학습의 목적(p.12~15)

## ‘역사(歷史)’의 의미

- 歷 : 지난 일, 겪은 일  
· 史 : 기록

㉠ _____로서의 역사	㉡ _____으로서의 역사
· 과거에 일어났던 사실 그 자체 · 객관적 · 대표적 역사학자 : ㉢ _____ ‘역사는 사실 그 자체이다’	· 과거 사실에 대한 기록 · ㉣ _____적 · 대표적 역사학자 : E.H Car ‘역사는 과거와 현재의 끊임없는 대화이다’
유물, 유적	기록물

## 사료(史料)

: 역사 연구의 소재가 되는 문헌이나 자료

선사(先史)시대	역사시대
· ㉤ _____ 이전의 시대 · 유물, 유적 등으로 연구	· ㉥ _____ 사용 이후의 시대 · 유물, 유적, 기록물(비문, 금속에 새겨진 문자, 책, 문서, 편지, 일기, 문학작품) 등으로 연구

## 역사(歷史) 학습의 목적

- 현재의 올바른 이해  
· 비판적 사고력 향상  
· 삶의 지혜와 ㉦ \_\_\_\_\_의 획득  
· 미래의 방향 제시

한국사	세계사
· 한국인의 정체성 확립 · 한국의 역사와 문화에 대한 이해	· 정보통신기술과 교통의 발달로 세계의 교류 활발 · 세계 여러 나라의 역사와 문화를 이해하고 존중하는 태도 필요

## 연대 표기 방식

서력기원(=㉧ _____)	· ㉧ _____ 탄생
불기	· 부처 세상 떠난 연도(기원전 544년)
이슬람력	· 무함마드가 메카에서 메디나로 옮겨 간 사건(㉨ _____, 622년)
단군기원(=단기)	· 단군의 고조선 건국(기원전 ㉩ _____년)

## &lt; 출제 예상 &gt;

- \*역사의 의미 : 사실로서의 역사, 기록으로서의 역사  
\*선사시대와 역사시대의 구분 : 문자의 사용  
\*역사 학습의 목적  
\*연대표기 방식 : 서기와 단기의 구분

## 기본확인문제

1. 다음 글의 빈칸에 공통으로 들어갈 단어를 쓰시오.

인류 문화의 발달 과정은 ( ) 기록의 유무, 도구의 변화 등을 기준으로 구분된다. ( ) 기록이 남아 있는 시기를 역사 시대, 이보다 앞선 시대를 선사 시대라고 한다.

2. 역사의 의미는 사실 그 자체를 의미하는 ( )로서의 역사와 역사가의 주관적 생각이 가미될 수 있는 ( )으로서의 역사로 구분할 수 있다.

3. 역사 연구의 소재가 되는 문헌이나 자료를 무엇이라고 하는가?

4. 예수 탄생을 기점으로 하는 서력 기원을 줄여서 무엇이라고 하는가?

5. 헤지라가 일어난 622년은 몇 세기인가?

6. 고조선이 건국된 기원전 2333년은 몇 세기인가?

## [형성평가]

1. 다음 중 사료에 해당하는 것을 &lt;보기&gt;에서 모두 고르면?

&lt;보기&gt;

- ㉠ 암사동 움집터                      ㉡ “조선왕조실록”                      ㉢ 빗살무늬 토기  
 ㉣ 광개토 대왕릉비                      ㉤ 고구려 고분 벽화

- ① ㉠, ㉡, ㉢                      ② ㉡, ㉢, ㉤                      ③ ㉠, ㉡, ㉢, ㉤  
 ④ ㉡, ㉢, ㉣, ㉤                      ⑤ ㉠, ㉡, ㉢, ㉣, ㉤

2. 역사에 대한 설명으로 옳지 않은 것은?

- ① 역사가는 사료를 비판적으로 검토하고 해석해야 한다.  
 ② 과거에 일어났던 사실은 역사가가 달라도 똑같이 평가된다.  
 ③ 유물, 유적, 문자기록 등을 통해 옛사람의 흔적을 조사할 수 있다.  
 ④ 역사에는 사실로서의 역사와 기록으로서의 역사라는 두 가지 의미가 있다.  
 ⑤ 역사가는 자신의 역사 인식에 따라 과거 사실을 평가하고 의미를 부여한다.

3. 역사를 배우는 목적으로 적절하지 않은 것은?

- ① 과거의 역사에서 교훈을 얻어 미래에 대한 방향을 세운다.  
 ② 우리 민족의 자랑스러움만을 배워 민족적 긍지를 높인다.  
 ③ 역사적 인물과 사건을 학습하여 역사적 사고력과 비판력을 기른다.  
 ④ 시·공간적으로 다양한 인류의 역사를 이해하여 관용적인 태도를 갖춘다.  
 ⑤ 자신의 삶과 사회를 바라보는 안목을 길러 당면 문제를 합리적으로 해결한다.

4. 다음과 같이 시대를 구분하는 기준은?

선사



역사

- ① 문자의 사용                      ② 도구의 사용                      ③ 국가의 등장  
 ④ 정착 생활의 시작                      ⑤ 농경과 목축의 시작

5. 다음은 영국의 역사학자 E.H.카가 한 말이다. 이 말이 의미하는 것은?



역사란 역사가와 사실 사이의 끊임없는 상호 작용이며, 현재와 과거 사이의 끊임없는 대화이다.

- ① 현재를 위해 과거의 잘못은 모두 청산해야 한다.  
 ② 역사가는 현재의 관점에 근거하여 과거를 평가한다.  
 ③ 역사는 현재와 과거로 구성되므로 미래에 대해서는 책임이 없다.  
 ④ 현재를 살고 있는 역사가는 과거를 빠짐없이 모두 기록해야 한다.  
 ⑤ 역사가는 사료비판 없이 과거 사실을 있는 그대로 인정해야 한다.

6. 다음 중 선사시대를 연구할 때 사용할 수 있는 사료가 아닌 것은?

- ① 역사책                      ② 조개더미                      ③ 주먹도끼                      ④ 바위그림                      ⑤ 집터유적

학번 :

성명 :

## 2. 인류의 기원과 선사 문화(p.16~22)

## 인류의 출현과 진화(㉠)의 진화론에 근거함)

인류	대표적 화석	출현시기	특징
오스트랄로피테쿠스	로부스투스, 보이세이 아나멘시스, 아파렌시스(=루시)	390만년 전	아프리카, 직립보행, 간단한 도구 사용
호모 에렉투스	베이징인, 자와인, 하이델베르크인	180만년 전	불을 사용, 언어 사용
호모 ㉡	네안데르탈인	40만년 전	동굴에 거주, 시체 매장
호모 사피엔스	㉢ (4만5천년 전) 승리산사람, 홍수아이(4만년 전)	20만년 전	현생인류, 벽화제작

## 선사시대(先史時代)

구분	구석기 시대	신석기 시대
시작	인류가 처음 나타난 이래~약 1만년 전	기원전 ㉣ 년경 : 1만년 전
도구	㉤ : 사냥도구(주먹도끼, 찌개, 숟가락, 뼈찌르개) 조리도구(끓개, 자르개, 밀개, 새기개)  뼈연모	토기 사용 : 저장 ㉥ : 돌도끼, 돌화살촉, 돌괭이 돌낫, 뼈낫→추수활동, 갈돌과 갈판(음식조리) 뼈도구(낚시, 바늘, 뼈작살)→어로생활 가락바퀴, 뼈바늘→의생활
거주	동굴이나 강가의 ㉦ 구릉, 언덕	원형굴의 ㉧에 거주 큰 강 유역, 해안 지역
생활	채집, 수렵, 어로 생활	채집, 수렵, 어로 + ㉨ (조, 피 등)과 목축 → ㉩ 혁명
사회	㉪ 생활, 무리 생활 → 평등사회	정착 생활, ㉪ 사회 형성 → 부족 발전 부족장이 생산활동 지휘 → ㉫ 사회
문화	불, 언어사용 ㉬ 의식 발생 : 빌렌도르프의 비너스 → 다산과 풍요 기원, 매장풍습, 벽화 제작(라스코 동굴 벽화)	갈판, 돌칼 등의 도구사용, 직조 애니미즘, 조상 숭배, ㉭ 미즘 등
우리 나라 문화	. 시기 : 약 70만 년 전 . 유물 : 돌뼈나 뿔로 만든 예술품(물고기 모양 조각, 사람 얼굴을 새긴 사슴뼈)  . 유적 : 단양 금굴 유적, 공주 석장리, 연천 전곡리, 제천 점말 동굴, 청원 두루봉 동굴, 단양 수양개, 웅기 굴포리, 덕천 승리산, 상원 검은모루 동굴, 마오허우산(묘후산) 동굴, 진누산(금우산) 동굴 등	. 시기 : 약 1만년 전 시작 . 유물 : 가락바퀴, 뼈바늘과 바늘통, ㉥ 무늬 토기, 흑으로 빚은 사람 얼굴, 조개껍데기 가면, 동물 모양의 조각품  . 유적 : 제주 한경 고산리 유적, 양양 오산리, 부산 동삼동, 서울 암사동, 봉산 지탑리, 김해 수가리, 평안남도 궁산리, 랴오둥 반도의 샤우주산(소주산), 선양의 신러(신락) 유적 등

## &lt; 출제 예상 &gt;

\*최초의 인류 : 오스트랄로 피테쿠스 아파렌시스

\*현생인류의 조상 : 크로마농인(4만5천년 전)

\*구석기와 신석기 비교

\*구석기와 신석기 공통점 : 선사시대, 평등사회, 도구사용

## 기본확인문제

1. 다음에서 설명하는 인류는?( )

.지금으로부터 약 4만 5천년 전에 출현하였다.

.동굴 속에서 생활하였고 벽화를 제작하였다.

.오늘날 인류의 직접적인 조상이다.

2. 구석기시대의 대표적인 도구로 돌을 깨거나 떼어 내어 만든 것을 무엇이라고 하는가?

3. 농경과 목축 등 생산경제가 시작되면서 인류의 생활모습이 크게 달라졌는데, 이 같은 변화를 무엇이라고 하는가?

4. 다음 글의 빈칸에 들어갈 말을 차례대로 쓰시오.

약 70만 년 전부터 한반도와 그 주변 지역에서 사람이 살기 시작하였으나, 우리 민족의 기원은 (㉠) 시대에서 (㉡) 시대를 거치면서 이루어졌다.

5. 빗살 모양의 가는 선 무늬를 새긴 우리나라 신석기 시대의 대표적인 토기를 무엇이라고 하는가?



## [형성평가]

1. 다음에 해당하는 인류를 보기에서 고르시오.

<보기>

ㄱ. 오스트랄로피테쿠스 아파렌시스      ㄴ. 크로마농인      ㄷ. 네안데르탈렌시스

- (1) 직립 보행을 한 최초의 인류로 알려져 있다. (      )  
 (2) 시체를 매장하는 풍습을 최초로 알았다. (      )  
 (3) 프랑스 남부에서 발견되었으며 동굴 벽화를 남겼다. (      )


2. 인류의 문화 발달 단계를 석기 시대, 청동기 시대, 철기 시대로 구분하는데 그 기준은 ?

- ① 도구의 재료                      ② 언어의 사용                      ③ 문자의 사용 여부  
 ④ 도구 제작 방법                  ⑤ 도구의 용도

3. 다음은 구석기와 신석기를 구분한 것이다. 바르지 못한 것은?

		구석기 시대	신석기 시대
①	도구	편석기	간석기
②	경제	채집, 어로, 수렵	벼농사의 시작
③	사회	이동, 무리생활	정착생활
④	문화	매장풍습, 벽화 제작	토기 사용, 직조
⑤	거주	동굴, 막집	움집

4. 다음과 같은 유물이 만들어진 시기에 대한 설명으로 옳지 않은 것은?



- ① 식량을 찾아 이동 생활을 하였다.                      ② 동굴이나 강가의 막집에서 살았다.  
 ③ 채집, 사냥 등으로 식량을 구하였다.                  ④ 돌을 깨뜨려 만든 편석기를 사용하였다.  
 ⑤ 경험이 많은 사람이 권력자로 등장하였다.

5. 구석기 시대의 유적지에서 찾아볼 수 있는 도구가 아닌 것은?

- ① 주먹도끼                      ② 흙으로 구워 만든 그릇                      ③ 몸돌에서 떼어낸 작은 돌  
 ④ 작은 돌을 나무에 꽂아 만든 톱                      ⑤ 활, 창, 작살과 같은 사냥용 도구


6. 다음과 같은 신앙이 형성되던 시대에 대한 설명으로 옳지 않은 것은?

- 자신의 조상을 특정 동물과 연결시켜 숭배하였다.  
 • 인간 생활에 미치는 자연현상에 신비로운 힘이 있다고 믿었다.

- ① 돌을 갈아 다양한 도구로 활용하였다.                  ② 동굴에 거주하며 이동 생활을 하였다.  
 ③ 몇몇 씨족들이 모여 부족을 형성하였다.                  ④ 토기를 만들어 음식을 조리하고 보관하였다.  
 ⑤ 조개껍데기 등으로 장신구를 만들어 장식하였다.

## 3. 문명의 발생과 국가의 출현-1(p.23~25)

## 청동기의 사용과 문명의 발생

시기	. B.C ㉠_____C 경	 <p>▲ 세계 4대 문명</p>
도구	. 청동기(장신구, ㉡_____, 제사용기) 사용	
경제	. 농업 발달 : ㉢_____농사	
주거	. 촌락·도시 형성 . 장방형 움집	
사회	. 계급사회	
특징	. ㉣_____ 사용 : 통치·상업 활동 기록 . 국가 형성, 문명 시작 <b>※ 4대 문명 발생지의 공통점</b> ① 큰 강 유역(비옥한 토지, 관개농업)    ② 온화한 기후(북위 20~40도) ③ ㉤_____ 사용    ④ 문자 발명 ⑤ 계급 발생→사유재산 성립    ⑥ 도시 국가의 성립-제정일치 사회	

	㉤ ____ 문명
위치	티그리스·유프라테스강유역, 개방적 지형
시기	B.C 3500년경
정치	전제정치, 제정일치
문화	. ㉦ ____ 문자 . 태음력, 1주일개념, 채색토기 . 수학(60진법)
종교	. 다신교 . 현세적 종교관 : 점성술, 신전 건축(지구라트)
특징	. 세계 최초의 문명 : ㉧ ____ 문명 . 기원전 1,800년 경 바빌로니아 등장 : 함무라비 왕 때 전성기 . 메소포타미아 전 지역 통일, 함무라비 법전 편찬(복수주의, 신분차별)
파괴	기원전 16세기 경 히타이트에 멸망

## 이집트 문명

위치	㉨ ____ 유역, 폐쇄적 지형
시기	B.C 3000년경 형성
정치	강력한 전제정치 : 왕 → 파라오, 신권정치
문화	. 그림문자 : 파피루스에 기록 . ㉩ ____ 력, 토목기술, 측량술 . 기하학, 수학(10진법) → 실용적 문화
종교	. 다신교 : 태양신 숭배 . ㉪ ____ 종교관 → 미라, 피라미드,
특징	스핑크스, 死者의 書
파괴	. B.C 7C경 아시리아 침입으로 쇠퇴 → B.C 6C 페르시아에 멸망

## &lt; 출제 예상 &gt;

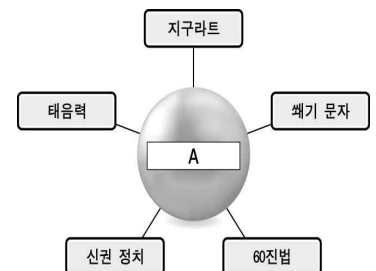
\*청동기의 특징 : 벼농사, 도시 및 국가 형성, 계급발생, 문자사용, 문명 발생  
 \*4대 문명 발생지의 공통점  
 \*메소포타미아문명과 이집트 문명의 공통점과 차이점  
 \*메소포타미아 : 함무라비 법전(복수주의, 복수주의)

## 기본확인문제

1. 인류의 생활은 청동기를 사용하면서 크게 변화하였다. 빈부의 차가 생기고, 권력을 가진 지배자가 등장하는 등 ( ) 사회로 변화하였다.

2. 국가가 발생하면서 통치와 교역의 편리를 위해 ( ) 을(를) 만들어 기록을 남기기 시작하였다.

3. 다음 마인드맵의 중심 주제가 A에 해당하는 문명의 이름을 쓰시오.



4. 다음과 관련있는 문명은?

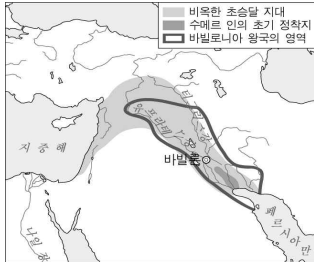
- 파라오가 정치와 종교 주관
- 태양력, 그림 문자, 10진법
- 피라미드, 미라, '사자의 서'

5. 바빌로니아의 함무라비 왕이 통치 체제를 정비하여 만든 법전은?

## [형성평가]

1. 세계 4대 문명의 발생과 관련 없는 것은?

- ① 온난한 기후의 큰 강 유역에서 발생    ② 황허 강 유역에서 중국 문명 발생  
 ③ 나일 강 유역에서 이집트 문명 발생    ④ 인더스 강 유역에서 인더스 문명 발생  
 ⑤ 아마존 강 유역에서 메소포타미아 문명 발생




2. 다음 지도에 표시된 지역에서 발생한 문명은?

- ① 잉카 문명                      ② 중국 문명                      ③ 인더스 문명  
 ④ 이집트 문명                      ⑤ 메소포타미아 문명

3. 메소포타미아 문명에 대한 설명으로 옳지 않은 것은?

- ① 태음력과 60진법을 사용하였다.  
 ② 국왕은 신의 대리자로 생각되었다.  
 ③ 내세보다 현재의 삶을 중요시하였다.  
 ④ 함무라비왕 때 메소포타미아 통일하고, 법전을 편찬하였다.  
 ⑤ 왕, 왕족 등 지배자가 죽으면 피라미드라는 거대한 무덤을 조성하였다.

4. 다음과 같은 문화 요소를 가지고 있던 문명에서 상상할 수 있는 장면은?



- ① 갑골 문자를 새기고 있는 모습                      ② 60진법을 통해 수를 계산하고 있는 모습  
 ③ 카스트의 규율을 어겨 처벌받는 모습    ④ 유일신으로 여호와를 찬양하는 종교집회 모습  
 ⑤ 태양의 움직임을 관찰하여 달력을 만드는 모습

5. 다음은 함무라비 법전의 내용이다. 이를 바탕으로 나눈 대화 중 옳지 않은 것은?

- 만일 누가 눈을 멀게 하면 그의 눈을 멀게 한다.
- 노예가 자유인의 뺨을 때리면 그의 귀를 자른다.
- 자식이 아버지를 때렸을 때에는 그의 손을 자른다.
- 귀족이 평민의 눈이나 뼈를 상하게 하면 은 1미나를 지불한다.
- 만일 남의 노예의 눈을 멀게 했으면 그 노예 가격의 반을 지불한다.

- ① 승연: "귀족과 평민, 그리고 노예로 구성된 신분제 사회였어."  
 ② 혜연: "신분에 관계 없이 법의 적용이 평등했음이 인상적이야."  
 ③ 지영: "바빌로니아 왕국의 함무라비왕이 편찬한 법전의 내용이야."  
 ④ 민정: "아버지의 권리가 절대적인 가부장적사회였음을 알수 있어."  
 ⑤ 민서: "보복주의에 입각한 엄격한 법률로 사회 집단을 통제했을 거야."

6. 다음과 같은 자연적 특징으로 인해 나타난 현상을 &lt;보기&gt;에서 모두 고른 것은?

나일 강은 매년 일정한 시기에 강물이 넘친다. 매년 물이 빠진 후 토지를 측량하는 과정을 반복해야 했지만, 넘칠 때마다 상류의 비옥한 흙이 쌓여 농사에 큰 도움이 되었다.

<보기> ㉠ 측량술과 기하학 발달    ㉡ 개방적인 지형    ㉢ 태음력 사용    ㉣ 태음력 사용    ㉤ 도시국가 성립

- ① ㉠,㉡                      ② ㉠,㉢                      ③ ㉠,㉢,㉤                      ④ ㉡,㉢,㉣                      ⑤ ㉢,㉣,㉤

## 3. 문명의 발생과 국가의 출현

## 2) 인더스 문명과 중국 문명(p.26~29)

	㉠ _____ 문명
위치	인더스강 유역
시기	B.C 2500년경
문화	.그림문자, ㉡ _____, 모헨조다로 유적 .정교한 청동기, 칠무늬 토기, 저울 사용
특징	.역사상 최초의 ㉢ _____ 도시(벽돌집, 공공목욕장, 곡물창고, 도로, 하수도시설) : 인더스의 도장, 춤추는 소녀(청동조각)
파괴	.기원전 1,500년경 ㉣ _____ 인의 이동 (㉤ _____ 보급, ㉥ _____ 교, ㉦ _____ 제도)

	㉧ _____ 문명(=중국 문명)
위치	㉨ _____ 강(황하) 유역
시기	B.C 2500년경
정치	신권정치

문화	<p>. ㉩ _____ : 황허강 유역, 최초의 나라, 청동기 사용 . 상(은) : B.C 1600, ㉪ _____ 문자, 은허 유적, 정(鼎, 청동솥), 태음력 . 주 : B.C 1100, ㉫ _____ 제도(혈연적 주종관계)</p>
특징	. ㉬ _____ 풍습 . 제사 중시
파괴	. 기원전 8C경 유목민족 건융의 침입으로 쇠퇴 : 천도(호경→낙읍) → 이후 춘추전국시대로 분열

## &lt; 출제 예상 &gt;

- \*인더스문명 : 인더스강 중심, 하라파와 모헨조다로
- \*아리아인의 침입 : 철기 보급, 카스트제, 브라만교
- \*중국문명 : 황허강 유역
  - 상(은) : 갑골문자
  - 주 : 봉건제도

## 기본확인문제

1. 다음은 유적 발굴 보고서의 내용이다. 이 고대문명은?

- 시기: 기원전 2500년경
- 장소: 모헨조다로
- 도로: 가로, 세로가 꼭 뺀 바둑판식
- 공공목욕장: 길이12m, 폭7m
- 집: 수세식 화장실을 갖춘

2. 아리아인은 ( )라는 신분제로 원주민을 지배하고, 자연 현상을 신처럼 여기는 ( )를 믿었다.

3. 은(상)나라는 국왕이 신의 뜻을 묻는 점을 쳐서 국가의 중요한 일을 결정하고, 그 내용을 기록하였는데, 이때 사용된 문자를 ( )라고 한다. 이 문자는 오늘날 한자의 기원이 되었다.

4. 도읍 일대는 왕이 직접 다스리고, 나머지 지역은 왕족이나 공신을 제후로 삼아 다스리게 하는 주의 제도를 무엇이라고 하는가?










## 4. 고조선의 성립과 발전

## 1) 우리나라의 청동기 문화(p.30~33)

## 한반도와 만주의 청동기

시작	. 서기전 20~15세기경	
도구	. 간석기 : ㉠_____ (반달 돌칼, 맷돌). 생활 도구 제작 . 청동기 : ㉡_____, 장신구, 제사용품(청동거울, 방울) 제작 - 청동검 : ㉢_____ 청동검 → 세형청동검(독창적) - 청동거울 : 거친무늬 거울 → ㉣_____ 무늬거울(독창적) - ㉤_____ 무늬 청동기 : 방패형 청동기, 무당이나 권력자 사용, 발을 경작하는 모습 - ㉥_____ : 청동기를 제작하는 주물 틀 . 토기 : 민무늬 토기(대표적), 미송리식 토기, 팽이형 토기	 ▲청동거울 ▲가지방울  ▲민무늬 토기
주거지	. 강을 끼고 있는 야산, 구릉 지대의 움집	
무덤	. ㉦_____ (북방식-탁자식, 남방식-바둑판식, 개석식), 돌널무덤(지하) : 군장의 권위와 세력 의미	
경제	. 벼농사 시작, 보리, 콩, 조 등 재배 . 직업의 분업화, 전문화	
사회 생활	: 농업 발달 → 인구 증가 → 빈부격차 발생(사유재산제) → 계급 사회(지배층과 피지배층) . 정복 전쟁 → 강력한 지배자 대두(_____)	
신앙	. 부족을 단위로 하는 정치적 사회 성립 ⇒ 초기국가 성립	
신앙	. 바위그림(암각화) 남김 : 울주군 반구대, 풍요와 다산 기원	
특징	. ㉧_____ 사회 : 군장이 부족 통솔(정치)과 제사 주관(종교)	

## &lt; 출제 예상 &gt;

- \*청동기로 제작된 것 : 무기, 장신구, 제사용품
- \*청동기 시대의 농기구 : 간석기(반달 돌칼)
- \*청동기 시대의 무덤 : 고인돌, 돌널무덤
- \*청동기 시대의 특징 : 벼농사 시작, 민무늬 토기, 계급 형성, 군장 대두, 도시 형성, 국가 출현, 제정일치 사회

## 기본확인문제

- 청동은 지배층의 ( ) 나 의식용 요구를 만드는 데 사용되었으며, ( )는 여전히 석기를 사용하였다.
- ( )은 청동기 시대에 널리 사용된 수확용 도구이다.
- 만주와 한반도 전역에서 출토되며, '비파'라는 악기 모양이어서 붙여진 유물의 이름은?
- ( )은 우리나라를 대표하는 거석문화의 상징물로, 청동기 시대 군장의 권위를 상징하는 무덤이다. 형태에 따라 ( )식, ( )식, 개석식으로 구분한다.
- 청동기 시대의 대표적인 토기는 무엇인가?
- 우리나라의 청동기 시대 사람들의 신앙과 예술을 보여주는 대표적인 유적으로는 울산 ( )의 바위그림이 유명하다.

## [형성평가]

## 1. 청동기 시대의 사회 모습으로 옳지 않은 것은?

- ① 제정일치 사회였다.                      ② 빈부 격차가 나타났다.  
 ③ 사유 재산의 개념이 생겼다.            ④ 성별, 직업별 분업이 나타났다.  
 ⑤ 청동기를 이용하여 많은 농기구를 만들었다.

## 2. 다음 강연의 밑줄 친 부분을 뒷받침할 수 있는 유물은?

만주와 한반도 지역에서 청동기가 사용된 것은 기원전 2000년경에서 기원전 1500년 경이었습니다. 특히 청동기 시대 후반에는 한반도 안에서 독자적인 청동기 문화가 발전하였지요.

- ① 세형 동검, 거꾸집                      ② 비파형 동검, 거꾸집                      ③ 비파형 동검, 세형 동검  
 ④ 세형 동검, 거친무늬 거울            ⑤ 비파형 동검, 거친무늬 거울

## 3. 다음 지도에 표시된 지역과 출토 범위가 일치하는 것을 &lt;보기&gt;에서 모두 고른 것은?



<보기>

㉠ 북방식고인돌  
 ㉡ 세형 동검  
 ㉢ 민무늬 토기  
 ㉣ 비파형 동검  
 ㉤ 미송리식 토기

- ① ㉠, ㉡, ㉢                      ② ㉠, ㉣, ㉤                      ③ ㉡, ㉢, ㉣                      ④ ㉡, ㉢, ㉤                      ⑤ ㉢, ㉣, ㉤

## 4. 다음 농기구가 널리 사용되었던 시대에 대한 설명으로 옳지 않은 것은?



- ① 주로 농사를 지으며 생활하였다.  
 ② 골짜기를 개간하여 농경지를 넓혀 나갔다.  
 ③ 주로 큰 강가나 바닷가에 움집을 만들었다.  
 ④ 사유 재산이 생겨나고 계급 사회가 성립하였다.  
 ⑤ 족장이 하늘에 제사를 지내는 종교 의식도 주관하였다.

## 5. 다음과 같은 무덤이 만들어진 시대의 사회상으로 옳지 않은 것은?



- ① 농업이 발달하여 사유 재산이 발생하였다.  
 ② 빈부의 격차가 커지면서 계급이 발생하였다.  
 ③ 청동검으로 무장한 족장의 권위가 강해졌다.  
 ④ 공동 노동하여 공동으로 분배하는 사회였다.  
 ⑤ 족장은 정치뿐만 아니라 종교 의식도 주관하였다.

## 4. 고조선의 성립과 발전

## 2) 고조선의 건국과 성장(p.34~36)

## 고조선의 성립

건국	B.C 2333년(기록상, 실제로는 B.C 1500년경)
성격	<p>* 일연의 ①『_____』에 기록 : 단군이 '고조선' 건국</p> <p>①환인의 아들 환웅이 ②널리 인간을 이롭게 하기 위하여 ③비, 바람, 구름을 주관하는 부하들을 거느리고 ...④곰과 범에게 ...⑤범은 뛰쳐나가 ...곰은 사람이 되길 원하므로 환웅은 ⑥곰을 여자로 변하게 하고 그와 혼인하여 ⑦단군왕검을 낳았다.</p> <p>①_____ 사상      ②_____의 이념      ③농경사회          ④토테미즘(부족신)      ⑤범부족과의 불화      ⑥부족연맹          ⑦_____ 사회[단군=제사장, 왕검=정치적 군장]</p>
사회 모습	<p>(1) 세력범위 : ㉠_____형 동검 출토지, ㉡_____ 토기, 탁자식 고인돌의 분포          (2) 정치 : 왕 밑에 상·대부 등의 관직, 군대의 우두머리는 장군          (2) 법률 : ㉢'_____법'(3개만 전함)          ① 사람을 죽인 자는 사형에 처한다. → 개인의 생명 중시          ② 남에게 상처를 입힌 자는 ㉣_____로 갚게 한다. → 농경사회, 노동력 중시          ③ 남의 물건을 훔친 자는 노비로 삼는다. 단, 죄를 면하려는 자는 50만 전을 내야 한다. → 사유재산 중시, 계급 사회, ㉤_____ 사용</p>

↓

## 철기의 전래와 고조선의 발전

B.C 5C	중국에서 ㉠_____ 전래
B.C 4C	만주 요령지방 중심, 만주와 한반도북부 통치 중국 연의 침입 고조선의 천도 : 랴오닝 지역 → ㉡_____ (평양)
기원전 2세기 : B.C 194년	<p>㉢_____의 집권          .중국 진·한 교체기 혼란을 틈타 고조선 이주 → 준왕 축출          .㉣_____문화 확산 → 주위 부족 통합, 세력 확장          .㉤_____무역으로 경제적 이익 추구 : 한 ↔ 고조선 ↔ 진국</p>
멸망	㉥_____무제의 침략 → 왕검성 함락(B.C 108년) → 한4군 설치

## &lt; 출제 예상 &gt;

\*고조선의 건국이야기: 선민사상, 농경사회, 토테미즘, 부족통합, 제정일치 등  
 \*8조법의 내용 : 화폐, 농경, 사유재산, 계급사회  
 \*‘단군왕검’의 칭호 : 제정일치  
 \*위만의 집권 : 철기 확산, 중계무역

## 기본확인문제

- 단군 신화가 기록된 가장 오래된 책은 고려 후기에 ( )이 쓴 ( )이다.
- 고조선의 세력 범위는 비파형 동검, ( ) 고인돌, 미송리식 토기의 분포를 통하여 짐작할 수 있다.
- 스스로를 하늘의 자손이라고 여기는 사상을 무엇이 라고 하는가?
- 중국이 혼란해진 틈을 타 고조선으로 들어와 준왕을 몰아내고 왕위를 차지한 인물은?
- 고조선은 한반도 중남부에 위치한 ( )과 중국의 ( ) 사이에서 중계무역을 독점하였다.
- 고조선은 왕 밑에 상, 대부 등의 관직을 두었으며, ( )이라고 하는 법률을 만들어 사회질서를 유지하였다.

## [형성평가]

## 1. 고조선에 대한 설명으로 옳지 않은 것은?

- ① 우리 민족 최초의 국가이다.  
 ② 철기 문화를 기반으로 성립하였다.  
 ③ 왕 밑에 상, 대부, 장군 등의 관직이 있다.  
 ④ 사회 질서 유지를 위해 법률을 제정하였다.  
 ⑤ 기원전 4세기 경 만주와 한반도 북부 지역을 통치하였다.

## 2. 다음 자료의 (가)~(마)에 해당하는 것을 설명한 것 중 옳지 않은 것은?

(가) 환인의 아들 환웅이 (나) 널리 인간을 이롭게 하기 위하여 (다) 비, 바람, 구름을 주관하는 부하들을 거느리고 태백산에 내려와 신시를 건설하고, 곡식, 생명, 병, 형벌 등 인간 세상의 360여 가지의 일을 맡아보며 사람들을 다스렸다. 그때 마침 (라) 꿈 한 마리와 범 한 마리가 있어, 같은 굴에 살면서 항상 신령스러운 환웅에게 사람이 되기를 빌었다. 꿈은 삼칠일 동안 참고 견디어 여자의 몸으로 변했지만 범은 이를 참지 못하고 뛰쳐나가 사람이 되지 못하였다. 여인이 된 꿈(웅녀)은 혼인할 대상이 없었으므로 늘 신단수 아래에서 아이를 낳게 해 달라고 빌었다. 이를 본 환웅이 잠시 인간으로 모습을 바꾸어 그와 혼인하여 아들을 낳으니, 그 이름을 (마) 단군왕검이라 하였다.

- ① (가) 애민사상                      ② (나) 홍익인간의 건국 이념  
 ③ (다) 농경 사회                    ④ (라) 특정 동물 숭배 사상(토테미즘)  
 ⑤ (마) 제정일치 사회

## 3. 다음 도표의 ㉠에 들어갈 사실로 옳은 것은?

위만의 집권

→ ㉠ →

왕검성의 함락

- ① 준왕이 고조선의 왕이 되었다.                      ② 중계 무역으로 큰 이익을 얻었다.  
 ③ 한이 고조선 영토에 군현을 설치하였다.            ④ 철기의 사용으로 여러 나라가 등장하였다.  
 ⑤ 요서 지방을 경계로 중국의 연과 대립하였다.

## 4. 다음은 고조선의 법률 조항이다. 이를 통해 알 수 있는 당시 사회의 특징으로 볼 수 없는 것은?

- 사람을 죽인 자는 사형에 처한다.
- 남에게 상처를 입힌 자는 곡물로 갚는다.
- 남의 물건을 훔친 자는 노비로 삼고, 만약 용서를 받으려면 많은 돈을 내야 한다.

- ① 계급 사회                      ② 노동력 중시                      ③ 제정 분리 사회  
 ④ 사유 재산 인정                ⑤ 농업 중심 사회

## 5. 빈 칸 ㉡, ㉢, ㉣에 들어갈 용어를 바르게 고르면?

( ㉡ )의 집권 이후 고조선은 우수한 철제 무기를 바탕으로 주변 지역을 정복하였고, 아울러 한반도 중남부에 위치한 ( ㉢ )이 중국의 ( ㉣ )이 직접 교역하는 것을 막았다.

- |      |   |   |
|------|---|---|
| ㉡    | ㉢ | ㉣ |
| ① 위만 | 진 | 한 |
| ② 주몽 | 한 | 위 |
| ③ 단군 | 진 | 한 |
| ④ 위만 | 한 | 진 |
| ⑤ 단군 | 촉 | 진 |

## 5. 만주와 한반도의 여러 나라(p.37~41)

철기 시대	
전래	B.C 5C경 철기 전래 ⇒ B.C 1C경 널리 확산, 청동은 ㉠____용 도구 제작
유물	.철제 ㉡____ 사용 → 농업 생산력 향상, 인구 증가 .철제 무기 사용 → ㉢____ 향상, 정복 전쟁을 통한 세력 확대
무덤	.㉣____ 무덤, ㉤____ 무덤 
변화	.초기 국가 출현



## 초기 철기 국가



구분	㉥____	고구려	㉦____	동예	삼한
위치	송화강 유역	동가강 유역	함흥평야 지방	강원도 북부	한강이남(진) ⇒ 마한(54개), 진한(12개), ㉧____(12개)
정치	.왕권 약함 .5부족 연맹체 : ㉨____(마가, 우가, 저가, 구가)	.왕권 약함 .5부족 연맹체 (계루부, 절노부, 소노부, 관노부, 순노부)	.왕이 없음 .군장(읍군, 삼로)	.군장(신지, 읍차) .제사장(____) → 제정 분리	
경제	농업, 목축		농업, 어업		.벼농사(저수지) .철 생산(변한) .화폐 사용(=덩이쇠)
법률	엄격한 법률: 개인의 생명과 재산보호, 사회질서유지 1책 ㉩____법	×	×	×	 ▲ 덩이쇠
풍습	.㉪____ .흰옷 숭상	.무예 숭상 .수렵, 씨름대회, .㉫____제	.민머느리제, .가족공동묘	.㉬____ .족외혼	.소도(신성지역) *㉭____ 신앙
제전 행사	.㉮____(사냥축제)	.동맹(시조제사)	×	.㉯____	.5월제(단오제) .10월제(상달제)

## &lt; 출제 예상 &gt;

\*철기 : 철제농기구, 철제무기  
\*철기시대의 무덤 : 독무덤, 널무덤  
\*5부족 연맹왕국: 부여, 고구려  
\*초기 철기국가의 풍습  
-부여: 순장, 영고  
-고구려: 데릴사위제, 동맹  
-옥저: 민머느리제, 가족공동묘  
-동예: 책화, 족외혼, 무천  
-삼한: 벼농사, 변한(철)  
\*소도 : 천군이 다스리던 신성 지역 → 제정분리 사회

## 기본확인문제

1. 다음 빈칸에 들어갈 말을 바르게 나열한 것은?

철기 시대 사람들은 하늘에 제사를 지내며 한 해의 풍년을 기원하였다. 이러한 제천 행사는 지배자의 권위를 높여 주었고, 구성원들의 일체감을 높여 갈등을 해소하는 역할도 하였다. 그 예로 (   가   )의 (   나   )이(가) 있다.

2. 왕이나 지배층이 죽었을 때, 노비나 신하 등을 죽여서 같이 묻는 장례법으로 부여에 있었던 풍습은?

3. 부여에서 내려와 고구려를 세웠던 인물은?

4. 장차 머느리가 될 여자들이 데려다 키워서 성인이 되면 남자 쪽에서 예물로 대가를 치르고 혼인을 하던 옥저의 풍습을 무엇이라고 하는가?

5. 동예에서는 같은 씨족끼리는 결혼하지 않는 (   )과 다른 부족의 영역을 침범하면 노비나 소, 말 등을 물게 하는 (   )라는 풍습이 있었다.

## [형성평가]

1. 다음 &lt;보기&gt;에서 철기를 사용하면서 나타난 변화를 모두 고른 것은?

<보기>㉠ 철제 농기구를 사용하였다.      ㉡ 중앙 집권 국가가 등장하였다.  
 ㉢ 청동기는 의례용 도구가 되었다.      ㉣ 철기는 지배층이 주로 사용하였다.  
 ㉤ 무기는 여전히 청동기가 우세하였다. ㉥ 철기를 이용하여 주로 장식품이나 제사용 도구를 만들었다.

- ① ㉠, ㉡      ② ㉠, ㉢      ③ ㉠, ㉣, ㉤      ④ ㉡, ㉢, ㉣      ⑤ ㉠, ㉡, ㉣, ㉤

2. 다음 중 부여에 대한 기록으로 옳은 것은?

- ① 사람이 죽으면 가매장하였다가 가족공동무덤인 큰 목곽에 넣었다.  
 ② 나라에는 왕이 있고, 벼슬로는 상가, 대로, 패자, 고추가 등의 등급을 두었다.  
 ③ 백성들은 노래와 춤을 좋아하여 ..... 서로 노래하며 즐겼다. 10월에는 제천 행사를 지냈다.  
 ④ 마가,우가,저가,구가 등이 사출도를 다스렸는데 큰 곳은 수천호, 작은 곳은 수백호였다.  
 ⑤ 나라마다 각각 장수가 있어서 세력이 강대한 사람은 신지라 하고, 그 다음은 읍차라 하였다.

3. 다음에서 설명하는 나라와 관련 없는 것은?

압록강 지류인 졸본에서 압록강 중류의 국내성으로 수도로 옮기고, 5부족 연맹 왕국을 이루며 발전하였다. 왕 밑에 대가들이 있었으며 이들은 각자 관리를 두고 자기 지역을 다스렸다.

- ① 민며느리제의 풍습이 있었다.      ② 동맹이라는 제천 행사를 지냈다.  
 ③ 결혼 풍습으로 서육제가 있었다.      ④ 활쏘기와 말타기 등의 무예를 숭상하였다.  
 ⑤ 제가 회의에서 국가의 중대사를 결정하였다.

[4-5] 다음 지도를 보고 물음에 답하시오.



4. 다음과 같은 법률이 있었던 나라를 지도에서 찾으면?

- 투기가 심한 부인은 사형에 처한다.
- 도둑은 물건 값의 12배를 배상해야 한다.
- 살인자는 사형에 처하고, 그 가족은 노비로 삼는다.

- ① ㉠      ② ㉡      ③ ㉢      ④ ㉣      ⑤ ㉤

5. 위 지도에 대한 설명으로 옳지 않은 것은?

- ① ㉠과 ㉡은 연맹 왕국 단계로 발전하였다.  
 ② ㉢은 적극적으로 정복 활동을 전개하였다.  
 ③ ㉣과 ㉤은 만주에 위치한 ㉠의 간섭을 받았다.  
 ④ ㉤은 같은 씨족끼리 혼인하지 않는 풍습이 있었다.  
 ⑤ ㉤은 소도라는 신성 구역이 존재하는 제정분리사회였다.

6. 다음 밑줄 친 부분에 들어갈 말로 옳지 않은 것은?

한반도 남부 지역에서는 철기 문화를 바탕으로 수십 개의 소국이 나타났다. 이들은 마한, 진한, 변한으로 연맹체를 이루었는데, 이를 삼한이라고 한다. 삼한은 \_\_\_\_\_

- ① 군장을 신지, 읍차로 불렀다.      ② 정치와 제사가 분리된 사회였다.  
 ③ 철을 수출하고 화폐로 사용하였다.      ④ 벽골제, 의림지 등 저수지를 만들었다.  
 ⑤ 고구려의 간섭으로 연맹 왕국으로 발전하지 못하였다.

7. 다음과 같은 풍습이 있었던 나라는?

농사와 더불어 사냥과 물고기 잡이를 중시하여 산천에 경계를 정해 놓고 함부로 침범하지 않았다. 만약 다른 부족이 산천을 침범하면 노비, 소, 말 등으로 갚게 하였는데, 이를 책화라 한다.

- ① 부여      ② 삼한      ③ 옥저      ④ 동예      ⑤ 고구려