

제 4 교시

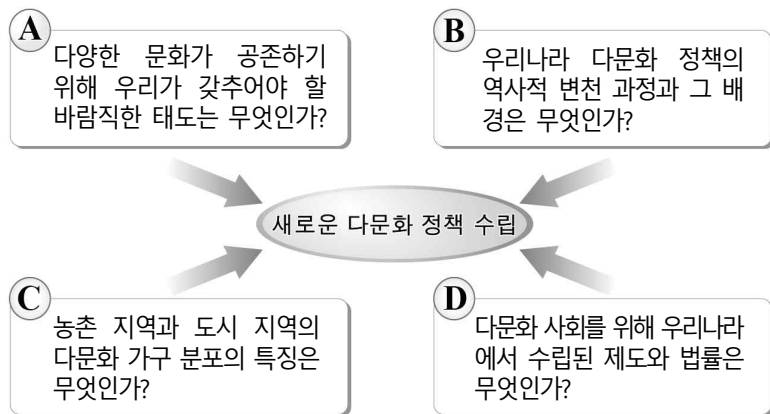
탐구 영역 (통합사회)

성명

수험번호

1

1. 그림의 A~D는 다문화 정책 수립을 위한 탐구 주제이다. 이에 대한 옳은 설명을 <보기>에서 고른 것은?



<보 기>

- ㄱ. A는 자신과 타인의 이익을 고려해 정책을 모색하고자 한다.
 ㄴ. B는 시대적 맥락을 토대로 다문화 정책을 살펴보고자 한다.
 ㄷ. D는 개인에게 영향을 미치는 사회 구조와 정책을 간과한다.
 ㄹ. A는 공간적 관점, C는 시간적 관점에서 접근하고 있다.

- ① ㄱ, ㄴ ② ㄱ, ㄷ ③ ㄴ, ㄷ ④ ㄴ, ㄹ ⑤ ㄷ, ㄹ

2. ㉠~㉣에 대한 설명으로 옳지 않은 것은? [3점]

근로 계약서

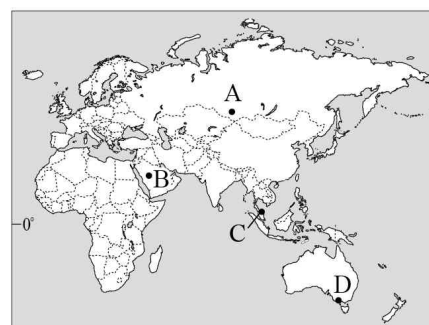
김○○(40세, 이하 “사업주”라 함)과 ㉠ 박○○(17세, 이하 “근로자”라 함)은 다음과 같이 ㉡ 근로 계약을 체결한다.

- 계약 기간: 2018. 1. 1. ~ 2018. 2. 28.
- 근무 장소: ○○편의점(주소)
- 업무 내용: 제품 진열 및 계산
- 근무일/휴일: 주 5일 근무
- ㉢ 근로 시간: 10:00 ~ 15:00
- ㉣ 임금: ㉤ 시간급 6,000원을 매월 1일 근로자 명의 예금 통장에 입금

* 단, 2018년 최저 임금은 시간급 7,530원임.

- ① ㉠은 연소 근로자에 해당한다.
 ② ㉢의 경우 사용자는 휴게 시간을 주어야 한다.
 ③ ㉠은 ㉡을 체결할 경우 법정 대리인의 동의가 필요하다.
 ④ ㉠은 법정 대리인의 동의 없이 독자적으로 ㉡을 청구할 수 있다.
 ⑤ ㉠은 ㉢에 합의한 경우 최저 임금을 요구할 수 없다.

3. (가), (나)와 같은 전통 가옥이 주로 분포하는 지역을 지도의 A~D에서 고른 것은?



- | | (가) | (나) |
|---|-----|-----|
| ① | A | B |
| ② | A | C |
| ③ | B | C |
| ④ | B | D |
| ⑤ | D | A |

4. 기본권 (가)~(라)에 대한 옳은 설명을 <보기>에서 고른 것은?

기본권	우리나라 헌법 관련 조항
(가)	제11조 ① 모든 국민은 법 앞에 평등하다.
(나)	제12조 ① 모든 국민은 신체의 자유를 가진다.
(다)	제24조 모든 국민은 법률이 정하는 바에 의하여 선거권을 가진다.
(라)	제31조 ① 모든 국민은 능력에 따라 균등하게 교육 받을 권리를 가진다.

<보 기>

- ㄱ. (나)는 적극적 성격의 권리에 해당한다.
 ㄴ. (다)는 국가의 정치 과정에 참여할 수 있는 권리이다.
 ㄷ. (라)는 (나)와 달리 현대 복지 국가에서 그 중요성이 약해지고 있다.
 ㄹ. (가)와 (나)는 모두 천부인권의 성격을 가진다.

- ① ㄱ, ㄴ ② ㄱ, ㄷ ③ ㄴ, ㄷ ④ ㄴ, ㄹ ⑤ ㄷ, ㄹ

5. 갑은 긍정, 을은 부정의 대답을 할 질문으로 옳은 것은? [3점]

갑: 생태계 전체의 구성원인 인간은 동료나 전체 공동체에 대해 존경심을 가져야 한다. 어떤 것이 생태계 전체의 온전성 등에 기여하면 옳고, 그렇지 않으면 그르다.
 을: 인간의 자연에 대한 지배권은 오직 기술과 학문의 발달에 달려 있다. 방황하는 자연을 사냥해서 노예로 만들어 인간의 이익에 봉사하도록 해야 한다.

- ① 개별 구성원의 존속이 생태계 전체의 보전보다 우선하는가?
 ② 이성적으로 사고할 수 있는 인간은 도덕적 존중의 대상인가?
 ③ 인간 이외의 자연은 인간의 이익에 기여할 때 가치가 있는가?
 ④ 풍요로운 삶을 위해 인간은 자연을 관찰하고 이용해야 하는가?
 ⑤ 인간은 자연의 지배자가 아니라 단지 구성원 중 하나일 뿐인가?

6. 다음은 (가), (나) 지역의 다큐멘터리 촬영 일지이다. 이에 대한 옳은 설명을 <보기>에서 고른 것은? [3점]



<보 기>

- ㄱ. ㉠은 화력 발전보다 온실가스 배출량이 많다.
 ㄴ. ㉡은 지형 조건을 활용한 관광 산업의 사례이다.
 ㄷ. (가)는 지각판의 경계에 위치하여 지진이 자주 발생한다.
 ㄹ. (나)는 우리나라보다 저위도에 위치한다.

- ① ㄱ, ㄴ ② ㄱ, ㄷ ③ ㄴ, ㄷ ④ ㄴ, ㄹ ⑤ ㄷ, ㄹ

7. 다음은 지역 조사를 위한 모둠 활동의 한 장면이다. ㉠~㉤에 대한 설명으로 옳지 않은 것은? [3점]

갑: 우리는 담장 벽화로 새롭게 단장한 ○○마을에 대해 알아볼 거야. 이곳은 ㉠ 낙후된 지역의 문제를 도시 재생 사업을 통해 해결한 곳으로 유명해.

을: ○○마을은 벽화가 생기기 전엔 어떤 모습이었을까?

병: 그건 ㉡ 과거의 거리뷰(Street viewership) 사진을 검색해보고, 구청에서 인구 자료를 확인하면 돼.

정: 요즘 마을의 벽화를 보러 오는 ㉢ 관광객이 많아졌다고 들었어. 주말에는 직접 ○○마을에 가서 ㉣ 야외 조사도 해보자.

무: ㉤ 등을 통해 벽화가 마을의 재생에 도움이 되었는지 확인할 수 있을 거야.

- ① ㉠에는 주거지 노후화나 인구 감소 등이 있다.
 ② ㉡은 실내 조사에 해당한다.
 ③ ㉢을 통해 ○○마을의 2차 산업이 성장하고 있음을 알 수 있다.
 ④ ㉣에는 사진 촬영 및 관광객들과의 인터뷰 등이 있다.
 ⑤ ㉤에는 '인구수 변화와 주민들의 만족도'가 적절하다.

8. 다음 글이 강조하는 내용으로 가장 적절한 것은?

소득이 일정한 수준에 도달하면 더 이상 소득이 증가되더라도 행복이 증진되지는 않는다. 하지만 소득이 일정한 수준에 도달하지 않은 경우는 다르다. 특히 기근의 상황에서 행복한 삶은 거의 불가능하다. 흔히 기근으로 인한 고통스러운 삶의 원인을 식량 감소에서 찾지만, 정부가 국민의 복지에 관심을 두고 합당한 식량 정책을 갖추면 식량이 감소해도 기근은 발생되지 않는다. 식량 부족량을 교정할 정부 정책이 실패할 때 기근으로 인해 국민의 삶은 고통스러워진다.

- ① 정부가 경제 영역에 개입하지 않을 때 국민 행복은 증대된다.
 ② 경제적 소득이 높아질수록 개인의 삶의 질은 언제나 높아진다.
 ③ 식량 생산의 증감은 국민 행복의 증감과 절대적으로 비례한다.
 ④ 정부의 정책 및 사회 제도는 개인의 행복한 삶에 영향을 미친다.
 ⑤ 행복은 정신적 만족감이므로 기본적인 욕구 충족과 관련이 없다.

9. (가), (나)의 입장에 대한 설명으로 옳은 것은? [3점]

(가) 자연은 그 자체로 가치가 있으므로 영구 보존되어야 한다. 따라서 인간에게 자연을 개발할 권리는 없다.
 (나) 자연을 보존한다는 이유로 개발을 멈추어서는 안 된다. 인간의 이익을 위해 필요하다면 자연을 개발해야 한다.

- ① (가)는 인간의 복지를 위해 자연이 보존되어야 함을 강조한다.
 ② (가)는 인간의 능력을 신장시켜 자연을 정복해야 함을 강조한다.
 ③ (나)는 인간이 자연 그 자체의 가치를 존중해야 함을 강조한다.
 ④ (나)는 자연이 인간의 편리함과 행복을 위한 수단임을 강조한다.
 ⑤ (가), (나)는 자연의 보전보다 인간의 이익이 우선됨을 강조한다.

10. 다음은 경제학자 갑, 을의 대화이다. 이에 대한 옳은 설명을 <보기>에서 고른 것은? (단, 갑, 을은 수정 자본주의, 신자유주의 중 하나를 주장함.) [3점]

정부와 시장은 별개이다. 정부는 존재해야 하지만, 시장의 게임 규칙을 집행하는 심판자로서의 역할만 해야 한다. 비대해진 정부가 오히려 국가의 실패를 초래한다.



대공황과 같이 경기가 침체된 상황에서 실업 문제를 해결하기 위해서는 정부가 지출을 확대하여 일자리를 늘림으로써 소득을 보장해야 한다.

<보 기>

- ㄱ. 갑은 공기업의 민영화를 지지할 것이다.
 ㄴ. 을은 정부의 시장 개입이 필요하다고 본다.
 ㄷ. 갑은 을과 달리 자원 배분에 있어 효율성보다 형평성을 추구한다.
 ㄹ. 을은 갑과 달리 경제활동의 자유를 인정한다.

- ① ㄱ, ㄴ ② ㄱ, ㄷ ③ ㄴ, ㄷ ④ ㄴ, ㄹ ⑤ ㄷ, ㄹ

11. 다음은 학생이 작성한 수행 평가 답안지의 일부이다. ㉠~㉣ 중 옳지 않은 것은?

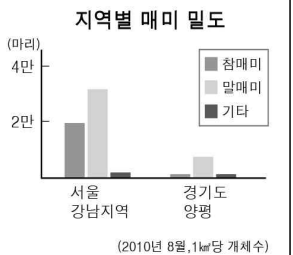
< 수행 평가 >

1학년 ○반 이름: ○○○

■ 다음 자료를 읽고 밑줄 친 부분의 원인과 대책을 쓰시오.

최근 서울을 비롯한 대도시 지역에 서식하는 매미가 농촌보다 최대 13배까지 많은 것으로 밝혀졌다. 매미의 유충은 기온이 높은 곳에서 성장하기 좋는데 도시 내부가 교외에 비해 기온이 높기 때문에 매미의 밀도가 높게 나타난다.

지역별 매미 밀도



◎ 학생 답안

▶ 원 인

1. 콘크리트 건축물과 아스팔트 도로의 복사열 ㉠

2. 냉난방 장치나 자동차에서 배출되는 인공열 ㉡

▶ 대 책

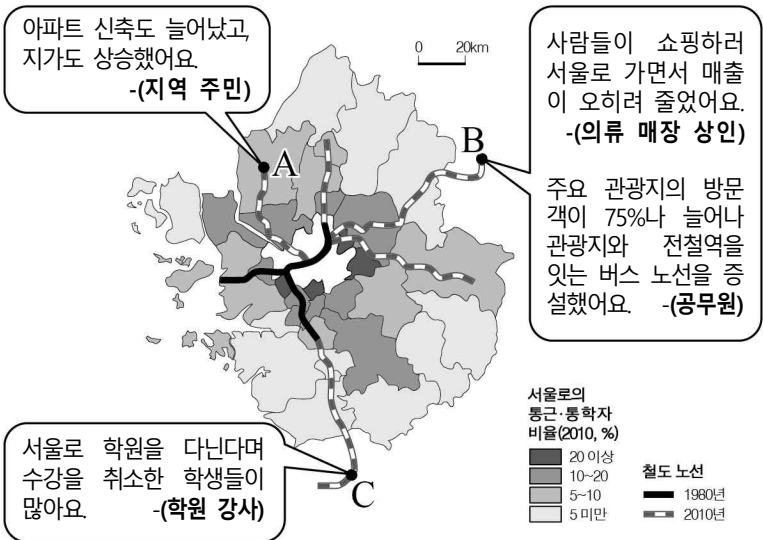
1. 건물 옥상 정원과 가로수를 확충한다. ㉢

2. 도심 하천을 복개하여 주차장을 확충한다. ㉣

3. 대중교통과 자전거를 이용하여 출퇴근한다. ㉤

- ① ㉠ ② ㉡ ③ ㉢ ④ ㉣ ⑤ ㉤

12. 자료는 서울로의 통근·통학자 비율과 철도 노선의 확대에 의한 A ~ C지역의 변화를 인터뷰한 내용이다. 이에 대한 옳은 설명을 <보기>에서 고른 것은? [3점]



- <보 기>
- ㄱ. A는 전입 인구보다 전출 인구가 많다.
- ㄴ. B의 주요 관광지는 접근성이 향상되었다.
- ㄷ. B와 C에서는 대도시의 서비스 기능이 중소도시로 흡수되는 현상이 나타난다.
- ㄹ. 서울과 가까울수록 통근·통학자 비율이 높은 편이다.

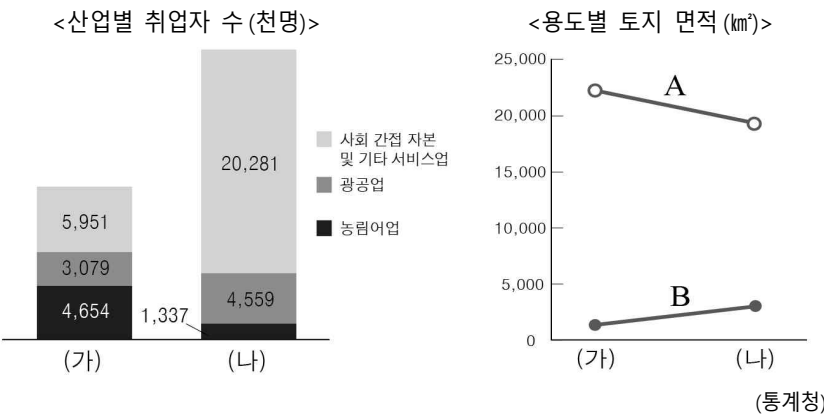
- ① ㄱ, ㄴ ② ㄱ, ㄷ ③ ㄴ, ㄷ ④ ㄴ, ㄹ ⑤ ㄷ, ㄹ

13. 다음 글을 통해 파악할 수 있는 현대 사회의 특징으로 가장 적절한 것은?

우리는 누리 소통망(SNS)을 통해 다양한 정보를 실시간으로 주고받을 수 있음은 물론 회사에 나가지 않고도 자택에서 근무를 할 수 있게 되었다. 하지만 악의적인 비방과 욕설로 인한 인권 침해는 물론 타인의 지나친 간섭과 통제에 의한 문제가 증가하고 있다. 대다수의 국민들은 누리 소통망 안에서 발생하는 문제를 더 이상 사용자의 자율적 규제 역량에만 맡길 수 없다는 데 한 목소리를 내고 있다.

- ① 대면적 인간관계가 증대되고 있다.
- ② 사생활 침해 가능성이 감소하고 있다.
- ③ 직장인의 근무 형태가 획일화되고 있다.
- ④ 정보 교류의 공간적 범위가 좁아지고 있다.
- ⑤ 정보 윤리 관련 법안의 필요성이 커지고 있다.

14. 그래프는 우리나라 (가), (나) 시기의 산업별 취업자 수와 용도별 토지 면적을 나타낸 것이다. 이에 대한 설명으로 옳은 것은? (단, (가), (나)는 1980년, 2015년 중 하나이며 A, B는 논·밭, 도로 중 하나임.)



- ① (가) 시기는 (나) 시기보다 인구가 많다.
- ② (가) 시기는 (나) 시기보다 직업의 종류가 다양하다.
- ③ (나) 시기는 (가) 시기보다 도시화율이 높다.
- ④ (나) 시기는 (가) 시기보다 근로자의 평균 임금이 낮다.
- ⑤ A는 도로, B는 논·밭이다.

15. 다음 사례에 대한 옳은 분석을 <보기>에서 고른 것은? [3점]

갑이 운영하는 동네 빵집의 월 평균 매출액은 1,200만 원이다. 빵집 운영에는 월세 200만 원, 종업원 월급 300만 원, 재료비 등 기타 비용 월 500만 원이 든다. 그런데 갑이 ㉠ 회사에 취업할 경우 월 250만 원의 임금을 받을 수 있다. 갑은 빵집을 계속 운영할지, 회사에 취업할지 고민하고 있다.

- <보 기>
- ㄱ. ㉠은 빵집 운영의 암묵적 비용이다.
- ㄴ. 빵집을 계속 운영하는 것은 비합리적 선택이다.
- ㄷ. 빵집 운영의 명시적 비용은 월 500만 원이다.
- ㄹ. 빵집 운영의 기회비용은 월 1,200만 원이다.

- ① ㄱ, ㄴ ② ㄱ, ㄷ ③ ㄴ, ㄷ ④ ㄴ, ㄹ ⑤ ㄷ, ㄹ

16. 다음 글이 강조하는 내용을 <보기>에서 고른 것은? [3점]

인간의 궁극적 목적은 완전한 행복이다. 이러한 행복은 도덕성이 바탕이 될 때 가능하며, 도덕성이 높을수록 인간은 진정으로 행복해진다. 도덕성이 우리를 행복할 만한 가치가 있도록 만들기 때문이다. 물론 선한 행위가 언제나 혹은 곧바로 행복을 가져다주지 않을 수 있다. 그럼에도 우리는 선한 행위를 함으로써 스스로를 장래에 행복하게 될 만한 가치가 있도록 만들어야 한다.

— <보 기> —

- ㄱ. 도덕적인 삶은 행복한 삶의 필수 조건이다.
 ㄴ. 도덕적 행위는 즉각적으로 행복을 가져온다.
 ㄷ. 인간의 궁극적 목적은 선한 삶 속에서 실현된다.
 ㄹ. 완전한 행복은 물질적 조건들만 충족되면 실현된다.

- ① ㄱ, ㄴ ② ㄱ, ㄷ ③ ㄴ, ㄷ ④ ㄴ, ㄹ ⑤ ㄷ, ㄹ

17. A, B에 대한 설명으로 옳은 것은?

- A의 대표적인 사례로는 국방 및 치안 서비스가 있다. 이것은 대가를 지불하지 않아도 누구든지 사용할 수 있으며, 한 사람이 사용하여도 다른 사람이 얼마든지 사용할 수 있다.
 ○ 어떤 경제 주체들의 경제 활동이 다른 경제 주체에게 의도하지 않은 이익을 주거나, 의도하지 않게 피해를 주는데도 이에 대해 아무런 경제적 대가를 받거나 치르지 않는 경우를 B라고 한다.

- ① A는 무임승차자 문제가 발생하지 않는다.
 ② A는 시장에만 맡길 경우 일반적으로 과잉 생산된다.
 ③ B는 보조금 지급이나 조세 제도로 해결될 수 있다.
 ④ B는 시장에서 자원이 효율적으로 배분됨을 보여준다.
 ⑤ B는 정부 개입을 축소해야 한다는 주장의 근거가 된다.

18. 다음 글에 부합되는 주장을 하고 있는 학생을 고른 것은?

맹그로브는 주로 열대 지역의 강물과 바닷물이 만나는 곳에서 서식하는 식물군을 말한다. 맹그로브는 이산화탄소를 흡수하고 해안의 수질을 유지해준다. 또한 해안의 침식과 홍수를 막는 기능을 하며, 각종 어류·갑각류·조류의 서식지를 이룬다. 그러나 최근 맹그로브 숲이 개발되면서 그 면적은 줄어들고 있다. 특히 새우 양식장이나 인공 어장 조성 등은 맹그로브 숲의 주요 파괴 원인이다. 또한 지구 온난화로 인해 해수면이 상승하게 되면 맹그로브 숲의 면적은 더 줄어들 것이다.

갑	을	병	정
열대 해안 지역의 해일 피해를 줄이려면 맹그로브 숲을 보전해야 합니다.	맹그로브 숲을 양식장으로 개발하여 생물종의 다양성을 확보해야 합니다.	화석 연료의 사용이 증가하면 맹그로브 숲은 더 줄어들 것입니다.	새우 양식장이 증가할수록 열대 해안의 수질은 좋아질 것입니다.

- ① 갑, 을 ② 갑, 병 ③ 을, 병 ④ 을, 정 ⑤ 병, 정

19. ㉠~㉣에 대한 옳은 설명을 <보기>에서 고른 것은?

- 최근 경제 트렌드로 ㉠ ‘1코노미’가 주목받고 있다. 1코노미를 지향하는 사람들은 단체와 조직을 우선시 하는 삶에 피곤함을 느껴 혼자만의 소비 생활을 즐긴다. 하지만 ㉡ 누리소통망(SNS)을 통해 사회적 관계망을 유지하고 있기에 심리적으로 혼자가 아니라고 여긴다.
 ○ 최근 ㉢ ‘공동체 주택’이 주목받고 있다. 공동체 주택이란 주민들 간의 친밀한 교류를 통해 다양한 분야에서 협력적인 생활을 하는 주거 형태를 말한다. ㉣ 주민들은 공동의 규약을 마련하여 주거 공간을 공유하고 주거 비용, 육아 문제 등을 공동으로 해결하며 살아간다.

*1코노미: 숫자 1과 이코노미(Economy)의 합성어

— <보 기> —

- ㄱ. ㉠의 배경으로는 1인 가구의 증가가 있다.
 ㄴ. ㉡은 정보화로 인한 생활의 변화를 나타낸다.
 ㄷ. ㉣은 사회적 유대감보다 개인의 자율성을 강조한다.
 ㄹ. ㉠은 ㉢과 달리 공동체의 결속과 소통을 중시한다.

- ① ㄱ, ㄴ ② ㄱ, ㄷ ③ ㄴ, ㄷ ④ ㄴ, ㄹ ⑤ ㄷ, ㄹ

20. 다음 사례에 나타난 운동이 정당화되기 위한 조건만을 <보기>에서 있는 대로 고른 것은? [3점]

1950년대 미국 앨라배마주에는 흑백 분리법에 따라 버스 내 흑인과 백인의 좌석이 나뉘어 있었고, 흑인은 백인에게 자리를 양보해야 한다는 규정이 있었다. 그런데 만석이 된 버스에서 백인에게 자리를 양보할 것을 요구받은 흑인 여성 로자 파크스가 이를 거부하였고, 이로 인해 체포되었다. 흑인 사회는 로자 파크스 사건에 분노했고, 흑인들은 마틴 루터 킹 목사를 중심으로 그들에게 허용되지 않은 구역에서 자신들의 권리를 주장하다 경찰에 연행되었다. 1년간의 노력 끝에 결국 흑백 분리법은 위헌 판결을 받았다.

— <보 기> —

- ㄱ. 어떠한 경우에도 법률을 준수해야 한다.
 ㄴ. 폭력적 행위를 해서라도 목적을 달성해야 한다.
 ㄷ. 합법적으로 문제를 해결할 수 없을 때 사용되어야 한다.
 ㄹ. 사익 추구가 아닌 사회 정의 실현을 목적으로 해야 한다.

- ① ㄱ, ㄴ ② ㄴ, ㄹ ③ ㄷ, ㄹ
 ④ ㄱ, ㄴ, ㄷ ⑤ ㄱ, ㄷ, ㄹ

* 확인 사항

- 답안지의 해당란에 필요한 내용을 정확히 기입(표기)했는지 확인 하시오.