

2012학년도 6월 고2 전국연합학력평가 문제지

제 4 교시 사회탐구 영역(사회 · 문화)

성명

수험 번호

2

1

- 자신이 선택한 과목의 문제지인지 확인하시오.
- 문제지의 해당란에 성명과 수험 번호를 정확히 쓰시오.
- 답안지의 해당란에 성명과 수험 번호를 쓰고, 또 수험 번호와 답을 정확히 표시하시오.
- 선택한 과목 순서대로 문제를 풀고, 답을 표시하시오.
- 문항에 따라 배점이 다르니, 각 물음의 끝에 표시된 배점을 참고하시오. 3점 문항에만 점수가 표시되어 있습니다. 점수 표시가 없는 문항은 모두 2점입니다.

1. 밑줄 친 ㉠ ~ ㉣과 같은 현상의 일반적인 특징에 대한 옳은 설명을 <보기>에서 고른 것은?

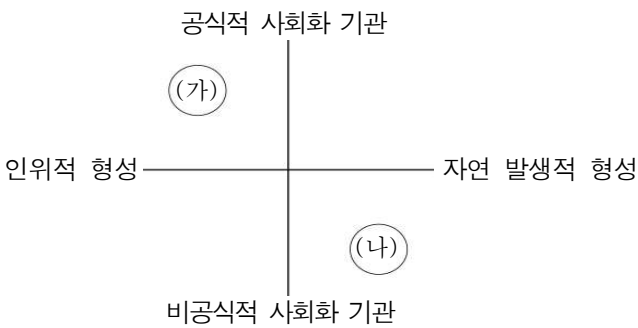
미국의 땅콩 생산량이 감소하면서 ㉠ 땅콩 가격이 폭등해 이를 원료로 하는 식품업체가 큰 타격을 받고 있다. 땅콩의 주요 생산지에서 ㉡ 2년째 가뭄이 계속되고 있는 데다 이상 고온 현상까지 겹쳐 흉작이 이어지고 있기 때문이다. 농부들이 올해 ㉢ 다른 작물의 재배 면적을 늘린 것도 땅콩 생산량 감소에 영향을 주었다. 주요 생산지인 텍사스 주에서 ㉣ 이상 고온 현상이 2013년까지 지속될 것이란 전망도 땅콩 가격의 안정을 어렵게 만들고 있다.

<보 기>

- ㄱ. ㉠과 같은 현상은 시 · 공간적 보편성을 갖는다.
- ㄴ. ㉡과 같은 현상은 인간의 의지와 무관하게 나타난다.
- ㄷ. ㉢과 같은 현상은 존재 법칙의 지배를 받는다.
- ㄹ. ㉣과 같은 현상은 ㉡과 같은 현상에 비해 인과 관계가 불분명하다.

- ① ㄱ, ㄴ ② ㄱ, ㄷ ③ ㄴ, ㄷ ④ ㄴ, ㄹ ⑤ ㄷ, ㄹ

2. 그림은 사회화 기관을 분류한 것이다. (가)와 (나)에 해당하는 사례의 연결이 옳은 것은?



- | | (가) | (나) |
|---|--------|-------|
| ① | 회사 | 친족 |
| ② | 또래 집단 | 정당 |
| ③ | 학교 | 시민 단체 |
| ④ | 대중 매체 | 지역 사회 |
| ⑤ | 직업 훈련소 | 가족 |

3. 다음 질문지에 대한 분석으로 적절하지 않은 것은? [3점]

인터넷 게임 실태 조사

1. 당신은 인터넷 게임을 정기적으로 합니까?
① 예 ② 아니요

2. 당신은 하루에 인터넷 게임을 몇 시간 정도 합니까?
① 1시간 미만 ② 2시간 이상 5시간 미만 ③ 6시간 이상

3. 인터넷 게임은 중독성이 강한 것으로 알려져 있습니다. 당신은 청소년이 심야 시간 인터넷 게임에 접속하는 것을 차단해야 한다고 생각합니까?
① 예 ② 아니요 ③ 모름

- ① 하나의 문항에서 한 가지 내용을 묻고 있다.
- ② 답지가 상호 배타적으로 구성되어 있지 않다.
- ③ 응답자가 질문을 주관적으로 해석할 수 있다.
- ④ 답지가 모든 응답 가능성을 포괄하지 못하고 있다.
- ⑤ 연구자의 가치가 개입되어 응답에 영향을 줄 수 있다.

4. 다음과 같은 특징을 지닌 자료 수집 방법을 사용할 수 있는 연구 주제로 가장 적절한 것은? [3점]

- 방법론적 일원론에 입각한 연구에서 주로 사용된다.
- 연구자가 상황을 조작한 상태에서 어떤 변수를 의도적으로 개입시키고 그 변수의 영향을 관찰한다.

- ① 지역별 · 성별 학교 폭력 발생 빈도 조사
- ② 토론식 수업과 강의식 수업의 효과 비교
- ③ 역대 대통령 선거 출마자의 공약 변천 연구
- ④ 자기 주도적 학습자의 집중력 유지 양태 연구
- ⑤ 아마존 강 유역에 거주하는 부족의 장례 문화 연구

5. 다음 글에서 필자가 ‘좀비’들에게 요구하는 ‘사회 · 문화 현상을 인식하는 태도’로 가장 적절한 것은?

사회적 쟁점에 대한 논란이 가열되면서 인터넷 상에서 ‘좀비(zombie)’가 활개치고 있다. 이들은 사실적 근거도 없는 풍문을 실체적 진실인 양 퍼뜨리거나, 엄연한 사실마저도 부정하기 일췌이다. 이들에게는 사회 · 문화 현상을 제삼자의 입장에서 있는 그대로 인식하는 태도가 절실하게 필요하다.

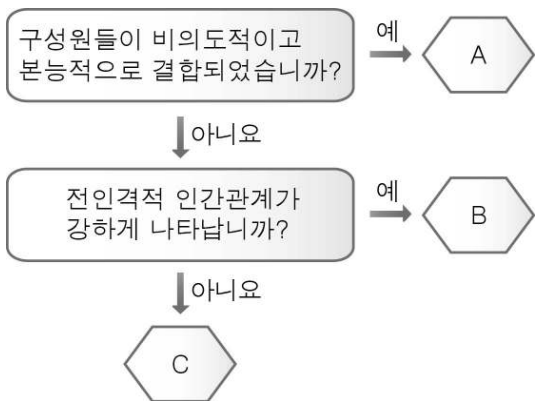
- ① 객관적 태도 ② 성찰적 태도 ③ 개방적 태도
- ④ 총체적 태도 ⑤ 상대주의적 태도

2 사회탐구 영역(사회 · 문화)

6. 밑줄 친 ㉠~㉣에 대한 설명으로 옳은 것은?

학생회 간부로 활동해 온 ㉠ 고등학생 갑은 절친한 을과 차기 학교 정·부회장 선거에 러닝메이트로 출마하기로 굳게 약속하였고, 6개월 후에 후보로 등록하였다. 그런데 장학금으로 학비를 충당해 왔던 갑은 학생회 활동을 하면서 ㉡ 성적이 크게 떨어져 장학생으로 선정되지 못하였다. 이에 갑의 ㉢ 아버지는 갑에게 ㉣ 학생회장 후보를 사퇴하라고 하였다. 이 때문에 갑은 후보 사퇴 여부를 놓고 ㉤ 고민하고 있다.

- ① ㉡은 일탈 행동에 해당한다.
 - ② ㉢은 귀속 지위에 해당한다.
 - ③ ㉣은 갑에 대한 아버지의 역할이다.
 - ④ ㉤에는 갑의 역할 갈등이 나타나 있다.
 - ⑤ ㉠은 ㉢과 달리 후천적으로 획득된 것이다.
7. 그림은 사회 집단을 분류한 것이다. A~C에 대한 설명으로 옳은 것은? (단, A, B, C는 회사, 가족, 친목회 중 하나이다.) [3점]



- ① A는 가입과 탈퇴가 자유롭다.
- ② B는 목표 지향적이고 효율성을 중시한다.
- ③ C에서는 규칙에 의한 공식적 통제가 일반적이다.
- ④ B와 C는 모두 수단적 만남과 간접적 접촉이 지배적이다.
- ⑤ C는 A와 달리 공동의 신념 및 관습을 바탕으로 결합되었다.

8. 대화에서 사회 · 문화 현상을 바라보는 을의 관점에 부합하는 진술로 적절한 것은?

갑: 주연, 조연, 엑스트라의 출연료에 차이를 두는 것은 당연합니다. 주연 배우는 영화 흥행에 기여하는 바가 크므로 더 많은 출연료를 받아야 합니다.
을: 배우들은 모두 영화 제작에서 꼭 필요한 존재입니다. 주연 배우가 더 많은 출연료를 받는 것은 다른 배우들의 몫을 부당하게 가로채는 것입니다.


- ① 사회적 불평등은 타파해야 할 대상이다.
- ② 생산성 향상을 위해서는 차등적 보상이 필요하다.
- ③ 분배를 둘러싼 갈등은 사회적 병리 현상일 뿐이다.
- ④ 기여도에 따른 보상 체계는 사회적 합의에 기초한다.
- ⑤ 사회의 각 구성 요소들은 상호 의존적으로 통합되어 있다.

9. 사회화와 관련하여 갑, 을, 병이 가진 관점의 일반적 특징에 대한 설명으로 가장 적절한 것은? [3점]



- ① 갑은 사회화를 통해 기존의 불평등한 구조가 재생산된다고 본다.
- ② 을은 사회화를 사회 통합을 위한 바람직한 수단으로 본다.
- ③ 병은 개인을 상호 작용 과정에서 주관적 의미를 부여하는 능동적 주체로 본다.
- ④ 병과 달리 갑은 사회화를 사회적 기대를 고려하여 자신의 정체성을 형성해 나가는 과정으로 이해한다.
- ⑤ 을과 병은 모두 사회화를 통해 사회 규범을 제대로 학습하면 사회 문제는 해결될 것으로 본다.

10. 그림의 농구 경기에서 나타나는 상호 작용의 유형 (가)~(다)의 일반적 특징에 대한 옳은 분석만을 <보기>에서 있는 대로 고른 것은?



<보 기>
ㄱ. (가)는 그 결과가 공정하게 배분될 때 강화된다.
ㄴ. (나)는 이해관계가 상충되어 서로를 적대시하는 것이다.
ㄷ. (다)는 사회 문제가 무엇인지를 알려 주기도 한다.
ㄹ. (나)가 지나치게 심해질 경우 (다)로 변화할 수 있다.

- ① ㄱ, ㄴ ② ㄴ, ㄷ ③ ㄷ, ㄹ
- ④ ㄱ, ㄴ, ㄹ ⑤ ㄱ, ㄷ, ㄹ

사회탐구 영역(사회 · 문화)

[11~12] 표는 어떤 연구 사례를 요약한 것이다. 물음에 답하시오.

연구 주제	폭력적인 영상물이 청소년의 인성 형성에 미치는 영향
가설	폭력적인 영상물을 시청한 시간이 긴 학생일수록 폭력적인 성향이 강할 것이다.
조사 대상	A, B, C 고등학교 학생 각 100명
조사 방법	30문항으로 구성된 설문지 배부
자료 분석	컴퓨터를 활용한 통계 처리
결론	폭력적인 영상물은 청소년의 폭력적인 성향을 조장한다.

11. 위의 연구 사례에서 사용된 연구 방법의 일반적 특징을 <보기>에서 고른 것은?

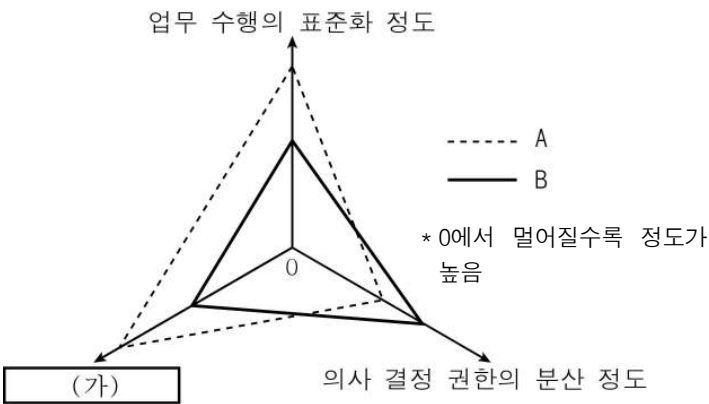
- <보 기>
- ㄱ. 연구 대상에 대한 감정 이입적 이해를 중시한다.
 - ㄴ. 법칙 발견을 목적으로 하는 연구에서 주로 사용된다.
 - ㄷ. 잠정적 결론을 내리고 경험적 자료를 통해 검증한다.
 - ㄹ. 맥락적 이해를 중시하기 때문에 일반적으로 귀납적이다.

- ① ㄱ, ㄴ ② ㄱ, ㄷ ③ ㄴ, ㄷ ④ ㄴ, ㄹ ⑤ ㄷ, ㄹ

12. 위의 연구 사례에 대한 분석으로 옳지 않은 것은? [3점]

- ① 계량화를 통한 자료 분석이 이루어졌다.
- ② 연구 결과를 청소년에 대해 일반화할 수 없다.
- ③ 표준화된 도구를 사용하여 자료를 수집하였다.
- ④ ‘폭력적인 성향’에 대한 조작적 정의가 필요하다.
- ⑤ 종속 변수는 폭력적인 영상물을 시청한 시간이다.

13. 그림은 관료제와 탈관료제를 구분한 것이다. 이에 대한 설명으로 옳은 것은?



- ① (가)에는 ‘조직 구조의 경직성 정도’가 들어갈 수 있다.
- ② B는 보상 기준으로 실적보다 경력을 중시한다.
- ③ 정보 사회에서는 A가 B보다 더 적합하다.
- ④ A보다 B에서 업무 수행에 대한 구성원의 재량권이 더 작다.
- ⑤ B보다 A에서 구성원들의 능동적 참여와 토론이 더 활발하다.

14. 다음은 인터넷 게시판에서 발췌한 내용이다. 갑, 을에 대한 옳은 설명을 <보기>에서 고른 것은? [3점]

제목	한 번의 흡연으로 문제 학생이 되었어요.
사연	최근 어머니의 사업 실패로 부모님의 불화가 심해진 데다 여자 친구와 헤어졌어요. 이런 와중에 친구들의 권유로 담배를 피우다가 옆집 아저씨에게 걸렸어요. 아저씨는 저를 동네 사람들 앞에서 ‘문제 학생’이라며 큰 소리로 나무라셨어요. 이후 저는 동네에서 문제 학생으로 불리게 되었고, 말 그대로 문제 학생이 되었어요. ...(후략)...
댓글	갑: 나쁜 친구들과 어울리면서 담배를 피웠군요. 다시는 그 친구들을 만나지 마세요. 을: 주변 사람들의 평가에 따라서는 단 한 번의 흡연으로도 문제 학생이 될 수 있어요.

- <보 기>
- ㄱ. 갑은 일탈 행동의 원인을 일탈자와의 접촉에서 찾고 있다.
 - ㄴ. 을은 일탈 행동을 규정하는 기준이 상대적이라고 본다.
 - ㄷ. 갑과 을은 모두 재사회화를 통해 일탈 행동을 근절할 수 있다고 본다.
 - ㄹ. 갑은 을과 달리 미시적 관점에서 일탈 행동을 이해하고 있다.

- ① ㄱ, ㄴ ② ㄱ, ㄷ ③ ㄴ, ㄷ ④ ㄴ, ㄹ ⑤ ㄷ, ㄹ

15. 다음은 어느 학생의 필기 내용이다. 이에 대한 옳은 설명을 <보기>에서 고른 것은? [3점]

■ 학습 주제: A의 의미와 특성

1. 의미: 하나의 사회 단위 내에서 개인이나 집단이 상호 관계를 맺는 방식이 정형화되어 안정된 틀을 이루고 있는 상태

2. 특성

특성	내용
(가)	구성원이 바뀌어도 A의 기본적인 모습은 계속 유지됨
안정성	(나)
변동성	(다)

- <보 기>
- ㄱ. 사회 구성원들의 사고와 행동은 A의 제약을 받는다.
 - ㄴ. (가)가 강화될수록 A의 안정성은 약화될 것이다.
 - ㄷ. (나)에는 ‘사람들의 행동이 사회적으로 구조화되어 예측이 가능함’이 들어갈 수 있다.
 - ㄹ. ‘독일 통일로 구동독이 자본주의 체제로 바뀐 경우’는 (다)보다 (나)에 들어갈 사례로 적합하다.


- ① ㄱ, ㄴ ② ㄱ, ㄷ ③ ㄴ, ㄷ ④ ㄴ, ㄹ ⑤ ㄷ, ㄹ

4 사회탐구 영역(사회 · 문화)

16. 다음 사례에 나타난 연구자 갑의 문제점으로 가장 적절한 것은?

갑은 박사 학위 논문으로 청소년의 학교 폭력과 관련된 문제를 다루었다. 그는 어느 선행 연구자의 학위 논문에 수록된 내용의 일부를 출처도 밝히지 않은 채 자신의 논문에 그대로 옮겨 넣었다. 그 후 학교 폭력 문제에 대한 사회적 관심이 고조되면서 그의 논문 내용이 언론에 보도되었고, 원저자는 자신의 논문 내용을 표절했다고 갑에게 항의하였다.

- ① 비윤리적인 연구 주제를 선정하였다.
 - ② 개인적 목적으로 연구 결과를 왜곡하였다.
 - ③ 연구 결과가 사회에 미칠 과장을 고려하지 않았다.
 - ④ 연구 대상자의 동의를 받지 않고 연구를 진행하였다.
 - ⑤ 연구 과정에서 요구되는 윤리적 원칙을 지키지 않았다.
17. 그림의 학술 대회에서 나타나는 사회 과학 연구의 특징을 <보기>에서 고른 것은? [3점]



고령화에 대비한 노인 고용 활성화 대책

분야별 발표 주제

- 노인 고용의 국민 경제적 효과 분석
- 노인 고용 할당제 도입을 위한 법률적 검토
- 노인 고용 확대를 위한 기업 문화 정착 방안
- 취업 희망 노인에 대한 직업 교육 지원 방안

- <보 기>
- ㄱ. 다양한 학문의 관점에서 접근하고 있다.
 - ㄴ. 사회적 차원의 제도 개선을 경시하고 있다.
 - ㄷ. 사회 · 문화 현상의 복잡성을 전제하고 있다.
 - ㄹ. 학문의 현실적 유용성보다 순수성을 지향하고 있다.
- ① ㄱ, ㄴ ② ㄱ, ㄷ ③ ㄴ, ㄷ ④ ㄴ, ㄹ ⑤ ㄷ, ㄹ

18. 다음 글에 나타난 ‘개인과 사회의 관계를 바라보는 관점’에 부합하는 진술만을 <보기>에서 있는 대로 고른 것은? [3점]

사회적 총체를 언급하는 것은 본질적으로 개인들의 속성을 요약적으로 언급하는 일이다. 따라서 개인들의 속성은 사회적 총체를 남김없이 대체할 수 있다. 달리 말하면, ‘실재하는 것’은 관찰될 수 있는 것에 한정되며, 관찰될 수 있는 것은 개인들의 특징과 속성이다. 결국 사회적 총체는 구체적으로 관찰될 수 없기 때문에 이론적 편의성만을 갖는 허상에 불과하다.

- <보 기>
- ㄱ. 사회는 개인의 외부에 실제로 존재한다.
 - ㄴ. 국가는 시민의 자발적인 계약에 의한 산물이다.
 - ㄷ. 개인의 사고와 행위는 사회 구조에 의해 구속된다.
 - ㄹ. 사회 문제는 개인의 의식 개혁 없이 해결될 수 없다.
- ① ㄱ, ㄷ ② ㄱ, ㄹ ③ ㄴ, ㄹ ④ ㄱ, ㄴ, ㄷ ⑤ ㄴ, ㄷ, ㄹ

19. 표는 갑국의 20 ~ 50대 인구 중에서 5가지 집단에 가입한 사람의 비율을 나타낸 것이다. 이에 대한 옳은 분석만을 <보기>에서 있는 대로 고른 것은? (단, 2010년 갑국의 20 ~ 50대 인구는 2005년보다 증가하였다.) [3점]

(단위 : %)

구분	친목 단체	시민 단체	직장 내 동호회	정당	이익 집단
2005년	63.5	10.2	23.6	9.9	7.2
2010년	78.7	21.7	27.9	13.1	8.7
남자	81.0	15.7	33.1	8.3	11.1
여자	76.2	28.1	22.3	11.0	6.1

* 복수 응답 결과임
* 친목 단체 중에서 ‘직장 내 동호회’는 제외됨

- <보 기>
- ㄱ. 2005년 친목을 중시하는 집단보다 공익을 중시하는 집단에 가입한 사람이 더 많다.
 - ㄴ. 2010년 1개 이상의 집단에 가입한 사람의 비율은 최소 78.7%이다.
 - ㄷ. 2010년 비공식 조직으로 분류되는 집단에 가입한 사람의 비율은 여자가 남자보다 낮다.
 - ㄹ. 2005년 대비 2010년 가입자의 증가율이 가장 높은 집단은 친목 단체이다.

- ① ㄱ, ㄷ ② ㄱ, ㄹ ③ ㄴ, ㄷ
④ ㄱ, ㄴ, ㄹ ⑤ ㄴ, ㄷ, ㄹ
20. 다음은 어떤 관점에서 사회 · 문화 현상을 서술한 것이다. 이 관점에 부합하는 진술만을 <보기>에서 있는 대로 고른 것은?

A 기업 사장은 중국 시장 개척을 위해 과거와는 달리 중국어에 능통한 갑을 우선적으로 승진시키고, 더 많은 급여를 지급하였다. 그러자 지금까지 시간과 학원비를 평계로 중국어 학습을 등한시하던 직원들 사이에 중국어 강좌 수강 열풍이 불기 시작하였다. 이처럼 인간의 행위는 편익과 비용을 인지한 전략적 사고의 결과이다.

- <보 기>
- ㄱ. 개인의 행위는 합리적 선택의 결과이다.
 - ㄴ. 인간은 호혜성의 원리에 따라 이익을 교환한다.
 - ㄷ. 사회 갈등 구조는 특정 집단의 이해관계가 반영되어 고착화된다.
 - ㄹ. 개인의 특정 행위에 대해 보상이 주어질 때 그러한 행위는 촉진된다.

- ① ㄱ, ㄴ ② ㄱ, ㄹ ③ ㄴ, ㄷ
④ ㄱ, ㄴ, ㄹ ⑤ ㄴ, ㄷ, ㄹ
- ※ 확인 사항
○ 답안지의 해당란에 필요한 내용을 정확히 기입(표기)했는지 확인하십시오.