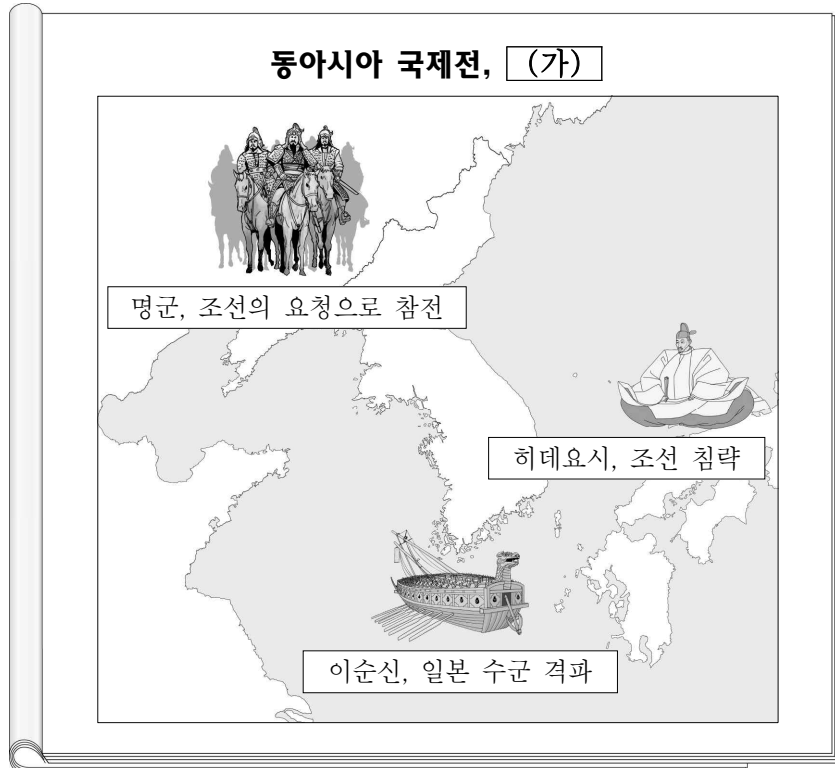


제 4 교시

사회탐구 영역(동아시아사)

성명		수험번호					2					제 () 선택
----	--	------	--	--	--	--	---	--	--	--	--	-------------

1. (가)에 들어갈 사건으로 옳은 것은?




- ① 임진왜란 ② 아편 전쟁
③ 오닌의 난 ④ 나·당 전쟁
⑤ 6·25 전쟁

2. (가)에 들어갈 내용으로 가장 적절한 것은? [3점]

[동아시아사 수행평가 - 동아시아의 문화유산 조사]

2학년 ○반 ○○번 이름 ○○○

1. 대상: 원강 석굴 20굴 대불
2. 위치: 중국 산시성 다통 부근
3. 특징: 북위 때 조성된 것으로 황제의 얼굴을 본떠 제작되었다고 함. 대불을 포함한 원강 석굴은 2001년에 유네스코 세계 문화유산으로 지정됨.
4. 제작 이유: (가) 위해서



- ① 군주의 권위를 높이기
- ② 과거제를 원활하게 시행하기
- ③ 현장의 인도 순례를 기념하기
- ④ 몽골의 침공으로부터 국가를 지키기
- ⑤ 도왜(도래)인이 선진 문화를 전파하기

3. (가)에 들어갈 내용으로 가장 적절한 것은? [3점]

- ① 불교의 수용과 교류
- ② 교역망의 발달과 은 유통
- ③ 울령 체제의 성립과 전파
- ④ 일본의 침략 정책과 제국주의화
- ⑤ 사회주의 국가들의 경제 개발 정책

4. (가) 인물에 대한 설명으로 옳은 것은?

진(秦)의 [가]은/는 만리장성을 건설하고 아방궁을 축조하는 등의 사업에 대략 300만 명 정도의 인력을 동원하였다. 동원된 사람들은 자비로 생활해야 했으며, 노역 기간에도 각종 세금을 납부해야 했다.

- ① 훈민정음을 창제하였다.
- ② 위화도 회군으로 집권하였다.
- ③ 황제라는 칭호를 처음으로 사용하였다.
- ④ 후한 광무제에게 조공하여 금 도장을 받았다.
- ⑤ 유목 민족의 공격을 받아 낙읍(류양)으로 천도하였다.

5. (가) 유적에서 발견된 문화유산으로 옳은 것은?



- ① 고인돌 ② 갑골문
③ 무령왕릉 ④ 조몬 토기
⑤ 직지심체요절

6. 밑줄 친 ‘이 막부’ 시기 동아시아에서 있었던 사실로 옳은 것은?
[3점]



이 그림은 채색 목판화로 제작되는 우키요에입니다. 우키요에는 이 막부 시기의 조닌 문화를 대표합니다. 또한 이 시기에는 전국의 다이묘들이 에도에 주기적으로 왕래하면서 에도가 상업 도시로 성장하였습니다.

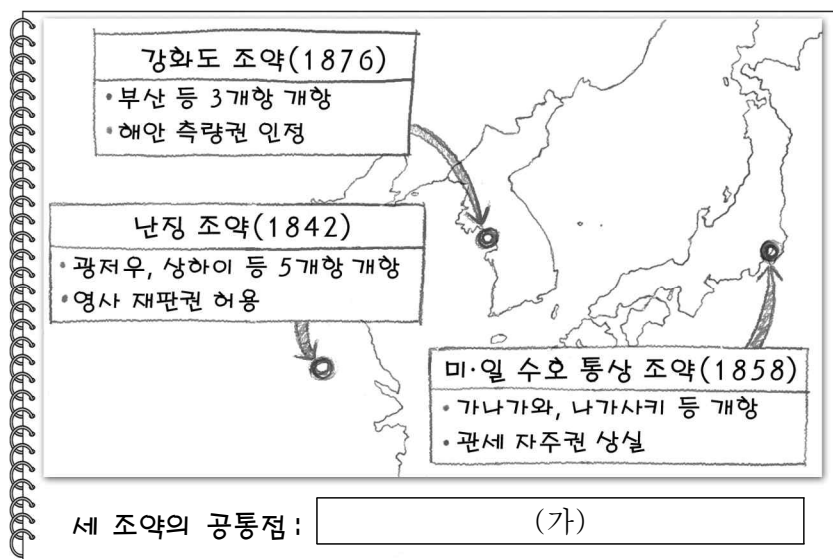
- ① 고려가 멸망하였다.
- ② 항우와 유방이 대결하였다.
- ③ 법흥왕이 불교를 공인하였다.
- ④ 사마천이 사기를 편찬하였다.
- ⑤ 산킨코타이 제도가 실시되었다.

7. (가)에 들어갈 국가로 옳은 것은?

한은 고조가 평성에서 치욕을 당한 이후 공주를 선우에게 시집보내는 등 유목 국가인 (가)에 화친책을 펼쳤다. 그러나 한 무제는 (가)을/를 견제하기 위해 장건을 파견하여 대월지와 동맹을 모색하기도 하였다.

- ① 신라 ② 흉노 ③ 부여 ④ 가야 ⑤ 류큐

8. (가)에 들어갈 내용으로 가장 적절한 것은?




- ① 외교권을 빼앗김.
- ② 영토 할양을 규정함.
- ③ 강요로 맺은 불평등 조약임.
- ④ 서양 국가와 체결한 조약임.
- ⑤ 크리스티교의 포교를 허용함.

9. 밑줄 친 ‘이 왕조’에 대한 설명으로 옳은 것은? [3점]

이 왕조는 평화 유지의 대가로 거란, 서하에게 비단, 은 등 많은 물자를 제공해야 했습니다.

부국강병을 위한 왕안석의 신법마저 보수파의 반발로 좌절되면서 상황은 더욱 어려워졌습니다.



- ① 쇼군이 통치하였다.
- ② 견당사를 파견하였다.
- ③ 헤이안교를 건설하였다.
- ④ 한양을 수도로 정하였다.
- ⑤ 문치주의 정책을 실시하였다.

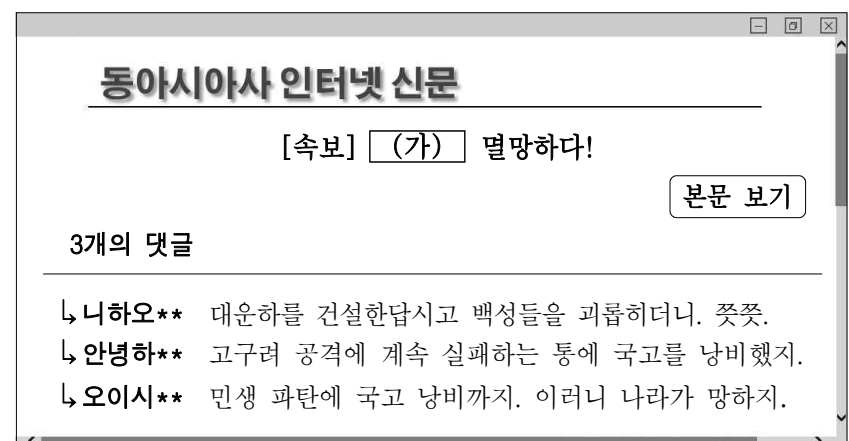
10. 밑줄 친 ㉠을 확산하려는 노력으로 가장 적절한 것은? [3점]

육예(六藝)의 학문과 ㉠ 공자의 가르침에 속하지 않는 것은 모두 끊어 버림으로써 세상에 나오지 못하도록 해야 합니다. 그리하면 사악하고 편벽된 학설이 사라질 것입니다.

— 『한서』 중 「동중서전」 —

- ① 한국 - 청해진을 설치하였다.
- ② 한국 - 불국사를 건립하였다.
- ③ 중국 - 태학을 설립하였다.
- ④ 중국 - 시박사를 운영하였다.
- ⑤ 일본 - 신패를 발급하였다.

11. (가) 왕조에 대한 설명으로 옳은 것은?



- ① 조충을 도입하였다.
- ② 경복궁을 중건하였다.
- ③ 도다이사를 건립하였다.
- ④ 수원 화성을 축조하였다.
- ⑤ 중국의 남북조를 통일하였다.

12. 다음 자료를 활용한 탐구 주제로 가장 적절한 것은? [3점]

중국 국민당
제2차 전국 대표 대회
초청장



○ 기간: 1926.01.04. ~ 01.19.
○ 장소: 중국 광저우

여운형, 호찌민 선생께

이번 대회의 목적은 쑨원 선생의 유지를 받들어 다음을 결의하는 것입니다.

1. 제국주의와 군벌의 타도
2. 공산당원 입당 허용 유지
3. 소련과의 연대 지속


이번 대회의 목적에 적합한 연설을 부탁드립니다.

- ① 대월사기의 의의
- ② 갑신정변의 영향
- ③ 감합 무역의 배경
- ④ 포츠머스 조약의 내용
- ⑤ 제1차 국·공 합작의 전개

13. (가) 인물에 대한 설명으로 옳은 것은?

빅 데이터로 본 (가)

최근 한 달간 ○○시 고등학생들이 인터넷에서 찾아본 (가) 연관 검색어를 빅 데이터 기법으로 시각화하였습니다.



- ① 연행사를 파견하였다.
- ② 데지마를 조성하였다.
- ③ 아스카 문화를 후원하였다.
- ④ 일본을 두 차례 공격하였다.
- ⑤ 광개토 대왕릉비를 건립하였다.

14. (가)에 들어갈 내용으로 가장 적절한 것은?



한국, 중국, 일본의 교통 표지판이다. 그 나라 말을 모르더라도 한자를 알면 세 나라의 사람들은 이러한 표지판을 이해할 수 있다. 이런 현상에는 당나라 때 (가)의 성립이라는 역사적 배경이 있다.

- ① 천명사상
- ② 서민 문화
- ③ 사회 진화론
- ④ 동아시아 문화권
- ⑤ 근대적 시간 관념

15. (가)에 들어갈 사건으로 옳은 것은?

이 영화는 청의 마지막 황제인 선통제의 삶을 보여 주는 영화입니다. 그는 (가) (으)로 중화민국이 탄생하고 청 왕조가 몰락하면서 황제 자리에서 물러났습니다.



- ① 인조반정
- ② 신해혁명
- ③ 임오군란
- ④ 갑오개혁
- ⑤ 동유 운동

16. (가) 전쟁이 종결되면서 나타난 사실로 옳은 것은? [3점]

○○○○ 중공업 나가사키 조선소 주요 연혁

창업 시기 (가) 시기 현재

일본의 진주만 공격으로 시작된 (가) 당시에 나가사키 조선소는 일본 해군의 주문에 따라 다량의 선박을 제작하였다.

연월	주요 내용
1941.12.	일본 해군이 미국 하와이의 진주만을 공격함.
1942.08.	대형 전함 무사시[武蔵]를 건조함.
1945.03.	미군의 공습으로 일부 공장이 파괴됨.
1945.08.	강제 징용된 한국인 일부가 원자 폭탄 투하로 사망함.

- ① 한국이 광복을 맞았다.
- ② 3·1 운동이 일어났다.
- ③ 메이지 유신이 추진되었다.
- ④ 의화단 운동이 발생하였다.
- ⑤ 시모노세키 조약이 체결되었다.

17. (가) 왕조에 대한 설명으로 옳은 것은? [3점]


○ ○
그림과 사료로 보는 동아시아사 학습지

No.5	만주족이 세운 (가) 은/는 다수의 한족을 효율적으로 다스리기 위해 강압책과 회유책을 펼쳤다.
------	--


강압책

회유책

10일 이내에 변발하라. 따르는 자는 우리 백성으로 간주하고 거역하면 엄벌에 처할 것이다.




내각대학사는 만주인, 한인 각 2인으로 한다. 만주인 1품, 한인 2품이었으나 모두 2품으로 한다.



- ① 신라방을 세웠다.
- ② 발해를 정복하였다.
- ③ 막번 체제를 확립하였다.
- ④ 정화의 향해를 추진하였다.
- ⑤ 조선을 공격하여 군신 관계를 맺었다.

18. 밑줄 친 ‘이 전쟁’ 당시 동아시아의 모습으로 가장 적절한 것은? [3점]

쌍용호의 베트남 난민 구조 보고서

1. 난민 발생 배경
파리 평화 협정에 따라 미군이 철수한 후 북베트남군과 남베트남 민족 해방 전선의 공격으로 남베트남의 수도 사이공이 함락되면서 이 전쟁은 종결됨. 이 과정에서 남베트남을 떠나는 난민이 발생함.
2. 난민 발견 및 구조

쌍용호에 구조된 난민들

○○선박 소속 쌍용호가 이 전쟁 종결 직후 사이공 인근 해상에서 표류하는 난민 216명을 발견하여 구조함.

- ① 한국 - 전투병을 파견하였다.
- ② 한국 - 인천 상륙 작전을 전개하였다.
- ③ 중국 - 옌안까지 대장정을 감행하였다.
- ④ 중국 - 국민당이 타이완으로 밀려났다.
- ⑤ 일본 - 정한론이 대두하였다.

19. 다음 가상 인터뷰의 (가)에 들어갈 내용으로 가장 적절한 것은?

청을 적대시한 태평천국 운동을 진압하는 과정에서 어떤 점을 느꼈습니까?

서양 무기의 우수성을 절감했습니다. 중국이 자강하려면 서양의 과학 기술을 도입하기 위해 (가)




- ① 슈인장을 발행해야 합니다.
- ② 골품제를 실시해야 합니다.
- ③ 대동법을 시행해야 합니다.
- ④ 양무운동을 추진해야 합니다.
- ⑤ 다이카 개신을 단행해야 합니다.

20. 밑줄 친 ‘정책’에 대한 설명으로 옳은 것은? [3점]

특집 기획 기사

개혁·개방의 현장을 가다 - 상하이 푸둥[浦東] 지구
푸둥 지구 개발의 목적



푸둥 지구의 발전된 모습

덩샤오핑은 선전 경제특구에 이어 푸둥 지구를 개발하였다. 그는 푸둥 지구의 개발이 정책의 전국적 추진에 중요한 영향을 미친다고 보았다. 동시에 톈안먼 사건 이후에도 정책을 흔들림 없이 유지하겠다는 의지를 보여 주고자 하였다.

- ① 난학이 발달하는 계기가 되었다.
- ② 미·일 화친 조약 체결로 이어졌다.
- ③ 영국이 홍콩을 할양받는 결과를 낳았다.
- ④ 자본주의 시장 경제 요소를 도입하였다.
- ⑤ 곤여만국전도가 제작되는 배경이 되었다.

* 확인 사항

- 답안지의 해당란에 필요한 내용을 정확히 기입(표기)했는지 확인하십시오.