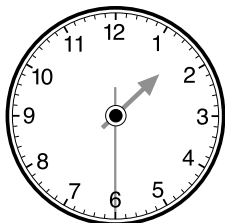
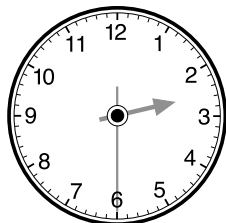
 시계와 글을 잘 보고, □안에 알맞은 시와 분을 써 보세요.



짧은 바늘이 1과  
2 사이에 있고,  
긴 바늘이 6을  
가리킵니다.

시

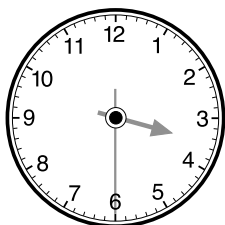
분



짧은 바늘이 2와  
3 사이에 있고,  
긴 바늘이 6을  
가리킵니다.

시

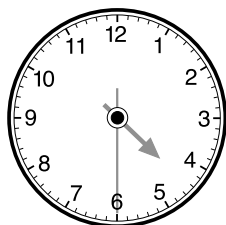
분



짧은 바늘이 3과  
4 사이에 있고,  
긴 바늘이 6을  
가리킵니다.

시

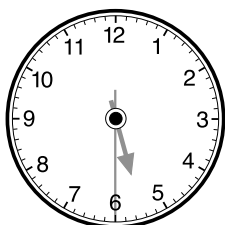
분



짧은 바늘이 4와  
5 사이에 있고,  
긴 바늘이 6을  
가리킵니다.

시

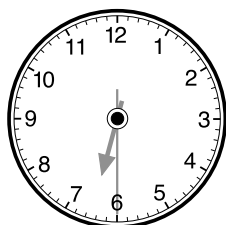
분



짧은 바늘이 5와  
6 사이에 있고,  
긴 바늘이 6을  
가리킵니다.

시


분

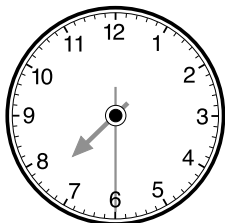


짧은 바늘이 6과  
7 사이에 있고,  
긴 바늘이 6을  
가리킵니다.

시

분

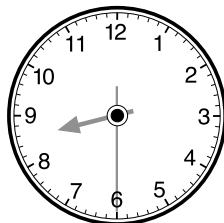
 시계와 글을 잘 보고, □안에 알맞은 시와 분을 써 보세요.



짧은 바늘이 7과  
8 사이에 있고,  
긴 바늘이 6을  
가리킵니다.

시

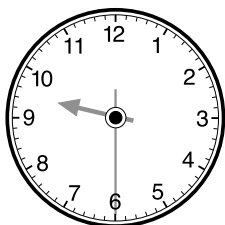
분



짧은 바늘이 8과  
9 사이에 있고,  
긴 바늘이 6을  
가리킵니다.

시

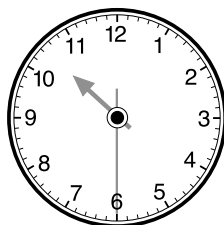
분



짧은 바늘이 9와  
10 사이에 있고,  
긴 바늘이 6을  
가리킵니다.

시

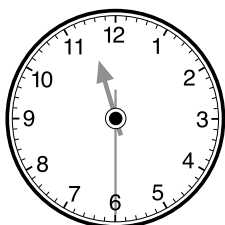
분



짧은 바늘이 10과  
11 사이에 있고,  
긴 바늘이 6을  
가리킵니다.

시

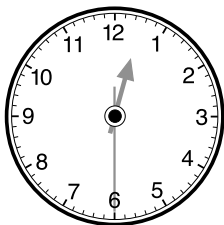
분



짧은 바늘이 11과  
12 사이에 있고,  
긴 바늘이 6을  
가리킵니다.

시


분

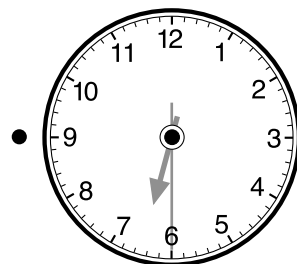
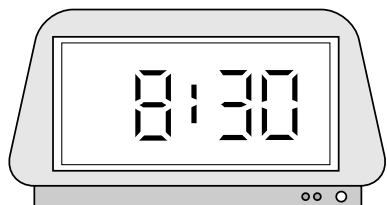
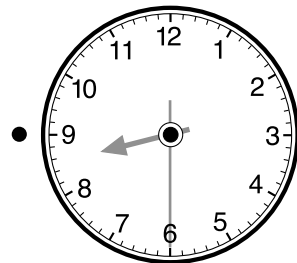
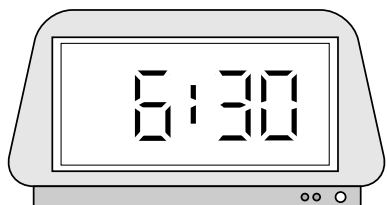
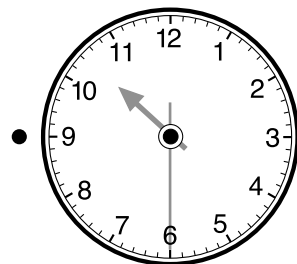
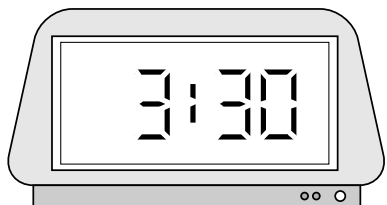
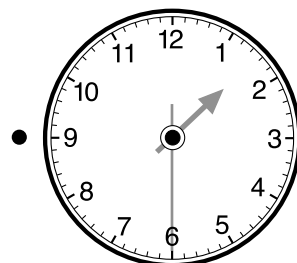
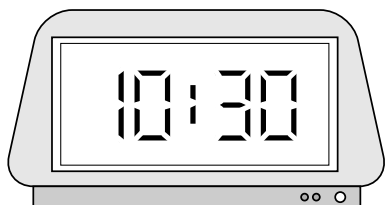
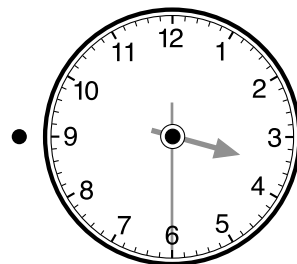
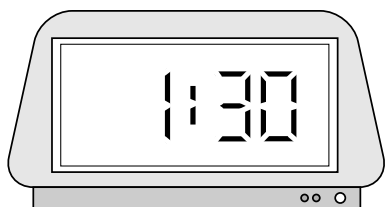



짧은 바늘이 12와  
1 사이에 있고,  
긴 바늘이 6을  
가리킵니다.

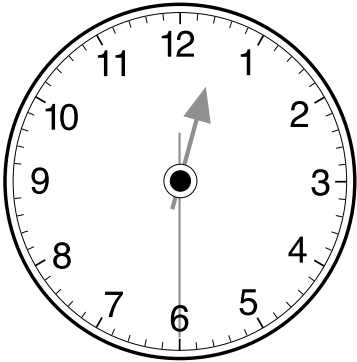
시

분

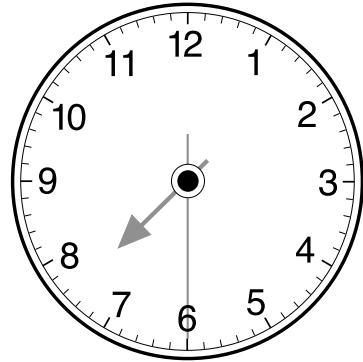
 왼쪽 시계와 같은 시각을 나타내는 시계를 찾아 선으로 이어 보세요.



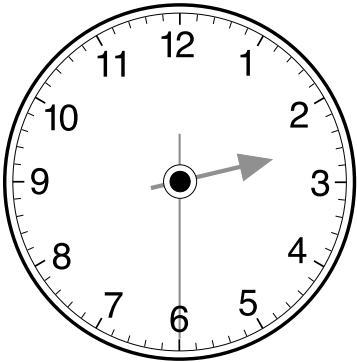
 다음 시계를 보고 몇 시 몇 분인지 써 보세요.



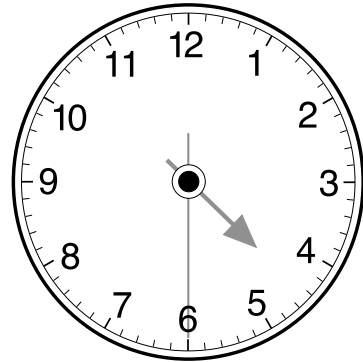
시  분



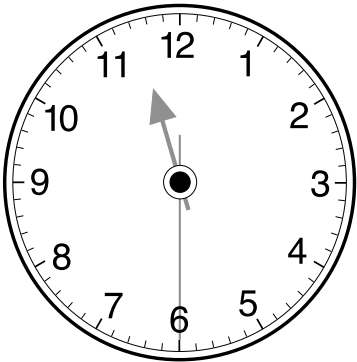
시  분



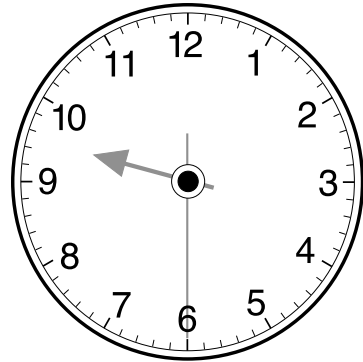
시  분




시  분



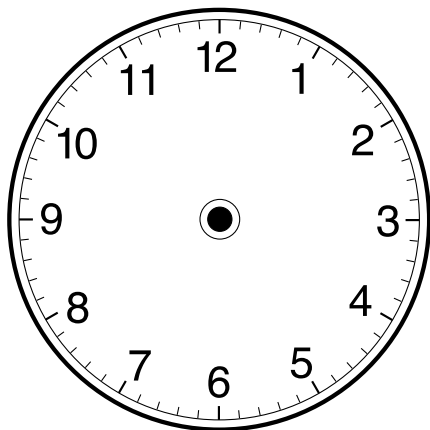
시  분



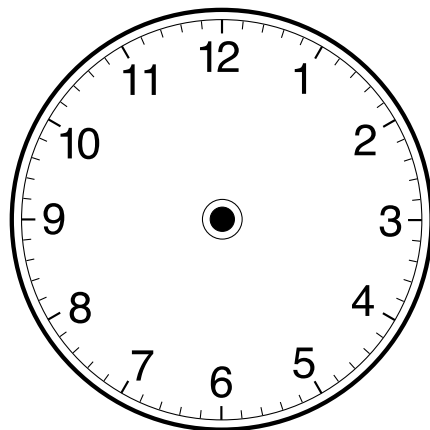
시  분

 다음 시각에 알맞도록 바늘을 그려 보세요.

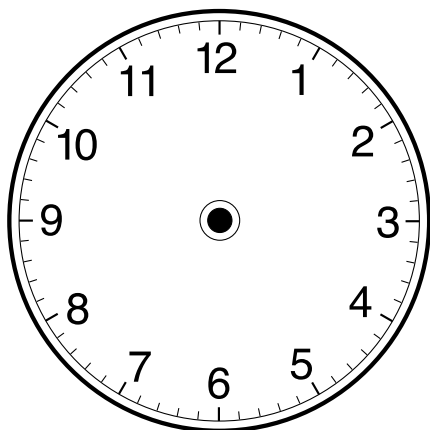
5시 30분



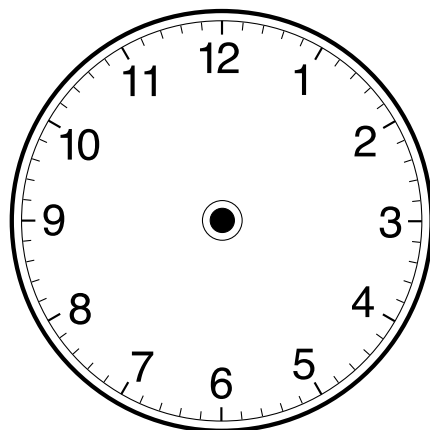
1시 30분



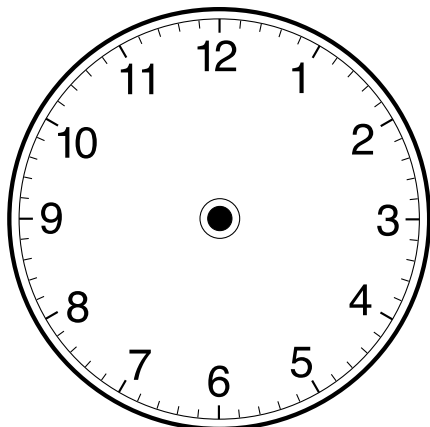
3시 30분



7시 30분



9시 30분



11시 30분

