


배움주제

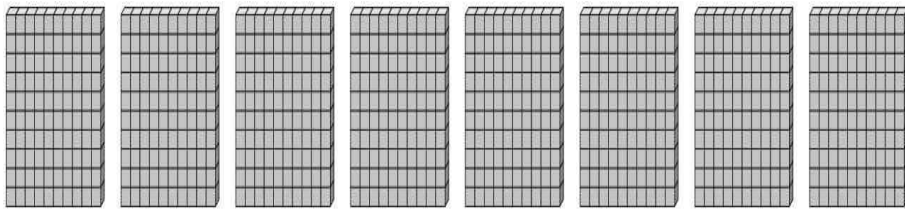
몇 백을 알아볼까요

2학년 반 이름: _____


이렇게
공부해요!


- ① 오늘 공부한 내용을 떠올려 보세요.
- ② 아래 문제를 꼼꼼히 읽고 풀어보세요.

 문제 1. 그림에 알맞은 수를 쓰고, 어떻게 읽는지 써 보세요.




쓰기 (), 읽기 ()

 문제 2. 그림을 보고 모두 얼마인지 써 보세요.



()원

 문제 3. 관계있는 것끼리 선으로 이으세요.

- | | | |
|-------------|---|---------|
| ① 오백 | • | • ㉠ 300 |
| ② 100이 3인 수 | • | • ㉡ 900 |
| ③ 10이 90인 수 | • | • ㉢ 500 |

배움주제

세 자리 수를 알아볼까요

2학년 반 이름: _____

이렇게
공부해요!

- ① 오늘 공부한 내용을 떠올려 보세요.
- ② 아래 문제를 꼼꼼히 읽고 풀어보세요.

문제 1. 숫자로 써 보세요.

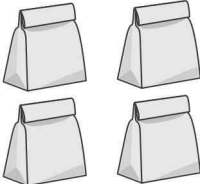


구백사십오

()

문제 2. □ 안에 알맞은 수를 써넣으세요.

752	{	100이	<input type="text"/>
		10이	<input type="text"/>
		1이	<input type="text"/>

문제 3. 예준이는 콩을 세어 봉지에 담았습니다. 콩은 모두 몇 개입니까?

100개씩	10개씩	날개
		
() 개		

<출처: 수학 2-1 전자저작물>


배움주제

각 자리의 숫자는 얼마를 나타낼까요

2학년 반 이름: _____

이렇게
공부해요!


- ① 오늘 공부한 내용을 떠올려 보세요.
- ② 아래 문제를 꼼꼼히 읽고 풀어보세요.

 문제 1. **보기**와 같이 덧셈식으로 나타내세요.


보기

$$508 = 500 + 8$$


$$707 = \square + \square$$

 문제 2. 986에서 9가 나타내는 값은 얼마입니까?

()

 문제 3. 854에서 5가 나타내는 값은 얼마입니까?

()

 문제 4. 백의 자리 숫자가 7인 수를 모두 찾아 기호를 쓰세요.

- | | | |
|-------|-------|-------|
| ㉠ 307 | ㉡ 173 | ㉢ 726 |
| ㉣ 475 | ㉤ 721 | |

()

<출처: 수학 2-1 전자저작물>