





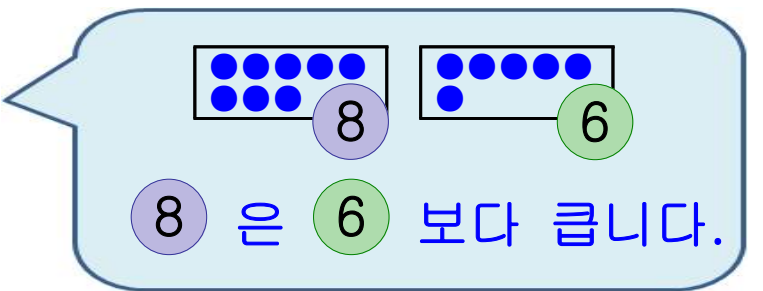
2. 두 수의 크기 비교하기

◎ 두 수의 크기를 비교할 때

‘는 보다 큼니다.’

‘는 보다 작습니다.’

를 사용하여 나타냅니다.



<연습문제>

(1) 수에 맞게 ○를 그리고 두 수의 크기를 비교해 보시오.

1)

7

--	--	--	--	--	--	--	--	--

9

--	--	--	--	--	--	--	--	--

· 7은 9보다 (큼니다, 작습니다).

2)

8

--	--	--	--	--	--	--	--	--

5

--	--	--	--	--	--	--	--	--

· 8은 5보다 (큼니다, 작습니다).

(2) 두 수를 비교하여 더 작은 수에 ○ 표 하시오.

1)

7

6

() ()

2)

8

9

() ()

(3) 두 수를 비교하여 더 큰 수에 ○ 표 하시오.

1)

5

8

() ()

2)

6

4

() ()