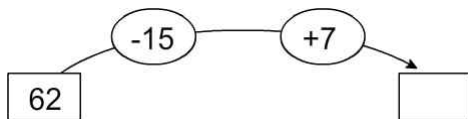


1 □ 안에 알맞은 수를 써넣으세요.

(1)  $13 + 28 - 27 = \square - 27$   
 $= \square$

(2)  $47 - (19 + 16) = 47 - \square$   
 $= \square$

2 빈 곳에 알맞은 수를 써넣으세요.



3 버스에 승객이 26명 있었습니다. 이번 정류장에서 7명이 내리고 12명이 더 탔다면 지금 버스에 있는 승객은 몇 명인가요? ..... ( )

- ① 21명      ② 24명      ③ 31명  
 ④ 33명      ⑤ 35명

4 계산을 하세요.

- (1)  $96 \div 12 \times 4$   
 (2)  $96 \div (12 \times 4)$

5 두 식의 계산 결과의 차는 얼마인가요? ( )

$21 \div 3 \times 5$	$4 \times 10 \div 8$
----------------------	----------------------

- ① 29      ② 30      ③ 31  
 ④ 32      ⑤ 33

6 호연이가 설명하고 있는 수는 얼마인가요?  
 ..... ( )



- ① 15      ② 18      ③ 21  
 ④ 24      ⑤ 27

7 수정이네 반 28명의 학생들은 7명씩 모둠을 만들어 쓰레기 줍기를 하였습니다. 한 모둠당 쓰레기 봉투를 2장씩 받았을 때 나누어 준 쓰레기 봉투는 모두 몇 장인지 풀이 과정을 쓰고 답을 구하세요.

<풀이 과정> \_\_\_\_\_

<답> \_\_\_\_\_

8 계산 결과가 3인 식을 찾아 기호를 쓰세요.

- |                            |
|----------------------------|
| ㉠ $75 - 12 \times (2 + 4)$ |
| ㉡ $75 - 12 \times 2 + 4$   |

( )

9 계산 결과를 찾아 선으로 이어 보세요.

$9 + 3 \times 6 - 5$	•	•	12
$(9 + 3) \times 6 - 5$	•	•	22
$9 + 3 \times (6 - 5)$	•	•	67

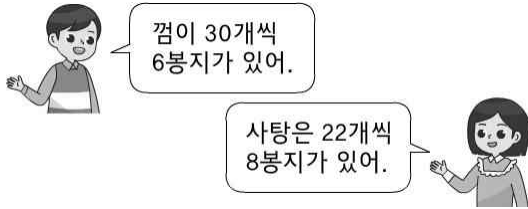
10 문제를 식으로 바르게 나타낸 것의 기호를 쓰세요.

귤 30개 중에서 민수네 가족 3명과 지호네 가족 4명에게 각각 2개씩 나누어 주고 남은 귤은 몇 개인가요?

- |                                  |                              |
|----------------------------------|------------------------------|
| ㉠ $30 - 3 \times 4 \times 2$     | ㉡ $30 \times 3 + 4 \times 2$ |
| ㉢ $30 - 3 \times 2 + 4 \times 2$ | ㉣ $30 - (3 + 4) \times 2$    |

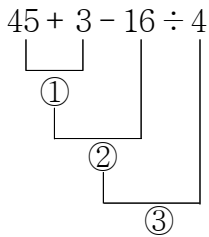
( )

11 껌은 사탕보다 몇 개 더 많은가요? .. ( )

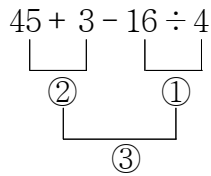


- ① 4개      ② 6개      ③ 8개  
④ 10개    ⑤ 12개

12 계산 순서를 바르게 나타낸 쪽에 ○표 하세요.



( )



( )

13 계산을 하세요.

- (1)  $63 \div (12 - 5) + 12$   
(2)  $(16 + 23) \div (10 - 7)$

14 □ 안에 들어갈 수 있는 가장 작은 자연수는 얼마인지 풀이 과정을 쓰고 답을 구하세요.

$$7 + (16 + 56) \div 8 - 10 < \square$$

<풀이 과정> \_\_\_\_\_

<답> \_\_\_\_\_

15 무게가 같은 고구마 2개의 무게는 150 g, 감자 1개의 무게는 68 g, 무게가 같은 당근 3개의 무게는 255 g입니다. 고구마 한 개와 감자 한 개의 무게의 합은 당근 한 개의 무게보다 몇 g 더 무거운가요? .. ( )

- ① 57 g      ② 58 g      ③ 59 g  
④ 60 g      ⑤ 61 g

16 계산 순서에 맞게 □ 안에 차례로 숫자를 써넣으세요.

$$45 \div 3 + (16 - 5) \times 7$$

17 계산 결과를 찾아 선으로 이어 보세요.

$$92 - (4 + 5) \times 7$$

$$3 \times (36 \div 4) + 18$$

29

36

45

18 계산 결과가 가장 큰 식의 기호를 찾으려고 합니다. 풀이 과정을 쓰고 답을 구하세요.

$$\textcircled{A} 5 \times (12 \div 4) - 8$$

$$\textcircled{B} 32 + (17 - 8) \times 2 - 21$$

$$\textcircled{C} 27 + 10 \times 3 \div 6$$

<풀이 과정> \_\_\_\_\_

<답> \_\_\_\_\_

19 계산 결과가 가장 크게 되도록 ( )로 알맞게 묶어 보세요.

$$8 + 12 \times 6 \div 2 - 3$$

20 세진이는 초콜릿 30개를 가지고 있었습니다. 친구 3명에게 6개씩 나누어 주고, 나머지는 동생과 똑같이 나누어 먹었다면, 세진이가 먹은 초콜릿은 몇 개인가요? ..... ( )

- ① 3개      ② 4개      ③ 5개  
④ 6개      ⑤ 7개

보호자 확인♥