



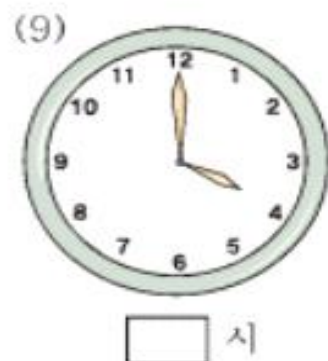
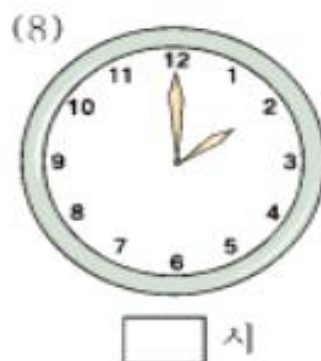
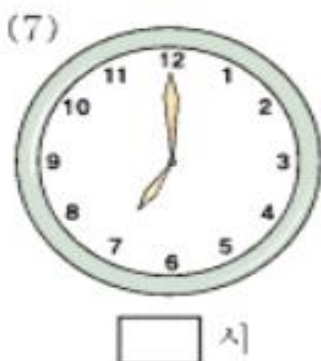
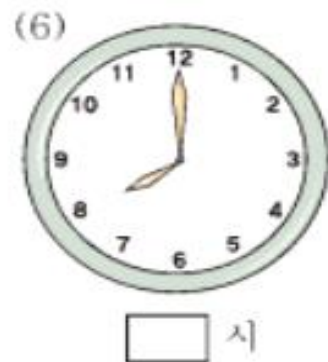
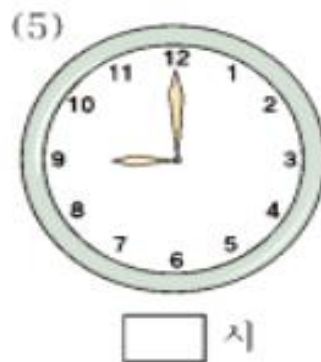
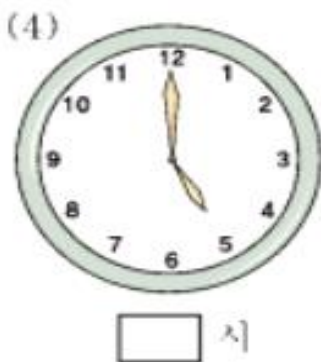
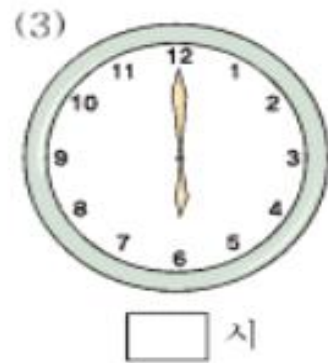

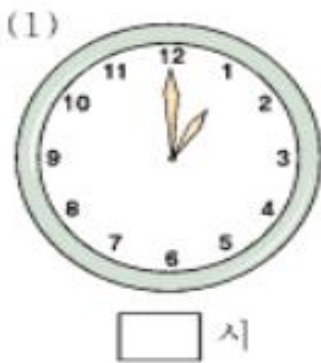
시계 1

전주우전초등학교

개별 학습반 월 일 이름 :



시계를 보고 몇 시인지 □안에 알맞은 수를 써 보세요.





시계 2

전주우전초등학교

개별학습반 월 일 이름 :



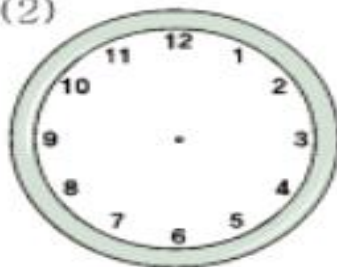
다음 시각에 알맞게 시계의 바늘을 그려
넣으세요.

(1)



6 시

(2)



8 시

(3)



12 시

(4)



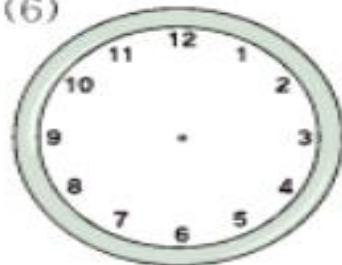
10 시

(5)



3 시

(6)



5 시

(7)



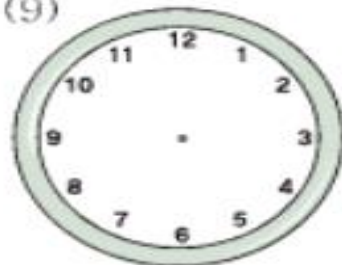
9 시

(8)



2 시

(9)



8 시



시계 3

전주우전초등학교

개별학습반

월

일

이름 :




시계를 보고 몇 시 몇 분이지 □안에
시각을 써 넣으세요.

(1)



□ 시 □ 분

(2)



□ 시 □ 분

(3)



□ 시 □ 분

(4)



□ 시 □ 분

(5)



□ 시 □ 분

(6)




□ 시 □ 분

(7)



□ 시 □ 분

(8)



□ 시 □ 분

(9)



□ 시 □ 분



시계 보기 4

전주우전초등학교

개별학습반

월

일

이름 :



시계를 보고 몇 시 몇 분이지 시각을
써 넣으세요.

(1)



시 분

(2)



시 분

(3)



시 분

(4)



시 분

(5)



시 분

(6)



시 분

(7)



시 분

(8)



시 분

(9)



시 분



나의 하루 5

전주우전초등학교

개별학습반

월

일

이름 :



나의 하루 생활을 시각과 그림으로
나타내어 보세요.



시각:



시각:



시각:



시각:



시각:




시각:




시각과 시간 알아보기 6

전주우전초등학교 개별 학습반 월 일 이름 :

 빈 칸에 알맞은 수를 써 넣으시오.

- 80분은 시간 분입니다.
- 120분은 시간입니다.
- 100분은 시간 분입니다.
- 2시간 30분은 분입니다.
- 3시간은 분입니다.


 시계를 보고 □ 안에 알맞은 수를 넣으시오.



지금 시각은 ____ 시 ____ 분입니다.
또는
지금 시각은 ____ 시 ____ 분 전입니다.



지금 시각은 ____ 시 ____ 분입니다.
또는
지금 시각은 ____ 시 ____ 분 전입니다.

 순민이는 오후 9시 30분에 잠을 자기 시작해서 다음 날 오전 8시에 일어났습니다. 순민이가 잠을 잔 시간은 몇 시간 몇 분입니까?

_____ 시간 _____ 분

