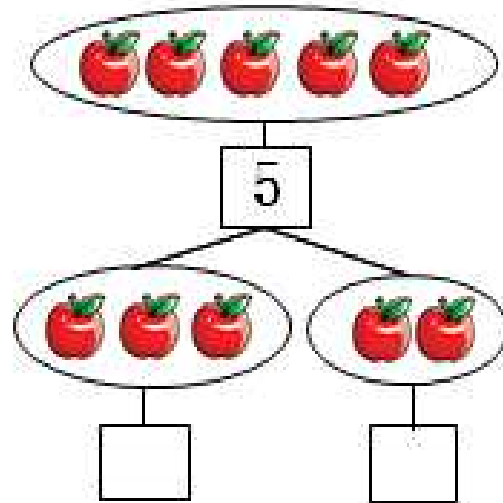
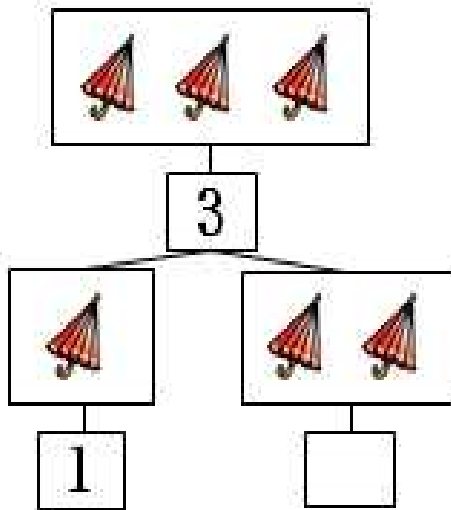




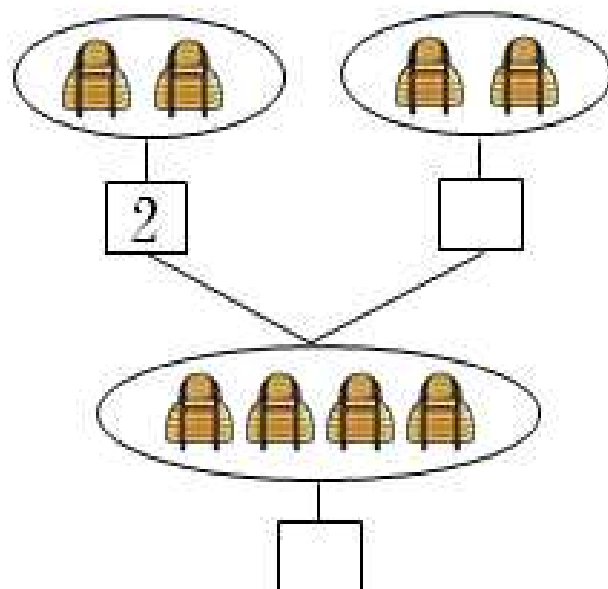
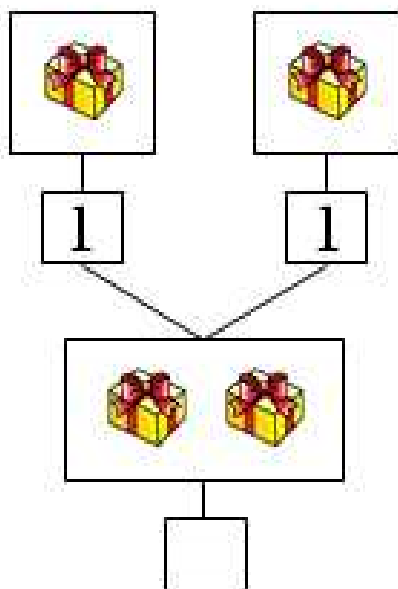
더하기 1

전주우전초등학교 개별학습반 월 일 이름 :

*그림을 보고 □안에 알맞은 수를 써 넣으세요.



2 그림을 보고 □안에 알맞은 수를 써 넣으시오.





더하기 2

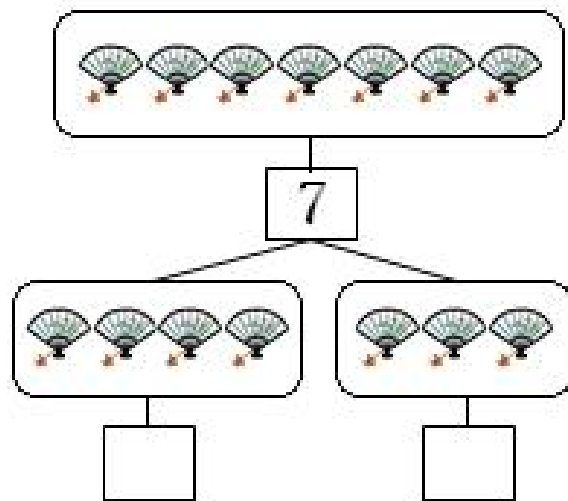
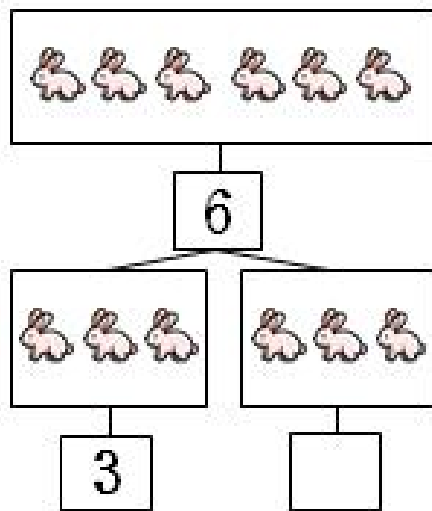
전주우전초등학교 개별학습반

월

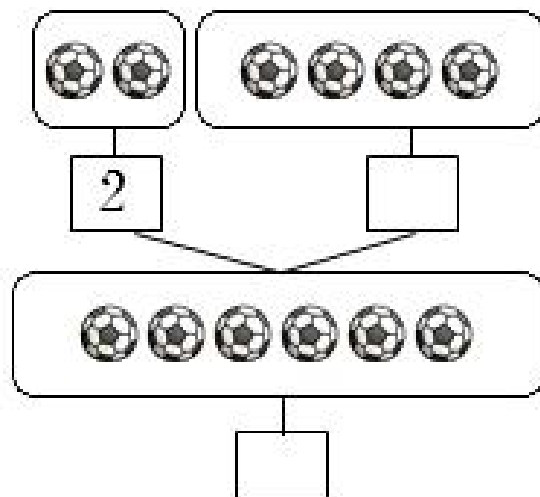
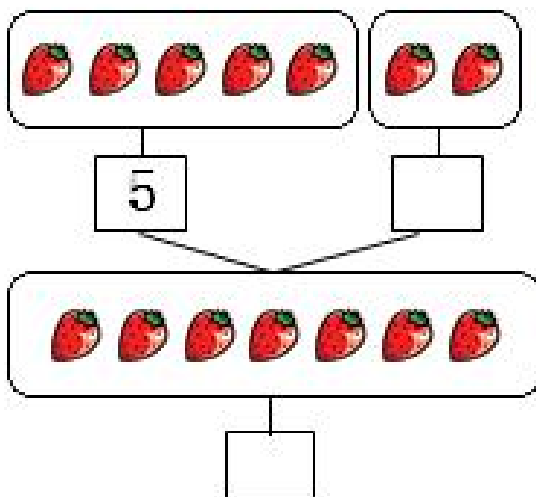
일

이름 :

*그림을 보고 □안에 알맞은 수를 써 넣으세요.



2 그림을 보고 □안에 알맞은 수를 써 넣으시오.

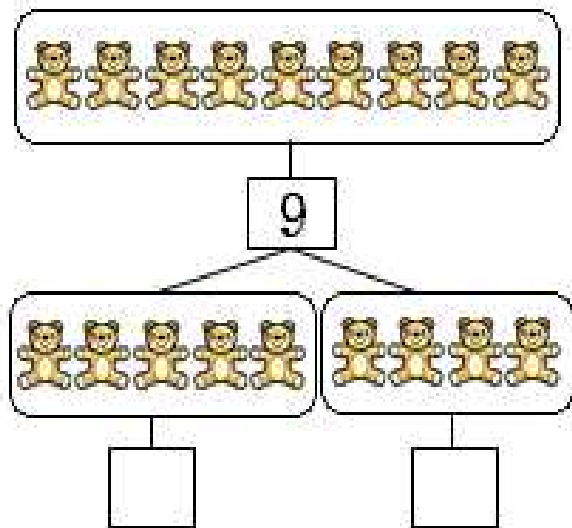
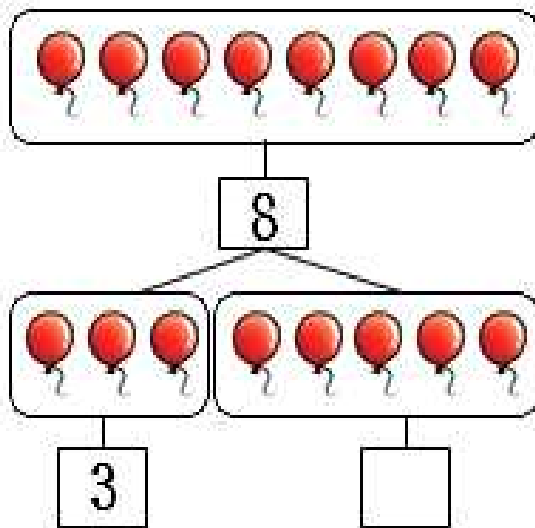




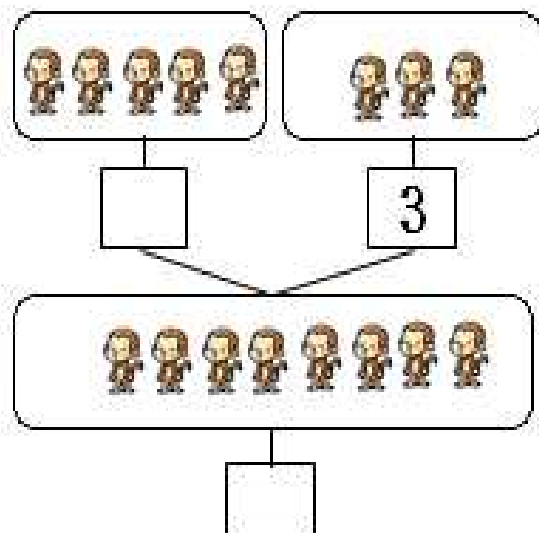
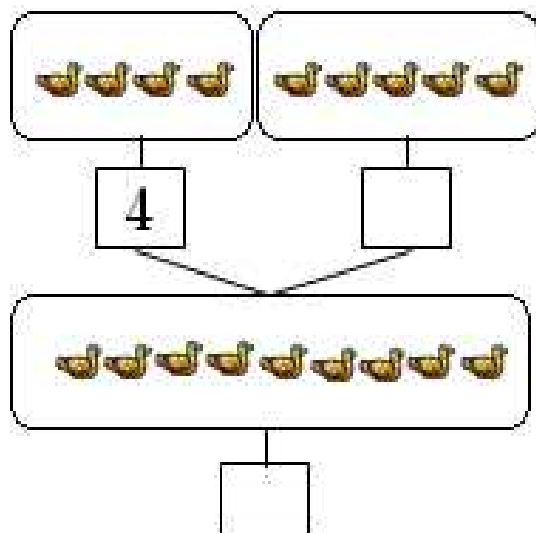
더하기 3

전주우전초등학교 개별학습반 월 일 이름 :

*그림을 보고 □안에 알맞은 수를 써 넣으세요.



2 그림을 보고 □안에 알맞은 수를 써 넣으시오.









더하기 4

전주우전초등학교 개별학습반 월 일 이름 :

* 그림을 보고 덧셈을 해 보세요.



$$2 + 1 = \square$$



$$3 + 1 = \square$$



더하기 5

전주우전초등학교 개별학습반 월 일 이름 :

* 덧셈을 해 보세요.

$$\begin{array}{ccccccc} 4 & + & 1 & = & \square \\ \bullet \bullet \bullet \bullet & & \bullet & & \bullet \bullet \bullet \bullet \bullet \end{array}$$

$$5 + 1 = \square$$

$$8 + 1 = \square$$

$$1 + 1 = \square$$

$$3 + 1 = \square$$

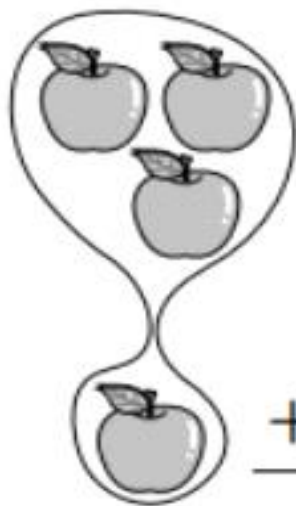
$$7 + 1 = \square$$



더하기 6

전주우전초등학교 개별학습반 월 일 이름 :

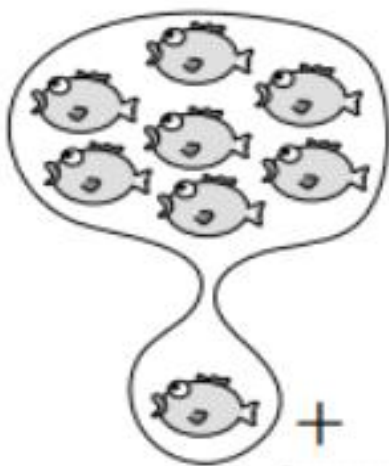
* 그림을 보고 덧셈을 해 보세요.



$$\begin{array}{r} 3 \\ + 1 \\ \hline \square \end{array}$$



$$\begin{array}{r} 4 \\ + 1 \\ \hline \square \end{array}$$



$$\begin{array}{r} 7 \\ + 1 \\ \hline \square \end{array}$$



$$\begin{array}{r} 1 \\ + 1 \\ \hline \square \end{array}$$



더하기 7

전주우전초등학교 개별학습반 월 일 이름 :

* 그림을 보고 덧셈을 해 보세요.

$$\begin{array}{r} 2 \\ + 1 \\ \hline \square \end{array}$$

● ●
●
● ● ●

$$\begin{array}{r} 4 \\ + 1 \\ \hline \square \end{array}$$

$$\begin{array}{r} 5 \\ + 1 \\ \hline \square \end{array}$$

$$\begin{array}{r} 3 \\ + 1 \\ \hline \square \end{array}$$

$$\begin{array}{r} 7 \\ + 1 \\ \hline \square \end{array}$$

$$\begin{array}{r} 1 \\ + 1 \\ \hline \square \end{array}$$

$$\begin{array}{r} 8 \\ + 1 \\ \hline \square \end{array}$$