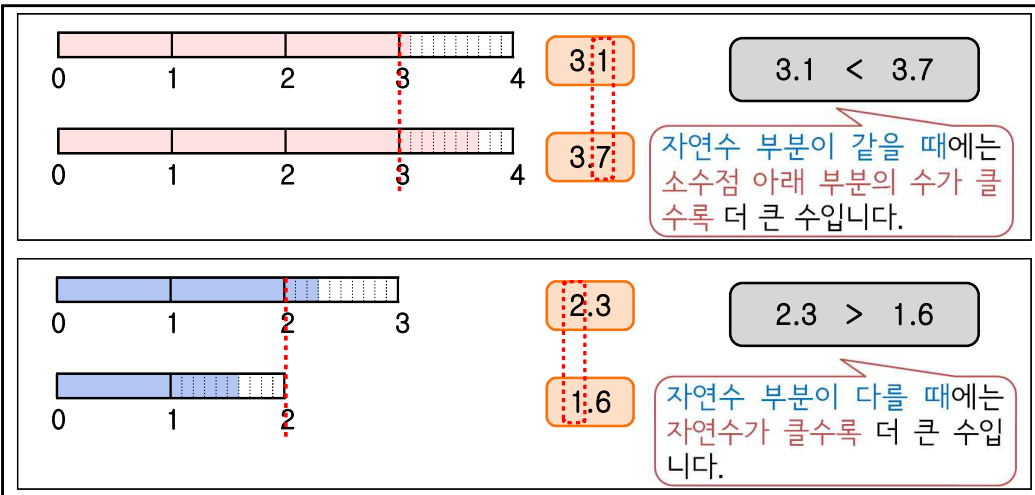
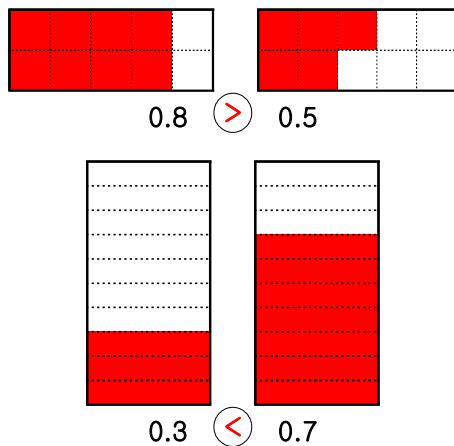
	수학 기초 학습		날짜: _____
	영역	분수와 소수	학년 반 번
	주제	소수의 크기 비교	이름: _____

1. 소수의 크기 비교



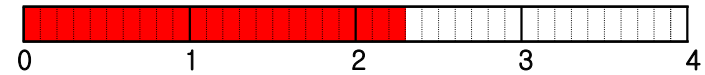
<연습문제>

(1) 소수의 크기만큼 색칠하고 비교하여 ○ 안에 >, <를 알맞게 써넣으시오.

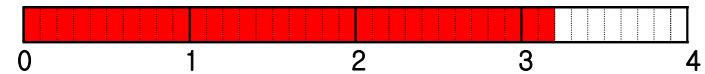


(2) 소수의 크기만큼 색칠하고 소수의 크기를 비교하여 ○ 안에 >, <를 알맞게 써넣으시오.

1) 2.3만큼 색칠하여 보시오.



2) 3.2만큼 색칠하여 보시오.



3) 2.3은 0.1이 23개이고 3.2는 0.1이 32개이므로

$$2.3 < 3.2$$

(3) 두 수의 크기를 비교하여 ○ 안에 >, <를 알맞게 써넣으시오.

1) 0.3 > 0.2

2) 0.5 < 0.7

3) 1.9 > 1.6

4) 3.4 < 3.8

5) 0.1이 4개인 수 < 0.7

6) 0.1이 5개인 수 > 0.1

7) 0.1이 15개인 수 < 0.1이 19개인 수

(4) 두 수의 크기를 비교하여 ○ 안에 >, <를 알맞게 써넣으시오.

1) 4.3 > 2.2

2) 1.5 < 2.7

3) 0.9 < 1.6

4) 5.4 > 2.8

5) 0.1이 40개인 수 > 3.7

6) 0.1이 25개인 수 < 3.1

7) 0.1이 35개인 수 > 0.1이 29개인 수

3) 1은 0.1이 10개입니다.

5) 0.1이 4개인 수는 0.4입니다.

7) 0.1이 15개인 수는 1.5입니다.

5) 0.1이 40개인 수는 4와 같습니다.