

단원평가

9월 25일 1교시

학교

학년

반

번

수학 2-2

1. 네 자리 수

이름

1. □ 안에 알맞은 수를 써넣으세요.

100이 10개이면 □ 입니다.

2. 수를 읽어 보세요.

4963

()

3. 같은 수끼리 선으로 이으세요.

육천 •

• 9000

삼천 •

• 6000

구천 •

• 3000

4. □ 안에 알맞은 수를 써넣으세요.

900보다 □ 큰 수는 1000입니다.

990보다 □ 큰 수는 1000입니다.

5. 수로 나타내어 보세요.

삼천이백육십팔

()

6. □ 안에 알맞은 수를 써넣으세요.

1000이 2개, 100이 7개, 1이 3개이면

□ 이라 씁니다.

7. 숫자 4가 나타내는 수가 가장 작은 수를 찾아 쓰세요.

4286

3854

2489

3547

()

8. 슬기는 문구점에 가서 1000원짜리 공책 6권과 10원짜리 클립 23개를 샀습니다. 슬기가 내야 하는 돈은 모두 얼마인지 쓰세요.

()원

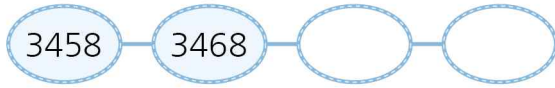
9. 4538에서 숫자 5는 어느 자리 숫자이며, 나타내는 수는 얼마인지 쓰세요.

()의 자리 숫자, ()

10. 1000장씩 들어 있는 색종이가 1묶음, 100장씩 들어 있는 색종이가 25묶음, 10장씩 들어 있는 색종이가 3묶음 있습니다. 색종이는 모두 몇 장인지 쓰세요.

()장

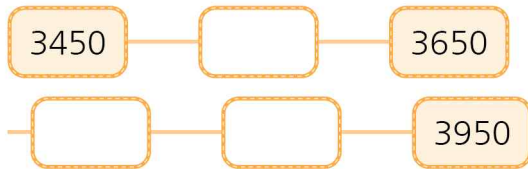
11. 뛰어 세는 규칙에 맞게 빈 곳에 알맞은 수를 써넣으세요.



12. 5108보다 크고 5113보다 작은 네 자리 수는 모두 몇 개인지 쓰세요.

()개

13. 100씩 뛰어서 세어 보세요.



14. 두 수의 크기를 비교하여 ○ 안에 >, <를 알맞게 써넣으세요.

9264 ○ 9268

15. 0부터 9까지의 숫자 중 □ 안에 들어갈 수 있는 숫자는 모두 몇 개인지 쓰세요.

5□27 > 5620

()

16. 올해 가을 수정이네 가족이 과수원에서 수확한 사과의 수는 6859개, 배의 수는 6799개입니다. 사과와 배 중 개수가 더 많은 것은 무엇인지 쓰세요.

()

17. 다음은 우리나라에 있는 산의 높이를 수로 나타낸 표입니다. 가장 높은 산의 이름을 쓰세요.

산	설악산	백두산	한라산	지리산
높이 (m)	1708	2744	1950	1915

()

18. 빈칸에 알맞은 수를 써넣으세요.

수	1 큰 수	10 큰 수	100 큰 수	1000 큰 수
5869				

19. 0, 2, 5, 7의 숫자 카드를 한 번씩 사용하여 네 자리 수를 만들 때, 만들 수 있는 두 번째로 큰 수를 쓰세요.

()

20. 다음 수 배열표를 보고 ㉠에 알맞은 수를 구하세요.

4000	4010	4020	4030	4040	4050
5000	5010	5020	5030	5040	5050
6000		㉠		6040	

()

단원평가

[기본형]①

정답지

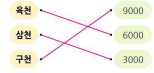
학교

학년 반 번

수학 2-2

1. 네 자리 수

이름

문항 번호	성취기준	문항내용	정답	난이도	비고
1	[2수01-02] 일, 십, 백, 천의 자릿값과 위치적 기수법을 이해하고, 네 자리 수 이하의 수를 읽고 쓸 수 있다. [2수01-03] 네 자리 이하의 수의 범위에서 수의 계열을 이해하고, 수의 크기를 비교할 수 있다.	천을 이해하고 쓰기	1000	하	
2		네 자리 수 읽기	사천구백육십삼	하	
3		몇 천을 이해하고 쓰고 읽기		하	
4		천을 이해하기	100,10	하	
5		네 자리 수 읽기	3268	하	
6		네 자리 수의 자리와 자릿값 이해하기	2703	중	
7		네 자리 수의 자리와 자릿값 이해하기	3854	하	
8		네 자리 수의 자리와 자릿값 이해하기	6230	중	
9		네 자리 수의 자리와 자릿값 이해하기	백, 500	하	
10		네 자리 수의 자리와 자릿값 이해하기	3530	중	
11		네 자리 수의 계열을 알고 뛰어 세기	3478,3488	하	
12		네 자리 수의 계열을 알고 뛰어 세기	4	중	
13		네 자리 수의 계열을 알고 뛰어 세기	3550, 3750, 3850	하	
14		네 자리 수의 크기를 비교하기	<	하	
15		네 자리 수의 크기를 비교하기	4	상	
16		네 자리 수의 크기를 비교하기	사과	중	
17		네 자리 수의 크기를 비교하기	백두산	중	
18		네 자리 수의 계열을 알고 뛰어 세기	5870, 5879, 5969, 6869	중	
19		네 자리 수의 크기를 비교하기	7502	상	
20		네 자리 수의 계열을 알고 뛰어 세기	6020	중	