

# 1단원. 촌락과 도시의 생활 모습

## 1. 촌락과 도시의 특징

도시의 특징을  
알아볼까요

교과서 18~22쪽

지난 시간 내용 떠올리기

교과서 11~17쪽

지난 시간에 배운 내용을 떠올려 봅시다.

춘락의 종류에  
는  
무엇이 있었나  
요?



지난 시간 내용 떠올리기

교과서 11~17쪽

지난 시간에 배운 내용을 떠올려 봅시다.



농촌



어촌



산지촌

지난 시간 내용 떠올리기

교과서 11~17쪽

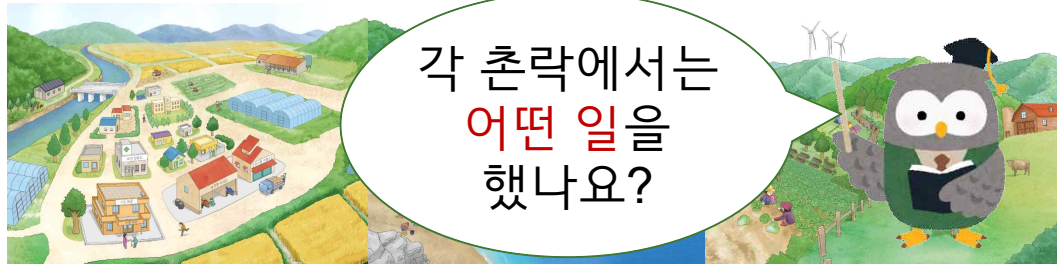
지난 시간에 배운 내용을 떠올려 봅시다.

각 촌락에서는  
어떤 일을  
했나요?

농촌

어촌

산지촌



지난 시간 내용 떠올리기

교과서 11~17쪽

지난 시간에 배운 내용을 떠올려 봅시다.



농촌

논과 밭에서 곡식이  
나 채소를 기르는

농업

지난 시간 내용 떠올리기

교과서 11~17쪽

지난 시간에 배운 내용을 떠올려 봅시다.

바다에서 물고기를  
잡거나 김과 미  
역을 양식하는 어  
업



어촌

지난 시간 내용 떠올리기

교과서 11~17쪽

지난 시간에 배운 내용을 떠올려 봅시다.

산에서 나무를 가꾸  
어 बे거나 산나물을  
캐는 임업



산지촌

지난 시간 내용 떠올리기

교과서 11~17쪽

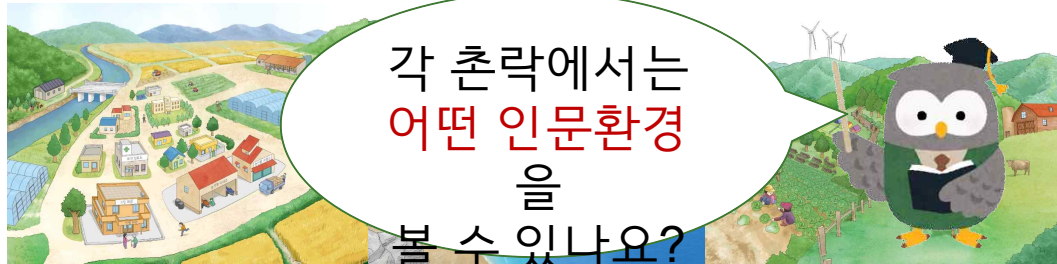
지난 시간에 배운 내용을 떠올려 봅시다.

각 촌락에서는  
어떤 인문환경  
을  
볼 수 있나요?

농촌

어촌

산지촌





지난 시간 내용 떠올리기

교과서 11~17쪽

지난 시간에 배운 내용을 떠올려 봅시다.



농촌

비닐하우스, 축  
사  
농산물 저장고  
등

지난 시간 내용 떠올리기

교과서 11~17쪽

지난 시간에 배운 내용을 떠올려 봅시다.

항구, 방파  
제,  
등대 등



어촌

지난 시간 내용 떠올리기

교과서 11~17쪽

지난 시간에 배운 내용을 떠올려 봅시다.

목장, 양봉 시설,  
풍력 발전기 등



산지촌

교과서 18쪽

도시에 가본 경험을 나눠 봅시다.

도시에 가본  
경험이 있나요?

무엇을 하  
러  
갔나요?



수업 순

서



- 
1. 도시의 특징과 생활 모습
  2. 도시는 어디에 위치할까요
-

# 1. 도시의 특징과 생활 모습

도시는 어떤  
곳일까요?



# 1. 도시의 특징과 생활 모습

## 교과서 18~19쪽

### 도시의 특징을 살펴봅시다.

도시는 어떤 것들  
이  
있을까요?



(영상) 도시의 아름다운 밤

# 1. 도시의 특징과 생활 모습

## 교과서 18~19쪽

### 도시의 특징을 살펴봅시다.

도시에는  
높은 건물  
이  
많아요



# 1. 도시의 특징과 생활 모습

교과서 18~19쪽  
도시의 특징을 살펴봅시다.

도시에는 사람들이 편리하게  
생활할 수 있도록 여러 시설이  
잘 갖춰져 있어요.



인구가 밀집

해

※ 밀집 있어요!  
빈틈 없이  
빡빡하게 모  
임



밀집한 인구



백화점



대형 병원

# 1. 도시의 특징과 생활 모습

교과서 18~19쪽  
도시의 특징을 살펴봅시다.

병원, 백화점  
등 여러 시설  
이  
많고요,



밀집한 인



대형 병원



백화점

도시에는 사람들이 편리하게  
생활할 수 있도록 여러 시설이  
잘 갖춰져 있어요.



# 1. 도시의 특징과 생활 모습

교과서 18~19쪽

도시의 특징을 살펴봅시다.

도청, 시청, 교육  
청 등 공공 기관  
이  
모여 있습니다.



# 1. 도시의 특징과 생활 모습

교과서 18~19쪽  
도시의 특징을 살펴봅시다.



편리한 교통



박물관

도서관, 미술관,  
박물관 같은  
문화 시설도  
많이 있고요,

# 1. 도시의 특징과 생활 모습

교과서 18~19쪽  
도시의 특징을 살펴봅시다.

공원이나 여러 문화시설에서 다양한 취미 생활과 여가 생활을 즐깁니다.



편리한 교통



공원

## \* 여가 활동

즐거움을 얻으려고 남는 시간에 하는 자유로운 활동.

# 1. 도시의 특징과 생활 모습

교과서 18~19쪽

도시의 특징을 살펴봅시다.



편리한 교통



또한 버스나  
지하철이 잘 갖추  
어져 있어 **교통이**  
**편리**합니다.

## 1. 도시의 특징과 생활 모습

교과서 18~19쪽

도시의 특징을 살펴봅시다.



도시에는 정말  
많은 것들이  
있군요!

## 1. 도시의 특징과 생활 모습

### 교과서 18~19쪽

<도시에 가면> 게임으로 도시의 특징을 살펴봅시다.

도시에서 볼 수  
있는 것들로  
<도시에 가면>  
게임을 해 볼까  
요?





# 1. 도시의 특징과 생활 모습

## 교과서 18~19쪽

<도시에 가면> 게임으로 도시의 특징을 살펴봅시다.

도시에 가면~  
지하철도 있  
고! 고,  
병원도 있고!



도시에 가면~  
지하철도 있고,  
병원도 있고,  
사람도 많고!



## 1. 도시의 특징과 생활 모습

### 교과서 18~19쪽

<도시에 가면> 게임으로 도시의 특징을 살펴봅시다.

이제 도시의  
특징을  
잘 기억하겠죠?



# 1. 도시의 특징과 생활 모습

## 교과서 20쪽

도시 사람들의 생활 모습을 살펴봅시다.



회사에 있는 사무실에서 일을 합니다.



지하철로 승객을 태워다 줍니다.



여러 사람에게 다양한 물건을 팝니다.

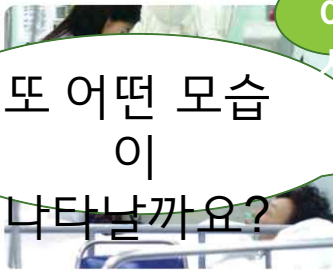
# 1. 도시의 특징과 생활 모습

## 교과서 20쪽

도시 사람들의 생활 모습을 살펴봅시다.



고객이 맡긴 돈을 관리하고 고객  
을 상담합니다.



또 어떤 모습  
이  
나타날까요?

병원에서 환자를 치료하거나  
돌봅니다.

예



공원에서 여가 생활을  
즐깁니다.

# 1. 도시의 특징과 생활 모습

## 교과서 20쪽

오늘 배운 내용을 정리해 봅시다.



꼭! 기억해요

- 1 **도** **시**에는 인구가 밀집해 있고 높은 건물이 많으며, 생활을 편리하게 해 주는 여러 시설이 있습니다.
- 2 도시에는 버스나 지하철 등이 잘 갖춰져 있어 **교** **통**이 편리합니다.

아직 수업 끝  
아님!!

## 2. 도시는 어디에 위치할까요

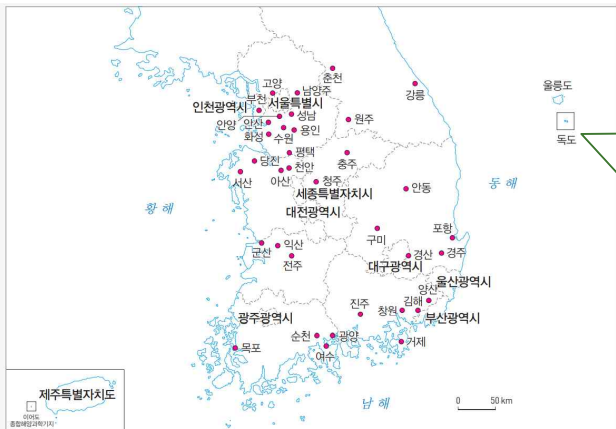
도시는 어디에  
많이 발달했을까  
요?



## 2. 도시는 어디에 위치할까요

### 교과서 21쪽+활동자료 1, 2

우리나라 주요 도시의 위치를 분석해 봅시다.



빨간색으로  
표시된 지역  
은 무엇을 나  
타낸 것일까  
요?

## 2. 도시는 어디에 위치할까요

교과서 21쪽+활동자료 1, 2

우리나라 주요 도시의 위치를 분석해 봅시다.



활동자료 1에서  
초록색으로 표시  
된 지역의 땅의  
높이는 어떨까요?



## 2. 도시는 어디에 위치할까요

교과서 21쪽+활동자료 1, 2

우리나라 주요 도시의 위치를 분석해 봅시다.

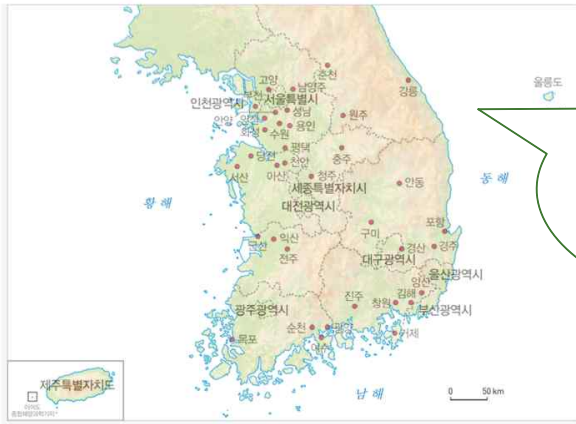


활동자료 1에서  
갈색으로 표시된  
지역의 땅의  
높이는 어떨까요?

## 2. 도시는 어디에 위치할까요

### 교과서 21쪽+활동자료 1, 2

우리나라 주요 도시의 위치를 분석해 봅시다.

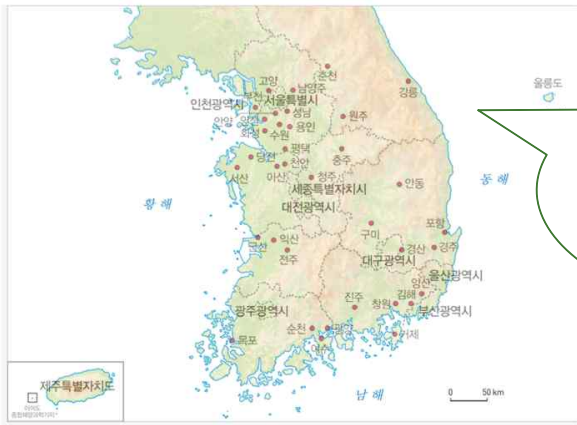


활동자료 1과  
교과서 21쪽의  
지도를 겹쳐봅시  
다.

## 2. 도시는 어디에 위치할까요

교과서 21쪽+활동자료 1, 2

우리나라 주요 도시의 위치를 분석해 봅시다.

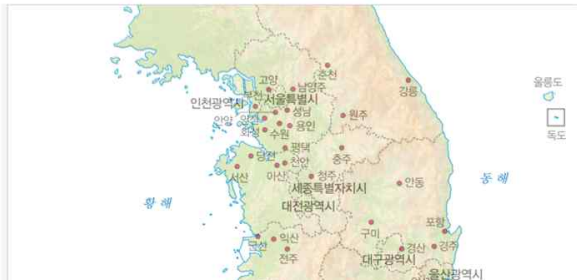


대부분의 도시들  
은  
어떤 색깔의  
땅에 있나요?

## 2. 도시는 어디에 위치할까요

### 교과서 21쪽+활동자료 1, 2

우리나라 주요 도시의 위치를 분석해 봅시다.

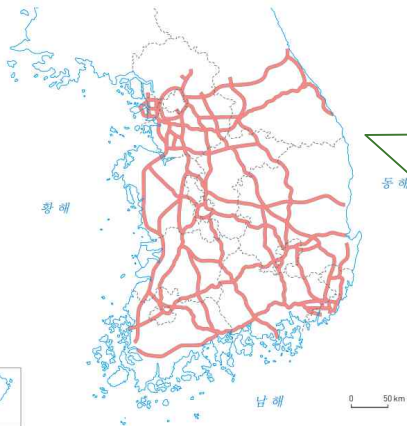


- 1 위 지도와 우리나라 땅의 높낮이를 나타낸 지도를 겹쳐 보면 주로 **평평한 곳** / 산이 많은 곳 )에 도시가 위치한다는 것을 알 수 있습니다.

## 2. 도시는 어디에 위치할까요

교과서 21쪽+활동자료 1, 2

우리나라 주요 도시의 위치를 분석해 봅시다.



활동자료 2에서  
**빨간색**으로  
표시된 선은  
무엇일까요?

## 2. 도시는 어디에 위치할까요

### 교과서 21쪽+활동자료 1, 2

우리나라 주요 도시의 위치를 분석해 봅시다.



활동자료 2과  
교과서 21쪽의  
지도를 겹쳐봅시  
다.

## 2. 도시는 어디에 위치할까요

### 교과서 21쪽+활동자료 1, 2

우리나라 주요 도시의 위치를 분석해 봅시다.



도시들의 위치와  
교통로는 어떤  
관련이 있나요?

## 2. 도시는 어디에 위치할까요

### 교과서 21쪽+활동자료 1, 2

우리나라 주요 도시의 위치를 분석해 봅시다.



- 2 위 지도와 우리나라 주요 교통로를 나타낸 지도를 겹쳐 보면 주로 교통로와 ( 먼 곳 / 가까운 곳 )에 도시가 위치한다는 것을 알 수 있습니다.



## 2. 도시는 어디에 위치할까요

교과서 21쪽+활동자료 1, 2

우리나라 주요 도시의 위치를 분석해 봅시다.

3 1, 2에서 알게 된 내용을 바탕으로 우리나라의 주요 도시들이 어떤 곳에 위치하는지 써 봅시다.

**도시는 땅이 평평한 곳(평야 지역)이  
나**

**교통이 편리한 곳에 발달합니다.**

## 2. 도시는 어디에 위치할까요

교과서 22쪽

도시의 변화 모습을 살펴봅시다.



도시는 어떻게  
만들어지나요?

뚝뚝 만드  
냐?

## 2. 도시는 어디에 위치할까요

교과서 22쪽

도시의 변화 모습을 살펴봅시다.

도시는 일자리가 많거나  
교통이 좋은 곳에  
자연스럽게 사람들이  
모이며 만들어집니다.



## 2. 도시는 어디에 위치할까요

교과서 22쪽

도시의 변화 모습을 살펴봅시다.

하지만 몇몇 도시들은  
필요에 의해 계획적으  
로  
만들어졌습니다



## 2. 도시는 어디에 위치할까요

교과서 22쪽

도시의 변화 모습을 살펴봅시다.



어촌이었던 울산광역시는  
자동차, 선박 등을  
생산하는 큰 산업 단지가  
만들어지며  
도시가 됐어요.



## 2. 도시는 어디에 위치할까요

교과서 22쪽

도시의 변화 모습을 살펴봅시다.



(영상) 세종시 변화 모습

농촌이었던 세종특별자치시는  
수도권에 집중돼 있던  
행정 기관이 옮겨 오면서  
도시가 됐어요.



## 2. 도시는 어디에 위치할까요

교과서 22쪽

도시의 변화 모습을 살펴봅시다.



아하! 촌락이  
도시가 되기도  
하는군요!!



촌락과 도시의  
공통점과 차이점을  
알아볼까요