

제 4 교시

사회탐구 영역(한국 지리)

성명

수험 번호

3

1

1. (가)~(다) 지역을 지도의 A~C에서 고른 것은?

어서와 ~ 호남을 처음이지

녹차의 향기 속으로

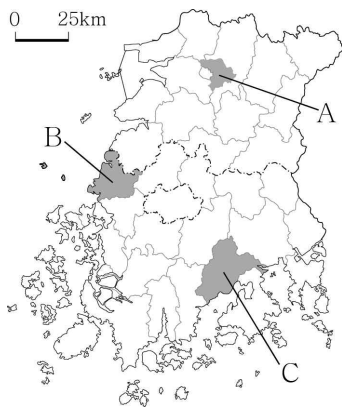
(가)에서 다향 대축제 관람 후 녹차밭에서 녹차를 ...

슬로 시티에서 맛보는 비빔밥

(나)에서 대사습놀이 보고, 맛있는 비빔밥을 ...

임금님께 진상했던 굴비 맛보기

(다)에서 원자력 발전소 견학 후 해풍에 말린 굴비를 ...



	(가)	(나)	(다)
①	A	B	C
②	A	C	B
③	B	A	C
④	C	A	B
⑤	C	B	A

2. (가), (나)는 조선 시대에 제작된 지리지의 일부이다. 이에 대한 설명으로 옳지 않은 것은? (단, (가), (나)는 『신증동국여지승람』, 『택리지』 중 하나임.) [3점]

(가) ㉠은/는 동쪽으로 장단부 경계까지 11리, 서쪽으로 벽란도 경계까지 36리, ... 서울과의 거리는 166리이다.
 [진치 연혁] 고려 태조 2년에 도읍을 철원에서 송악산 남쪽으로 옮기고 ...
 [산천] 송악산은 부 북쪽 5리에 있는데 진산이다. ... 예성강은 부 서쪽 30리에 있다.
 (나) 벽제령에서 서쪽으로 40여 리를 가면 임진 나루터이다. ... 나루를 건너 장단을 지나 40리를 가면 ㉡인데, 곧 고려의 도읍터이다. ... 임진강 동편에 연천과 마전이 있고, 북쪽에는 삭녕이 있다. ... 세 고을은 모두 ㉢ 땅이 척박하고 주민들이 가난해서 살 만한 곳이 적다.

- ① (가)는 국가의 통치 자료 수집을 목적으로 제작되었다.
- ② (가)는 (나)보다 제작 시기가 이른다.
- ③ (나)에는 (가)보다 저자의 주관적 해석이 많이 담겨 있다.
- ④ ㉠에는 현재 세계 문화유산에 등재된 역사 유적이 있다.
- ⑤ ㉢은 가거지의 조건 중 '산수'와 관련 있다.

3. 다음 자료의 (가)~(다)에 대한 설명으로 옳은 것은?

(가) 검색

- 32°07'22"N, 125°10'56"E에 위치함.
- 2003년에 종합 해양 과학 기지가 건설됨.

(나) 검색

- 37°14'24"N, 131°52'22"E에 위치함.
- 동도, 서도 및 89개 부속 도서로 이루어져 있음.

(다) 검색

- 39°48'10"N, 124°10'47"E에 위치함.
- 중국과의 접경 지역인 압록강 하구에 있음.

- ① (가)는 영해 설정에 직선 기선이 적용된다.
- ② (나)는 우리나라 영토의 최동단에 해당한다.
- ③ (다)는 동해에 위치한 섬이다.
- ④ (가)의 대척점은 (나)의 대척점보다 적도와 최단 거리가 멀다.
- ⑤ (다)는 (나)보다 일출 시각이 이른다.

4. (가)~(라) 자연재해에 대한 설명으로 옳은 것은? (단, (가)~(라)는 지진, 태풍, 폭염, 한파 중 하나임.)

구분	안전 문자 내용
(가)	전국에 ◇◇ 특보 발효 중. 논밭과 건설 현장 등에서 야외 활동 자제, 충분한 수분 섭취 등 건강에 유의하세요.
(나)	강력한 □□ 북상 중. 호우 및 강풍 피해 예상. 선박 파손, 저지대 침수 등 안전에 유의하세요.
(다)	○○시 북구 북쪽 6 km 지역에 리히터 규모 5.5 △△ 발생. 여진 주의 및 재난 방송 청취 바랍니다.
(라)	중부 지방 ◎◎ 경보 발효 중. 수도관 및 보일러 동파, 전열기 화재 등 안전에 유의하세요.

- ① (가)는 주로 여름에 발생한다.
- ② (나)의 피해 건수는 남부 지방보다 북부 지방이 많다.
- ③ (다)는 기후적 요인에 의해 발생한다.
- ④ (라)는 열대 해상에서 발생해 우리나라로 이동한다.
- ⑤ (가)는 (나)보다 해일 피해를 유발하는 경우가 많다.

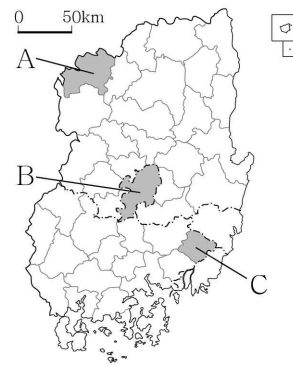
5. 표의 (가)~(다) 지역을 지도의 A~C에서 고른 것은? [3점]

<인구 변화>
(단위: 천 명)

지역	자연 증가	순이동
(가)	53.0	-96.2
(나)	-2.1	-2.0
(다)	12.9	73.1

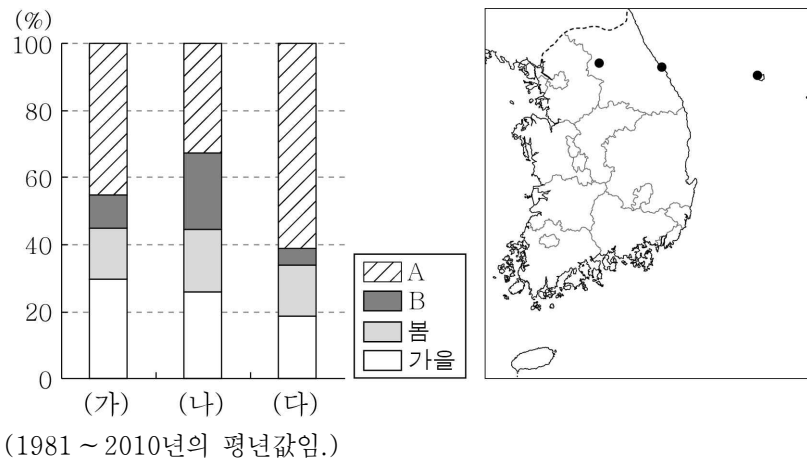
* 순이동 = 전입 인구 - 전출 인구

** 자연 증가와 순이동은 2010 ~ 2017년의 각 연도별 합임.



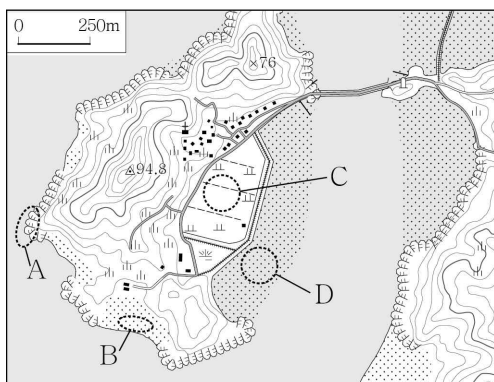
	(가)	(나)	(다)		(가)	(나)	(다)
①	A	B	C	②	A	C	B
③	B	A	C	④	B	C	A
⑤	C	A	B				

6. 그래프는 지도에 표시된 세 지역의 계절별 강수 비중을 나타낸 것이다. 이에 대한 설명으로 옳은 것은? (단, A, B는 겨울, 여름 중 하나임.) [3점]



- ① (가)의 전통 가옥에는 우테기가 설치되어 있다.
- ② (가)는 (나)보다 겨울 강수 집중률이 높다.
- ③ (나)는 (다)보다 기온의 연교차가 크다.
- ④ A에는 서고동저형의 기압 배치가 잘 나타난다.
- ⑤ (가)는 (다)보다 B의 평균 기온이 높다.

7. A ~ D 지형에 대한 옳은 설명을 <보기>에서 고른 것은?

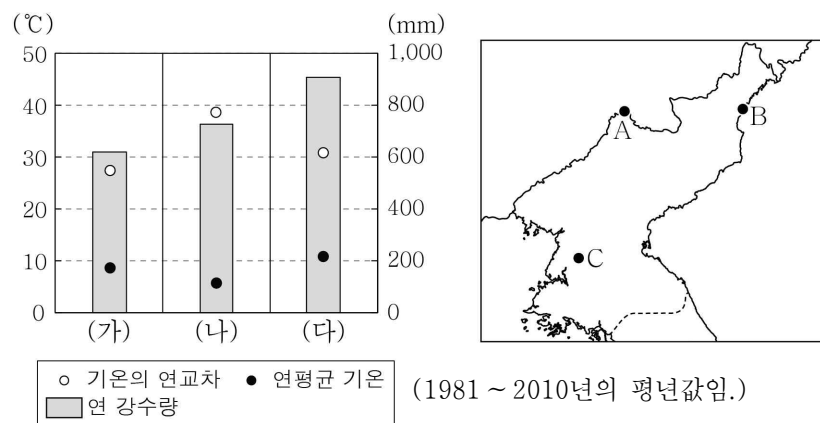


< 보 기 >

- ㄱ. A는 꽃보다 만에서 잘 발달한다.
- ㄴ. C는 하천의 퇴적 작용으로 형성된 평야이다.
- ㄷ. D는 동해안보다 서해안에 넓게 분포한다.
- ㄹ. B는 D보다 퇴적 물질 중 모래의 비중이 높다.

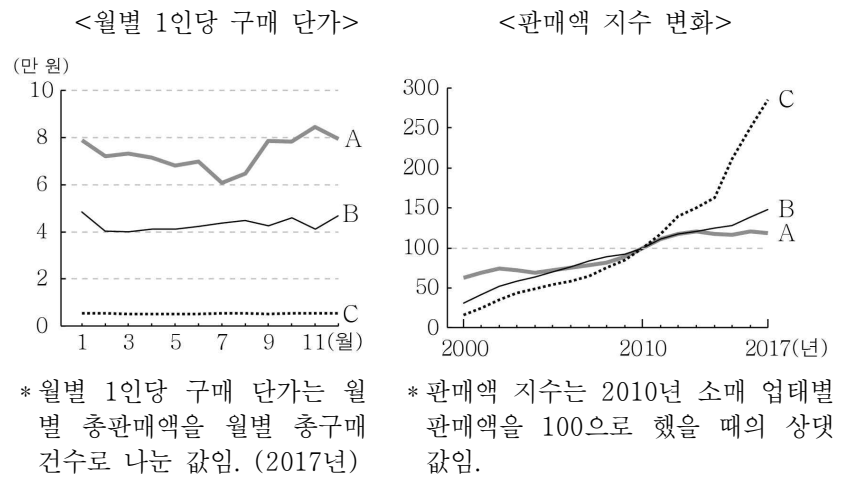
- ① ㄱ, ㄴ ② ㄱ, ㄷ ③ ㄴ, ㄷ ④ ㄴ, ㄹ ⑤ ㄷ, ㄹ

8. 그래프의 (가)~(다) 지역을 지도의 A ~ C에서 고른 것은?



- | | | | | | | | |
|---|-----|-----|-----|---|-----|-----|-----|
| | (가) | (나) | (다) | | (가) | (나) | (다) |
| ① | A | B | C | ② | A | C | B |
| ③ | B | A | C | ④ | B | C | A |
| ⑤ | C | A | B | | | | |

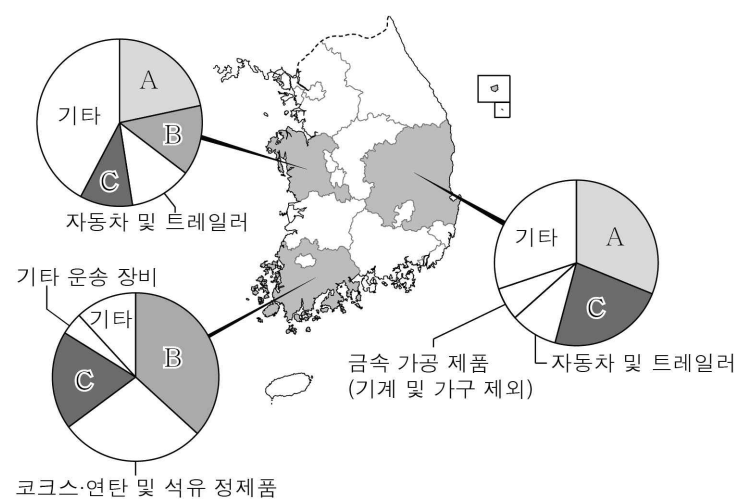
9. A ~ C 소매 업체에 대한 설명으로 옳은 것은? (단, A ~ C는 백화점, 편의점, 대형 마트 중 하나임.) [3점]



- ① A는 B보다 대도시 도심에 입지하려는 경향이 강하다.
- ② C는 A보다 재화의 도달 범위가 넓다.
- ③ 편의점은 백화점보다 월별 1인당 구매 단가가 높다.
- ④ 대형 마트는 2010년 대비 2017년 판매액이 2배 이상 증가하였다.
- ⑤ 전국 소매 업체 수는 A > B > C 순으로 많다.

10. A ~ C 제조업에 대한 옳은 설명을 <보기>에서 고른 것은? (단, A ~ C는 1차 금속, 화학 물질 및 화학 제품(의약품 제외), 전자 부품·컴퓨터·영상·음향 및 통신 장비 제조업 중 하나임.) [3점]

<세 도(道)의 제조업 업종별 출하액 비중>



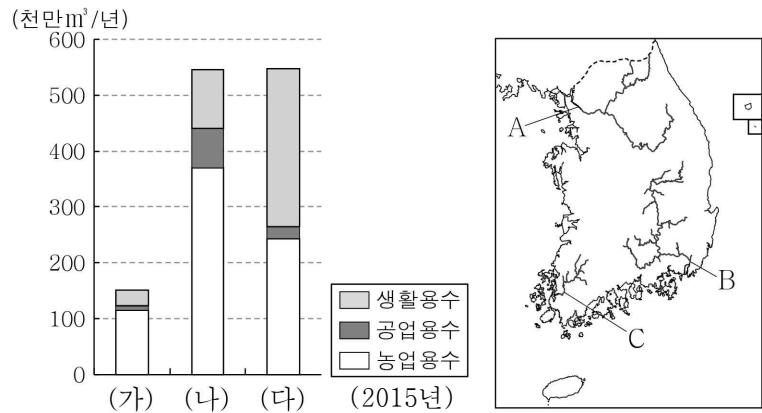
- * 도(道)별 상위 4개 업종만을 제시하였으며, 종사자 수 10인 이상 사업체만 고려함. (2017년)

< 보 기 >

- ㄱ. A는 대량의 원료를 수입하는 적환지 지향형 공업이다.
- ㄴ. B는 1960년대 우리나라 수출을 주도하였다.
- ㄷ. C의 최종 제품은 자동차 공업의 주요 재료로 이용된다.
- ㄹ. A는 B보다 사업체당 종사자 수가 많다.

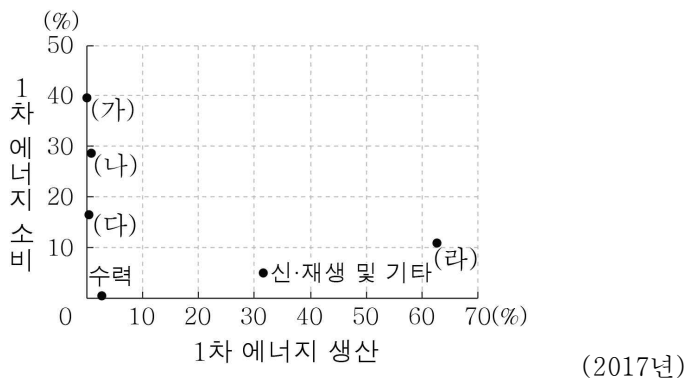
- ① ㄱ, ㄴ ② ㄱ, ㄷ ③ ㄴ, ㄷ ④ ㄴ, ㄹ ⑤ ㄷ, ㄹ

11. 그래프는 세 하천 유역의 용도별 물 자원 이용량을 나타낸 것이다. 이에 대한 설명으로 옳은 것은? (단, (가)~(다) 하천은 지도의 A~C 중 하나임.)



- ① (나)는 황해로 유입된다.
- ② (다)의 하구에는 하굿둑이 건설되어 있다.
- ③ (다)는 (가)보다 유역 면적이 넓다.
- ④ C 유역은 농업용수 이용량보다 생활용수 이용량이 많다.
- ⑤ A 유역은 B 유역보다 공업용수 이용량이 많다.

12. 그래프는 우리나라의 1차 에너지원별 생산 및 소비 비중을 나타낸 것이다. (가)~(라)에 대한 설명으로 옳은 것은? (단, (가)~(라)는 석유, 석탄, 원자력, 천연가스 중 하나임.) [3점]



- ① (가)는 수송용보다 가정용으로 많이 이용된다.
- ② (라)는 냉동 액화 기술의 발달로 소비량이 급증하였다.
- ③ (나)는 (다)보다 상용화된 시기가 늦다.
- ④ (다)는 (나)보다 연소 시 대기 오염 물질 배출량이 적다.
- ⑤ 우리나라는 (라) 생산량이 (가) 소비량보다 많다.

13. (가), (나) 암석에 대한 설명으로 옳은 것은? (단, (가), (나)는 석회암, 현무암 중 하나임.)

- 천연기념물 제178호인 ○○굴은 삼척의 대표적인 동굴이다. 동굴 내부에는 미인상, 거북이 등 여러 모양의鍾유석, 석순, 석주가 발달해 있으며, 이 동굴의 주요 기반암은 (가)이다.
- 천연기념물 제98호인 △△굴은 세계 자연 유산에 등재된 제주도의 대표적인 동굴이다. 이 동굴은 용암이 흘러내릴 때 표층부와 하층부의 냉각 속도 차이에 의해 형성되었으며, 주요 기반암은 (나)이다.

- ① (가)는 평안 누층군에 주로 분포한다.
- ② (나)는 주로 시멘트 공업의 원료로 이용된다.
- ③ (가)는 (나)보다 형성 시기가 이른다.
- ④ (가), (나) 모두 대보 조산 운동으로 형성되었다.
- ⑤ (가)는 화성암, (나)는 퇴적암에 속한다.

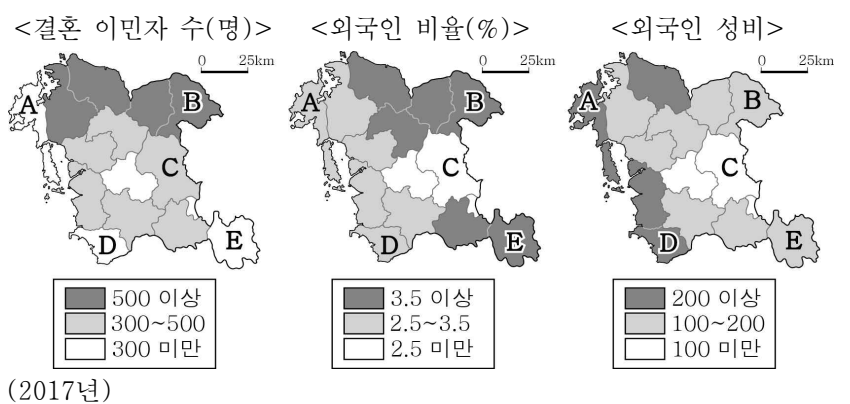
14. 다음 <조건>만을 고려하여 외국인 여성 복지 센터를 건립하고자 할 때, 가장 적절한 곳을 A~E에서 고른 것은?

< 조 건 >

1. 평가 항목별 배점 기준은 다음과 같으며, 점수의 합이 가장 큰 지역을 선정함.

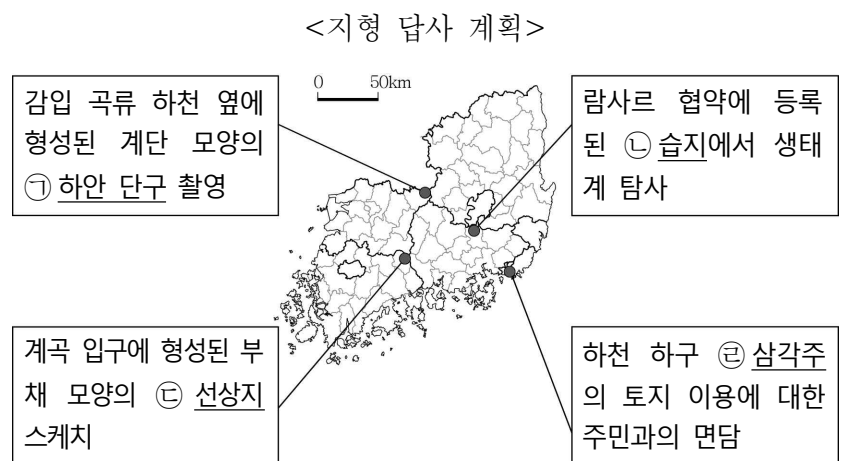
결혼 이민자 수(명)	점수	외국인 비율(%)	점수	외국인 성비	점수
300 이상	3	2.5 이상	3	100 이상	-1
300 미만	1	2.5 미만	1	100 미만	1

2. 평가 항목 점수의 합이 동일할 경우 결혼 이민자 수가 많은 지역을 선정함.



- ① A ② B ③ C ④ D ⑤ E

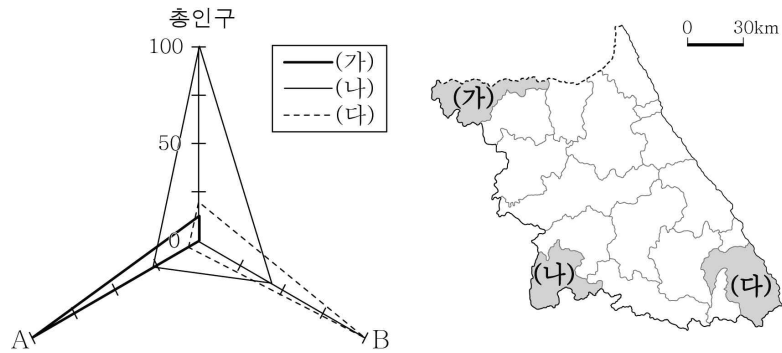
15. 다음 자료의 ㉠~㉣에 대한 옳은 설명만을 <보기>에서 있는 대로 고른 것은? [3점]



- < 보 기 >
- ㄱ. ㉠에서는 동근 자갈이 발견된다.
 - ㄴ. ㉡은 자연 제방과 배후 습지로 구성된다.
 - ㄷ. ㉢은 ㉠보다 신생대 지반 융기의 영향을 크게 받았다.
 - ㄹ. ㉣은 ㉡보다 퇴적 물질의 평균 입자 크기가 크다.

- ① ㄱ, ㄴ ② ㄱ, ㄷ ③ ㄷ, ㄹ
- ④ ㄱ, ㄴ, ㄹ ⑤ ㄴ, ㄷ, ㄹ

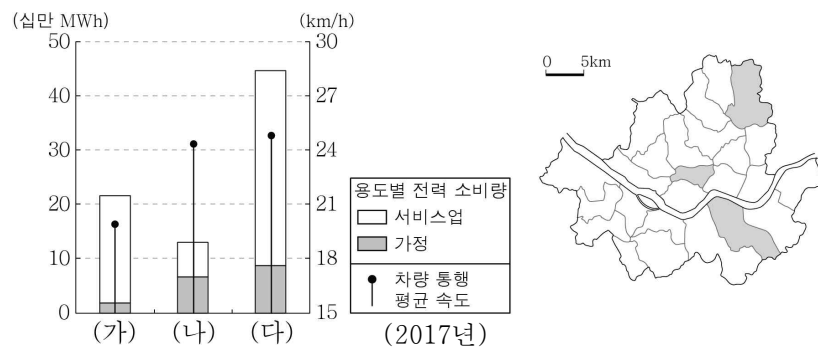
16. 그래프는 지도에 표시된 (가)~(다) 지역의 상대적 특징을 나타낸 것이다. A, B 지표로 옳은 것은?



* 지표별 최대 지역의 값을 100으로 했을 때의 상대값임. (2017년)

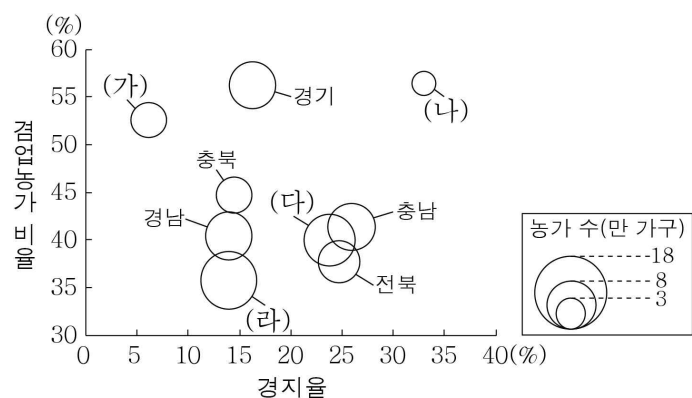
- | | A | B |
|---|-----------|-----------|
| ① | 쌀 생산량 | 광업 사업체 수 |
| ② | 쌀 생산량 | 제조업 종사자 수 |
| ③ | 광업 사업체 수 | 쌀 생산량 |
| ④ | 광업 사업체 수 | 제조업 종사자 수 |
| ⑤ | 제조업 종사자 수 | 광업 사업체 수 |

17. 그래프는 지도에 표시된 세 구(區)의 용도별 전력 소비량과 차량 통행 평균 속도를 나타낸 것이다. (가)~(다)에 대한 설명으로 옳은 것은? [3점]



- ① (가)는 (나)보다 초등학교 학생 수가 많다.
- ② (가)는 (다)보다 상주인구가 많다.
- ③ (나)는 (가)보다 거주자의 평균 통근 거리가 가깝다.
- ④ (나)는 (다)보다 상업지의 평균 지가가 높다.
- ⑤ (다)는 (나)보다 주간 인구 지수가 높다.

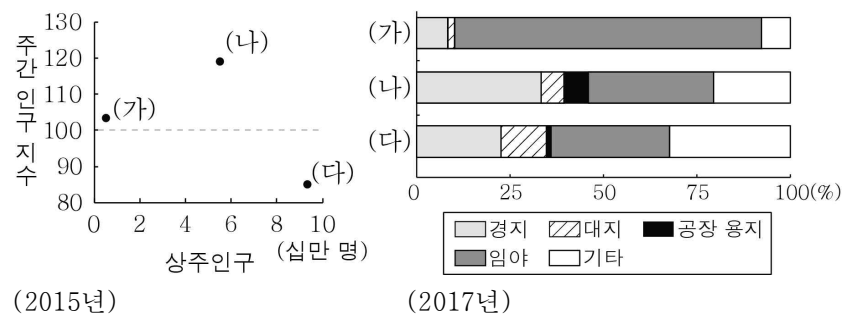
18. (가)~(라) 지역에 대한 설명으로 옳은 것은? (단, (가)~(라)는 강원, 경북, 전남, 제주 중 하나임.) [3점]



* 경지율과 겸업농가 비율은 원의 중심값임. (2017년)

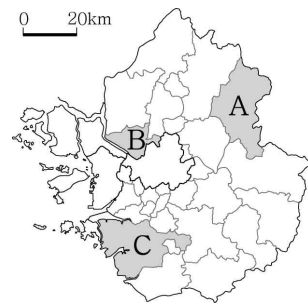
- ① (가)는 겸업농가 수보다 전업농가 수가 많다.
- ② (가)는 (라)보다 과수 재배 면적이 넓다.
- ③ (나)는 (다)보다 경지율이 낮다.
- ④ (다)는 (나)보다 쌀 생산량이 많다.
- ⑤ (라)는 (가)보다 농가 수가 적다.

19. 그래프는 지도에 표시된 세 지역의 인구 현황 및 토지 이용을 나타낸 것이다. (가)~(다)를 지도의 A~C에서 고른 것은?



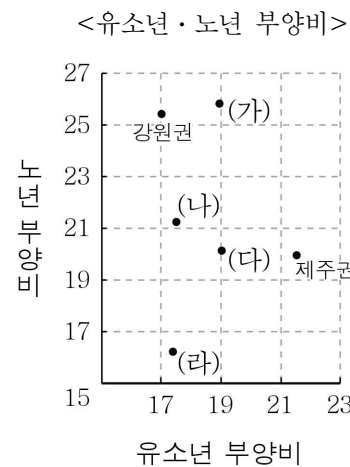
(2015년)

(2017년)

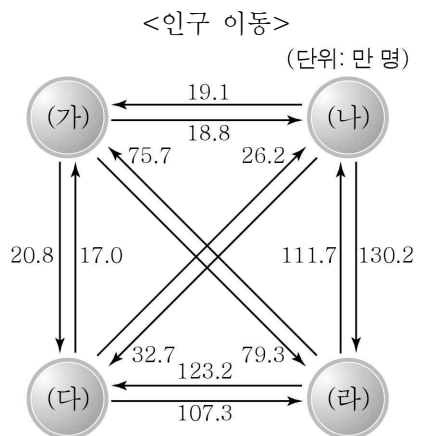


- | | (가) | (나) | (다) |
|---|-----|-----|-----|
| ① | A | B | C |
| ② | A | C | B |
| ③ | B | C | A |
| ④ | C | A | B |
| ⑤ | C | B | A |

20. 다음 자료는 권역별 인구 특성을 나타낸 것이다. (가)~(라)에 대한 설명으로 옳은 것은? (단, (가)~(라)는 수도권, 영남권, 충청권, 호남권 중 하나임.) [3점]



(2017년)



(2010 ~ 2017년의 각 연도별 합임.)

- ① 충청권은 호남권보다 노령화 지수가 높다.
- ② 수도권은 영남권보다 청장년층 인구 비중이 높다.
- ③ 영남권에서 호남권으로의 유출 인구는 충청권에서 영남권으로의 유출 인구보다 많다.
- ④ (나)는 (라)보다 총인구가 많다.
- ⑤ (가), (다)는 모두 수도권으로부터의 유입 인구보다 수도권으로의 유출 인구가 많다.

※ 확인 사항

○ 답안지의 해당란에 필요한 내용을 정확히 기입(표기)했는지 확인 하시오.