



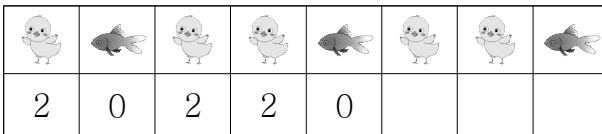
10 규칙에 따라 빈칸에 알맞은 모양을 그려 넣으세요.



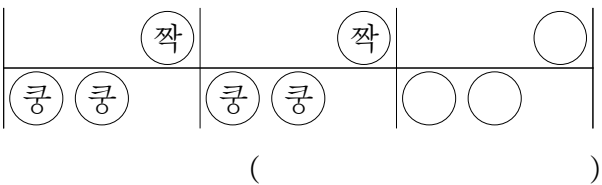
11 규칙에 따라 빈칸에 알맞은 모양을 그려 넣으세요.



12 규칙에 따라 빈칸에 알맞은 수를 써넣으세요.



13 규칙에 따라 ○ 안에 알맞은 글자를 차례로 쓰세요.



14 규칙에 따라 색을 칠하려고 합니다. 빈칸에 알맞은 것은 어느 것일까요? ()

빨강	초록	빨강	초록	빨강	
노랑	파랑	노랑	파랑	노랑	

- ①

노랑
빨강

 ②

초록
빨강

 ③

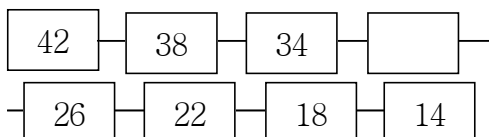
파랑
노랑
- ④

초록
파랑

 ⑤

빨강
파랑

15 규칙에 따라 빈칸에 알맞은 수를 찾아보세요.
..... ()



- ① 32 ② 31 ③ 30
④ 29 ⑤ 28

16 규칙에 따라 빈칸에 알맞은 수를 써넣으세요.

2	4	6	
10		14	16
	20	22	24

17 주어진 규칙에 따라 알맞은 수를 쓸 때 ㉠과 ㉡의 합은 얼마인지 풀이 과정을 쓰고 답을 구하세요.

<규칙>
21부터 시작하여 5씩 커집니다.

21	㉠	31	36	㉡
----	---	----	----	---

<답> _____

※ 수 배열표를 보고 물음에 답하세요. (18~20)

47	48	49	50	51	52	53
54	55	☆	57		59	60
61	62	63	64	65		67
68	69	70	71	72	73	

18 ☆에 알맞은 수는 얼마인가요? ()

- ① 56 ② 58 ③ 59
④ 66 ⑤ 74

19 수 배열표의 빈칸에 알맞은 수를 차례로 써넣으세요.

--	--	--

20에 있는 수들은 어떤 규칙이 있는지 □ 안에 알맞은 수를 써넣으세요.

53부터 시작하여 ↙ 방향으로 □ 씩 커집니다.
