



수학 3-1

6. 분수와 소수 (기본2)

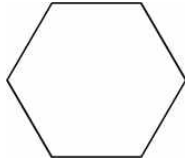
교과서 110~137쪽 / 익힘책 71~88쪽

초등학교



학년 반 번

이름: _____

- 1 똑같이 여섯으로 나누어 보세요.

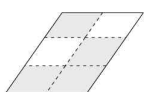



- 2 □ 안에 알맞은 수는 얼마인가요? ()

부분 은 전체 를 똑같이 8로 나눈 것 중의 □입니다.

- ① 1 ② 2 ③ 4
④ 6 ⑤ 8

- 3 관계있는 것끼리 알맞게 이어 보세요.

 •  • $\frac{4}{6}$
• $\frac{4}{8}$
• $\frac{6}{8}$

- 4 색칠한 부분을 분수로 써 보세요.



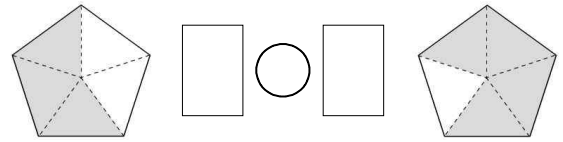
()

- 5 성현이는 김밥 한 줄을 10조각으로 나누어 전체의 $\frac{5}{10}$ 만큼 먹으려고 합니다. 성현이는 김밥을 몇 조각 먹게 될까요? ()



- ① 2조각 ② 3조각 ③ 5조각
④ 6조각 ⑤ 8조각

- 6 색칠한 부분을 분수로 나타내고 크기를 비교하여 ○ 안에 >, =, <를 알맞게 써넣으세요.



- 7 $\frac{7}{14}$ 보다 작은 분수는 모두 몇 개일까요?

..... ()

$\frac{1}{14}$	$\frac{10}{14}$	$\frac{8}{14}$	$\frac{5}{14}$	$\frac{12}{14}$
----------------	-----------------	----------------	----------------	-----------------

- ① 1개 ② 2개 ③ 3개
④ 4개 ⑤ 5개

- 8 빨간색 리본의 길이는 $\frac{10}{16}$ m, 노란색 리본의 길이는 $\frac{8}{16}$ m입니다. 둘 중 길이가 더 긴 리본은 어느 색인지 풀이 과정을 쓰고 답을 구하세요.

<풀이 과정> _____

<답> _____

- 9 분수의 크기를 잘못 비교한 것을 찾아 기호를 쓰세요.

㉠ $\frac{1}{5} > \frac{1}{8}$	㉡ $\frac{1}{11} < \frac{1}{2}$
㉢ $\frac{1}{6} < \frac{1}{7}$	㉣ $\frac{1}{3} > \frac{1}{10}$

()

