



덧셈을 해 볼까요(1)

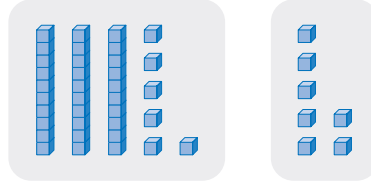
이름:

공부한 날:

월

일

1 그림을 보고 덧셈을 해 보세요.



$$36 + 7 = \boxed{}$$

2 계산해 보세요.

$$\begin{array}{r} 36 \\ + 5 \\ \hline \end{array}$$

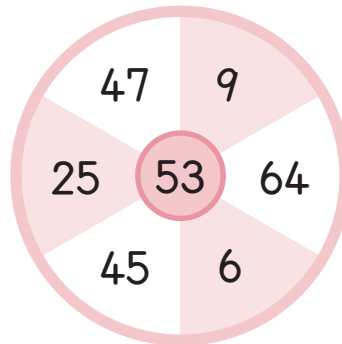
$$\begin{array}{r} 7 \\ + 27 \\ \hline \end{array}$$

$$64 + 9$$

$$8 + 73$$

3 동물원에 긴팔원숭이가 28마리, 개코원숭이가 5마리 있습니다.
동물원에는 원숭이가 모두 몇 마리 있을까요?

- 4 화살 두 개를 던져 맞힌 두 수의 합은 가운데 53과 같습니다.
맞힌 두 수에 ○표 하세요.



- 5 수 카드 중에서 2장씩 골라 합이 36이 되는 식을 만들어 보세요.



$$\square + \square = 36$$

$$\square + \square = 36$$

- 6 계산에서 잘못된 곳을 찾아 옳게 고쳐 계산해 보세요.

$$\begin{array}{r} 86 \\ + 9 \\ \hline 85 \end{array}$$

→

$$\begin{array}{r} 86 \\ + 9 \\ \hline \end{array}$$



덧셈을 해 볼까요(2)

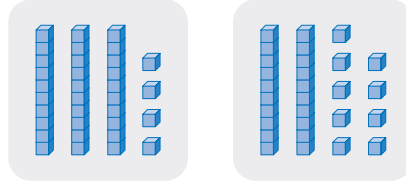
이름:

공부한 날:

월

일

1 그림을 보고 덧셈을 해 보세요.



$$34 + 29 = \boxed{}$$

2 계산해 보세요.

$$\begin{array}{r} 76 \\ + 15 \\ \hline \end{array}$$

$$\begin{array}{r} 45 \\ + 29 \\ \hline \end{array}$$

$$36 + 18$$

$$47 + 39$$

3 도영이는 사과를 37개 닳고, 수일이는 56개 닳습니다. 두 사람이 닳은 사과는 모두 몇 개일까요?

4 같은 것끼리 이어 보세요.

$17 + 24$

64

$33 + 58$

41

$45 + 19$

91

5 ☐ 안에 들어갈 수 있는 수를 모두 찾아 ☐ 표하세요.

$37 + \square > 83$

43 45 47 49

6 ☐ 안에 알맞은 수를 써넣으세요.

$$\begin{array}{r} 5 \square \\ + 24 \\ \hline 80 \end{array}$$

$$\begin{array}{r} \square 7 \\ + 38 \\ \hline 95 \end{array}$$



덧셈을 해 볼까요(3)

이름:

공부한 날:

월

일

1 그림을 보고 덧셈을 해 보세요.



$$63 + 44 = \boxed{}$$

2 계산해 보세요.

$$\begin{array}{r} 84 \\ + 35 \\ \hline \end{array}$$

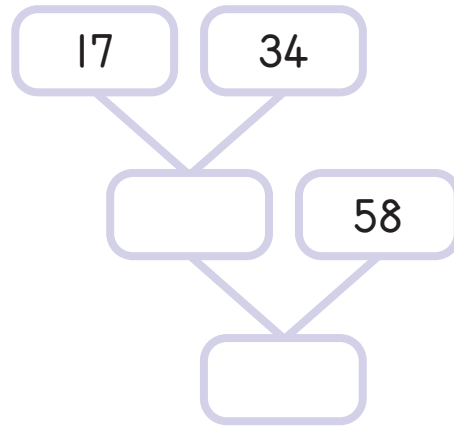
$$\begin{array}{r} 56 \\ + 74 \\ \hline \end{array}$$

$$95 + 29$$

$$37 + 96$$

3 준기는 동화책을 어제는 58쪽, 오늘은 54쪽 읽었습니다. 준기는 어제와 오늘 동화책을 모두 몇 쪽 읽었을까요?

- 4 빈칸에 들어갈 수는 선으로 연결된 두 수의 합입니다. 빈칸에 알맞은 수를 써넣으세요.



- 5 수 카드 2, 4, 6 중에서 2장을 골라 주어진 계산 결과가 나오도록 완성해 보세요.

$$\begin{array}{r}
 5 \quad \square \\
 + \quad \square \quad 9 \\
 \hline
 1 \quad 2 \quad 3
 \end{array}$$

- 6 수 카드 2장을 골라 두 자리 수를 만들어 39와 더하려고 합니다. 계산 결과가 가장 큰 수가 되는 덧셈식을 쓰고 계산해 보세요.



$$\square + 39 = \square$$