



[1~3]경원이네 반 친구들이 관람하고 싶은 스포츠 경기를 조사하였습니다.

〈학생들이 관람하고 싶은 스포츠 경기〉				
축구	야구	농구	배구	스케이트
축구	야구	농구		스케이트
축구	야구			스케이트
	야구			스케이트
	야구			

1. 자료를 표로 나타내어 보세요.

스포츠	축구	야구	농구	배구	스케이트	합계
학생 수(명)	3	5	2	1	4	15

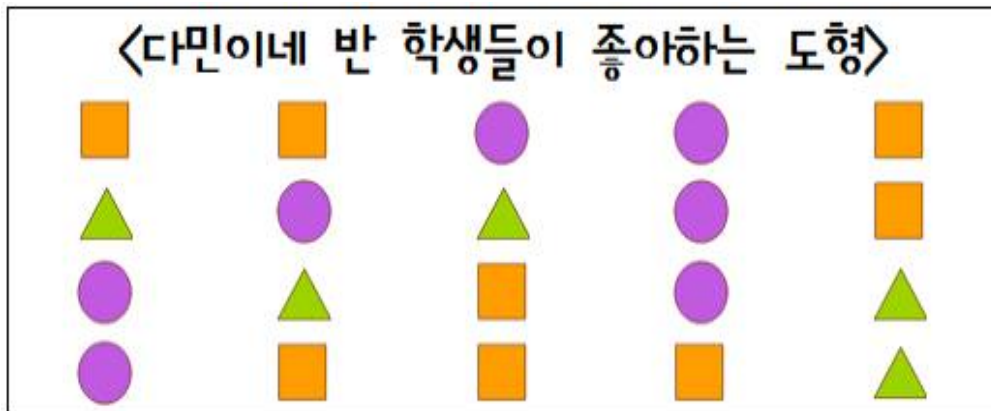
2. 가장 많은 친구들이 관람하고 싶어 하는 스포츠 경기와 가장 적은 친구들이 관람하고 싶어 하는 스포츠 경기는 무엇인가요?

- 가장 많은 친구들이 관람하고 싶어 하는 스포츠 경기 : (야구)
- 가장 적은 친구들이 관람하고 싶어 하는 스포츠 경기 : (배구)







3. 자료를 표로 나타내면 좋은 점이 무엇인지 적어 보세요.

자료를 한 눈에 보기 쉽고 빨리 알 수 있다.
























[4~6] 다민이네 반 학생들이 좋아하는 도형을 조사하였습니다.



4. 자료를 보고 표로 나타내어 보세요.

도형				합계
학생 수(명)				20
	8	5	7	

5. 조사한 자료를 보고 ○를 이용하여 그래프로 나타내어 보세요.

								
								
								
모양 학생 수(명)	1	2	3	4	5	6	7	8

6. 5번의 그래프의 가로에 나타난 것은 무엇인가요?

학생수



다음 글을 읽고 물음에 답해 봅시다.

좋은 생활 습관

요즘 낮과 밤의 기온차가 심합니다. 감기에 걸린 어린이들이 병원을 찾는 경우가 많습니다.

감기에 걸리지 않고 건강하게 지내려면 무엇보다도 좋은 생활 습관을 가져야 합니다. 먼저, 날씨에 맞게 옷을 입어야 합니다. 낮에 덥다고 옷을 너무 얇게 입으면 저녁에 추워서 감기에 걸릴 수 있습니다. 그리고 몸을 깨끗하게 씻는 것이 중요합니다. 집에 들어오면 손과 발을 씻고 양치질을 꼭 해야 합니다.

감기에 걸리지 않고 건강하게 지내도록 좋은 생활 습관을 꼭 지키도록 합시다.

1. 다음은 위 글의 내용을 정리한 표입니다. 빈칸에 들어갈 내용을 찾아 쓰세요.

건강하게 지내려면 좋은 **생** **활** **습** **관** 을 가져야 합니다.

① (**날씨**)에 맞게
옷을 입어야 합니다.

② 몸을 깨끗하게 씻
는 것이 중요합니다.

2. 건강하게 지내기 위한 또 다른 방법을 써 봅시다.

마스크 착용하기, 음식 골고루 먹기 등

함께 지켜요
(다른 나라 친구를 만났을 때 지켜야 할 일)



O, X 퀴즈를 풀면서 다른 나라의 문화를 존중하고 공감하는 태도를 가져 봅시다.

문 제	O, X
우리나라에 온 외국인 친구에게 따뜻하게 대해요.	O
다른 나라에 간다면 그곳의 친구들을 밝은 표정으로 대하고 질서와 예절을 지켜요.	O
피부색이 다른 친구들은 나와 다르므로 사이 좋게 지내지 않아도 돼요.	X
외국인 친구가 한글을 잘 몰라 어려워하면 자세히 알려줘요.	O
우리나라에 처음 온 외국인 친구들은 도와주는 사람들이 많기 때문에 내가 도와주지 않아도 돼요.	X
외국인 친구들을 힐끔힐끔 쳐다보아도 괜찮아요.	X
외국인 친구와 서로서로 인사도 잘하고, 장난감도 같이 쓰며 사이 좋게 지내요.	O
우리나라의 문화가 최고이기 때문에 무조건 우리나라 문화를 따라 하라고 해요.	X
서로 다른 문화를 대할 때 서로 이해하고 존중하는 태도가 가장 중요해요.	O
외국인 친구에게 미소 짓는 얼굴로 이야기해요.	O
우리나라 음식은 맛있기 때문에 친구에게 무조건 먹으라고 해요.	X
외국인은 친절하기 때문에 모르는 사람이라도 따라가도 돼요.	X
우리는 서로 다르다는 것을 인정해요.	O
외국인 친구가 어려움을 겪고 있다면 도움을 받을 수 있는 곳을 알려 줘요.	O



다른 나라 친구와 어떻게 지낼지 겨울 교과서 77쪽에 적어 보세요.

(예시: 우리나라에 온 외국인 친구에게 따뜻하게 대해요. 우리나라 인사법 등 우리나라 문화를 알려줘요. 등)



다음 물음에 답해 봅시다.

[1~6] 하늬네 반 학생들이 좋아하는 과일을 조사하여 표로 나타내었습니다.

하늬네 반 학생들이 좋아하는 과일별 학생 수

과일	딸기	수박	참외	자두	포도	합계
학생 수(명)	6	4	2	5	3	20

1. 하늬네 반 학생은 모두 몇 명인가요?

20

명

2. 가장 많은 학생이 좋아하는 과일은 무엇인가요? 몇 명이 좋아하나요?

딸기

6

명

3. 표를 보고 /을 이용하여 그래프로 나타내어 보세요.

하늬네 반 학생들이 좋아하는 과일별 학생 수

포도	/	/	/			
자두	/	/	/	/	/	
참외	/	/				
수박	/	/	/	/		
딸기	/	/	/	/	/	/
과일 학생수(명)	1	2	3	4	5	6

4. 4명보다 많은 학생이 좋아하는 과일을 모두 찾아보세요.

(딸기, 자두)

5. 위의 표를 보고 알 수 없는 내용을 모두 고르세요.

- ㉠ 하늬네 반 학생은 20명입니다. ㉡ 하늬가 가장 좋아하는 과일은 딸기입니다.
 ㉢ 하늬네 반 여학생과 남학생 수는 같습니다. ㉣ 포도를 좋아하는 학생은 3명입니다.
 ㉤ 가장 적은 학생이 좋아하는 과일은 참외입니다.

(㉡, ㉣)

6. 표와 그래프로 나타내면 편리한 점을 써 보세요.

표	- 반 전체 학생 수를 알아보기 편리합니다. - 좋아하는 과일별 학생 수를 알아보기 편리합니다.
그래프	가장 많은 것과 가장 적은 것을 한눈에 알아보기 편리합니다.