

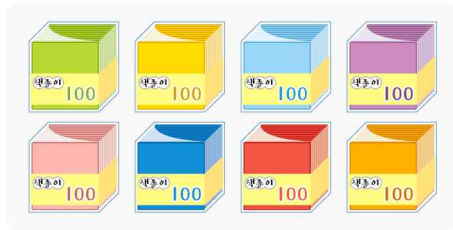
1. 네 자리 수  
[2차시] 100이 10개인  
수를 알아볼까요

1. 다음 중에서 1000을 나타내는 것을 모두 고르세요.

( )

- ① 999보다 1 큰 수
- ② 90보다 10 큰 수
- ③ 90보다 10 작은 수
- ④ 100씩 10묶음
- ⑤ 90보다 10 큰 수

2. 다음은 예준이가 가지고 있는 색종이를 나타낸 것입니다. 색종이 1000장을 가지려면 몇 묶음이 더 있어야 합니까?



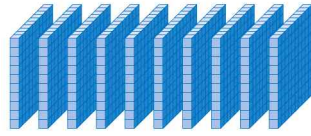
( )묶음

3. 모두 얼마입니까?



( )원

4. 그림을 보고 □ 안에 알맞은 수를 써넣으세요.



100이 10개이면  입니다.

5. 다음 중 1000을 나타내는 것은 어느 것인지 고르세요. (        )

- ① 900보다 10 큰 수
- ② 900보다 1 큰 수
- ③ 900보다 100 큰 수
- ④ 990보다 100 큰 수
- ⑤ 990보다 1 큰 수

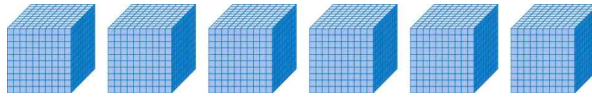
6. □ 안에 알맞은 수를 써넣으세요.

999보다 1 큰 수	}	<input type="text"/>
990보다 10 큰 수		
900보다 100 큰 수		

7. □ 안에 알맞은 수를 써넣으세요.

- (1) 1000은 900보다  큰 수입니다.
  - (2) 1000은 990보다  큰 수입니다.
  - (3) 1000은 999보다  큰 수입니다.
-

1. 그림에 알맞은 수를 쓰고, 읽어 보세요.



쓰기 (                      ), 읽기 (                      )

2. 그림을 보고 모두 얼마인지 쓰세요.



(                      )원

3. 관계있는 것끼리 선으로 이으세요.

① 오천 .

• ㉠ 3000

② 1000이 3개인 수 .

• ㉡ 1000

③ 100이 10개인 수 .

• ㉢ 5000


4. □ 안에 알맞은 수나 말을 써넣으세요.

1000이 5개이면 □ 이라 쓰고, □ 이라고 읽습니다.

5. 사과가 한 상자에 100개씩 들어 있습니다. 사과가 모두 30상자 있다면 사과는 모두 몇 개 입니까?

(                      )개

6. 동전을 1000원씩 묶고 얼마인지 알아보시오.



( )원

7. 다음은 얼마인지 쓰세요.



( )원

8. 빈칸에 알맞은 말을 써넣으세요.

수	쓰기	읽기
1000이 2인 수		이천
1000이 3인 수	3000	
1000이 4인 수		사천
1000이 5인 수	5000	
1000이 6인 수		육천
1000이 7인 수		
1000이 8인 수		
1000이 9인 수		