

1학년**10월 2주간 원격수업 안내****전주온빛초등학교**

1학년 반 번 이름 :

※ EBS 시청 시간 : 국어/09:00-09:30, 수학/10:00-10:30

- ‘다시보기’는 당일 오후 4시 이후 EBS 초등 사이트(<http://primary.ebs.co.kr>)에서 가능합니다.※ 이번 주 출석부와 학습지는 10월 19일(월) 등교 개학할 때 제출하시면 됩니다.**10.14.(수) ~ 10.16.(금)**

시간	수	목	금
1교시	국어	국어	수학
2교시	수학	통합(가을)	안전
3교시	받아쓰기 연습	받아쓰기 연습	받아쓰기 연습
4교시	수학	통합(가을)	수학
5교시	국어	♣	♣

구분		1교시	2교시	3교시	4교시	5교시
10.14 (수)	교과	국어	수학	받아쓰기 연습	수학	국어
	단원 (차시)	4단원 바른 자세로 말해요	2단원 덧셈과 뺄셈	받아쓰기 급수표 7급	2단원 덧셈과 뺄셈	3단원 문장으로 표현해요
	교과서	국어 94-99쪽	수학 50-51쪽 수익 34-35쪽	.	.	.
	학습 주제	여럿이 함께 들을 때의 예절 알기	얼마나 알고 있나요/탐구수학	받아쓰기 7급	2단원 정리 학습	3단원 정리 학습
	학습 활동	· EBS2TV 라이브 특강 (9:00~9:30)	· EBS2TV 라이브 특강 (10:00~10:30)	· 받아쓰기 7급 10칸 공책에 2번씩 쓰기	· 2단원 <더 공부해 봅시다> 풀기	· 3단원 <더 공부해 봅시다> 풀기
	준비물	.	.	받아쓰기 급수표 10칸 공책	학습지	학습지
보호자 확인						

구분		1교시	2교시	3교시	4교시	5교시
10.15 (목)	교과	국어	통합(가을)	받아쓰기 연습	통합(가을)	
	단원 (차시)	4단원 바른 자세로 말해요	2단원 현규의 추석	받아쓰기 급수표 7급	2단원 현규의 추석	
	교과서	국어 100-103쪽 국화 32-33쪽	가을 116-119쪽	.	가을 116-119쪽	
	학습 주제	밤침에 주의해 문장 쓰기(2)	파란 가을 하늘이 좋아요	받아쓰기 7급	가을느낌 표현하기	
	학습 활동	• EBS2TV 라이브 특강 (9:00~9:30)	• EBS2TV 라이브 특강 (10:00~10:30)	• 받아쓰기 7급 10칸 공책에 2번씩 쓰기	• 색종이 모자이크로 단풍잎 꾸미기	
	준비물	.	A4 도화지, 가을 풍경 그림, 가위, 풀	받아쓰기 급수표 10칸 공책	학습지, 색종이	
보호자 확인						

구분		1교시	2교시	3교시	4교시	5교시
10.16 (금)	교과	수학	안전	받아쓰기 연습	수학	
	단원 (차시)	3단원 여러 가지 모양	3단원 소중한 나	받아쓰기 급수표 7급	3단원 여러 가지 모양	
	교과서	수학 58-61쪽 수익 40-41쪽	안전 60-61쪽	.	수학 58-61쪽	
	학습 주제	여러 가지 모양을 찾아볼까요	소중한 나 - 우리 모두 소중한 친구(1)	받아쓰기 7급	여러 가지 모양 찾기	
	학습 활동	• EBS2TV 라이브 특강 (9:00~9:30)	• EBS2TV 라이브 특강 (10:00~10:30)	• 받아쓰기 7급 10칸 공책에 2번씩 쓰기	• 교통 표지판에서 여러 가지 모양 찾기	
	준비물	.	.	받아쓰기 급수표 10칸 공책	학습지	
보호자 확인						



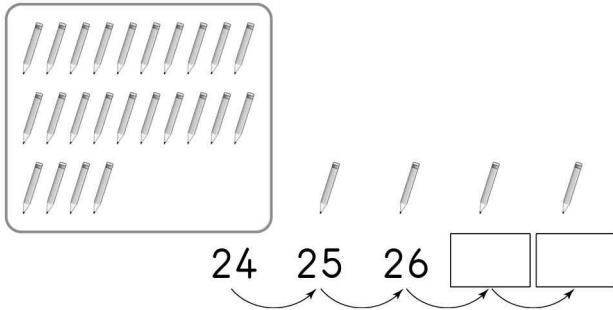
수학 2단원

더 공부해 봅시다

1학년 ____ 반 ____ 번

이름: _____

[01~02] 연필이 모두 몇 자루인지 알아보세요.




01 연필의 수를 세어 위의 □ 안에 알맞은 수를 써넣으세요.

02 위의 그림에 알맞은 덧셈식을 써 보세요.

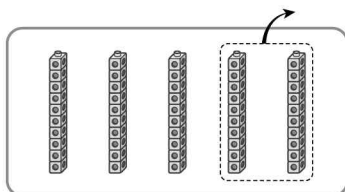
$$24 + 4 = \square$$

03 그림을 보고 □ 안에 알맞은 수를 써넣으세요.



$$10 + 30 = \square$$

04 그림을 보고 □ 안에 알맞은 수를 써넣으세요.



$$50 - 20 = \square$$

[05~06] 덧셈을 해 보세요.

$$\begin{array}{r} 05 \quad 71 \\ + \quad 6 \\ \hline \square \end{array}$$

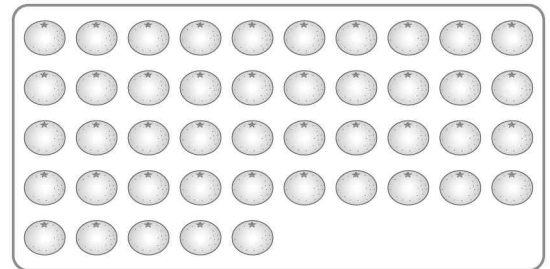
$$\begin{array}{r} 06 \quad 20 \\ + \quad 30 \\ \hline \square \end{array}$$

[07~08] 뺄셈을 해 보세요.

$$\begin{array}{r} 07 \quad 55 \\ - \quad 1 \\ \hline \square \end{array}$$

$$\begin{array}{r} 08 \quad 90 \\ - \quad 50 \\ \hline \square \end{array}$$

[09~10] 과일 가게에서 귤 45개 중 12개를 팔았습니다. 물음에 답하세요.



09 위의 그림에서 판 귤의 수만큼 /으로 지워 보세요.

10 남은 귤의 수를 구하는 뺄셈식을 써 보세요.

$$45 - 12 = \square$$

[11~12] 계산을 해 보세요.

$$11 \quad 28 + 31 = \square$$

$$12 \quad 86 - 20 = \square$$

[13~15] 그림을 보고 덧셈을 해 보세요.



13 과학책과 만화책은 모두 몇 권일까요?

$$21 + \square = \square, \square \text{ 권}$$

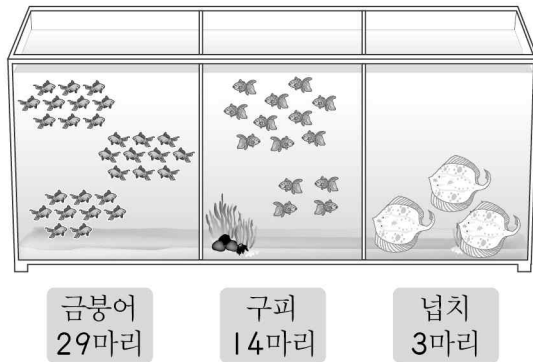
14 위층에 있는 책은 모두 몇 권일까요?

$$10 + \square = \square, \square \text{ 권}$$

15 아랫층에 있는 책은 모두 몇 권일까요?

$$\square + 4 = \square, \square \text{ 권}$$

[16~17] 그림을 보고 뺄셈을 해 보세요.



16 구피는 넙치보다 몇 마리 더 많을까요?

$$14 - \square = \square, \square \text{ 마리}$$

17 금붕어 17마리를 다른 어항으로 옮겼습니다.

남은 금붕어는 몇 마리일까요?

$$29 - \square = \square, \square \text{ 마리}$$

18 합이 가장 큰 것에 ○표 하세요.

$$48 + 11$$

()

$$10 + 55$$

()

$$26 + 21$$

()

19 계산 결과를 비교하여 ○ 안에 >, =, <를 알맞게 써넣으세요.

$$50 + 16 \quad \bigcirc \quad 93 - 11$$

20 수 카드 중에서 2장을 골라 합이 70이 되도록 덧셈식을 써 보세요.

20 40 50 60 70

$$\square + \square = 70$$



국어 2단원

더 공부해 봅시다

1학년 ____ 반 ____ 번

이름: _____

1. 다음 그림에 어울리는 흥내 내는 말을 쓰시오.



()

4. 다음 빈칸에 들어가기에 어울리는 흥내 내는 말이 아닌 것은 어느 것입니까? ()

재미있는 이야기를 들으면 웃습니다.

- ① 깔깔 ② 까르르 ③ 하하하
④ 호호호 ⑤ 훌쩍훌쩍

2. 다음 그림에 어울리는 흥내 내는 말은 무엇입니까? ()




- ① 멍멍 ② 반짝반짝 ③ 다닥다닥
④ 주렁주렁 ⑤ 주룩주룩

5. 다음 끝말잇기에서 빈칸에 들어갈 낱말은 무엇입니까? ()

아기 - 기차 - 차도- 도화지 -

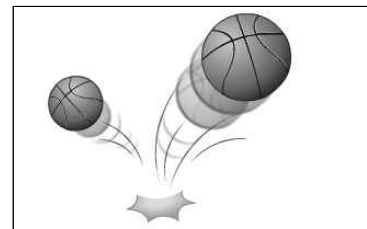
- ① 포도 ② 화분 ③ 지팡이
④ 자동차 ⑤ 고구마

3. 다음 그림에 어울리는 흥내 내는 말을 빈칸에 쓰시오.



햇별이 ()
내리쬐었습니다.

6. 다음 그림과 어울리는 흥내 내는 말은 무엇입니까? ()



- ① 통통통 ② 침병침병 ③ 반짝반짝
④ 살랑살랑 ⑤ 엉금엉금

뒷면에 계속...

※10월 14일 수요일 국어 5교시

7. 연필을 너무 많이 썼더니

다	아	서
---	---	---

짧아졌습니다.

8.

너	은
---	---

운동장에서 아이들이 놀고 있습니다.

9. 두 친구는 쌍둥이처럼

다	았	습	니	다
---	---	---	---	---

10. 교실에 와서 친구들에게

바	은
---	---

표정으로 인사했습니다.

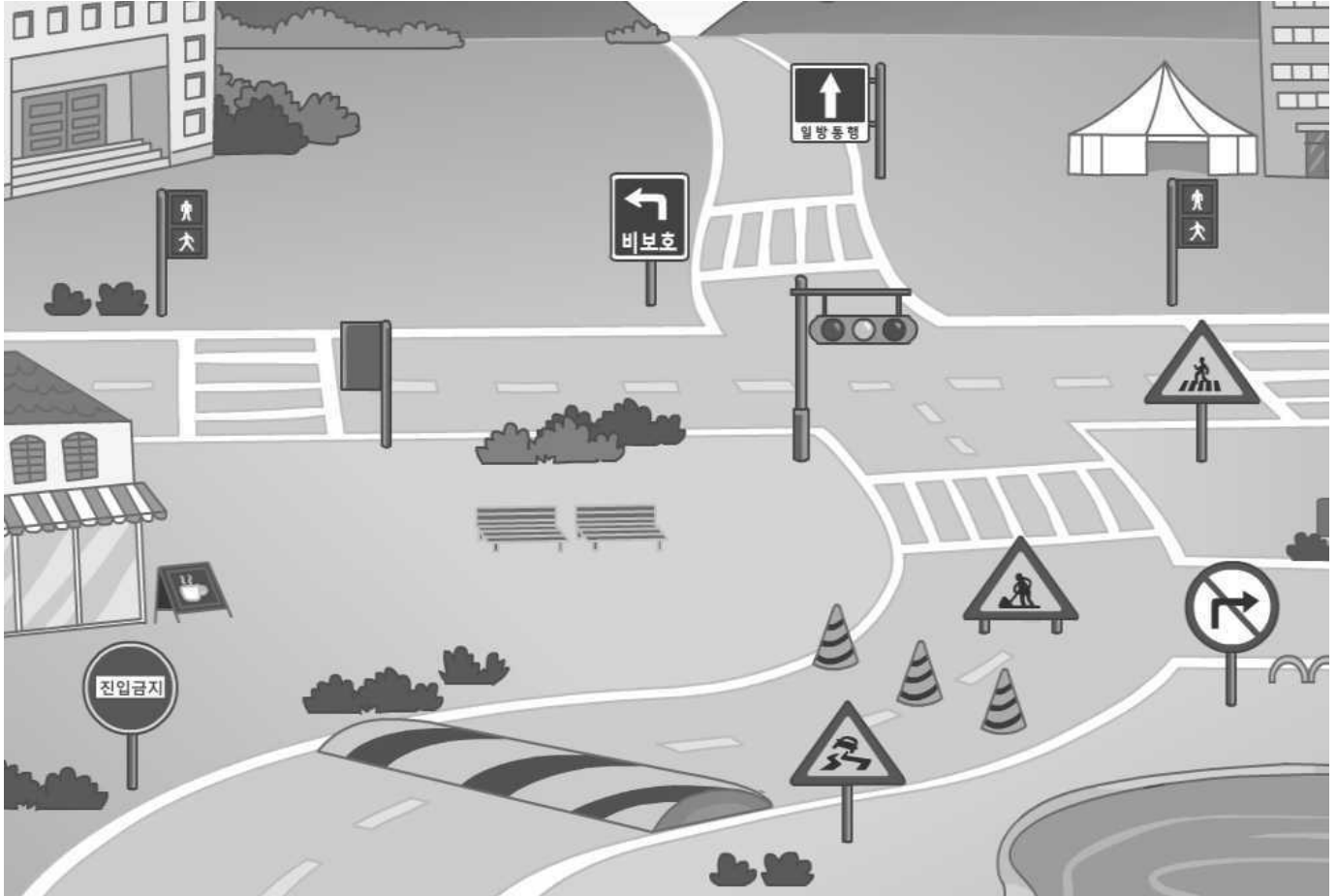


수학 3단원
여러 가지 모양





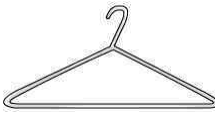

1학년 ____ 반 ____ 번

이름: _____

1. 교통 표지판에서 , ,  모양을 찾아 따라 그려 보세요.



2. 같은 모양끼리 모으려고 합니다. 빈 곳에 물건의 이름을 쓰세요.

		
색종이	바퀴	자
		
동전	옷걸이	교통카드