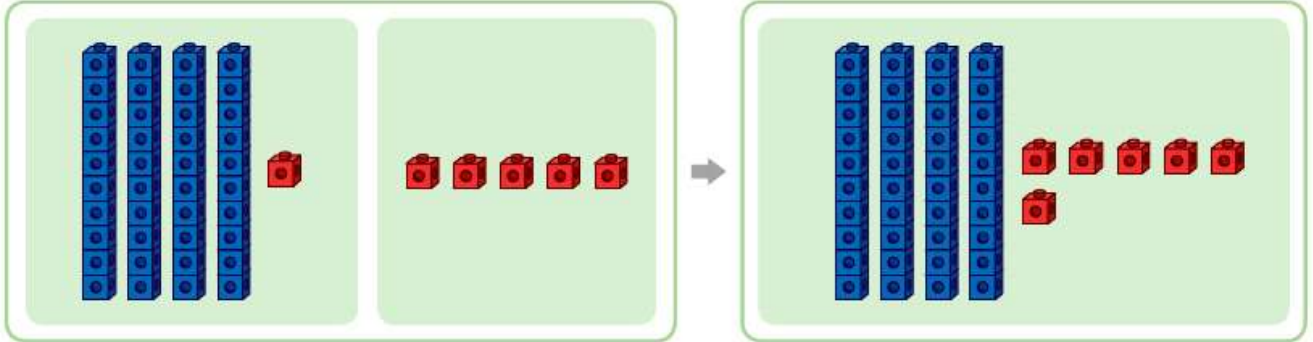


받아올림이 없는 (몇십몇)+(몇)

이름: \_\_\_\_\_

🔥 41+5를 계산하기

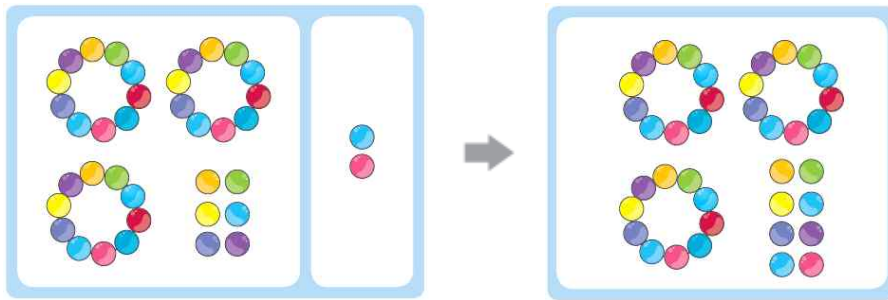


$$\begin{array}{r}
 41 \\
 + 5 \\
 \hline
 \end{array}
 \rightarrow
 \begin{array}{r}
 41 \\
 + 5 \\
 \hline
 \square
 \end{array}
 \rightarrow
 \begin{array}{r}
 41 \\
 + 5 \\
 \hline
 4 \square
 \end{array}$$

$$41 + 5 = 46$$

날개의 수인 1과 5를 더하면 6입니다. 40과 6을 더하면 46입니다.

1. 다음 그림을 보고 덧셈을 하세요.



$$\begin{array}{r}
 36 \\
 + 2 \\
 \hline
 \end{array}
 \rightarrow
 \begin{array}{r}
 36 \\
 + 2 \\
 \hline
 \square
 \end{array}
 \rightarrow
 \begin{array}{r}
 36 \\
 + 2 \\
 \hline
 \square
 \end{array}$$

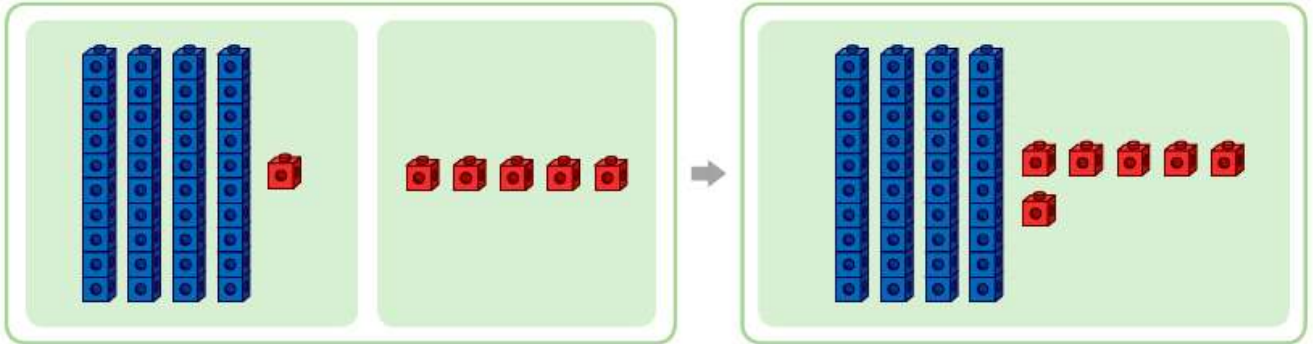
세로셈을  
계산할 때는 세로줄을  
잘 맞추어 써야 해요.



## 받아올림이 없는 (몇십몇)+(몇)

이름: \_\_\_\_\_

🔥 41+5를 계산하기

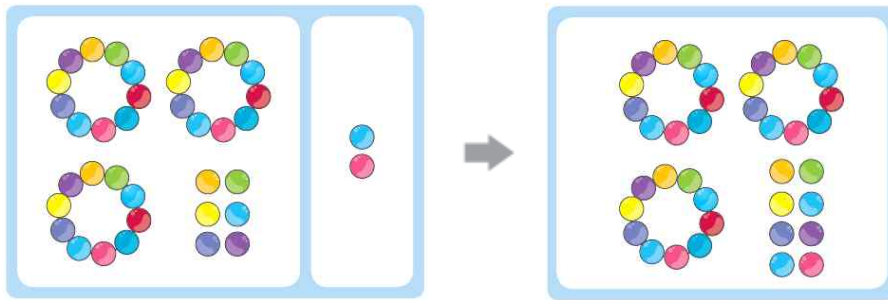


$$\begin{array}{r}
 41 \\
 + 5 \\
 \hline
 \end{array}
 \rightarrow
 \begin{array}{r}
 41 \\
 + 5 \\
 \hline
 6
 \end{array}
 \rightarrow
 \begin{array}{r}
 41 \\
 + 5 \\
 \hline
 46
 \end{array}$$

$$41 + 5 = 46$$

날개의 수인 1과 5를 더하면 6입니다. 40과 6을 더하면 46입니다.

1. 다음 그림을 보고 덧셈을 하세요.



$$\begin{array}{r}
 36 \\
 + 2 \\
 \hline
 \end{array}
 \rightarrow
 \begin{array}{r}
 36 \\
 + 2 \\
 \hline
 8
 \end{array}
 \rightarrow
 \begin{array}{r}
 36 \\
 + 2 \\
 \hline
 38
 \end{array}$$

세로셈을  
계산할 때는 세로줄을  
잘 맞추어 써야 해요.

