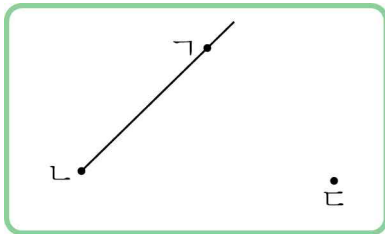


2. 평면도형

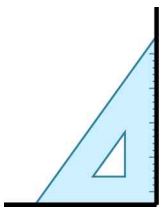
01 반직선 \perp 을 그어 보세요.



02 각 기도를 완성해 보세요.



03 ☐ 안에 알맞은 말을 써넣으세요.

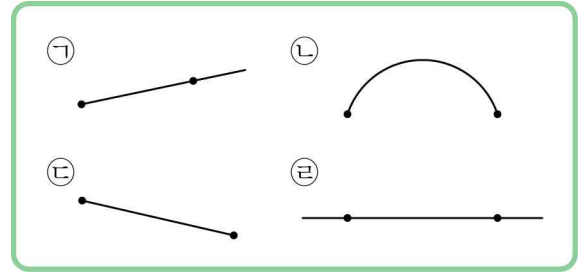


왼쪽과 같이 삼각자를
대었을 때 삼각자의 모
서리와 꼭 맞게 겹쳐지
는 각을 이라
고 합니다.

04 안에 알맞은 수를 써넣으세요.

직사각형은 직각이 개 있고,
직각삼각형은 직각이 개 있습니다.

[05~06] 도형을 보고 물음에 답하세요.



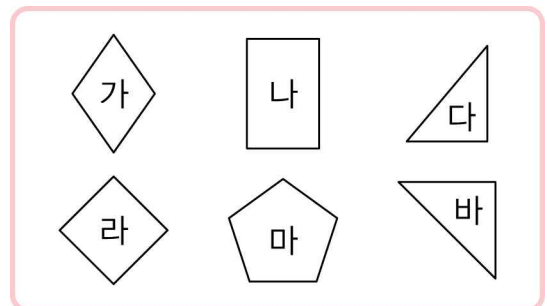
05 선분을 찾아 기호를 써 보세요.

$$\left(\begin{array}{c} \text{ } \end{array} \right)$$

06 직선을 찾아 기호를 써 보세요.

$$\left(\begin{array}{c} \text{ } \end{array} \right)$$

[07~08] 도형을 보고 물음에 답하세요.



07 직각삼각형을 모두 찾아 기호를 써 보세요.

$$\left(\begin{array}{c} \text{ } \\ \text{ } \end{array} \right)$$

08 직사각형을 모두 찾아 기호를 써 보세요.

()