

수학

1. 덧셈과 뺄셈

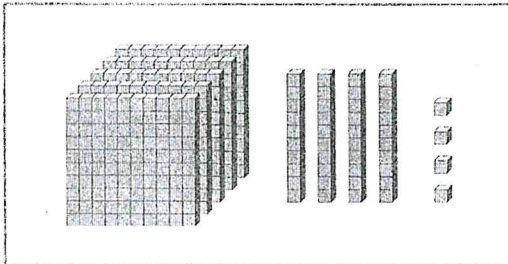
뺄셈을 해 볼까요[2] (18~19쪽)

학습 내용: 받아내림이 한 번 있는 (세 자리 수) - (세 자리 수)

이름 ()

이해 쑥쑥

수 모형이 나타내는 수보다 318 작은 수를 구해 보세요.



$$544 - 318 = 226$$

핵심 콕콕

계산해 보세요.

$$\begin{array}{r} \boxed{6} \boxed{10} \\ 1. \quad \begin{array}{r} \cancel{7} 3 6 \\ - 3 8 4 \\ \hline 3 5 2 \end{array} \end{array}$$

$$\begin{array}{r} \boxed{7} \boxed{10} \\ 2. \quad \begin{array}{r} \cancel{8} 3 7 \\ - 6 7 2 \\ \hline 1 6 5 \end{array} \end{array}$$

$$\begin{array}{r} \boxed{8} \boxed{10} \\ 3. \quad \begin{array}{r} \cancel{9} 4 2 \\ - 2 6 1 \\ \hline 6 8 1 \end{array} \end{array}$$

$$\begin{array}{r} \boxed{5} \boxed{10} \\ 4. \quad \begin{array}{r} \cancel{6} 5 7 \\ - 1 8 1 \\ \hline 4 7 6 \end{array} \end{array}$$

$$\begin{array}{r} \boxed{4} \boxed{10} \\ 5. \quad \begin{array}{r} \cancel{5} 5 8 \\ - 2 9 4 \\ \hline 2 6 4 \end{array} \end{array}$$

$$\begin{array}{r} \boxed{5} \boxed{10} \\ 6. \quad \begin{array}{r} \cancel{6} 5 3 \\ - 3 6 1 \\ \hline 2 9 2 \end{array} \end{array}$$

$$\begin{array}{r} \boxed{6} \boxed{10} \\ 7. \quad \begin{array}{r} \cancel{7} 1 7 \\ - 3 5 4 \\ \hline 3 6 3 \end{array} \end{array}$$

$$\begin{array}{r} \boxed{7} \boxed{10} \\ 8. \quad \begin{array}{r} \cancel{8} 2 8 \\ - 2 8 5 \\ \hline 5 4 3 \end{array} \end{array}$$

$$\begin{array}{r} \boxed{4} \boxed{10} \\ 9. \quad \begin{array}{r} \cancel{5} 3 8 \\ - 2 5 0 \\ \hline 2 8 8 \end{array} \end{array}$$

$$\begin{array}{r} \boxed{7} \boxed{10} \\ 10. \quad \begin{array}{r} \cancel{8} 2 9 \\ - 4 7 9 \\ \hline 3 5 0 \end{array} \end{array}$$

$$\begin{array}{r} \boxed{3} \boxed{10} \\ 11. \quad \begin{array}{r} \cancel{4} 4 5 \\ - 1 8 1 \\ \hline 2 6 4 \end{array} \end{array}$$

$$\begin{array}{r} \boxed{5} \boxed{10} \\ 12. \quad \begin{array}{r} \cancel{6} 4 7 \\ - 1 5 2 \\ \hline 4 9 5 \end{array} \end{array}$$

$$\begin{array}{r} \boxed{3} \boxed{10} \\ 13. \quad \begin{array}{r} \cancel{4} 8 8 \\ - 2 9 3 \\ \hline 1 9 5 \end{array} \end{array}$$

$$\begin{array}{r} \boxed{6} \boxed{10} \\ 14. \quad \begin{array}{r} \cancel{7} 4 5 \\ - 3 6 3 \\ \hline 3 8 2 \end{array} \end{array}$$

$$\begin{array}{r} \boxed{7} \boxed{10} \\ 15. \quad \begin{array}{r} \cancel{8} 2 9 \\ - 3 6 3 \\ \hline 4 6 6 \end{array} \end{array}$$

$$\begin{array}{r} \boxed{7} \boxed{10} \\ 16. \quad \begin{array}{r} \cancel{8} 3 8 \\ - 1 5 3 \\ \hline 6 8 5 \end{array} \end{array}$$

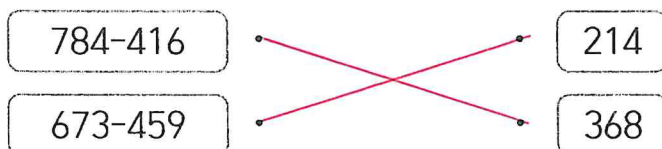
$$\begin{array}{r} \boxed{6} \boxed{10} \\ 17. \quad \begin{array}{r} \cancel{7} 1 7 \\ - 2 5 0 \\ \hline 4 6 7 \end{array} \end{array}$$

$$\begin{array}{r} \boxed{5} \boxed{10} \\ 18. \quad \begin{array}{r} \cancel{6} 3 6 \\ - 3 9 1 \\ \hline 2 4 5 \end{array} \end{array}$$

$$\begin{array}{r} \boxed{8} \boxed{10} \\ 19. \quad \begin{array}{r} \cancel{9} 2 5 \\ - 3 7 1 \\ \hline 5 5 4 \end{array} \end{array}$$

$$\begin{array}{r} \boxed{7} \boxed{10} \\ 20. \quad \begin{array}{r} \cancel{8} 6 9 \\ - 3 9 2 \\ \hline 4 7 7 \end{array} \end{array}$$

21. 관계있는 것끼리 이어 보세요.



수학

1. 덧셈과 뺄셈

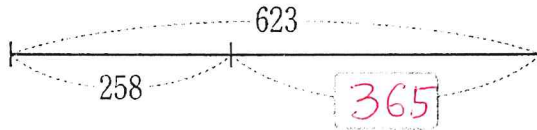
뺄셈을 해 볼까요(3) (20~21쪽)

학습 내용: 받아내림이 두 번 있는 (세 자리 수) - (세 자리 수)

이름 ()

이해 쓱쓱

그림을 보고 □ 안에 알맞은 수를 써넣으세요. (답만 달랑 쓰지 않기. 계산 과정이 있어야 함)



핵심 콕콕

계산해 보세요.

1.
$$\begin{array}{r} \boxed{6} \boxed{11} \boxed{10} \\ 723 \\ - 596 \\ \hline 127 \end{array}$$

2.
$$\begin{array}{r} \boxed{5} \boxed{12} \boxed{10} \\ 631 \\ - 174 \\ \hline 457 \end{array}$$

3.
$$\begin{array}{r} \boxed{6} \boxed{11} \boxed{10} \\ 703 \\ - 264 \\ \hline 439 \end{array}$$

4.
$$\begin{array}{r} \boxed{7} \boxed{14} \boxed{10} \\ 853 \\ - 285 \\ \hline 568 \end{array}$$

5.
$$\begin{array}{r} \boxed{5} \boxed{14} \boxed{10} \\ 657 \\ - 198 \\ \hline 459 \end{array}$$

6.
$$\begin{array}{r} \boxed{4} \boxed{15} \boxed{10} \\ 565 \\ - 188 \\ \hline 377 \end{array}$$

7.
$$\begin{array}{r} \boxed{5} \boxed{11} \boxed{10} \\ 627 \\ - 259 \\ \hline 368 \end{array}$$

8.
$$\begin{array}{r} \boxed{8} \boxed{11} \boxed{10} \\ 926 \\ - 379 \\ \hline 547 \end{array}$$

9.
$$\begin{array}{r} \boxed{5} \boxed{10} \boxed{10} \\ 607 \\ - 259 \\ \hline 348 \end{array}$$

10.
$$\begin{array}{r} \boxed{2} \boxed{16} \boxed{10} \\ 377 \\ - 199 \\ \hline 178 \end{array}$$

11.
$$\begin{array}{r} \boxed{4} \boxed{11} \boxed{10} \\ 521 \\ - 263 \\ \hline 258 \end{array}$$

12.
$$\begin{array}{r} \boxed{6} \boxed{15} \boxed{10} \\ 766 \\ - 388 \\ \hline 378 \end{array}$$

13.
$$\begin{array}{r} \boxed{3} \boxed{10} \boxed{10} \\ 418 \\ - 129 \\ \hline 289 \end{array}$$

14.
$$\begin{array}{r} \boxed{7} \boxed{12} \boxed{10} \\ 835 \\ - 737 \\ \hline 98 \end{array}$$

15.
$$\begin{array}{r} \boxed{8} \boxed{14} \boxed{10} \\ 951 \\ - 875 \\ \hline 76 \end{array}$$

16.(☆☆☆) 129와 $\boxed{3}\boxed{}\boxed{}$ 의 합이 518입니다. 두 수의 차를 구하세요.

식 $389 - 129 = 260$

답 260

<과정1>

$518 - 129 = \boxed{3}\boxed{8}\boxed{9}$

<과정2>

$\boxed{3}\boxed{8}\boxed{9} - 129 = 260$

쉬어가기

※ 뺄셈이 쉽지 않죠? 잘 안될 때 포기하지 않으면 발전할 수 있어요. 한 박자 쉬고 조금만 더!

1. 발이 두 개인 소는?

소, 쏜, 라, 박, 수
드, 이, 킹, 발, 가

<이발소>

2. 가장 쉬운 숫자는?

구, 일, 천, 팔, 조
육, 십, 억, 삼, 만

<십구만>, 6 - <십조>

3. 왕이 넘어지면?

슈, 킹, 맨, 팔, 트
배, 퍼, 도, 깨, 콩

<킹콩>