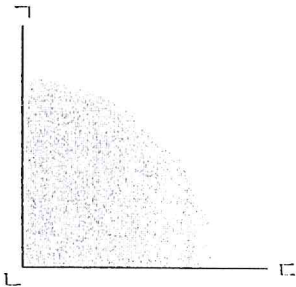


학습 내용: 직각을 이해하고 직각을 찾아 표시하기

이름 ()

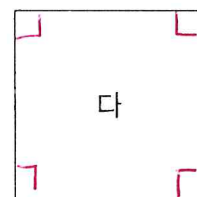
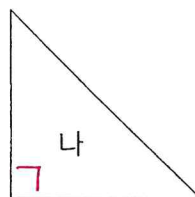
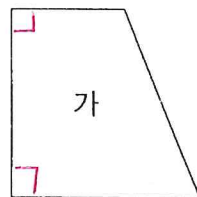
이제 쓱쓱



그림과 같이 종이를 반듯하게 두 번 접었을 때 생기는 각을 **직각** 이라고 합니다.

핵심 꼭꼭

※ 다음 도형을 보고 물음에 답하세요.



직각이 몇 개?

(2) 개

(1) 개

(4) 개

수익쌍둥이

※ 직각을 찾아 모두 표시하세요. (8개)

