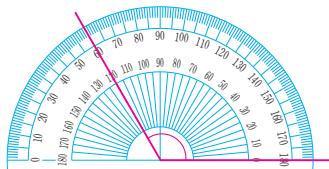


4

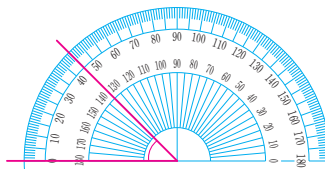
사각형

배운 내용을 기억하고 있나요

1 각도를 구해 보세요.



°




°

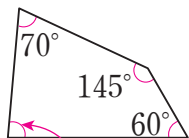
2 시계바늘이 이루는 작은 쪽의 각이 예각, 직각, 둔각 중 어느 것인지 ☐ 안에 써 넣으세요.



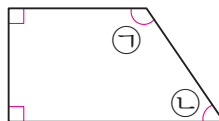
3 모눈종이에 직사각형과 정사각형을 각각 그려 보세요.



4 ☐ 안에 알맞은 수를 써넣으세요.



°



㉠ + ㉡ = °