

수요일 1교시 국어	11. 상상의 날개를 펴요. *복습해요.	2학년 반 ()번 이름 ()
---------------	---------------------------	--

[5~6차시 복습] 인물의 마음에 어울리는 목소리로 이야기 읽기 교과서 254~265쪽


※ 「흥부와 놀부」 상황 카드를 보고, 흥부의 마음이 어떠했을지 ㉠~㉣ 빈 칸에 적어 보세요. **예시)**

㉠ **실망스럽다. / 속상하다**



흥부가 놀부에게 쌀을 꾸러 갔지만 놀부는 흥부를 내쫓았습니다.

㉡ **당황스럽다. / 과소심하다**



흥부가 새끼 제비를 잡아먹으려는 구렁이와 싸웠습니다.

㉢ **걱정스럽다. / 불쌍하다**



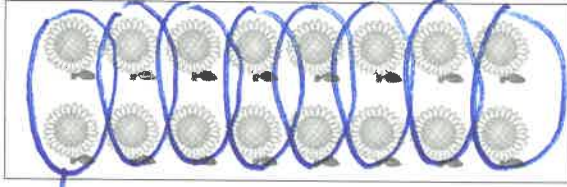
흥부가 부러진 제비의 다리를 고쳐 주었습니다.

㉣ **기쁘다. / 행복하다**



제비가 물어다 준 박 씨의 박 속에서 금은보화가 나왔습니다.

※ 해바라기를 보고 물음에 답하세요. (1~3)



1 4송이씩 세어 빈 곳에 알맞은 수를 써넣으세요.

4 — 8 — 12 — 16


2 2송이씩 몇 묶음인가요?

(8 묶음)

3 해바라기는 모두 몇 송이인가요?

(16송이)

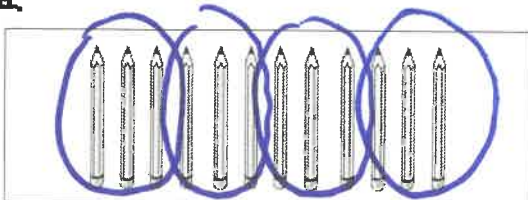
4 소영이가 꽃감을 센 방법을 보고 □ 안에 알맞은 수를 써넣으세요.



5개씩 4 묶음에 날개 1개를 더해서
세어 보면 꽃감은 모두 21개야.




5 연필을 3자루씩 묶어 보고, 모두 몇 자루인지 세어 보세요.



(12자루)

6 구슬의 수는 5씩 몇 묶음인지 □ 안에 알맞은 수를 써넣으세요.



5씩 4 묶음

7 우산의 수는 4씩 몇 묶음인가요? (3)



① 2묶음 ② 3묶음 ③ 4묶음 ⇒ ok
④ 5묶음 ⑤ 6묶음

8 2씩 묶었을 때 묶음의 수를 찾아 선으로 이어 보세요.



5묶음



6묶음

9 사탕을 묶어서 바르게 센 사람은 누구인가요?

12개



지희 2씩 묶었더니 5묶음이었어요.


병모 3씩 묶었더니 4묶음이었어요.

(병모)

2작

10 그림을 보고 10은 2의 몇 배인지 구해 보세요.

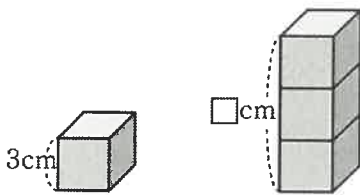
..... (3)



3개

- ① 3배 ② 4배 ③ 5배
④ 6배 ⑤ 7배

11 쌍기나무 한 개의 높이가 3 cm일 때, 쌍기나무 3개를 쌓은 높이는 몇 cm인지 풀이 과정을 쓰고, 답을 구하세요.



<풀이 과정>

쌍기나무 3개를 쌓은 높이는
쌍기나무 1개의 높이의 3배입니다.

<답> 9cm

따라서 3의 3배는 9이므로 9cm입니다.

12 수의 크기를 비교하여 더 큰 쪽의 기호를 써 보세요.

① 3씩 8묶음 < ② 6씩 5묶음

324 < 330

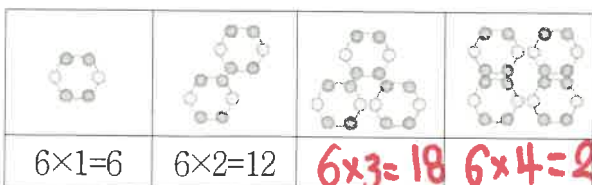
(L)

13 사과를 모두 몇 개인지 알아보려고 합니다. □ 안에 알맞은 수를 써넣으세요.



$4+4+4 = 12 \rightarrow 4 \times 3 = 12$

14 그림을 보고 곱셈식으로 나타내어 보세요.



$6 \times 1 = 6$

$6 \times 2 = 12$

$6 \times 3 = 18$

$6 \times 4 = 24$

15 곱셈식을 알아 보세요.

$7 \times 3 = 21$

→ 7 곱하기 3은 21과 같습니다.

16 음료수는 모두 몇 개인지 여러 가지 곱셈식으로 나타 내시오.




$3 \times 8 = 24$

$8 \times 3 = 24$

$4 \times 6 = 24$

$6 \times 4 = 24$

17 자동차 한 대에는 바퀴가 4개 있습니다. 자동차 5대 에 있는 바퀴는 모두 몇 개인지 덧셈식과 곱셈식으로 나타내어 보세요.



<덧셈식> $4+4+4+4+4 = 20$

<곱셈식> $4 \times 5 = 20$

18 지역아의 나이는 9살이고 할머니의 연세는 지역아의 나이의 8배입니다. 할머니의 연세는 몇 세인지 구해 보세요.

$9 \times 8 = 72$ (72세)

19 달걀이 6개씩 5줄로 판에 담겨 있습니다. 달걀 한 판은 모두 몇 개인가요?

$6 \times 5 = 30$ (30개)

20 1부터 9까지의 숫자 중에서 □ 안에 들어갈 수 있는 숫자를 모두 찾아 보세요.

$8 \times 7 < 5 \square$

56보다 큰 수는 57, 58, 59

3쪽 (7, 8, 9)

☀️ 단원 시작 빙고게임! ☀️

2학년 ()반 ()번 이름()

수요일 3교시 통합/가을 빙고는 월요일에 선생님과 함께해요.	배울 내용을 알아봅시다!
--------------------------------------	---------------

🍁 가을 2-2책을 살피면서 아래에 제시된 초성퀴즈의 답을 찾으세요. 퀴즈의 답을 찾은 후 그 중에서 16개를 골라 맨 아래의 빙고판에 적습니다.

즈르즈르 (주렁주렁) 힌트 : 72쪽	ㅇ기비기 (울긋불긋) 힌트 : 73쪽	기사ㅁ (긴소매) 힌트 : 76쪽	기ㅇ기르ㅇㅇ (가웃거렸어요) 힌트 : 76쪽
기따기따 (귀뚜라미) 힌트 : 78쪽	ㅅㅈ (산책) 힌트 : 80쪽	ㄷㅈㅈ (단풍구경) 힌트 : 83쪽	기ㅇ (겉옷) 힌트 : 83쪽
비기비기비기 (뱅글뱅글뱅글) 힌트 : 85쪽	비ㄴㅎㅅㅇ (반납하세요) 힌트 : 86쪽	ㅈ기ㅈ (책갈피) 힌트 : 88쪽	ㄷㅅ기 (도서관) 힌트 : 89쪽
기ㅅ (곡식) 힌트 : 90쪽	ㅈㅈㅅㅅㅇㅇ (저저 주셨어요) 힌트 : 93쪽	ㄷㄷㅅ (뒷동산) 힌트 : 95쪽	ㅇㅁ (열매) 힌트 : 98쪽
ㅇ기르 (욱가락) 힌트 : 100쪽	ㄷㅌ르르 ㅁㅇㅈ (도토리를 모으자) 힌트 : 102쪽	ㅁ기ㅁ기ㅎㄷ (매끈매끈하다) 힌트 : 105쪽	ㅇㅎㅇ (은행잎) 힌트 : 108쪽
기ㅅㅁㅅ (코스모스) 힌트 : 111쪽	기ㅎ (경험) 힌트 : 113쪽	ㄴㅇ (낙엽) 힌트 : 123쪽	ㅈㅅ (걸서) 힌트 : 128쪽

4쪽

수요일 4교시 통합/가을	가을 공부 게시판 색칠하기	2학년 반 ()번 이름 ()
------------------	-------------------	--



색칠하기

“가을아 어디 있니”

5쪽

15급 [11. 상상의 날개를 펴요]

월 일 이름:

1	걱정	이	되어	잠을	잘	수가		
	걱정	이	되어	잠을	잘	수가		
2	계획	을	세울	때까지				
	계획	을	세울	때까지				
3	잠에	빠져	들었어요.					
	잠에	빠져	들었어요.					
4	정확	하게	열한	시에				
	정확	하게	열한	시에				
5	입을	탁	다물었어요.					
	입을	탁	다물었어요.					
6	선생	님이	호되게	말했어요.				
	선생	님이	호되게	말했어요.				
7	받아	보지	않겠습니까?					
	받아	보지	않겠습니까?					
8	딱	질색	이었던	거든요.				
	딱	질색	이었던	거든요.				
9	이제	입을	꼭	다무세요.				
	이제	입을	꼭	다무세요.				
10	이가	단단히	들러붙어서					
	이가	단단히	들러붙어서					

15급 [11. 상상의 날개를 펴요]

월 일 이름:

1	걱정	이	되어	잠을	잘	수가		
	걱정	이	되어	잠을	잘	수가		
2	계획	을	세울	때까지				
	계획	을	세울	때까지				
3	잠에	빠져	들었	어요.				
	잠에	빠져	들었	어요.				
4	정확	하게	열한	시에				
	정확	하게	열한	시에				
5	입을	탁	다물	었어요.				
	입을	탁	다물	었어요.				
6	선생	님이	호되	게	말했	어요.		
	선생	님이	호되	게	말했	어요.		
7	받아	보지	않겠	습니까?				
	받아	보지	않겠	습니까?				
8	딱	질색	이	엇거	든요.			
	딱	질색	이	엇거	든요.			
9	이제	입을	꼭	다무	세요.			
	이제	입을	꼭	다무	세요.			
10	이가	단단	히	들러	붙어	서		
	이가	단단	히	들러	붙어	서		

1. 아래는 ‘위험해’ 가족의 모습입니다. 위험한 행동을 하는 친구들을 찾아 색칠해주세요.



< 가정에서의 안전 : 무조건 읽기 >

1. 콘센트를 뺄 때는 줄을 잡고 빼거나 젖은 손으로 빼지 않아요.
2. 침대나 소파 위에서 뛰거나 점프하지 않아요. (넘어져 다칠 수 있어요)
3. 휴대폰이나 tv를 너무 많이 시청하면 몸에 좋지 않아요.
4. 팔을 문에(서랍문도 포함!) 끼우는 장난을 하거나 문을 세게 닫다가 손가락을 끼이는 사고가 나지 않도록 주의해요.
5. 장난감으로 놀았으면 바로 정리해주세요. 정리하지 않은 장난감을 밟아서 사고가 날 수 있어요.
6. 창문이나 베란다 난간은 위험하니 근처에서 놀지 않아요.

2. 다음 그림의 상황에서 올바른 행동에 0 를 쳐봅시다.



손에 닿지 않은 곳의 물건은

1. 위험하게 혼자 꺼낸다. ()
2. 어른께 부탁한다. (O)



집에 있다가 모르는 사람이 찾아오면
[택배 기사님/ 부모님과 아는 사람이어도]

1. 반갑게 문을 열어준다. ()
2. 절대 문을 열지 않는다. (○)



계산을 하세요.

$$\begin{array}{r} \textcircled{1} \quad 11 \\ 57 \\ + 59 \\ \hline 116 \end{array}$$

$$\begin{array}{r} \textcircled{7} \quad 1 \\ 28 \\ + 47 \\ \hline 75 \end{array}$$

$$\begin{array}{r} \textcircled{13} \quad 1 \\ 18 \\ + 36 \\ \hline 54 \end{array}$$

$$\begin{array}{r} \textcircled{19} \quad 610 \\ 74 \\ - 65 \\ \hline 9 \end{array}$$

$$\begin{array}{r} \textcircled{2} \quad 510 \\ 60 \\ - 42 \\ \hline 18 \end{array}$$

$$\begin{array}{r} \textcircled{8} \quad 1 \\ 28 \\ + 19 \\ \hline 47 \end{array}$$

$$\begin{array}{r} \textcircled{14} \quad 11 \\ 58 \\ + 92 \\ \hline 150 \end{array}$$

$$\begin{array}{r} \textcircled{20} \quad 810 \\ 91 \\ - 48 \\ \hline 43 \end{array}$$

$$\begin{array}{r} \textcircled{3} \quad 11 \\ 23 \\ + 88 \\ \hline 111 \end{array}$$

$$\begin{array}{r} \textcircled{9} \quad 710 \\ 81 \\ - 72 \\ \hline 9 \end{array}$$

$$\begin{array}{r} \textcircled{15} \quad 610 \\ 70 \\ - 69 \\ \hline 1 \end{array}$$

$$\begin{array}{r} \textcircled{21} \quad 710 \\ 84 \\ - 17 \\ \hline 67 \end{array}$$

$$\begin{array}{r} \textcircled{4} \quad 110 \\ 25 \\ - 18 \\ \hline 7 \end{array}$$

$$\begin{array}{r} \textcircled{10} \quad 11 \\ 89 \\ + 67 \\ \hline 156 \end{array}$$

$$\begin{array}{r} \textcircled{16} \quad 1 \\ 68 \\ + 50 \\ \hline 118 \end{array}$$

$$\begin{array}{r} \textcircled{22} \quad 11 \\ 72 \\ + 69 \\ \hline 141 \end{array}$$

$$\begin{array}{r} \textcircled{5} \quad 710 \\ 87 \\ - 39 \\ \hline 48 \end{array}$$

$$\begin{array}{r} \textcircled{11} \quad 810 \\ 92 \\ - 17 \\ \hline 75 \end{array}$$

$$\begin{array}{r} \textcircled{17} \quad 610 \\ 70 \\ - 41 \\ \hline 29 \end{array}$$

$$\begin{array}{r} \textcircled{23} \quad 11 \\ 67 \\ + 74 \\ \hline 141 \end{array}$$

$$\begin{array}{r} \textcircled{6} \quad 310 \\ 40 \\ - 19 \\ \hline 21 \end{array}$$

$$\begin{array}{r} \textcircled{12} \quad 1 \\ 72 \\ + 92 \\ \hline 164 \end{array}$$

$$\begin{array}{r} \textcircled{18} \quad 1 \\ 91 \\ + 97 \\ \hline 188 \end{array}$$

$$\begin{array}{r} \textcircled{24} \quad 11 \\ 76 \\ + 75 \\ \hline 151 \end{array}$$

11쪽



2학년 1학기
3.덧셈과 뺄셈
몇십 몇 ± 몇십 몇 A

문제지번호 EB8B2521



2020-08-26

계산을 하세요.

$$\begin{array}{r} 710 \\ 80 \\ - 11 \\ \hline 69 \end{array}$$

$$\begin{array}{r} 1 \\ 52 \\ + 18 \\ \hline 70 \end{array}$$

$$\begin{array}{r} 710 \\ 87 \\ - 68 \\ \hline 19 \end{array}$$

$$\begin{array}{r} 11 \\ 69 \\ + 33 \\ \hline 102 \end{array}$$

$$\begin{array}{r} 610 \\ 74 \\ - 36 \\ \hline 38 \end{array}$$

$$\begin{array}{r} 11 \\ 64 \\ + 37 \\ \hline 101 \end{array}$$

$$\begin{array}{r} 610 \\ 74 \\ - 56 \\ \hline 18 \end{array}$$

$$\begin{array}{r} 11 \\ 86 \\ + 44 \\ \hline 130 \end{array}$$

$$\begin{array}{r} 11 \\ 88 \\ + 92 \\ \hline 180 \end{array}$$

$$\begin{array}{r} 610 \\ 73 \\ - 58 \\ \hline 15 \end{array}$$

$$\begin{array}{r} 11 \\ 87 \\ + 35 \\ \hline 122 \end{array}$$

$$\begin{array}{r} 1 \\ 76 \\ + 60 \\ \hline 136 \end{array}$$

$$\begin{array}{r} 1 \\ 28 \\ + 19 \\ \hline 47 \end{array}$$

$$\begin{array}{r} 1 \\ 84 \\ + 82 \\ \hline 166 \end{array}$$

$$\begin{array}{r} 510 \\ 60 \\ - 21 \\ \hline 39 \end{array}$$

$$\begin{array}{r} 210 \\ 31 \\ - 13 \\ \hline 18 \end{array}$$

$$\begin{array}{r} 1 \\ 29 \\ + 62 \\ \hline 91 \end{array}$$

$$\begin{array}{r} 310 \\ 42 \\ - 13 \\ \hline 29 \end{array}$$

$$\begin{array}{r} 11 \\ 51 \\ + 79 \\ \hline 130 \end{array}$$

$$\begin{array}{r} 610 \\ 74 \\ - 69 \\ \hline 5 \end{array}$$

$$\begin{array}{r} 11 \\ 44 \\ + 98 \\ \hline 142 \end{array}$$

$$\begin{array}{r} 110 \\ 27 \\ - 18 \\ \hline 9 \end{array}$$

$$\begin{array}{r} 1 \\ 92 \\ + 57 \\ \hline 149 \end{array}$$

$$\begin{array}{r} 110 \\ 22 \\ - 19 \\ \hline 3 \end{array}$$

1222
7