

· 화이트! ♥ 우리 친구들! 사랑해요!

# 12.14 ~ 12.17 EBS 편성표 ★ 원격수업 시간표(12.18.~12.21. 가정학습 포함)

군산지곡초 2학년 반 ( )번 이름: \_\_\_\_\_

★ 12.14.(월) ~ 12.17.(목) 원격수업으로 공부해요. 시간표에 등교일 학습 진도도 포함했어요.

☆ 우리 친구들은 12.18(금), 12.21(월) 등교합니다! 가정학습의 경우 부록으로 공부해 보세요.

★ 앞으로 당분간 학교 진도는 EBS 진도에 맞춰 나갑니다. 가정체험학습을 신청한 친구들이 많아 등교일도 원격수업으로 진행하는 친구들과 함께 진도를 맞추기 위함이니 참고해주세요.

♡ 우리 친구들과 만나는 날도 정말 얼마 남지 않았어요. 선생님은 많이 아쉽네요.

남은 기간, 무사히 마무리 지을 수 있도록 합시다. 건강하고 행복하게! 우리 친구들, 사랑합니다!

구분	수업	과목	학습 주제	교과서(쪽)	부모님 확인
12/14 (월)	1교시	국어	10단원 받아쓰기1	꾸러미 1,2	
	2교시	국어	[EBS방송] 10단원 - 칭찬하는 말을 하거나 들었던 경험 나누기	258~261쪽	
	3교시	수학	[EBS방송] 6단원 - 규칙 찾기/덧셈표에서 규칙을 찾아볼까요	수 126-127 수익 82-83	
	4교시	독서	책과 친해지는 시간	◆	
12/15 (화)	1교시	창체	달력 만들기(또는 엽서북 색칠하기)	◆	
	2교시	국어	[EBS방송] 10단원 - 칭찬하는 말을 하거나 들었던 경험을 나눌 수 있는지 확인해 보기	국어활동 80-82	
	3교시	통합	[EBS방송] 2단원 - 겨울철의 동물 친구들	114-119	
	4교시	수학	4. 시각과 시간 - 문제 풀기1	꾸러미3	
12/16 (수)	1교시	수학	4. 시각과 시간 - 문제 풀기2	꾸러미4	
	2교시	국어	[EBS방송] 10단원 - 칭찬하는 말과 대답하는 말을 하는 방법 알기	262-266	
	3교시	수학	[EBS방송] 6단원 - 규칙 찾기/곱셈표에서 규칙을 찾아볼까요	수 128-129 수익 84-85	
	4교시	통합	겨울 2단원 - 다른 나라 음식	꾸러미5,6	
	5교시			겨울 58-59	
12/17 (목)	1교시	수학	5. 표와 그래프 - 문제 풀기	꾸러미7,8	
	2교시	국어	[EBS방송] 10단원 - 칭찬하는 말 주고받기	국 267 국활 83-84	
	3교시	통합	[EBS방송] 2단원 - 겨울눈에 대해 알아보기	124-129	
	4교시	독서	독서하기 + 독서록 쓰기	◆	
	5교시	창체			
등교 수업 12/18 (금)	1교시	수학	가정학습: 부록은 홈페이지 다운 받아쓰세요.(선택)	부록	
	2교시	수학	[EBS방송] 6단원 - 규칙 찾기/무늬에서 규칙을 찾아볼까요	수 130-131 수익 86-87	
	3교시	안전	[EBS방송] 안전한 생활 - 안전하고 건강하게-계절마다 안전하게(3)	78-79	
	4교시	창체	가정학습: 독서	◆	
	5교시				
등교 수업 12/21 (월)	1교시	수학	가정학습: 부록은 홈페이지 다운 받아쓰세요.(선택)	부록	
	2교시	국어	[EBS방송] 10단원 - 칭찬 쪽지 쓰기	국 268-271 국활 85	
	3교시	수학	[EBS방송] 6단원 - 규칙 찾기/무늬에서 규칙을 찾아볼까요(2)	수 132-133 수익 88-89	
	4교시	독서	가정학습: 독서	◆	

12월 14일(월) 1교시 받아쓰기	10. 칭찬하는 말을 주고받아요	2학년 반 ( )번 이름 ( )
------------------------	-------------------	----------------------

14급[10. 칭찬하는 말을 주고받아요]										
1	어	림	도		없	지	.			
2	너	의		첫		날	갓	짓	은	
3	칭	찬		덕	분	이	에	요	.	
4	방	향	을		잃	을		수		
5	거	센		회	오	리	바	람		
6	손	가	락	을		꼭	고	,		
7	네		글	씨	도		바	른	걸	?
8	시	끄	럽	다	더	니	...	...	.	
9	표	정	,	목	소	리	,	행	동	
10	빈	칸	이		채	워	지	면		

12월 14일(월) 1교시 받아쓰기	10. 칭찬하는 말을 주고받아요	2학년 반 ( )번 이름 ( )
------------------------	-------------------	----------------------

14급[10. 칭찬하는 말을 주고받아요]									
1	어	림	도		없	지	.		
2	너	의		첫		날	갓	짓	은
3	칭	찬		덕	분	이	에	요	.
4	방	향	을		잃	을		수	
5	거	센		회	오	리	바	람	
6	손	가	락	을		꼭	고	,	
7	네		글	씨	도		바	른	걸 ?
8	시	끄	럽	다	더	니	...	...	.
9	표	정	,	목	소	리	,	행	동
10	빈	칸	이		채	워	지	면	

12월 15일(화) 4교시  
수학 4단원 복습

## 4. 시각과 시간

2학년 반 ( )번  
이름 ( )

1. 시계의 시각을 읽어 보세요.



시  분

2. 시계의 시각을 읽어 보세요.



시  분

3. 시각에 맞게 긴바늘을 그려 넣으세요.

4시



4. 시계의 긴바늘이 가리키는 숫자에 따라 빈 칸에 알맞은 수를 써넣으세요.

숫자	1	2	3
분	5		15

5. 시계를 보고 □ 안에 알맞은 수를 써넣으세요.



7 시  분

8 시  분 전

6. □ 안에 알맞은 말을 써넣으세요.

전날 밤 12시부터 낮 12시까지를  이라고  
하고, 낮 12시부터 밤 12시까지를  라고  
합니다.

7. □ 안에 알맞은 수를 써넣으세요.

1시간 =  분

8. □ 안에 알맞은 수를 써넣으세요.

80분 =  시간  분


9. ○ 안에 >, =, <를 알맞게 써넣으세요.

50분 ○ 1시간 10분

10. 하루 동안 시계의 긴 바늘은 시계를 모두 몇 바퀴  
돌까요?

( ) 바퀴

11. 다음 시각에서 60분 지났을 때의 시각을 그려 보세요.



12. 윤후가 학교에 도착한 시각은 다음과 같습니다. 윤후  
는 학교에 도착하기 20분 전에 집에서 출발하였다  
면, 윤후가 집에서 출발한 시각은 몇 시 몇 분일까  
요?



( ) 시 ( ) 분

〈시간→분 고치기〉

1시간은 몇 분? ( )분

2시간은 몇 분? 1시간이 2번  $\Rightarrow$  ( )분이 2번  $\Rightarrow$  ( )분+( )분 = ( )분

3시간은 몇 분? 1시간이 3번  $\Rightarrow$  ( )분이 3번  $\Rightarrow$  ( )분+( )분+( )분 = ( )분

3시간 20분은 몇 분? 1시간이 3번, 나머지는 20분  $\Rightarrow$  ( )분이 3번, 나머지는 20분  
 $\Rightarrow$  ( )분+( )분+( )분+ 20분 = ( )분

- ① 1시간 20분 = ( 60 )분 + ( )분 = ( )분
- ② 1시간 30분 = ( )분 + ( )분 = ( )분
- ③ 1시간 5분 = ( )분 + ( )분 = ( )분
- ④ 1시간 55분 = ( )분 + ( )분 = ( )분
- ⑤ 2시간 20분 = ( 60 )분 + ( 60 )분 + ( )분 = ( )분
- ⑥ 2시간 30분 = ( )분 + ( )분 + ( )분 = ( )분
- ⑦ 3시간 10분 = ( 60 )분 + ( 60 )분 + ( 60 )분 + ( )분 = ( )분
- ⑧ 3시간 30분 = ( )분 + ( )분 + ( )분 + ( )분 = ( )분

〈분→시간 고치기〉

60분은 몇 시간? ( )시간

120분은 몇 시간? 60분이 2번  $\Rightarrow$  ( )시간이 2번  $\Rightarrow$  ( )시간

180분은 몇 시간? 60분이 ( )번  $\Rightarrow$  1시간이 ( )번  $\Rightarrow$  ( )시간

200분은 몇 시간? 60분이 3번, 나머지는 ( )분  $\Rightarrow$  1시간이 ( )번, 나머지는 ( )분  
 $\Rightarrow$  ( )시간 ( )분

- ① 70분 = ( 60 )분 + ( )분 = ( )시간 ( )분
- ② 90분 = ( )분 + ( )분 = ( )시간 ( )분
- ③ 100분 = ( )분 + ( )분 = ( )시간 ( )분
- ④ 105분 = ( )분 + ( )분 = ( )시간 ( )분
- ⑤ 150분 = ( 60 )분 + ( 60 )분 + ( )분 = ( )시간 ( )분
- ⑥ 170분 = ( )분 + ( )분 + ( )분 = ( )시간 ( )분
- ⑦ 190분 = ( 60 )분 + ( 60 )분 + ( 60 )분 + ( )분 = ( )시간 ( )분
- ⑧ 200분 = ( )분 + ( )분 + ( )분 + ( )분 = ( )시간 ( )분

12월 16일(수) 4-5교시 겨울 58, 59쪽	다른 나라 음식	2학년 반 ( )번 이름 ( )
--------------------------------	----------	----------------------

※ 겨울 교과서 58-59쪽 다른 나라 음식 사진을 보고 알맞은 설명 붙이기

- 아래 표에는 다른 나라 음식의 이름, 재료와 특징이 적혀 있어요.
  - 천천히 살펴보고, 가위로 오려 보세요.
  - 교과서 58-59쪽 음식 사진 옆에 알맞은 표를 붙여 보세요.
- (아래 표를 가위로 오려서, 풀로 속~붙여 보기/ 표 2개 줄게요. 잘못 오리거나 실수하면 쓰세요.)  
\*어려우면 홈페이지 예시답안을 참고해서 붙여 봅니다.

중국(딤섬) 얇은 피 안에 다양한 재료를 넣어 만든 만두	일본(초밥) 식초로 간을 한 밥에 생선회등을 올려서 먹는 음식	인도(카레) 각종 향신료를 넣어 만든 소스를 밥에 얹어 먹거나 نان이라는 빵을 찍어 먹기도 함	베트남(쌀국수) 쌀로 만든 국수에 숙주와 고기, 해산물 등을 곁들여 먹는 음식
독일(소시지) 고기를 곱게 갈아서 동물의 창자에 채워 넣어 먹는 음식	프랑스(에스카르고) 달팽이에 버터소스를 채워서 구운요리	멕시코(타코스) 또띠아에 고기를 넣어 소스와 함께 먹는 음식	이탈리아(피자) 밀가루 반죽 위에 치즈,고기,채소 등을 얹어서 구운 음식
미국(햄버거) 등근 빵 사이에 고기와 채소 등의 각종 재료를 끼운 음식	스위스(퐁듀) 빵이나 고기를 꼬챙이에 끼워 따뜻하게 녹인 치즈에 찍어 먹는 음식	멕시코(퀘사디아) 또띠아 사이에 각종 채소, 치즈 등을 넣은 음식	영국,호주(고기파이) 다진 고기로 속을 채워서 파이처럼 구운 음식
한국(비빔밥) 밥 위에 각종 나물을 얹어서 고추장으로 비벼먹는 음식	스페인(파에야) 후라이팬에 고기,해물,채소,쌀등을 볶다가 샤프란과 옥수를 넣고 졸인 음식		

중국(딤섬) 얇은 피 안에 다양한 재료를 넣어 만든 만두	일본(초밥) 식초로 간을 한 밥에 생선회등을 올려서 먹는 음식	인도(카레) 각종 향신료를 넣어 만든 소스를 밥에 얹어 먹거나 نان이라는 빵을 찍어 먹기도 함	베트남(쌀국수) 쌀로 만든 국수에 숙주와 고기, 해산물 등을 곁들여 먹는 음식
독일(소시지) 고기를 곱게 갈아서 동물의 창자에 채워 넣어 먹는 음식	프랑스(에스카르고) 달팽이에 버터소스를 채워서 구운요리	멕시코(타코스) 또띠아에 고기를 넣어 소스와 함께 먹는 음식	이탈리아(피자) 밀가루 반죽 위에 치즈,고기,채소 등을 얹어서 구운 음식
미국(햄버거) 등근 빵 사이에 고기와 채소 등의 각종 재료를 끼운 음식	스위스(퐁듀) 빵이나 고기를 꼬챙이에 끼워 따뜻하게 녹인 치즈에 찍어 먹는 음식	멕시코(퀘사디아) 또띠아 사이에 각종 채소, 치즈 등을 넣은 음식	영국,호주(고기파이) 다진 고기로 속을 채워서 파이처럼 구운 음식
한국(비빔밥) 밥 위에 각종 나물을 얹어서 고추장으로 비벼먹는 음식	스페인(파에야) 후라이팬에 고기,해물,채소,쌀등을 볶다가 샤프란과 옥수를 넣고 졸인 음식		

- 꾸러미 5의 표 오리기/ 뒷장입니다.

12월 17일(목) 1교시  
수학 5단원 복습

## 5. 표와 그래프

2학년 반 ( )번  
이름 ( )





[1~3] 다음은 은아네 반 학생들이 좋아하는 동물을 조사한 것입니다. 물음에 답하시오.

학생들이 좋아하는 동물

					
민호	은아	순주	한샘	소영	태환
					
병수	선희	미정	우재	준성	재현
					
진희	정현	신우	선정	상현	혜림

1. 조사한 것을 보고 좋아하는 동물별로 학생 수를 조사하여 표로 나타내어 보세요.

좋아하는 동물별 학생 수

동물					합계
학생 수 (명)					

2. 강아지를 좋아하는 학생은 몇 명입니까?

( )명

3. 우재가 좋아하는 동물은 무엇입니까?

( )

[4~6] 다음은 규환이네 반 학생들이 좋아하는 과일별 학생 수를 조사하여 그래프로 나타낸 것입니다. 물음에 답하세요.

좋아하는 과일별 학생 수

학생 수 (명)	사과	배	감	포도	귤
10					
9	○				
8	○				
7	○	○			
6	○	○			○
5	○	○		○	○
4	○	○		○	○
3	○	○	○	○	○
2	○	○	○	○	○
1	○	○	○	○	○

4. 사과를 좋아하는 학생은 감을 좋아하는 학생보다 몇 명 더 많습니까?

( )명

5. 학생들이 두 번째로 좋아하는 과일은 무엇입니까?

( )

6. 가장 적은 학생이 좋아하는 과일은 무엇입니까?

( )

12월 17일(목) 1교시 수학 5단원 복습	5. 표와 그래프	2학년 반 ( )번 이름 ( )
-----------------------------	-----------	----------------------

[7~8] 다음은 주한이네 반 학생들이 태어난 달을 조사한 것입니다. 물음에 답하세요.

학생들이 태어난 달

이름	태어난 달	이름	태어난 달	이름	태어난 달
주한	12월	수지	10월	재현	5월
태홍	3월	성배	7월	범석	9월
희경	5월	민경	1월	소라	10월
웅태	2월	유진	12월	지혜	6월
태정	8월	조현	9월	나경	6월
창배	3월	다은	1월	미현	8월
성수	5월	예린	11월	가람	1월
소영	1월	하은	2월	형서	12월

7. 소라가 태어난 달은 몇 월입니까?

( ) 월

8. 주한이네 반 학생들은 모두 몇 명입니까?

( ) 명

9. 5월에 태어난 학생들의 이름을 모두 찾아 써 보세요.

( )

10. 조사한 것을 보고 표로 나타내어 보세요.

월별 태어난 학생 수

월	1	2	3	4	5	6
학생 수 (명)						
월	7	8	9	10	11	12
학생 수 (명)						

11. 가장 많은 학생들이 태어난 달은 언제입니까?

( ) 월

12. 한 명도 생일이 없는 달은 몇 월입니까?

( ) 월

수고했습니다.\*^^\*