	2-1	수학 기초 학습		날짜: _____
		단원	세 자리 수	2학년 반 번
		주제	백 알아보기 / 몇 백 알아보기	이름: _____

1. 백 알아보기

90보다
10 큰 수는
100입니다.

90-91-92-93-94-95-96-97-98-99-100

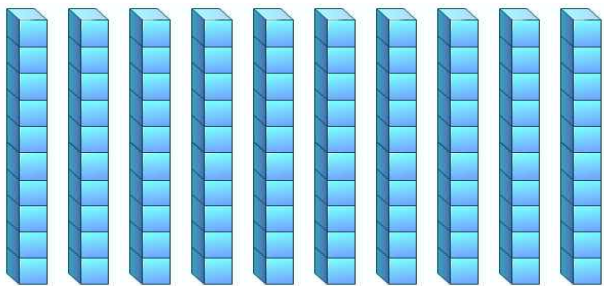
10-20-30-40-50-60-70-80-90-100

99보다
1 큰 수는
100입니다.

100은 백이라고
읽습니다.


<연습문제>

- (1) () 안에 알맞은 수를 써넣으시오.
1) 90보다 1 큰 수는 ()입니다.
2) 95보다 1 큰 수는 ()입니다.
3) ()보다 1 큰 수는 100입니다.
- (2) () 안에 알맞은 수를 써넣으시오.
1) 10을 1번 세면 10입니다. 2번 세면 ()입니다.
2) 10을 ()번 세면 50입니다.
3) 10을 10번 세면 ()입니다.
- (3) () 안에 알맞은 수를 써넣으시오.





10이 ()개 모이면
100입니다.

2. 몇 백 알아보기



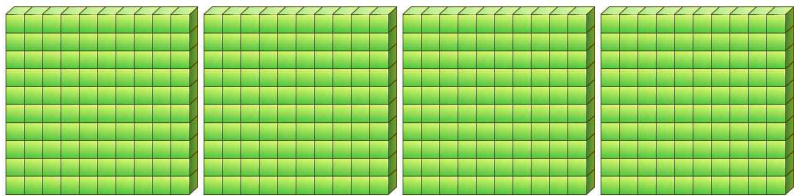
100이 2이면 **200**입니다
200은 **이백**이라고 읽습니다.




100이 3이면 **300**입니다
300은 **삼백**이라고 읽습니다.

<연습문제>

(1) 다음 수 모형을 보고, () 안에 알맞게 써넣으시오.



100이 4이면 400이라 쓰고, ()이라고 읽습니다.



100이 5이면 ()이라 쓰고, 오백이라고 읽습니다.

(2) () 안에 알맞게 써넣으시오.

- 1) 500보다 100 큰 수는 ()입니다.
- 2) ()보다 100 큰 수는 800입니다.