



## 주간학습안내 및 출석부 (12.31-1.5)

김제초등학교 2학년 반 이름:( )

- 이 양식은 '출석부'의 역할을 하므로 등교 출석일에 담임 선생님께 제출 합니다.
- 매일 주간학습안내 하단의 <부모님 확인란>에 자필 서명을 해주세요.
- 학생은 수업 시간이 끝나면 '자기 확인'란에 ○를 표시합니다.

날짜	1교시 (9:30~10:00)	2교시 (10:30~11:00)	3교시	4교시
12월 31일 (목)	EBS 국어	EBS 겨울	수학	안전
	역할극하기	겨울 탐정대의 친구 찾기 안녕!	밭고누 놀이하기	계절마다 안전하게
	국어 296-299쪽	겨울 152-153쪽	활동자료 1쪽	활동자료 3쪽
	자기 확인(    )	자기 확인(    )	자기 확인(    )	자기 확인(    )
1월 4일 (월)	국어	수학		창체
	바른 글씨 쓰기	표와 그래프	기본연산-덧셈	비주얼 씽킹
	활동자료 4쪽	활동자료 5쪽	활동자료 6쪽	활동자료 7쪽
	자기 확인(    )	자기 확인(    )	자기 확인(    )	자기 확인(    )
1월 5일 (화)	국어	수학		창체
	바른 말 알기 퀴즈	수학 복습하기		비주얼 씽킹
	활동자료 8쪽	활동자료 9-11쪽		활동자료 12쪽
	자기 확인(    )	자기 확인(    )		자기 확인(    )
1월 6일 (수)	등교수업			

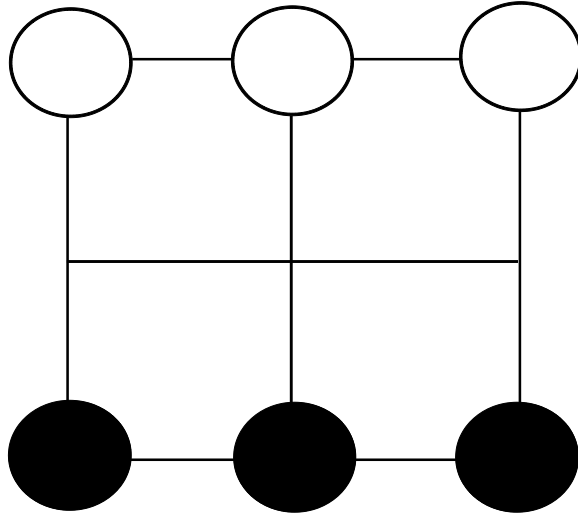
\* 부모님 확인 :



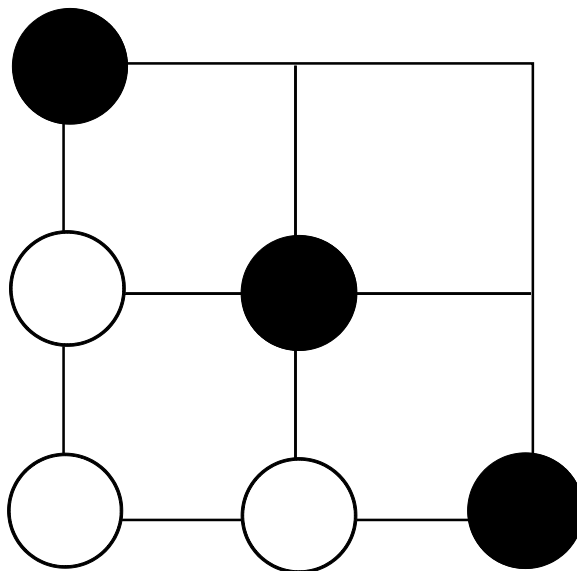


## 발고누 놀이방법

① 〈그림1〉처럼 말을 놓습니다.



〈그림1〉




〈그림2〉

② 번갈아 가며 길을 따라 한 번에 한 칸씩 말을 움직입니다.

③ 〈그림2〉와 같이 상대방의 말이 갈 곳이 없도록 길을 막아 버리면 이깁니다. (백이 더 이상 움직일 곳이 없기 때문에 흑이 이겼습니다.)



# 밭고누 놀이판





 눈이 많이 오고 추울 때 안전하게 행동하는 방법을 알아봅시다.

1. QR코드를 읽어 영상을 시청하세요.



(눈에서 대설까지)



(폭설이 무서워요)



(눈오는 날의 안전)

2. 눈이 많이 오고 추울 때의 안전 행동에 대해 알아봅시다.

<보기>

우리가족 / 신발 / 목도리 / 귀 / 좁게  
/ 일기예보 / 동상 / 손 / 장갑 / 실내

1	추울 때 손가락, 발가락, <input type="text"/> 부분의 <input type="text"/> <input type="text"/> 을 조심해요.
2	옷을 따뜻하게 입고 모자, <input type="text"/> <input type="text"/> , 귀마개, <input type="text"/> <input type="text"/> <input type="text"/> 를 해요.
3	따뜻한 <input type="text"/> <input type="text"/> 에서 몸을 녹여요.
4	우리 집 앞의 눈은 <input type="text"/> <input type="text"/> <input type="text"/> <input type="text"/> 이 직접 치워요.
5	텔레비전, 라디오, 인터넷, 휴대 전화 등으로 <input type="text"/> <input type="text"/> <input type="text"/> <input type="text"/> 를 확인해요.
6	눈길을 걸을 때는 주머니에 <input type="text"/> 을 넣지 않고, 미끄러지지 않는 <input type="text"/> <input type="text"/> 을 신어요.
7	발걸음 폭을 <input type="text"/> <input type="text"/> 하고 바닥을 보며 걸어요.



 문장부호의 쓰임을 생각하며 바르게 글씨를 따라 써 보세요.


일요일 아침, 눈이 내렸다. (일요일 아침,표 붙이기)

달력에 '생일'이라고 쓰여 있고 ('생일' 부호 붙이기)

동그라미가 표시된 것을 보았다. (것을 앞에 띄어쓰기 )

'누구 생일이지?' (마음속으로 생각할 때 부호"사용함 )



 수학책 121쪽 서진이네 반 학생들의 장래 희망을 보고 아래 문제를 풀고 암호 문을 완성한 후 암호의 정답을 생각해서 적어 보세요.

1. 요리사가 되고 싶은 학생은 모두 몇 명입니까?	2. 서경이의 장래 희망은 무엇입니까?	3. 도진이의 장래 희망은 무엇입니까?	4. 경찰관과 축구선수가 되고 싶어 하는 학생을 합하면 모두 몇 명입니까?
5. 민우의 장래 희망은 무엇입니까?	6. 가장 적은 학생이 되고 싶어 하는 직업은 무엇입니까?	7. 서진이네 반 학생은 모두 몇 명입니까?	8. 누가 무엇이 되고 싶은지 알려면 표와 자료 중에서 무엇을 봐야 합니까?
9. 과학자가 되고 싶은 학생은 예원, 보형, (     )이다.	10. 가장 인기있는 장래 희망을 쉽게 알기 위해서는 자료나 표 중에서 무엇을 봐야합니까?	11. o,x퀴즈 지유는 디자이너가 되고 싶다?	

<< 암호 해독 표 >>

장	세	정	뿐	인	는	못	서	먹	?	를	에
경찰관	3명	1명	자료	22명	표	2명	9명	12명	0	연서	선생님
우	!	상	.	은	데	가	을	다	예	산	개
디자이너	지성	축구 선수	x	현우	숫자	요리사	과학자	가은	24명	5명	사랑

<문제> \_\_\_\_\_

<정답> \_\_\_\_\_



덧셈을 하세요

① 1

$$\begin{array}{r} 50 \\ + 65 \\ \hline 115 \end{array}$$

⑦

$$\begin{array}{r} 63 \\ + 83 \\ \hline \end{array}$$

⑬

$$\begin{array}{r} 24 \\ + 17 \\ \hline \end{array}$$

⑮

$$\begin{array}{r} 66 \\ + 28 \\ \hline \end{array}$$

②

$$\begin{array}{r} 82 \\ + 70 \\ \hline \end{array}$$

⑧

$$\begin{array}{r} 41 \\ + 70 \\ \hline \end{array}$$

⑭

$$\begin{array}{r} 72 \\ + 18 \\ \hline \end{array}$$

⑳

$$\begin{array}{r} 73 \\ + 54 \\ \hline \end{array}$$

③

$$\begin{array}{r} 19 \\ + 38 \\ \hline \end{array}$$

⑨

$$\begin{array}{r} 52 \\ + 73 \\ \hline \end{array}$$

⑰

$$\begin{array}{r} 58 \\ + 14 \\ \hline \end{array}$$

㉑

$$\begin{array}{r} 28 \\ + 57 \\ \hline \end{array}$$

④

$$\begin{array}{r} 35 \\ + 19 \\ \hline \end{array}$$

⑩

$$\begin{array}{r} 77 \\ + 61 \\ \hline \end{array}$$

⑱

$$\begin{array}{r} 70 \\ + 33 \\ \hline \end{array}$$

㉒

$$\begin{array}{r} 35 \\ + 35 \\ \hline \end{array}$$

⑤

$$\begin{array}{r} 29 \\ + 46 \\ \hline \end{array}$$

⑪

$$\begin{array}{r} 41 \\ + 85 \\ \hline \end{array}$$

⑰

$$\begin{array}{r} 91 \\ + 84 \\ \hline \end{array}$$

㉓

$$\begin{array}{r} 19 \\ + 71 \\ \hline \end{array}$$

⑥

$$\begin{array}{r} 43 \\ + 39 \\ \hline \end{array}$$

⑫

$$\begin{array}{r} 40 \\ + 99 \\ \hline \end{array}$$


⑱

$$\begin{array}{r} 15 \\ + 77 \\ \hline \end{array}$$


㉔

$$\begin{array}{r} 90 \\ + 64 \\ \hline \end{array}$$




 동그라미와 직선, 네모를 이용하여 스틱맨을 그려봅시다.

\* 그림을 돌려서 보세요. 종합장 등 빈 공책에 그려보세요





 퀴즈를 풀어 O , X 로 나타내고 틀린 것을 바르게 고쳐보세요.

1. 구구단 좀 가르켜 줄래? ( )

2. 준비물 가져오는 걸 잃어버렸어. ( )

3. 도서관에 책 반납하는 걸 잊어버렸어. ( )

4. 송편과 월병은 다르구나. ( )

5. 중국의 명절음식은 우리나라와 틀리구나. ( )

6. 급식실 가는 방향을 가리켜 줄래? ( )

7. 음식을 작게 주세요. ( )

8. 건우 손이 민호 손 보다 적다. ( )



## 2-2 수학 복습하기

**1. 빈칸에 알맞은 수를 써넣으세요.**



(        )시 (        )분



(        )시 (        )분 전

2. 어느 해 11월의 달력입니다. 이 달의 화요일인 날짜를 모두 써보세요.

11월						
일	월	화	수	목	금	토
					1	2

( )

### 3. 빈칸에 알맞은 수를 써 넣으세요

**(1)**

$$\begin{array}{r} 2\text{m } 46\text{cm} \\ + 2\text{m } 52\text{cm} \\ \hline \square \text{ m } \square \square \text{ cm} \\ \square \square \square \text{ cm} \end{array}$$

**(2)**

$$\begin{array}{r} 5\text{m} \quad 52\text{cm} \\ - \quad 2\text{m} \quad 40\text{cm} \\ \hline \square \text{ m} \quad \square \square \text{ cm} \\ \square \square \square \text{ cm} \end{array}$$







8. 곱셈표를 보고 물음에 답하세요.

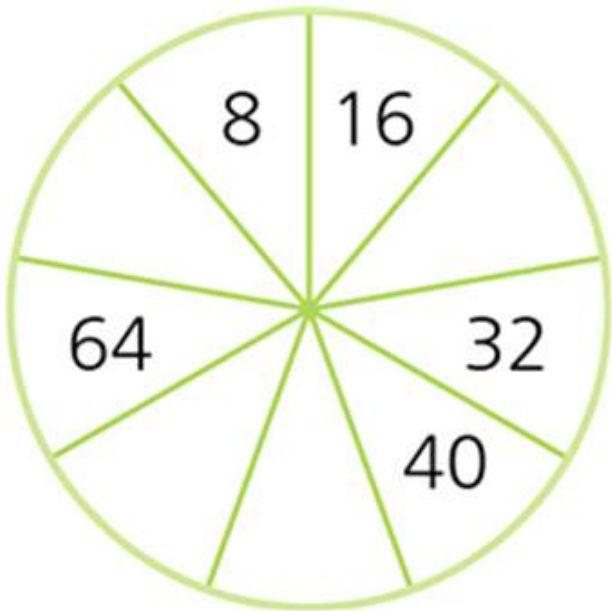
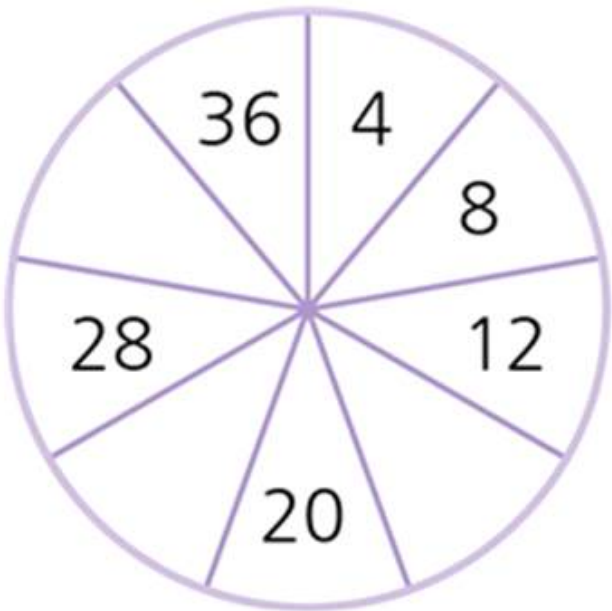
×	1	2	3	4	5	6	7	8	9
5		10			25		35		
6	6	12						48	
7			21	28			49		

(1) 곱셈표를 완성하세요.


(2) 곱셈표에서  $5 \times 7$  과 같은 곱셈구구는 무엇인지 찾아 쓰세요.

(                    )

9. 규칙을 찾아 빈칸에 알맞은 수를 써 넣으세요.





 동그라미와 직선, 네모를 이용하여 사각맨을 그려봅시다.

\* 그림을 돌려서 보세요. 종합장 등 빈 공책에 그려보세요

