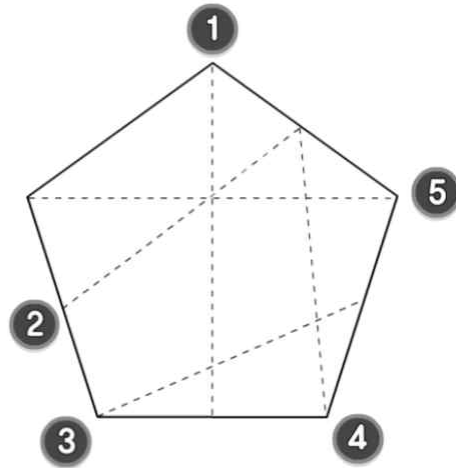


먼저 e학습터 학습 영상을 잘 보고, ‘지하 주차장’ 시를 다시 읽어보세요. 그리고 시에 대한 자신의 느낌을 살려 아래 미션 곡들의 노랫말을 알맞게 바꾸어 봅시다.

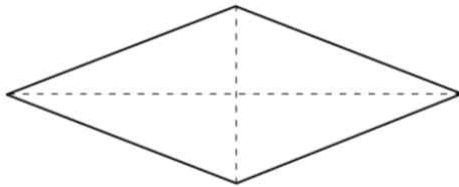
[illegible][illegible]

학년 반 번 이름:

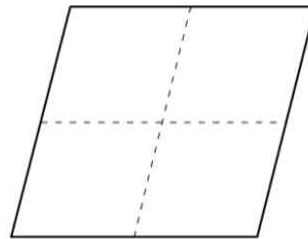
1. 도형에 그은 선분 중에서 대각선을 찾아보세요.



2. 도형에 대각선을 바르게 나타낸 것에 ○표 하세요.

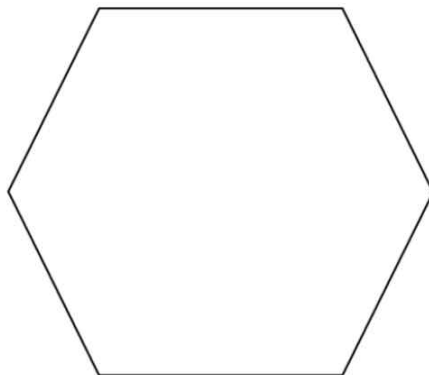


()

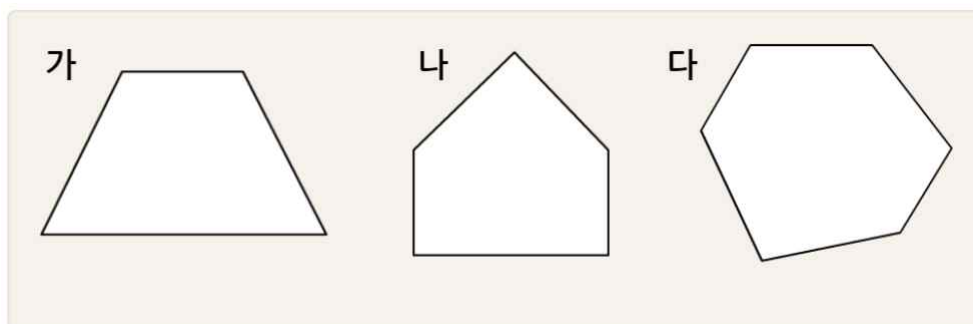


()

3. 다음 도형에 대각선을 모두 그어 보세요.

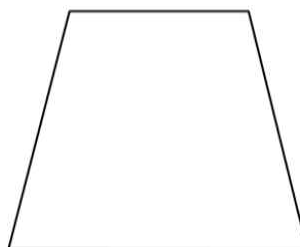
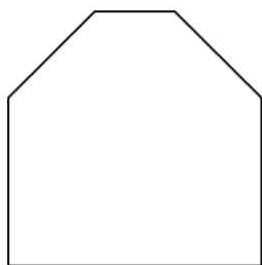


4. 대각선의 수가 적은 순서대로 기호를 써 보세요.



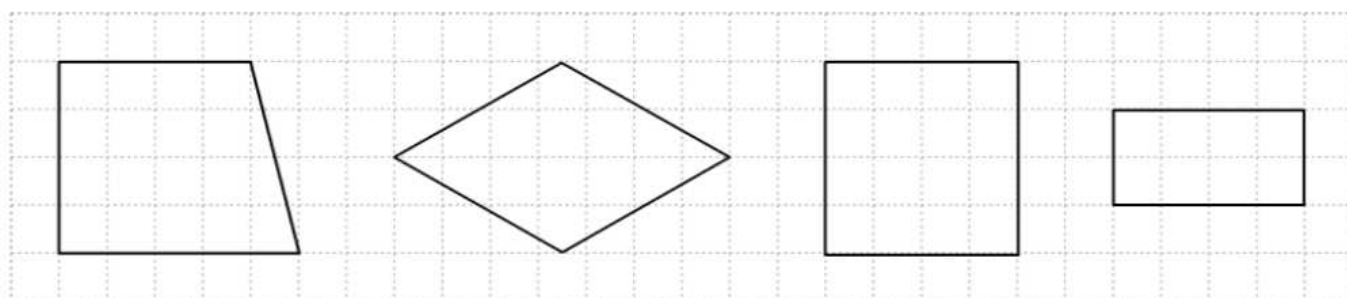
, ,

5. 두 도형의 대각선 수의 차를 구해 보세요.



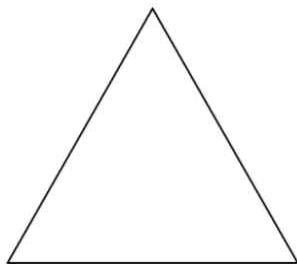
개

6. 대각선이 서로 수직으로 만나는 도형을 모두 찾아 ○표 하세요.



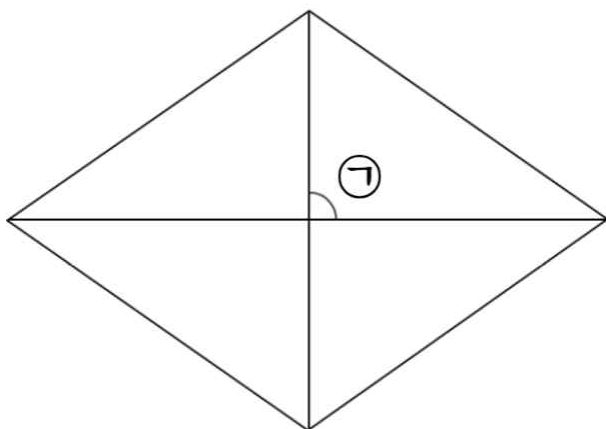
() () () ()

7. 삼각형에는 대각선을 그을 수 없습니다. 그 이유를 써보세요.



이유

8. 다음 도형은 마름모입니다. ㉠의 크기는 몇 도인가요?



9. 다음 도형은 정사각형 ABCD입니다. 선분 AC의 길이는 몇 cm인가요?

