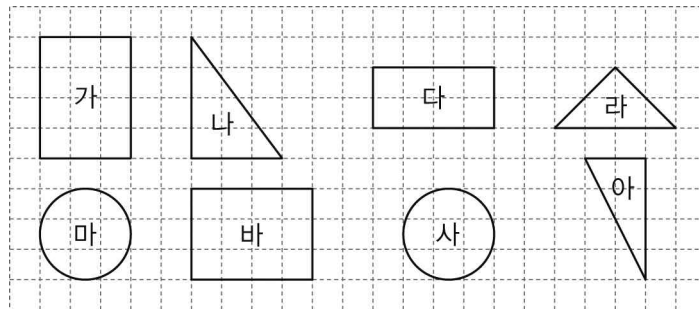




단원명	3. 합동과 대칭	차시	2~3/10	평가일	년 월 일
과제명	도형의 합동과 합동인 도형의 성질 알아보기	평가자	(인)		

활동 과제

※ 도형을 보고 물음에 답하세요. (1~2)



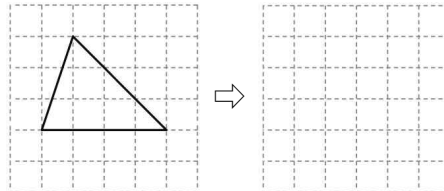
1. 도형 마와 서로 합동인 도형을 찾아 기호를 써 보세요.

()

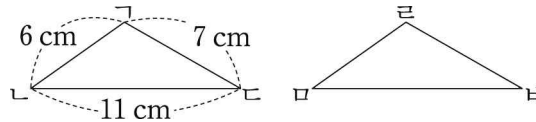
2. 도형 바와 서로 합동인 도형을 찾아 기호를 써 보세요.

()

3. 주어진 도형과 서로 합동인 도형을 그려 보세요.

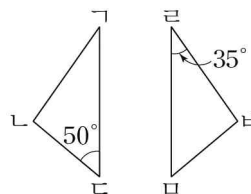


4. 두 삼각형은 서로 합동입니다. 변 \square 바은 몇 cm인가요?



()

5. 두 삼각형은 서로 합동입니다. 각 \square 바르은 몇 도인가요?



()