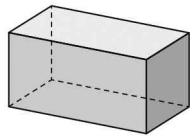




단원명	5. 직육면체	차시	2~3/10	평가일	년 월 일
과제명	직육면체, 정육면체 알아보기			평가자	(인)

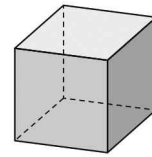
활동 과제

1. 다음과 같이 직사각형 6개로 둘러싸인 도형을 무엇이라고 할까요?



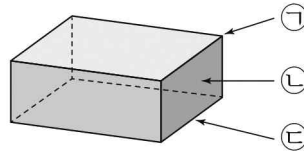
()

2. 다음과 같이 정사각형 6개로 둘러싸인 도형을 무엇이라고 할까요?



()

3. 직육면체를 보고 ㉠, ㉡, ㉢에 알맞은 말을 써 보세요.

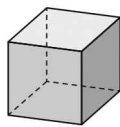
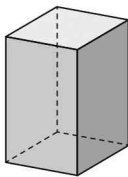


㉠ ()

㉡ ()

㉢ ()

4. 직육면체와 정육면체를 보고 빈 곳에 알맞은 수를 써넣으세요.



도형	면의 수(개)	모서리의 수(개)	꼭짓점의 수(개)
직육면체			
정육면체			

5. 직육면체와 정육면체에 대한 설명으로 잘못된 것을 모두 찾아 기호를 써 보세요.

- ㉠ 정육면체의 모서리의 길이는 모두 같습니다.
- ㉡ 정육면체는 직육면체라고 할 수 있습니다.
- ㉢ 직육면체의 모든 면은 모양과 크기가 같습니다.
- ㉣ 직육면체는 정육면체라고 할 수 있습니다.

()