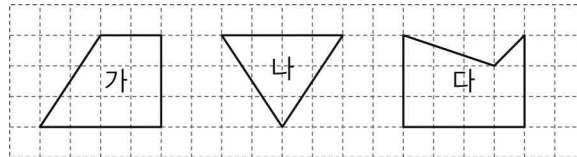




단원명	3. 합동과 대칭	차시	4~7/10	평가일	년 월 일
과제명	선대칭도형과 점대칭도형을 알기			평가자	(인)

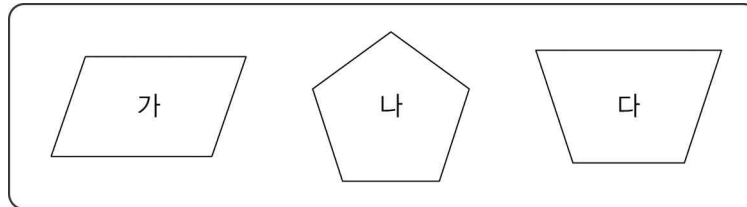
활동 과제

1. 선대칭도형을 찾아 기호를 써 보세요.



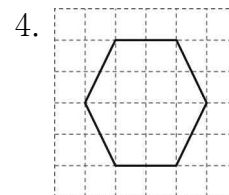
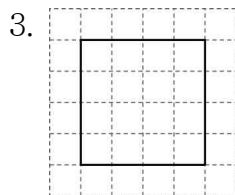
( )

2. 점대칭도형을 찾아 기호를 써 보세요.



( )

※ 다음은 선대칭도형입니다. 대칭축을 모두 그려 보세요. (3~4)



※ 다음은 점대칭도형입니다. 대칭의 중심을 찾아 표시해 보세요. (5~6)

