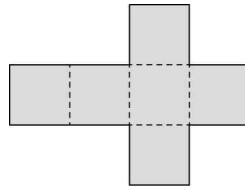




단원명	5. 직육면체	차시	6~7/10	평가일	년 월 일
과제명	정육면체, 직육면체의 전개도 알아보기			평가자	(인)

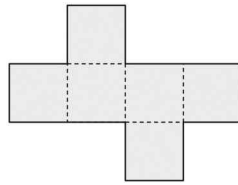
활동 과제

1. 정육면체의 모서리를 잘라서 펼친 그림을 정육면체의 무엇이라고 할까요?

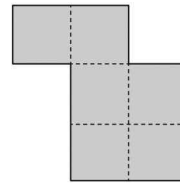


정육면체의 ( )

2. 정육면체의 전개도에 ○표 하세요.

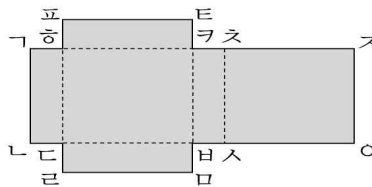


( )



( )

- ※ 직육면체의 전개도를 접어서 직육면체를 만들었습니다. 물음에 답하세요. (3~4)



3. 면 표호트과 마주 보고 있는 면을 써 보세요.

( )

4. 선분 ㄱ과 만나는 선분을 찾아 써 보세요.

( )

5. 직육면체의 전개도입니다. □ 안에 알맞은 수를 써넣으세요.

