

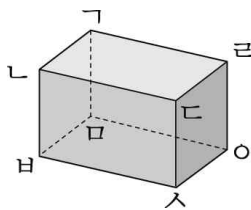


단원명	5. 직육면체	차시	4~5/10	평가일	년 월 일
과제명	직육면체의 성질, 겨냥도 알아보기			평가자	(인)

활동 과제

※ 직육면체를 보고 물음에 답하세요.

(1~3)



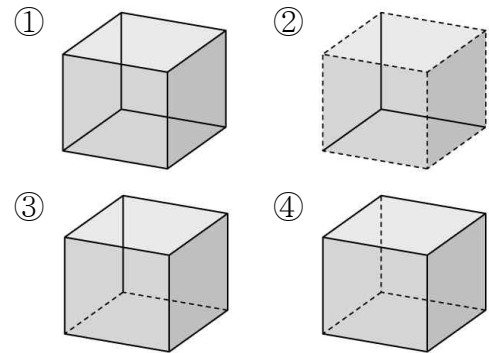
1. 면 ㄱㅁㅇㄹ과 평행한 면을 찾아 써 보세요.
()

2. 면 ㄴㅅㅁㄱ과 수직인 면이 아닌 것은 어느 것일까요? ()

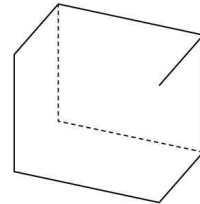
- ① 면 ㄱㄴㄷㄹ
- ② 면 ㄴㅅㅁㄱ
- ③ 면 ㄷㅅㅇㄹ
- ④ 면 ㄱㅁㅇㄹ
- ⑤ 면 ㅁㅂㅅㅇ

3. 모서리 ㄷㅅ과 길이가 같은 모서리를 모두 써 보세요.
()

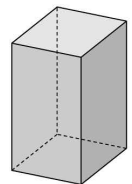
4. 직육면체의 겨냥도를 바르게 그린 것은 어느 것일까요? ()



5. 빠진 부분을 그려 넣어 직육면체의 겨냥도를 완성해 보세요.



6. 오른쪽 직육면체의 겨냥도를 보고 빈칸에 알맞은 수를 써넣으세요.



직육면체	보이는 수(개)	보이지 않는 수(개)
면		
모서리		
꼭짓점		