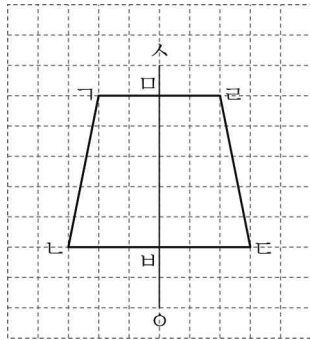




단원명	3. 합동과 대칭	차시	4~7/10	평가일	년 월 일
과제명	선대칭도형과 점대칭도형의 성질을 알고 그리기	평가자			(인)
활동 과제					

1. 다음은 선대칭도형입니다. 물음에 답하세요.



(1) 점 c의 대응점을 써 보세요.

( )

(2) 변 ab과 길이가 같은 변을 써 보세요.

( )

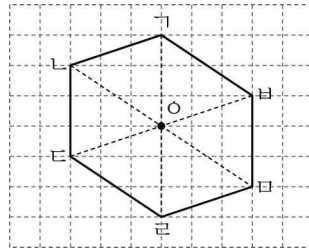
(3) 각 dcba와 크기가 같은 각을 써 보세요.

( )

(4) 대응점끼리 이은 선분 ab이 대칭축과 만나서 이루는 각은 몇 도인가요?

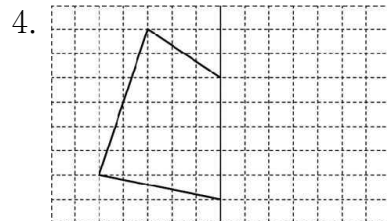
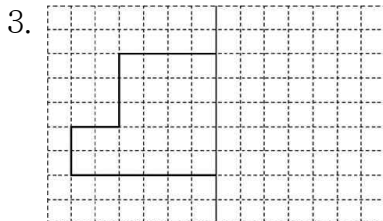
( )

2. 다음은 점대칭도형입니다. 선분 ab을 둘로 똑같이 나누는 점을 찾아 기호를 써 보세요.



( )

※ 선대칭도형을 완성해 보세요. (3~4)



※ 점대칭도형을 완성해 보세요. (5~6)

