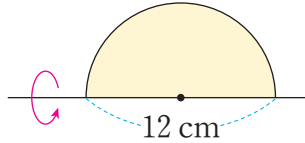


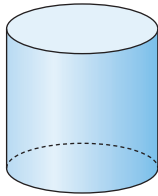
구를 알아볼까요

[1~3] 지름을 기준으로 반원 모양의 종이를 한 바퀴 돌렸습니다. 물음에 답하세요.

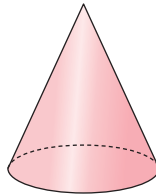


1 반원 모양의 종이를 한 바퀴 돌려 만들 수 있는 입체도형을 찾아 써 보세요.

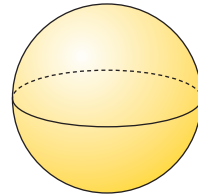
가



나



다

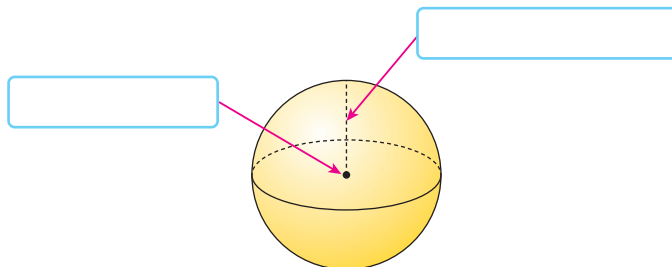


()

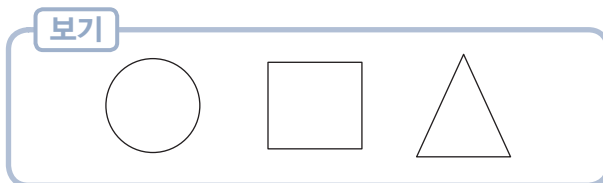
2 반원 모양의 종이를 한 바퀴 돌려 만든 입체도형의 반지름은 몇 cm인가요?

() cm

3 반원 모양의 종이를 한 바퀴 돌려 만든 입체도형에서 각 부분의 이름을 안에 써넣으세요.



4 입체도형을 위, 앞, 옆에서 본 모양을 **보기**에서 골라 그려 보세요.



입체도형	위에서 본 모양	앞에서 본 모양	옆에서 본 모양

5 원기둥, 원뿔, 구의 공통점과 차이점에 대한 친구들의 생각이 옳은지 알아보고, 그 이유를 써 보세요.

친구	친구의 생각	나의 생각
 지혜	구와 원뿔은 뾰족한 부분이 있지만 원기둥은 뾰족한 부분이 없어.	
 슬기	구와 원기둥, 원뿔은 어떤 방향에서 보아도 모양이 모두 원이야.	