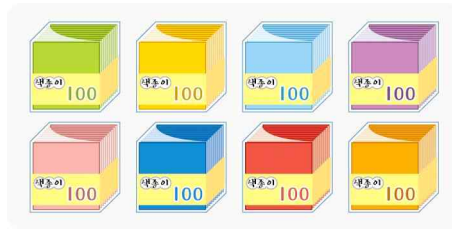
	수학 2-2	1. 네 자리의 수	똑똑한 1반 번
		1차시- 100이 10개인 수를 알아볼까요	이름

1. 다음 중에서 1000을 나타내는 것을 모두 고르세요.

()

- | | |
|----------------|---------------|
| ① 999보다 1 큰 수 | ② 90보다 10 큰 수 |
| ③ 90보다 10 작은 수 | ④ 100씩 10묶음 |
| ⑤ 90보다 10 큰 수 | |

2. 다음은 하은이가 가지고 있는 색종이를 나타낸 것입니다. 색종이 1000장을 가지려면 몇 묶음이 더 있어야 합니까?



() 묶음

3. 모두 얼마입니까?




() 원

4. □ 안에 알맞은 수를 써넣으세요.

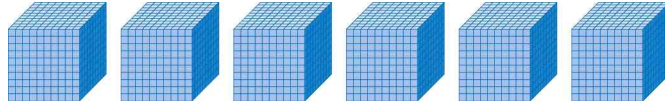
1000은 700보다 큰 수입니다.

5. □ 안에 알맞은 수를 써넣으세요.

- | | |
|--------------------------------------|---------|
| (1) 1000은 900보다 <input type="text"/> | 큰 수입니다. |
| (2) 1000은 990보다 <input type="text"/> | 큰 수입니다. |
| (3) 1000은 999보다 <input type="text"/> | 큰 수입니다. |

	수학 2-2	1. 네 자리의 수	똑똑한 1반 번
		2차시- 몇 천을 알아볼까요	이름

1. 그림에 알맞은 수를 쓰고, 읽어 보세요.






쓰기 (), 읽기 ()

2. 그림을 보고 모두 얼마인지 쓰세요.



()

3. 관계있는 것끼리 선으로 이으세요.


①  오천	• ㉠ 3000
②  1000이 3개인 수	• ㉡ 1000
③  100이 10개인 수	• ㉢ 5000

4. □ 안에 알맞은 수나 말을 써넣으세요.

1000이 5개이면 □ 이라 쓰고, □ 이라고 읽습니다.

5. □ 안에 알맞은 수나 말을 써넣으세요.

1000이 6개이면 □ 이라 쓰고 □ 이라고 읽습니다.

	수학 2-2	1. 네 자리의 수	똑똑한 1반 번
		3차시- 네 자리 수를 알아볼까요	이름

1. 숫자로 써 보세요.

삼천육백오

()

2. 강우가 콩을 세어 봉지에 담았습니다. 콩은 모두 몇 개입니까?

1000개씩	100개씩	10개씩	1개씩
			

() 개

3. 8069를 바르게 읽은 사람은 누구인지 이름을 쓰세요.

아람-팔천육십구, 유준-팔천육백구

()

4. 빈칸에 알맞은 수를 써넣으세요.


수	1000개씩 묶음	100개씩 묶음	10개씩 묶음	낱개
3038	2		3	8

5. 다음을 수로 쓰고, 읽어 보세요.

1000이 8개, 100이 4개,
10이 5개, 1이 3개인 수

쓰기 ()

읽기 ()

	수학 2-2	1. 네 자리의 수	똑똑한 1반 번
		4차시- 뛰어 세어 볼까요	이름

1. **보기**와 같이 덧셈식으로 나타내어 보세요.

—보기—
 $5432 = 5000 + 400 + 30 + 2$

$5698 = \square + \square + \square + \square$

2. 2986에서 2가 나타내는 값은 얼마입니까?

()

3. 백의 자리 숫자가 7인 수를 모두 찾아 기호를 쓰세요.

㉠ 2704	㉡ 5173	㉢ 1726
㉣ 8475	㉤ 7921	

()

4. ㉠과 ㉡이 나타내는 수를 쓰세요.

$\begin{array}{r} \underline{6}01\underline{6} \\ \text{㉠} \quad \text{㉡} \end{array}$
--


(㉠: , ㉡:)

5. 은호는 1000원짜리 2장, 100원짜리 15개, 10원짜리 6개를 가지고 있습니다. 은호가 가지고 있는 돈은 모두 얼마인지 쓰세요.

()원

6. 1000이 6개, 100이 2개, 10이 7개, 1이 6개인 수를 구하세요.

()

	수학 2-2	1. 네 자리의 수	똑똑한 1반 번
		5차시- 뛰어 세어 볼까요	이름

1. 빈칸에 알맞은 수를 써넣으세요.

		5378	6378	
--	--	------	------	--

2. 10씩 뛰어 세려고 합니다. 빈칸에 알맞은 수를 써넣으세요.

386	396	406	
-----	-----	-----	--

3. ■ 보기 ■의 규칙과 같은 방법으로 뛰어서 세려고 합니다. 빈칸에 알맞은 수를 써넣으세요.

■ 보기 ■			
4210-4310-4410-4510			
3590			

4. 뛰어 세어 빈칸에 알맞은 수를 차례로 써넣으세요.


1253	1263		
------	------	--	--

5. 100씩 뛰어서 세어 보세요.

2301	2401			
------	------	--	--	--

6. 100씩 뛰어서 세어 보세요.

3450		3650
		3950

	수학 2-2	1. 네 자리의 수	똑똑한 1반 번
		6차시- 뛰어 세어 볼까요	이름

1. 올해 진형이네 가족이 과수원에서 수확한 사과와 배의 수는 6859개, 배의 수는 6799개입니다. 사과와 배 중 개수가 더 많은 것은 무엇인지 쓰세요.

()

2. 두 수의 크기를 비교하여 ○ 안에 > 또는 <를 알맞게 써넣으세요.

4652 ○ 5654

3. 다음에서 가장 큰 수를 찾아 쓰세요.

7340, 8730, 8770

()

4. □ 안에 들어갈 수 있는 숫자를 모두 쓰세요.

4579 > 45□6

()

5. 다음과 같은 4장의 숫자 카드를 한 번씩만 사용하여 만들 수 있는 네 자리 수 중에서 가장 큰 수와 가장 작은 수를 쓰세요.

3 0 5 8

가장 큰 수 ()

가장 작은 수 ()

6. 작은 수부터 차례로 쓰세요.

3425, 8023, 2789, 4036, 4236

(, , ,)