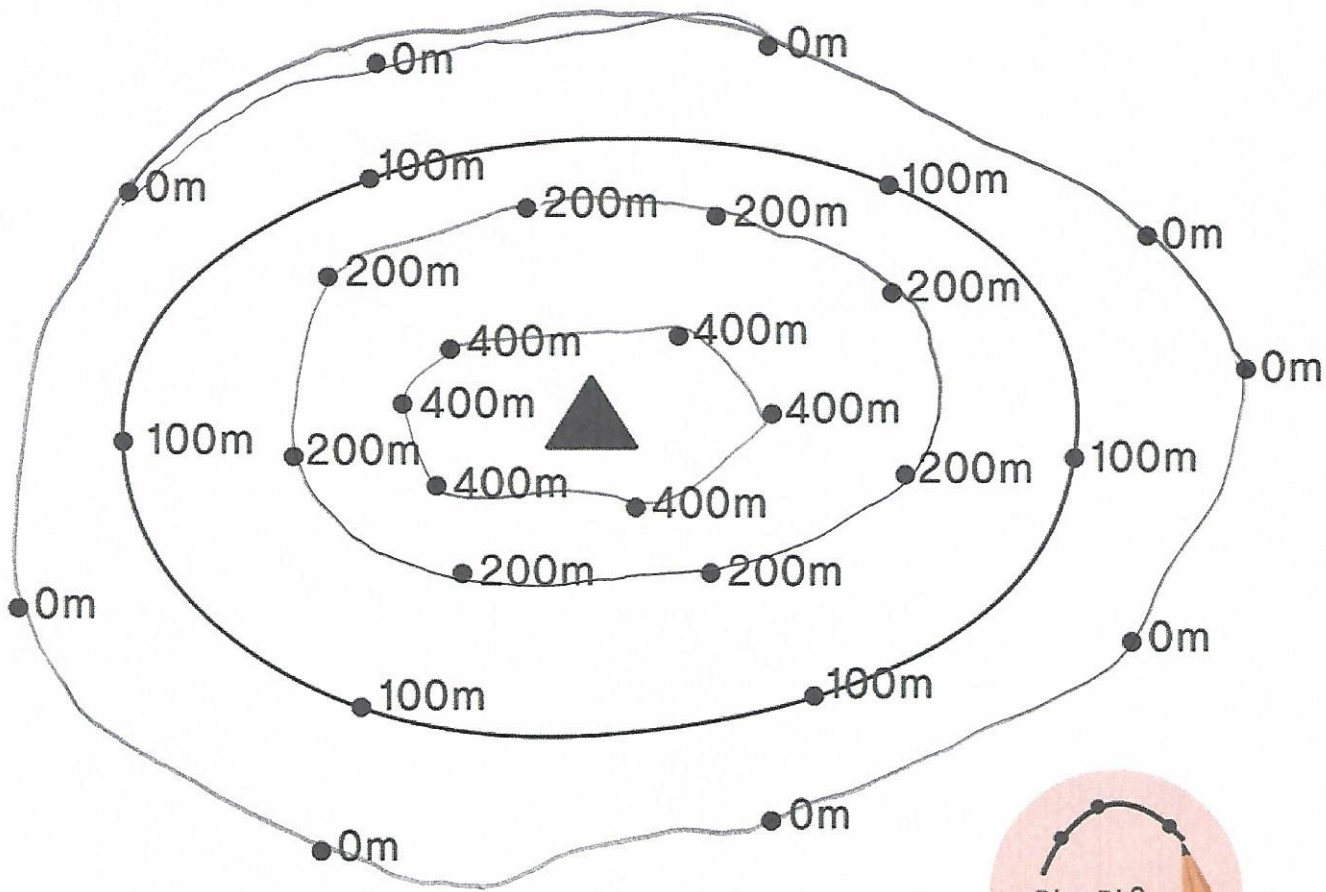


1. 지역의 위치와 특성 > [7차시] 지도에서 땅의 높낮이를 나타내는 방법 알아보기 (교과서 27~29쪽)

### 등고선 그려 보기

4 반 1 번 이름: 진태무 ))

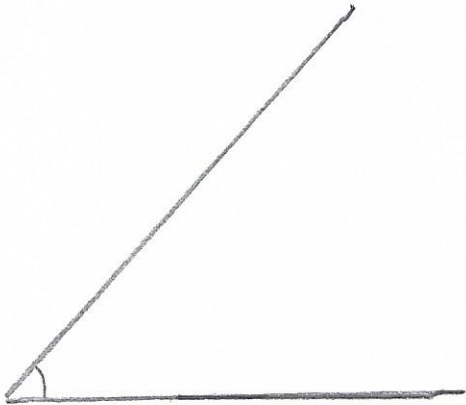
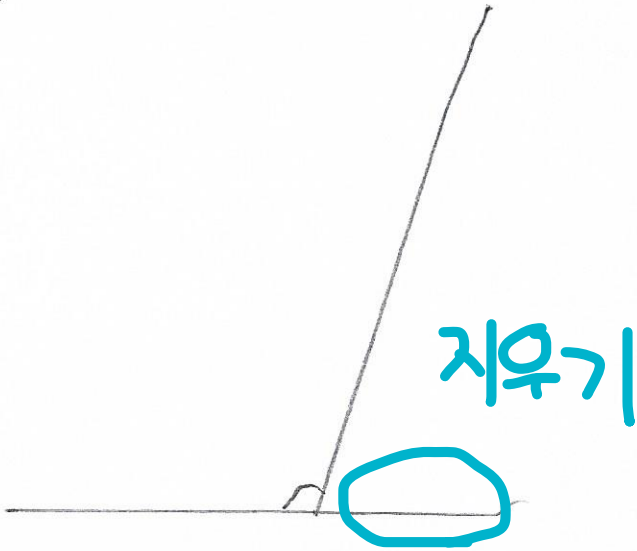


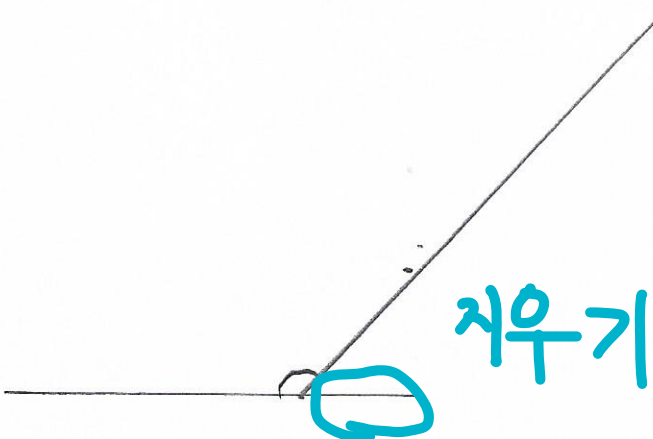
◎ 지도에서 높이가 같은 곳을 연결하여 땅의 높낮이를 나타낸 선을 등고선이라고 합니다. 그림에 나타난 같은 높이의 지점(●)끼리 곡선으로 부드럽게 이어서 등고선을 그려 봅시다.



점과 점은  
자연스러운  
선으로

참고 영상을 보고 학습한 후 각도기를 이용하여 각을 그려보세요

4학년 반 (22) 번 이름 : ( 진태민 )

<div>1) 45°</div> 	<div>2) 110°</div> 
<div>3) 75°</div> 	<div>4) 25°</div> 
<div>5) 135°</div> 	<div>6) 160°</div> 