

2학년



# 배움 꾸러미

2월 1주차



전주부설초등학교 2학년 3반 이름 :





손바닥을 원을 그리며  
문지르기



손등과 손바닥을  
문지르기



손가락지를 끼고  
문지르기



손을 마주 잡고  
문지르기



엄지 손가락을 잡고  
문지르기




손바닥을 손톱으로  
문지르기


“**코로나19** 예방하는  
**깨끗한 손씻기를**  
**실천해요**”




## 일정표

 2021.1.8.(금) ~ 2021.1.31.(일) : 방학입니다.

방학계획에 따라 알차고 건강하게 보내세요. (방학생활 안내 홈페이지 게시)

 2021.2.1.(월) 개학일이지만 2학년은 온라인 학습합니다. 미리 받은 꾸러미로 학습합니다. 8시 40분부터 줌으로도 만날 수 있어요^^

 2021.2.4.(목) 등교수업입니다. 방학을 마치고 첫 등교합니다. 이 꾸러미를 가지고 등교합니다.(출석확인)

## 2월 1주차 주간학습안내 및 출석표 (2.1 ~ 2.5.)

전주부설초등학교 2학년 3반 이름 :

- 이 표는 '학습 내용 확인' 및 '출석부'의 역할을 합니다. 꾸러미 결과물은 다음 등교하는 날 담임 선생님께 확인 받습니다.  
매 수업이 끝나면 학생은 '스스로 확인해요' 칸에 '○'그리기(꼭 해야함),  
하루 학습이 끝나면 부모님께서 '부모님 확인' 칸에 부모님 서명을 해주세요.
- 학습 과제에 대해 궁금한 점 등은 다음 우리 학급 등교하는 날 담임선생님께 여쭙어봅니다.
- 활동자료는 등교와 가정학습과 관계없이 모두 다 들어있습니다. 학교에 등교할 경우 진도에 맞추어 공부하고 활동자료를 활용할 수도 있습니다. 등교시 반드시 꾸러미를 가지고 올 수 있도록 하며 등교하지 않은 친구들은 가정에서 활용하시면 됩니다.

교시	2월 1일(월)온라인	2월 2일(화)온라인	2월 3일(수)온라인	2월 4일(목)등교	2월 5일(금)등교
1	국어	국어	국어	통합(겨울)	국어
	11. 실감 나게 표현해요 (독서활동)	11. 실감 나게 표현해요 (표현의 방법 생각하며 영상 보기)	글씨쓰기 (국어활동 98-99)	복습-두근두근 세계여행 풍선 띄우기	글씨쓰기 (국어활동 100-101)
	활동자료 1	활동자료 5	교과서에 쓰세요		
	스스로 확인해요	스스로 확인해요	스스로 확인해요		
2	수학	국어	수학	창체(안전한생활)	통합(겨울)
	2학기 수학 복습 1. 네 자리 수	글씨쓰기 (국어활동 96-97)	2학기 총정리문제	눈이 많이 오고 추워요(78-83쪽)	2.겨울탐정대의 친구찾기- 3학년이 되면 달라지는 점
	활동자료 2	교과서에 쓰세요	활동자료 8		
	스스로 확인해요	스스로 확인해요	스스로 확인해요		
3	통합(겨울)	통합(겨울)	통합(겨울)	통합(겨울)	통합(겨울)
	복습-겨울잠을 자요	복습-두근두근 세계여행 안녕	복습-숨어있는 동물찾기	2. 겨울 탐정대의 친구 찾기 (겨울 풍경 그리기)	2.겨울탐정대의 친구찾기- 3학년이 되면 달라지는 점
	활동자료 3	활동자료 6	활동자료 9		
	스스로 확인해요	스스로 확인해요	스스로 확인해요		
4	통합(겨울)	통합(겨울)	통합(겨울)	통합(겨울)	창체(자율)
	복습-겨울잠을 자러가요	복습-두근두근 세계여행 빙고놀이	복습-겨울 탐정대의 친구찾기 안녕	2. 겨울 탐정대의 친구 찾기 (겨울 풍경 그리기)	2학년을 마치며 (종업식)
	활동자료 4	활동자료 7	활동자료 10		
	스스로 확인해요	스스로 확인해요	스스로 확인해요		
5					
부모님 확인				등교	등교

※ 아이가 학습하는 공간을 따로 마련해주고 바른 자세로 앉아 학습할 수 있도록 지도 부탁드립니다.  
※ 하루 학습 후 학습 결과물에 대한 내용을 짧게 이야기한 후 부모님 확인 부탁드립니다.



## 배움주제

## 독서감상문 쓰기

책제목	지은이
생각 키우기	1. 책을 읽고, 먼저 읽게 된 동기를 씁니다. 2. 다음에는 이야기의 줄거리를 간추려 씁니다. 3. 기억에 남는 장면과 그 이유, 나와 주인공 비교하기, 각오 및 다짐, 느낀 점 등을 중심으로 하여 독서감상문을 써 봅시다. 4. 내가 쓴 글을 읽어 보고, 중심 생각을 제목으로 써 봅시다.(제목은 책 제목이 아닌 내가 지은 제목으로 쓰기 예를 들면 ‘흥부 놀부’ ➡ ‘착한 일을 하면 복을 받아요’)

제목 :

[illegible]



배움주제

2학기 수학 복습 - '네 자리 수' 되돌아보기

🍏 아래 문제를 해결하며, 1단원 '네 자리 수'를 되돌아봅시다. (정답은 꾸러미 뒤쪽에서 확인할 수 있어요)

1 나타내는 수가 나머지와 **다른** 하나를 찾아보세요. .... ( )

- ① 100이 10인 수
- ② 999보다 1 큰 수
- ③ 900보다 10 큰 수
- ④ 980보다 20 큰 수
- ⑤ 600보다 400 큰 수

2 1000이 되도록 묶고 남은 돈은 얼마인가요? .... ( )



- ① 100원      ② 200원      ③ 300원
- ④ 400원      ⑤ 500원

3 다음 수를 쓰고 읽어 보세요.

1000이 8인 수

쓰기 ( )  
읽기 ( )

4 가장 큰 수를 찾아 기호를 써 보세요.

㉠ 100이 50인 수  
㉡ 1000이 3인 수  
㉢ 칠천

( )

5 한 봉지에 100개씩 들어 있는 클립을 3000개 사려면 몇 봉지를 사야 할까요? ( )

6 관계있는 것끼리 선으로 이어 보세요.

사천오백이십팔

사천이백팔십

• 4208

• 4280

• 4528

7 □ 안에 알맞은 수를 써넣으세요.

38□2는

1000이	□
100이	□
10이	5
1이	□

8 수현이는 서점에서 책을 사면서 천 원짜리 지폐 8장, 백 원짜리 동전 5개를 냈습니다. 수현이가 낸 돈은 얼마인가요? .... ( )

- ① 8500원      ② 8050원      ③ 8005원
- ④ 5800원      ⑤ 5080원

※ 수를 보고 물음에 답하세요. (9~10)

㉠ 6259      ㉡ 5692  
㉢ 9526      ㉣ 2965

9 십의 자리 숫자가 6인 수를 찾아 기호를 써 보세요. ( )

10 숫자 9가 9000을 나타내는 수를 찾아 기호를 써 보세요. ( )




11 다음 수에 대한 설명으로 잘못된 것은 어느 것 인가요? ..... (      )

2657

- ① 천의 자리 숫자는 2입니다.
- ② 5는 십의 자리 숫자입니다.
- ③ 숫자 6은 6을 나타냅니다.
- ④ 일의 자리 숫자는 7입니다.
- ⑤  $2657=2000+600+50+7$ 입니다.

- 12 숫자 8이 나타내는 값이 가장 작은 수를 들고 있는 사람은 누구인지 풀이 과정을 쓰고 답을 구하세요.



〈풀이 과정〉

〈五〉

- 13** 다음을 모두 만족하는 네 자리 수를 구하세요.

- 천의 자리 숫자는 5, 십의 자리 숫자는 1입니다.
- 백의 자리 숫자와 일의 자리 숫자는 서로 같고, 십의 자리 숫자보다 7 큼니다.

$$\left( \begin{array}{c} \text{ } \\ \text{ } \\ \text{ } \end{array} \right)$$

- 14 4장의 수 카드를 한 번씩 사용하여 만들 수 있는 네 자리 수 중에서 십의 자리 숫자가 6인 수는 모두 몇 개입니까? ( )

6

2

7

4

- ① 3개                  ② 4개                  ③ 5개  
④ 6개                  ⑤ 7개

- 15** 10씩 뛰어 세어 보세요.

5143

5173

- 16** 규칙을 찾아 뛰어 세어 보세요.

2530

3530

7530

9530

- 17 7138부터 몇씩 5번 뛰어 세었더니 7143이 되었습니다. 몇씩 뛰어 센 것일까요?  
( )

- 18 더 큰 수에 ○표 하세요.

2754

2805

( )

( )

- 19 마을에 사는 사람의 수를 나타낸 것입니다. 사람이 가장 적게 사는 마을은 어디일까요?



( )

- 20** 1부터 9까지의 수 중에서 □ 안에 들어갈 수 있는 가장 큰 수는 얼마인지 풀이 과정을 쓰고 답을 구하세요.

 $7\boxed{\phantom{00}}40 < 7603$ 

〈풀이 과정〉

〈답〉

배움주제

복습-겨울잠을 자요

1. (   ㄱ   ㅅ   ㅈ   )이란?

겨울에 동물이 활동을 하지 않고 땅 속 등에서 겨울을 보내는 일

2. 겨울잠을 자는 동물들을 알아보아요.





	동물 이름	특징
		겨울잠을 자기 전에 먹이를 모아둡니다. 자다가 배가 고프면 일어나서 먹고 다시 잠을 자요. 나무, 바위로 된 구덩이나 동굴에 들어가 얇은 잠을 자요.
		바위 이끼나 마른 풀을 모아 잠잘 곳을 마련해요.
		동굴이나 나무 구멍, 땅속에서 겨울잠을 자요.
		주변 온도에 따라 몸의 온도가 변해서(변온동물), 온도변화가 적은 땅속에서 겨울잠을 자요.
		물가에 땅속에나 깊은 연못에서 겨울잠을 자요.

3. 겨울잠을 자는 이유를 알아봅시다.


- 추운 날씨에 (   ㅁ   ㅅ   )를 구하기 힘들어서 추위를 견디고 (   ㅈ   ㅅ   )도 아끼기 위해 겨울잠을 자요.

- 뱀, 개구리, 남생이는 날씨가 추우면 (   ㅈ   ㅅ   )이 떨어져서 죽을 수도 있어요.

4. 겨울잠을 자는 동물들에 대해 궁금한 점을 알아보시다.

질문	겨울잠을 자다가 깨기도 하나요?	
답변		꿈은 깊게 자지 않아서 자다 일어나기도 해요. 따뜻한 날에는 ( □ ○ )를 구하러 가기도 합니다.
		개구리와 뱀은 중간에 깨지 않고 봄이 올 때까지 죽은 듯이 잔답니다.
질문	겨울잠을 잘 때 배고프지 않나요?	
답변		죽은 듯이 자기 때문에 배가 고프지 않아요.
		( ㄱ ○ )에 먹을 수 있는 만큼 많이 먹어서 살을 찌우고 겨울을 버텨요.

5. 겨울잠을 자는 동물들을 색칠해 보아요.



(온도 변화가 적은 곳을 찾아 겨울잠을 자요.)

## 배움주제

## 겨울잠을 자러가요

🌿 겨울잠을 자는 우리 가족의 모습을 상상하며 그림으로 표현해 봅시다.





배움주제

표현의 방법을 생각하며 영상 보기

❖ 인물의 말과 행동을 생각하며 동영상 <은혜 갚은 까치>를 시청하고 물음에 답해 봅시다.



1. 이 이야기에는 나오는 인물은 누구누구인가요?

( )

2. 선비는 누구로부터 까치를 구했나요?

( )

❖ <은혜 갚은 까치>에서 어떤 일이 일어났는지 써 보세요.




❖ 다음 그림을 보고 인물의 행동이 어떠했는지와 그 까닭을 써 보세요.




선비 : “내가 활을 쏜 것은 까치를 살리려고 한 것이요. 그러니 제발 나를 살려주세요.”

말	떨리는 목소리로
까닭	
행동	
까닭	

[출처: 유튜브]

배움주제

‘두근 두근 세계 여행’ 안녕

 우리가 배운 세계 여러 나라의 이름을 찾아 색칠해봅시다. 모두 22개입니다!

프	독	래	미	국	일	체	호	주	폴	인
랑	알	브	라	질	스	뉴	오	스	트	도
스	보	라	사	이	팜	질	하	코	자	리
아	프	카	대	로	판	랜	몽	골	메	아
중	국	모	한	로	마	드	이	난	이	그
러	랑	공	민	카	코	일	번	베	카	리
시	스	화	국	이	이	집	트	이	라	코
카	위	국	로	란	케	냐	드	트	브	스
유	스	럽	말	레	이	시	아	남	질	이
란	바	토	르	우	크	라	이	나	리	탈
핀	란	드	가	베	이	루	오	타	아	리
러	시	아	르	크	울	베	트	남	와	아
룩	셈	부	싱	가	폴	트	뉴	리	하	노
나	아	르	헨	티	나	이	델	레	바	논

배움 주제 '두근 두근 세계 여행' 빙고놀이

❖ 내가 가고 싶은 나라의 이름을 골라 빙고 놀이를 해 보세요.

위에는 내가 아래칸에는 가족이 쓰고 반으로 잘라서 빙고 놀이를 해보세요.

주제: 아시아 대륙에 있는 나라			
대한민국, 일본, 인도, 베트남, 필리핀, 중국, 라오스, 캄보디아, 싱가포르, 방글라데시, 네팔, 타이완, 태국, 라오스, 미 얀마, 말레이시아, 몽골, 부탄, 브루나이, 카타르, 우즈베키스탄, 아랍에미리트, 파키스탄, 스리랑 카, 사우디아라비아 등			

주제: 아시아 대륙에 있는 나라			
대한민국, 일본, 인도, 베트남, 필리핀, 중국, 라오스, 캄보디아, 싱가포르, 방글라데시, 네팔, 타이완, 태국, 라오스, 미 얀마, 말레이시아, 몽골, 부탄, 브루나이, 카타르, 우즈베키스탄, 아랍에미리트, 파키스탄, 스리랑 카, 사우디아라비아 등			



자르기 뒷면

주제: 아메리카 대륙에 있는 나라			
미국, 콜롬비아, 캐나다, 멕시코, 과테말라, 칠레, 브라질, 아르헨티나, 쿠바, 페루, 자메이카, 우루과이, 아이티, 파나마, 에콰도르, 바하마 등			

주제: 아메리카 대륙에 있는 나라			
미국, 콜롬비아, 캐나다, 멕시코, 과테말라, 칠레, 브라질, 아르헨티나, 쿠바, 페루, 자메이카, 우루과이, 아이티, 파나마, 에콰도르, 바하마 등			

자르기 뒷면

주제: 아프리카 대륙에 있는 나라			
탄자니아, 모로코, 남아프리카 공화국, 우간다, 보츠와나, 이집트, 모리셔스, 콩고, 가나, 케냐, 나이지리아, 알제리, 르완다, 소말리아, 앙골라 등			

주제: 아프리카 대륙에 있는 나라			
탄자니아, 모로코, 남아프리카 공화국, 우간다, 보츠와나, 이집트, 모리셔스, 콩고, 가나, 케냐, 나이지리아, 알제리, 르완다, 소말리아, 앙골라 등			

자르기 뒷면

주제: 유럽, 오세아니아 대륙에 있는 나라			
폴란드, 벨기에, 영국, 프랑스, 스위스, 아이슬란드, 포르투갈, 독일, 스페인, 이탈리아, 크로아티아, 오스트리아, 루마니아, 덴마크, 안도라, 헝가리, 오스트레일리아, 네덜란드 등			

주제: 유럽, 오세아니아 대륙에 있는 나라			
폴란드, 벨기에, 영국, 프랑스, 스위스, 아이슬란드, 포르투갈, 독일, 스페인, 이탈리아, 크로아티아, 오스트리아, 루마니아, 덴마크, 안도라, 헝가리, 오스트레일리아, 네덜란드 등			

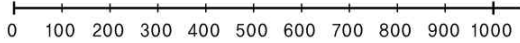
자르기 뒷면



배움 주제

2학기 복습하기

1. □ 안에 알맞은 수를 써넣으세요.



800보다 □ 큰 수는 1000입니다.

2. 8036을 바르게 읽은 사람은 누구입니까?



3. 숫자 5가 500을 나타내는 수는 어느 것인가요?  
..... ( )

- ① 5726      ② 4159      ③ 6590  
④ 7435      ⑤ 5007

4. 곱셈구구의 값을 찾아 이어 보세요.

$2 \times 7$	•	•	32
$3 \times 5$	•	•	15
$8 \times 4$	•	•	14

5. □ 안에 알맞은 수를 써넣으세요.

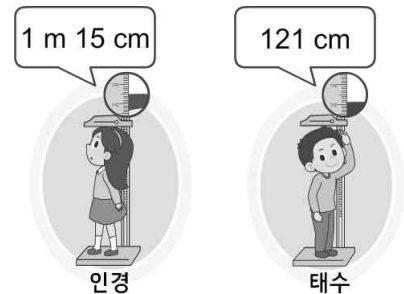
$$5 \times \square = 30$$

6. 선생님께서 연필을 4자루씩 6명에게 나누어 주셨습니다. 선생님께서 나누어 주신 연필은 모두 몇 자루인지 풀이 과정을 쓰고 답을 구하세요.

<풀이 과정> \_\_\_\_\_

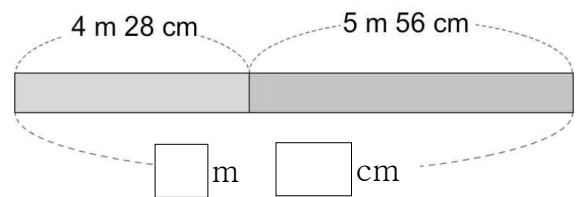
<답> \_\_\_\_\_

7. 인경이와 태수가 키를 재었습니다. 키가 더 큰 사람은 누구인가요?



( )

8. □ 안에 알맞은 수를 써넣으세요.



9. 길이가 2 m 41 cm인 고무줄이 있습니다. 이 고무줄을 양쪽에서 잡아당겼더니 3 m 75 cm가 되었습니다. 처음보다 더 늘어난 길이는 얼마인가요?  
..... ( )

- ① 1 m 34 cm      ② 1 m 43 cm  
③ 2 m 45 cm      ④ 1 m 51 cm  
⑤ 1 m 54 cm

- 10 알맞은 길이를 골라 문장을 완성해 보세요.

18 cm    230 cm    1 m    5 m 20 cm

내 방문의 높이는 약 입니다.

- 11 시계가 나타내는 시각을 읽어 보세요.

(1 )



시 분

(2 )



시 분

- 12 명수가 2시간 45분 동안 야구를 보았습니다. 야구가 끝난 시각이 10시 10분이었을 때 야구가 시작한 시각은 몇 시 몇 분인가요?


( )

- 13 오전이 아닌 시각을 찾아 기호를 써 보세요.

㉠ 새벽 4시    ㉡ 아침 9시    ㉢ 낮 12시

( )

- 14 전시회를 하는 기간은 며칠인지 풀이 과정을 쓰고, 답을 구하세요.



<학생들이 좋아하는 곤충별 학생 수>

곤충	나비	무당벌레	잠자리	반딧불이	합계
학생 수(명)	3	1	2	4	

<풀이 과정> \_\_\_\_\_

<답> \_\_\_\_\_

※ 소현이네 모든 학생들이 좋아하는 곤충을 조사하여 표로 나타내었습니다. 물음에 답하세요. (15~17)

- 15 소현이네 모든 학생은 모두 몇 명인가요?

( )

- 16 표를 보고 ○를 이용하여 그래프로 나타내어 보세요.

<학생들이 좋아하는 곤충별 학생 수>

4				
3				
2				
1				
학생 수(명)	나비	무당벌레	잠자리	반딧불이

- 17 가장 많은 학생이 좋아하는 곤충은 무엇인가요?

( )

- 18 덧셈표에서 규칙을 찾아 빈칸에 알맞은 수를 써넣으세요.

+	0	1	2	3	5	6	7
0	0	1	2	3	4	6	7
1	1	2	3	4	5	7	8
2	2	3	4	5	6	8	9
3	3	4	5	6	7	9	10
4	4	5	6	7	8	10	11
5	5	6	7	8	9	11	12
6	6	7	8	9	10	12	13
7	7	8	9	10	11	13	14

			14	
12	13	14		16
	14			
		16		



배움 주제


규칙을 잘 찾아 숨어있는 동물 찾기

다음 규칙을 잘 읽고 문제를 해결해 보세요. 어떤 동물이 숨어있을까요?

[규 칙]


- ▶ 숫자는 연속된 색깔의 개수입니다.
- ▶ 흰색에서 검정색으로, 흰색에서 검정으로 바뀔 때마다 숫자와 숫자 사이에 “ , ”로 구분합니다. (예:2,3,4,2등..)
- ▶ 각각의 줄의 첫 번째 숫자가 0이 아닌 숫자일 경우에는 항상 흰색을 뜻합니다.
- ▶ 단, 첫 번째 숫자가 “0”이면 그 줄이 검은색 픽셀로 시작하는 것입니다.

<문제 1. 숫자를 그림으로>



1, 4, 2  
 4, 1, 2  
 2, 1, 4  
 0, 6, 1  
 7  
 1, 4, 2  
 1, 4, 2

<문제 2. 그림을 숫자로>




---



---



---



---



---



---




---

< 문제 3 > 그림 속에는 무엇이 나타나 있을까요?>

																				2, 3, 7, 3, 5
																				1,2,2,1,1,3,1,1,2,2,4
																				1,2,1,9,1,2,4
																				2,13,5
																				1,4,3,2,3,3,4
																				0,5,1,1,1,2,1,1,1,4,3
																				0,5,3,2,3,5,2
																				0,18,2
																				0,6,6,2
																				0,5,8,5,2
																				1,3,3,4,3,3,3
																				1,3,4,2,4,2,4
																				2,3,2,3,4
																				3,3,6,3,5,2,4
																				5,8,7

<문제 1. 정답>



1, 4, 2

4, 1, 2

2, 1, 4


0, 6, 1

7

1, 4, 2

1, 4, 2

<문제 2. 정답>



0, 1, 1, 1, 1, 1, 1

0, 3, 1, 3

0, 1, 1, 1, 1, 3


0, 3, 1, 1, 1, 1

7

2, 4, 1

2, 4, 1

<문제 3. 정답>



2, 3, 7, 3, 5

1, 2, 2, 1, 1, 3, 1, 1, 2, 2, 4

1, 2, 1, 9, 1, 2, 4

2, 13, 5

1, 4, 3, 2, 3, 3, 4

0, 5, 1, 1, 1, 2, 1, 1, 1, 4, 3

0, 5, 3, 2, 3, 5, 2

0, 18, 2

0, 6, 6, 2

0, 5, 8, 5, 2

1, 3, 3, 4, 3, 3, 3

1, 3, 4, 2, 4, 2, 4

2, 3, 2, 3, 4

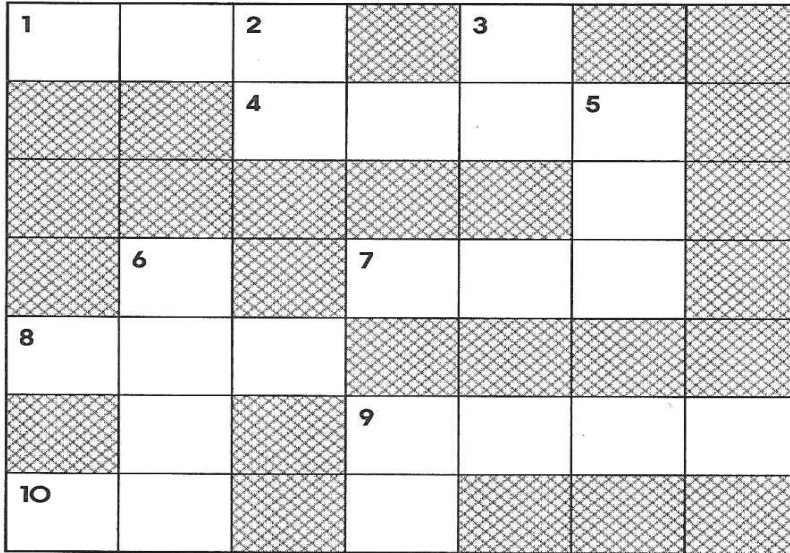
3, 3, 6, 3, 5, 2, 4

5, 8, 7


배움 주제

겨울 탐정대의 친구 찾기 안녕

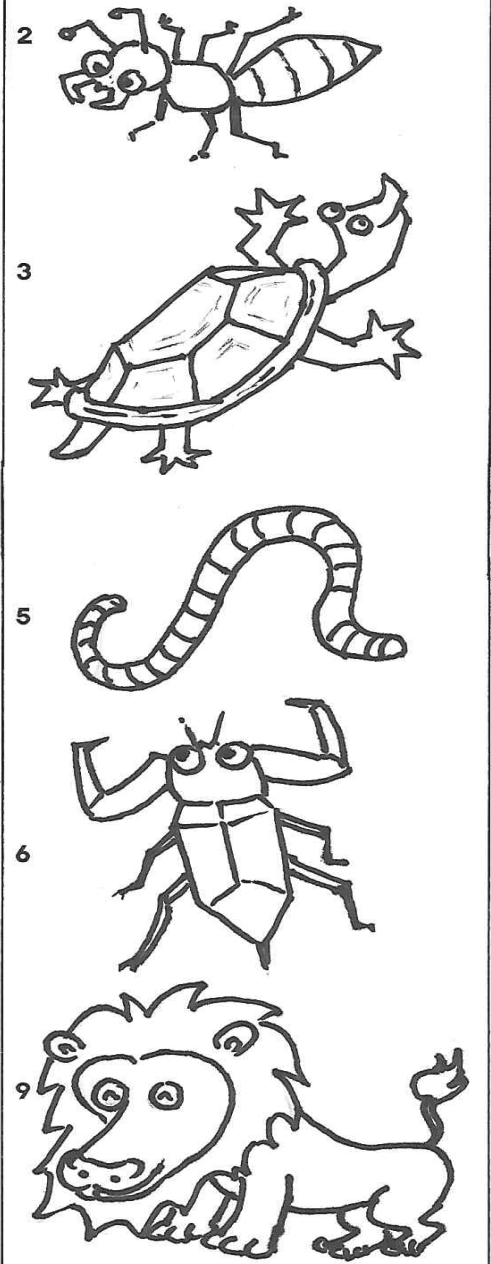
- ❶ 가로 열쇠와 세로 열쇠의 그림을 보고 알맞은 동물 이름을 번호에 맞게 써 봅시다.  
(동물도 색칠해 보세요.)



〈가로열쇠〉




〈세로열쇠〉





<활동자료 2 정답표>

문제 번호	정답
1	③
2	④
3	8000, 팔천
4	㉔
5	30봉지
6	
7	(왼쪽에서부터) 5, 3, 8, 2
8	①
9	㉔
10	㉔
11	③
12	아래 참고, 민혁
13	5818
14	④
15	5153, 5163
16	4530, 5530, 6530, 8530
17	1씩
18	( ) ( ○ )
19	선빈이네 마을
20	아래 참고, 5

12. ㉔ 5098에서 숫자 8은 일의 자리 숫자이므로 8을, 8325에서 숫자 8은 천의 자리 숫자이므로 8000을, 3684에서 숫자 8은 십의 자리 숫자이므로 80을 나타냅니다. 따라서 숫자 8이 나타내는 값이 가장 작은 수는 5098이므로 5098을 들고 있는 민혁입니다. ㉔ 민혁

20. ㉔ 천의 자리 숫자가 같고, 십의 자리 숫자가 4<0이므로 □ 안에는 6보다 작은 수가 들어가야 합니다. 따라서 □ 안에 들어갈 수 있는 가장 큰 수는 5입니다. ㉔ 5

< 활동자료 8 정답표 >

문항번호	평가 내용	정답
1	100이 10개인 수	200
2	네 자리 수 알기	영현
3	각 자리의 숫자가 나타내는 값 알기	③
4	4, 8단 곱셈구구	
5	5단 곱셈구구	6
6	4, 8단 곱셈구구	아래 참조, 24자루
7	cm보다 더 큰 단위	테수
8	길이의 합 구하기	9, 84
9	길이의 차 구하기	①
10	길이를 어렵하기	230 cm
11	몇 시 몇 분	(1) 11, 20 (2) 2, 38
12	1시간을 알기	7시 25분
13	하루의 시간을 알기	㉞
14	달력 알기	아래 참조, 14일
15	표와 그래프	10명
16	표와 그래프	아래 참조
17	표와 그래프	반딧불이
18	덧셈표에서 규칙 찾기	아래 참조
19	쌓은 모양에서 규칙 찾기	9개
20	생활에서 규칙 찾기	㉟

6. 예 선생님께서 나누어 주신 연필의 수를 구하기 위해 곱셈구구를 이용합니다.  $4 \times 6 = 24$ 이므로 선생님께서 나누어주신 연필은 모두 24자루입니다. 답 24자루

14. 예 전시회를 하는 날은 7일부터 20일이므로 7일과 20일도 세어야 합니다. 따라서 전시회를 하는 날은 7일, 8일, 9일, ……; 20일로 모두 14일입니다. 답 14일

16. <학생들이 좋아하는 곤충별 학생 수>

4				○
3	○			○
2	○		○	○
1	○	○	○	○
학생 수(명)	나비	무당벌레	잠자리	반딧불이
곤충				

18.

		13	14	
12	13	14	15	16
	14	15		
	15	16	17	