



덧셈을 해 볼까요(1)


『수학 익힘』 22~23쪽



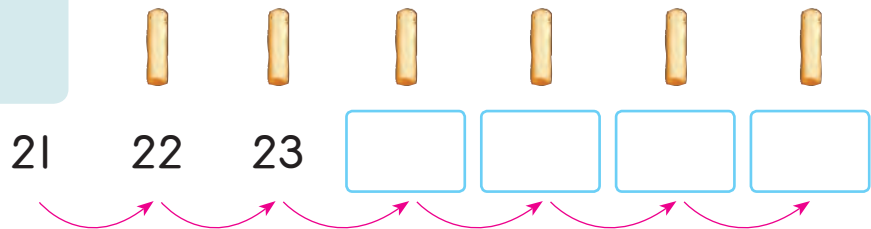
치즈가 모두 몇 개인지 알아봅시다.



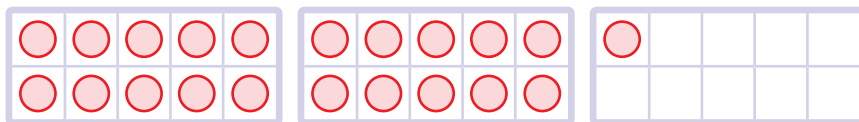
- 치즈가 모두 몇 개인지 세어서 알아보세요.



21하고 22, 23…….



- 노란 치즈의 수만큼 빈칸에 △를 그려 알아보세요.



- 위의 그림에 알맞은 덧셈식을 써 보세요.

$$21 + \square = \square$$



21 + 6을 어떻게 계산하는지 모형으로 알아봅시다. 준비물 2

→

$21 + 6 = 27$

$$\begin{array}{r} 21 \\ + 6 \\ \hline \end{array}$$

→

$$\begin{array}{r} 21 \\ + 6 \\ \hline 27 \end{array}$$

→

$$\begin{array}{r} 21 \\ + 6 \\ \hline 27 \end{array}$$

- 어떻게 계산했는지 말해 보세요.



덧셈을 해 봅시다.

$42 + 3 = \boxed{}$

$$\begin{array}{r} 52 \\ + 5 \\ \hline \boxed{} \end{array}$$

$$\begin{array}{r} 6 \\ + 32 \\ \hline \boxed{} \end{array}$$

$20 + 5 = \boxed{}$

$$\begin{array}{r} 30 \\ + 2 \\ \hline \boxed{} \end{array}$$

$$\begin{array}{r} 7 \\ + 50 \\ \hline \boxed{} \end{array}$$