

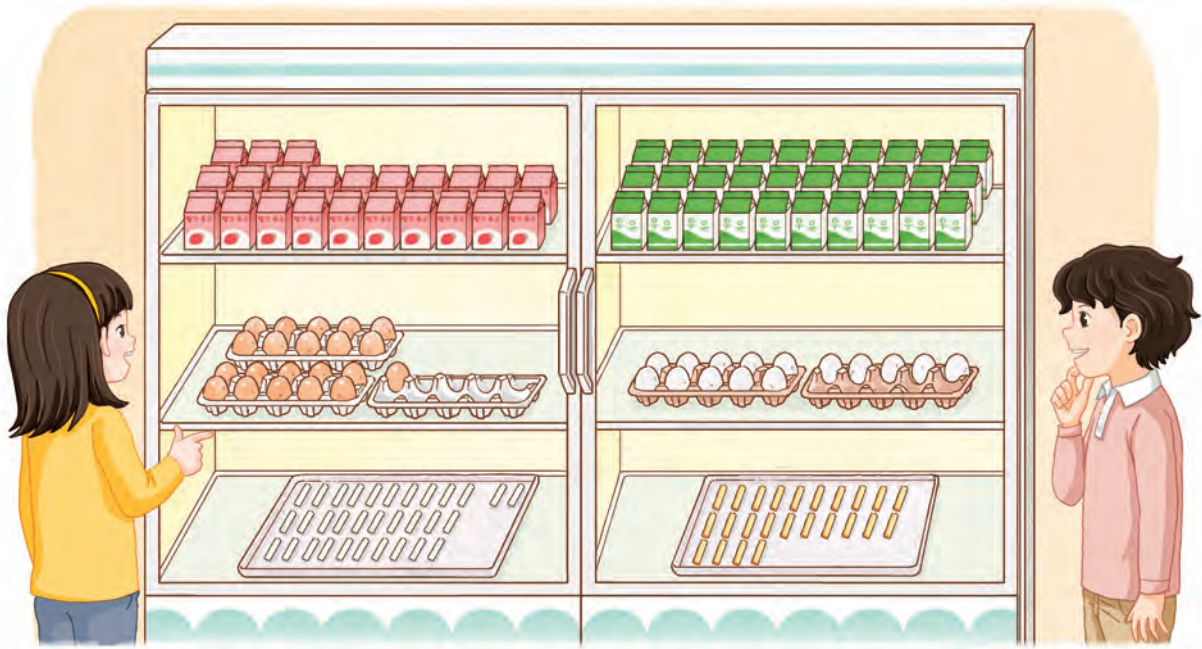


그림을 보고 덧셈을 해 볼까요

『수학 익힘』 28~29쪽



냉장고 안의 모습을 보고 덧셈을 해 봅시다.



- 딸기 우유와 흰 우유가 모두 몇 개 있나요?

$$\boxed{} + \boxed{} = \boxed{}$$

- 흰 치즈와 노란 치즈가 모두 몇 개 있나요?

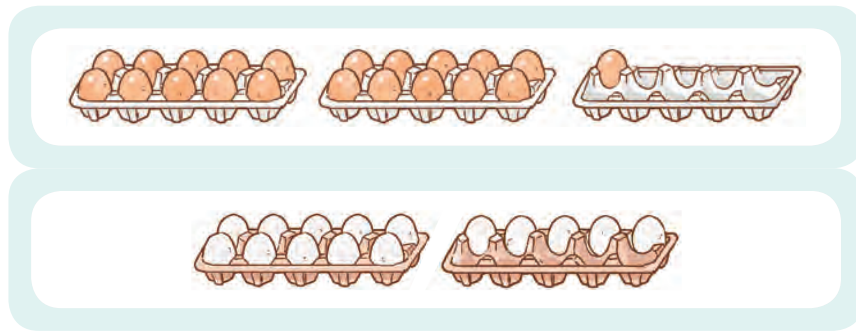
$$\boxed{} + \boxed{} = \boxed{}$$

- 새로운 문제를 말하고, 덧셈식으로 나타내어 보세요.

$$\boxed{} + \boxed{} = \boxed{}$$



달걀이 모두 몇 개인지 알아보시다.



• 식으로 나타내어 보세요.

$$\square + \square = \square$$

• 여러 가지 방법으로 더해 보세요.

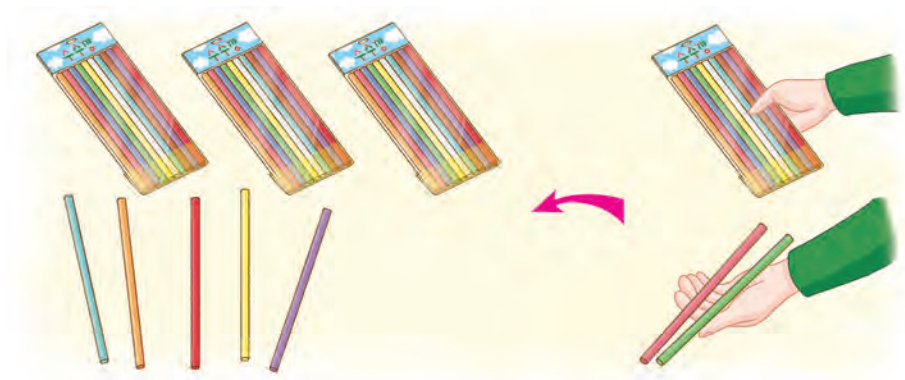


20과 10을 더하고,
1과 5를 더했어.

다른 방법을
찾아볼까?



수수깡이 모두 몇 개인지 알아보시다.



• 식으로 나타내어 보세요.

$$\square + \square = \square$$

• 어떻게 더했는지 말해 보세요.