



## 덧셈을 해 볼까요(2)

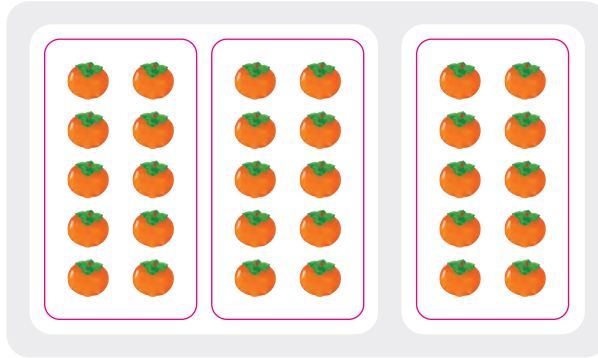
이름:

공부한 날:

월

일

1 그림을 보고  안에 알맞은 수를 써넣으세요.



$$20 + \boxed{\phantom{00}} = \boxed{\phantom{00}}$$

2 덧셈을 해 보세요.

$$\begin{array}{r} 50 \\ + 20 \\ \hline \boxed{\phantom{00}} \end{array}$$

$$\begin{array}{r} 30 \\ + 60 \\ \hline \boxed{\phantom{00}} \end{array}$$

3 합이 같은 것끼리 이어 보세요.

$$20 + 20$$


$$30 + 40$$

$$10 + 70$$

$$60 + 10$$

$$10 + 30$$

$$50 + 30$$

 4 두 수를 골라 합이 80이 되도록 덧셈식을 써 보세요.



$$\square + \square = 80$$

 5 합이 큰 순서대로 글자를 써 보세요.





# 덧셈을 해 볼까요(3)


이름: \_\_\_\_\_

공부한 날: \_\_\_\_\_

월 \_\_\_\_\_

일 \_\_\_\_\_

1 그림을 보고  안에 알맞은 수를 써넣으세요.



$$43 + \boxed{\phantom{00}} = \boxed{\phantom{00}}$$

2 덧셈을 해 보세요.

$$\begin{array}{r} 53 \\ + 41 \\ \hline \boxed{\phantom{00}} \end{array}$$

$$\begin{array}{r} 30 \\ + 26 \\ \hline \boxed{\phantom{00}} \end{array}$$

3 합이 같은 것끼리 이어 보세요.

$$24 + 25$$

$$11 + 22$$

$$45 + 23$$

$$36 + 32$$

$$18 + 31$$

$$20 + 13$$

4 합이 가장 큰 것에 ○표, 가장 작은 것에 △표 하세요.

$$53 + 25$$

(       )

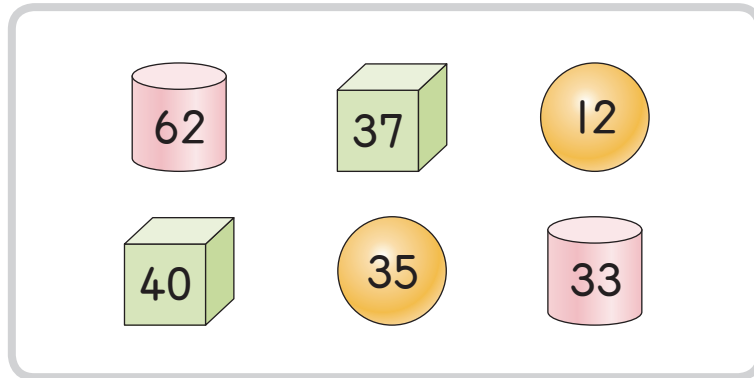
$$43 + 33$$

(       )

$$64 + 15$$

(       )

5 같은 모양에 적힌 수의 합을 구해 보세요.





 (       )  (       )  (       )

6 주머니에서 수를 하나씩 골라 덧셈식을 써 보세요.

노란색 주머니에서  
20, 파란색 주머니에서  
12를 골랐어.



20 + 12 = 32를  
만들 수 있겠네.



$$\boxed{\phantom{00}} + \boxed{\phantom{00}} = \boxed{\phantom{00}}$$

$$\boxed{\phantom{00}} + \boxed{\phantom{00}} = \boxed{\phantom{00}}$$