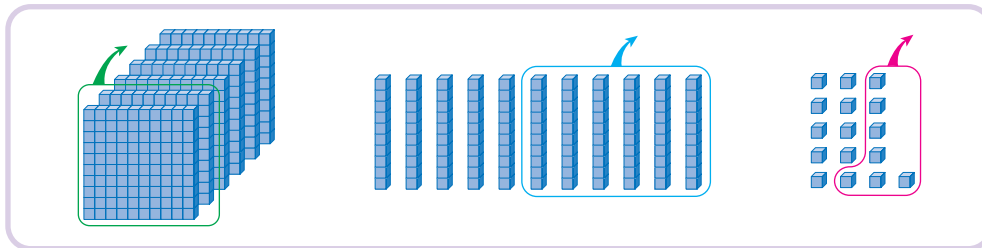
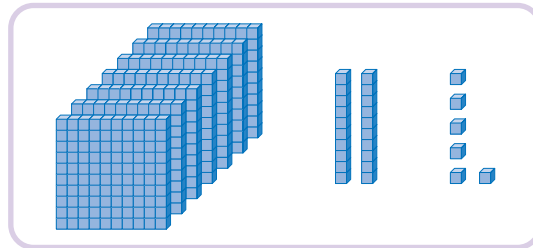




뱀셈을 해 볼까요(3)

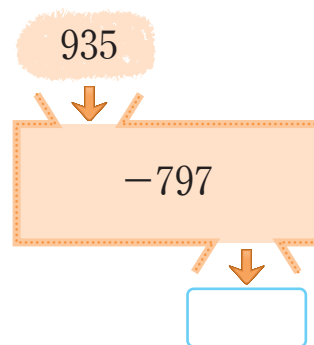
공부한 날 4 월 29 일

1 수 모형을 보고 계산해 보세요.



$$726 - 267 = \square$$

2 ☐ 안에 알맞은 수를 써넣으세요.



3 길이가 8 m인 색 테이프 중에서 264 cm를 사용했습니다. 남은 색 테이프는 몇 cm일까요?

() cm

