

5월 20일(수) 3교시 통합학습지 ①

5월 20일 (수)



1단원 알쏭달쏭 나

3 교시 - 통합

나를 소개합니다

☞ 여러분이 30년 정도 후면 40살이 됩니다. 내가 나 중에 40살이 되면 어디에서 무엇을 하고 있을지 써 보고 그림으로 나타내 봅시다.

나는 어디에 있을까요?	
무엇을 하고 있을까요?	



C C

9쪽

A small illustration of a boy with dark hair, wearing a dark shirt and light-colored pants, sitting on the ground and looking upwards.

2학년 _____반 이름 _____



A black and white line drawing of a young boy with short, dark hair, smiling. He is wearing a light-colored shirt with dark sleeves. He is holding a large, round, shaded object, possibly a balloon or a large fruit, with both hands. The background is plain.

출처 : 인디스쿨 기독은 봉사 선생님

5월 21일 (목) 3교시 수학학습지 ①

덧셈을 해 볼까요(2)		날짜	/
성취기준	[2수학01-05] 두 자리 수의 범위에서 덧셈과 뺄셈의 계산 원리를 이해하고 그 계산을 할 수 있다.	교과서	수학 62~63쪽 수익 40~41쪽

①

$$\begin{array}{r} 1 \\ 26 \\ + 38 \\ \hline 64 \end{array}$$

⑦

$$\begin{array}{r} 39 \\ + 22 \\ \hline \end{array}$$

⑬

$$\begin{array}{r} 58 \\ + 12 \\ \hline \end{array}$$

⑲

$$\begin{array}{r} 13 \\ + 59 \\ \hline \end{array}$$

②

$$\begin{array}{r} 65 \\ + 15 \\ \hline \end{array}$$

⑧

$$\begin{array}{r} 16 \\ + 14 \\ \hline \end{array}$$

⑭

$$\begin{array}{r} 38 \\ + 13 \\ \hline \end{array}$$

⑳

$$\begin{array}{r} 75 \\ + 17 \\ \hline \end{array}$$

③

$$\begin{array}{r} 16 \\ + 59 \\ \hline \end{array}$$

⑨

$$\begin{array}{r} 13 \\ + 28 \\ \hline \end{array}$$

⑮

$$\begin{array}{r} 57 \\ + 13 \\ \hline \end{array}$$

㉑

$$\begin{array}{r} 28 \\ + 47 \\ \hline \end{array}$$

④

$$\begin{array}{r} 49 \\ + 28 \\ \hline \end{array}$$

⑩

$$\begin{array}{r} 13 \\ + 28 \\ \hline \end{array}$$

⑯

$$\begin{array}{r} 15 \\ + 67 \\ \hline \end{array}$$

㉒

$$\begin{array}{r} 17 \\ + 68 \\ \hline \end{array}$$

⑤

$$\begin{array}{r} 54 \\ + 16 \\ \hline \end{array}$$

⑪

$$\begin{array}{r} 37 \\ + 23 \\ \hline \end{array}$$

⑰

$$\begin{array}{r} 23 \\ + 68 \\ \hline \end{array}$$

㉓

$$\begin{array}{r} 68 \\ + 29 \\ \hline \end{array}$$

⑥

$$\begin{array}{r} 38 \\ + 53 \\ \hline \end{array}$$

⑫

$$\begin{array}{r} 24 \\ + 29 \\ \hline \end{array}$$

⑱

$$\begin{array}{r} 14 \\ + 47 \\ \hline \end{array}$$

㉔


$$\begin{array}{r} 28 \\ + 39 \\ \hline \end{array}$$

C C

31 


十一

 다음 사진을 보며 색종이로 봄꽃을 예쁘게 그려보세요.



5월 지일(목) 4교시 통합학습지 ③-2

[활동2] 봄의 풍경 그리기

 봄에 있었던 일을 그림으로 그려서 색칠해 보세요. 앞에서 만든 봄꽃도 붙여서 꾸며 보세요.

C C

활동자료



교과서 82~83



2학년 ____반 이름 _____


출처: 인디스쿨 기도문 봉사 선생님



A black and white line drawing of a young boy with curly hair, wearing a striped tank top and shorts, standing with arms outstretched. The drawing is simple and cartoonish, with a vertical line down the center of the body.

5월 25일 (월) 3교시 국어학습지 ①

활동자료 1



국어



마음을 나타내는 말을 사용해 마음 표현하기

2학년 ____반 이름 _____



오늘 내 기분을 날씨로 나타내어 봅시다.

날씨						
	①	②	③	④	⑤	⑥

오늘 내 기분을 나타내는 날씨는?	위의 번호에서 여러 개를 골라도 됩니다.
그 이유는?	

오늘 내 기분을 마음을 나타내는 말 중에서 골라서 ○표 해 봅시다.
 여러 개를 골라도 됩니다.

<마음을 나타내는 말>

슬퍼요

즐거워요

편안해요

지루해요

행복해요

신나요

기뻐요

궁금해요

화나요

두려워요

자신 있어요

부끄러워요

자랑스러워요

C C

활동자료



독도계기교육



2학년 반 이름



“아웅야웅, 어서 와, 내 친구들이야.
우리는 고양이 울음소리를 알아서
경이길래가야.
불이 되면 독도에 모여 살아,
등자를 만들고 일을 남기 좋거든.”

“부드덕부드덕, 난 멀리까지
날아가는 연습을 하고 있어.
추워지면 독도를 떠나야 하나까.”

“바다에 가서
맛있는 먹이를 구해올게.
친구들과 사이좋게
놀고 잊으렴.”

“재미있게 놀아라.”


“임마, 친구랑 놀다와도 돼요?”

출처: 인디스쿨 기독운 목사 선생님

5월25일 (월) 4교시 독도학습지 ②

 갯가새를 그려줘

독도에 사는 갯가새를 멋지게 색칠해 볼까요?



C C



3



2학년 _____반 이름 _____



날짜•요일	오늘의 날씨?		
	미세먼지		o, x 표시하세요.
5/27(수)	좋음	보통	햇빛(), 구름(), 비 (), 바람(), 추워요(), 따뜻해요. ()
	나쁨	매우 나쁨	
5/28(목)	좋음	보통	햇빛(), 구름(), 비 (), 바람(), 추워요(), 따뜻해요. ()
	나쁨	매우 나쁨	
5/29(금)	좋음	보통	햇빛(), 구름(), 비 (), 바람(), 추워요(), 따뜻해요. ()
	나쁨	매우 나쁨	

5월 26일 (화) 4교시 수학 학습지 ②

덧셈을 해 볼까요(3)		날짜	/
성취기준	[2수학01-05] 두 자리 수의 범위에서 덧셈과 뺄셈의 계산 원리를 이해하고 그 계산을 할 수 있다.	교과서	수학 64~65쪽 수익 42~43쪽

① 1

$$\begin{array}{r} 70 \\ + 96 \\ \hline 166 \end{array}$$

⑦

$$\begin{array}{r} 57 \\ + 92 \\ \hline \end{array}$$

⑬

$$\begin{array}{r} 81 \\ + 74 \\ \hline \end{array}$$

⑲

$$\begin{array}{r} 97 \\ + 41 \\ \hline \end{array}$$

②

$$\begin{array}{r} 70 \\ + 37 \\ \hline \end{array}$$

⑧

$$\begin{array}{r} 84 \\ + 65 \\ \hline \end{array}$$

⑭

$$\begin{array}{r} 42 \\ + 73 \\ \hline \end{array}$$

⑳

$$\begin{array}{r} 24 \\ + 94 \\ \hline \end{array}$$

③

$$\begin{array}{r} 41 \\ + 68 \\ \hline \end{array}$$

⑨

$$\begin{array}{r} 81 \\ + 70 \\ \hline \end{array}$$

⑮

$$\begin{array}{r} 61 \\ + 83 \\ \hline \end{array}$$

㉑

$$\begin{array}{r} 34 \\ + 81 \\ \hline \end{array}$$

④

$$\begin{array}{r} 71 \\ + 60 \\ \hline \end{array}$$

⑩

$$\begin{array}{r} 40 \\ + 71 \\ \hline \end{array}$$

⑯

$$\begin{array}{r} 53 \\ + 74 \\ \hline \end{array}$$

㉒

$$\begin{array}{r} 21 \\ + 98 \\ \hline \end{array}$$

⑤

$$\begin{array}{r} 81 \\ + 22 \\ \hline \end{array}$$

⑪

$$\begin{array}{r} 65 \\ + 64 \\ \hline \end{array}$$

⑰

$$\begin{array}{r} 61 \\ + 61 \\ \hline \end{array}$$

㉓

$$\begin{array}{r} 90 \\ + 11 \\ \hline \end{array}$$

⑥

$$\begin{array}{r} 85 \\ + 31 \\ \hline \end{array}$$

⑫

$$\begin{array}{r} 91 \\ + 33 \\ \hline \end{array}$$

⑱

$$\begin{array}{r} 83 \\ + 30 \\ \hline \end{array}$$

㉔

$$\begin{array}{r} 97 \\ + 61 \\ \hline \end{array}$$

2학년 박 이 름

