



온라인학습 주간학습안내 (1.6~1.7)

1.6(수)~1.7(목)

구분		1.6(수)	1.7(목)
1교시	교과	국어	자율
	단원	글씨 쓰기	한자 쓰기
	활동내용	받침 생각하며 글씨 쓰기	‘춘,하,추,동’ 한자 쓰기
	활동자료	활동자료①	활동자료⑤
2교시	교과	자율	국어
	단원	한자 쓰기	학습 내용 정리
	활동내용	‘고, 저’ 한자 쓰기	문제 풀기
	활동자료	활동자료②	활동자료⑥
3교시	교과	수학	수학
	단원	6. 덧셈과 뺄셈(3)	6. 덧셈과 뺄셈(3)
	활동내용	문제 풀기	문제 풀기
	활동자료	활동자료③	활동자료⑦
4교시	교과	겨울	자율
	단원	2. 우리의 겨울	안전한 겨울방학 생활
	활동내용	겨울 모습 그리기	안전한 겨울방학 생활 알아보기 (교통 안전, 생활 안전)
	활동자료	활동자료④	활동자료⑧
학 급 안 내 사 항		1. 1월 6일(수)~ 1월 7일(목)은 EBS 방송 시청하지 않고, 학습꾸러미로만 수업을 진행합니다. 2. 방학중 ‘EBS 겨울방학 프로그램’ 방송 안내 ① 시간: 월~금 9:00~9:30, 10:00~10:30 ② 방송 채널: EBS 2TV, EBS PLUS2 (EBS 온에어로 실시간 방송 시청 가능) ③ 편성 과목: 국어, 수학, 창의체험 3. 방학 중에 국어활동 115쪽까지 ‘글씨 쓰기’를 써 옵니다. 4. 저작권법(제25조2항)에 따라 학교 수업을 위한 저작물은 공유 또는 게시하는 행위는 저작권법 위반에 해당될 수 있습니다. 5. 개학하는 날(1월 27일) 공부한 학습꾸러미와 국어활동 교과서를 가지고 옵니다.	

활동자료①

날짜

1월 6일(수) 1교시

<국어> 글씨 쓰기
-받침 생각하며 글씨 쓰기-

준비물 연필, 지우개

♣ 그림을 보고 받침을 생각하며 글씨를 바르게 써 봅시다.

	입	다	[익따]		넙	다	[넙따]
	밖	다	[박따]		짹	다	[짹따]
	늑	다	[늑따]		여	덥	[여덥]
	삼	다	[삼따]		뚫	다	[뚫타]
	답	다	[답따]		일	다	[일타]
	점	다	[점따]		끓	다	[끓타]

- '고, 저' 한자 쓰기 -

♣ '고, 저' 한자를 바른 순서로 써 봅시다.

[illegible]

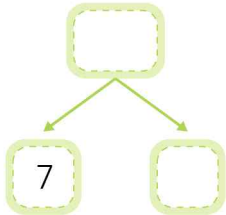
<수학> 6. 덧셈과 뺄셈(3)

- 문제 풀기 -

준비물

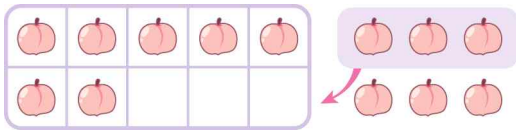
연필, 지우개

1. 10을 두 수로 가르려고 합니다. 빈 곳에 ★을 그려 넣고, □ 안에 알맞은 수를 써넣으세요.



(2~3) □ 안에 알맞은 수를 써넣으세요.

2.



$$7 + 6 = 10 + \square = \square$$

3.



$$14 - 6$$

$$10 - 6 + \square = \square$$

4. 다음 덧셈을 해 보세요.

$$5 + 6 = \square \quad 5 + 7 = \square$$

$$5 + 8 = \square \quad 5 + 9 = \square$$

5. 민혁이는 동화책을 읽었습니다. 어제는 9쪽을 읽었고, 오늘은 8쪽을 읽었습니다. 민혁이가 어제와 오늘 읽은 동화책은 모두 몇 쪽입니까?

() 쪽

6. 위와 아래의 두 수를 모아서 10이 되도록 빈 칸에 알맞은 수를 써넣으세요.

1		5			10
9	3		2	6	

7. 계산 결과가 같은 것끼리 선으로 이으세요.

$$5 + 8$$

$$8 + 8$$

$$7 + 8$$

$$7 + 9$$

$$6 + 7$$

$$6 + 9$$

8. 효빈이네 분단은 남학생이 6명, 여학생이 5명입니다. 효빈이네 분단 학생 수는 모두 몇 명인가요?

() 명

<겨울> 2. 우리의 겨울

- 도화지 속 겨울 -

준비물 사포, 크레파스

♣ 겨울과 관련한 모습을 떠올려 본 후 사포지와 크레파스를 이용하여 겨울 모습을 그려 보세요.

<그리는 방법>

1. 사포지 위에 흰색이나 밝은 색 크레파스로 밑그림을 그려요.
2. 크레파스로 그림과 어울리게 색칠하면서 그림을 완성해요.

<참고 작품>

스키장에서



<참고 주제>

눈 오는 날, 눈싸움, 눈썰매 타기, 얼음 낚시 등

- '춘, 하, 추, 동' 한자 쓰기 -

♣ '춘 하 추 동' 한자를 바른 순서로 써 봅시다.

[illegible]

<국어> 학습 내용 정리

- 문제 풀기 -

준비물 연필, 지우개

♣ 다음 그림을 보고 물음에 답하십시오.



(1) 다람이가 잘못 쓴 글자를 바르게 써 봅시다.

① 도와지 ->

② 줄림끼 ->

③ 색종이 ->

♣ 다음 문장에서 잘못 쓴 글자를 찾아 바르게 고쳐 쓰시오.

<p>①</p>	<p>강아지가 토순이를 <u>따라감니다</u>.</p>
<p>②</p>	<p>다람이는 친구들과 놀이터에서 <u>노랏습니다</u>.</p>

※ 다음 글을 읽고, 물음에 답하십시오.

우리 가족은 공원에 갔다. 단풍이 울긋불긋 예쁘게 물들어 있었다. 고추잠자리가 뽁뽁 날아다니고 우리 강아지도 신이 나서 멍멍 짖었다. 동생도 깔깔 웃으며 이리저리 뛰어다녔다. 우리 가족은 단풍을 보며 즐거운 시간을 보냈다.

♣ 위 글에서 다음 그림에 어울리는 흥내 내는 말을 찾아 쓰시오.



()

활동자료⑦

날짜

1월 7일(목) 3교시

<수학> 6. 덧셈과 뺄셈(3)

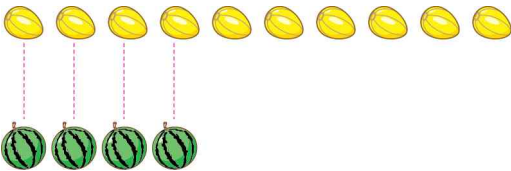
- 문제 풀기 -

준비물

연필, 지우개


(1~3) □ 안에 알맞은 수를 써넣으세요.

1.



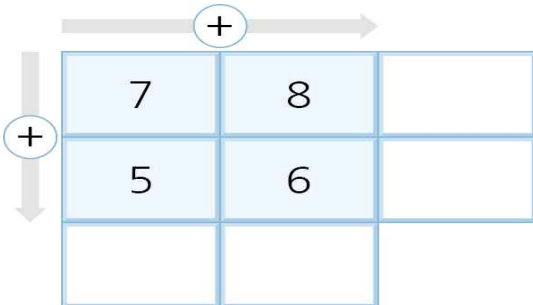
$$10 - 4 = \square$$

2.



$$12 - 8 = \square$$

3.



4. 차가 같은 것끼리 줄로 이으세요.

5. 다음 덧셈을 해 보세요.

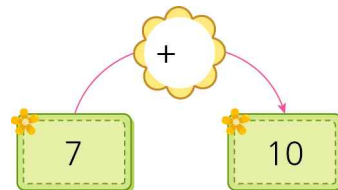
$$8 + 5 = \square \quad 7 + 6 = \square$$

$$6 + 5 = \square \quad 5 + 6 = \square$$

6. 꽃감이 10개씩 한 줄과 날개로 5개 있습니다. 동생에게 6개를 주면 몇 개 남습니까?

()개

7. 빈 곳에 알맞은 수를 써넣으세요.



8. 다음 뺄셈을 해 보세요.

$$12 - 6 = \square \quad 12 - 7 = \square$$

$$12 - 8 = \square \quad 12 - 9 = \square$$

9. 연못에 오리가 9마리 놀고 있었는데,

14-8 •	• 16-9	잠시 후 3마리가 더 왔습니다. 연못에 있는 오리는 모두 몇 마리입니까? ()마리
12-5 •	• 13-8	
14-9 •	• 12-6	

활동자료⑧

날짜 1월 7일(목) 4교시

<자율> 안전한 겨울방학 생활
- 대중교통안전, 생활 안전 -

준비물 유튜브 영상, 연필, 지우개

- ♣ 겨울철 건강하고 안전하게 생활하기 위한 방법을 알아봅시다.
- * 유튜브에서 '아이쿠 대중교통안전' 검색하기
 - 대중교통(버스, 지하철)을 안전하게 이용하는 방법 알아보기
 - <https://www.youtube.com/watch?v=AjwP8zlRjIA>
- * 유튜브에서 '얼면 안돼! 아이쿠' 검색하기
 - 눈 오는 날 안전한 생활 수칙 알아보기
 - <https://www.youtube.com/watch?v=-tm4JOVU2s8>

< 눈 오는 날 안전 수칙 o,x 퀴즈 >

- 바깥에 나갈 때는 옷을 따뜻하게 입고 간다. ()
- 날씨가 추우니까 창문은 절대 열지 않는다. ()
- 빙판길에서 신나게 달리기를 한다. ()
- 스키나 눈썰매를 타기 전에 준비운동을 한다. ()
- 눈이 오면 추우니 주머니에 손을 넣고 걷는다. ()

- ♣ 오늘부터 방학이 시작됩니다. 1학년을 되돌아보면서
- ① 초등학교 입학 전보다 더 잘하게 된 것,
- ② 방학 동안 하고 싶은 것을 생각하여 적어 봅시다.

