



수학 4-2

1월 13일(수)

3. 소수의 덧셈과 뺄셈

초등학교

학년 반 번

이름: _____

1 분수를 소수로 나타내어 보세요.

(1) $1\frac{34}{100}$

(2) 1이 3개, $\frac{1}{10}$ 이 5개, $\frac{1}{100}$ 이 9개인 수

2 다음 중 소수로 나타냈을 때 소수 첫째 자리 수가 가장 큰 수를 찾아보세요. ()

① 0.01이 78개인 수 ② 0.01이 145개인 수

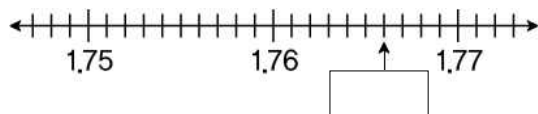
③ $\frac{59}{100}$ ④ $\frac{421}{100}$ ⑤ $\frac{918}{100}$

3 ‘영 점 칠영사’를 소수로 바르게 나타낸 것은 어느 것인가요? ()

① 0.74 ② 7.04 ③ 0.704

④ 7.40 ⑤ 0.740

4 □ 안에 알맞은 수를 써넣으세요.



6 두 수의 크기를 비교하여 ○ 안에 >, =, <를 바르게 써넣으세요.

(1) 0.724 ○ 0.289

(2) 11.51 ○ 11.503

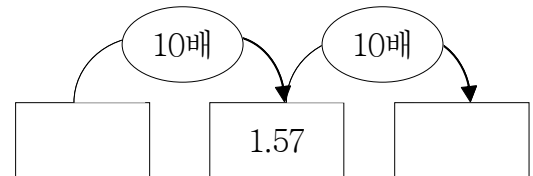
7 가장 작은 수를 찾아보세요. ()

① 0.01이 72개인 수 ② 0.001이 58개인 수

③ 0.01이 429개인 수 ④ 0.001이 15개인 수

⑤ 0.001이 355개인 수

8 다음 빈칸에 알맞은 수를 써넣으세요.



9 1이 5개, 0.1이 7개, 0.01이 3개인 수를 100배 하면 얼마인지 풀이 과정을 쓰고, 답을 구하세요.

<풀이 과정> _____

<답> _____

5 다음 중 소수를 바르게 읽은 것을 모두 고르세요. ()

① 4.215 ⇨ 사 점 이일오

② 33.102 ⇨ 삼삼 점 백이

③ 0.712 ⇨ 영 점 칠백십이

④ 11.054 ⇨ 십일 점 오사

⑤ 8.914 ⇨ 팔 점 구일사

10 ㉠+㉡은 얼마인가요?

㉠ 0.1이 72개인 수
㉡ 0.1이 93개인 수

()

11 두 소수의 합을 빈칸에 써넣으세요.

5.8	4.7

12 다음 중 계산 결과가 가장 큰 식은 어느 것인가요? ()

- ① $3.2+4.9$ ② $2.8+5.4$ ③ $4.7+3.9$
 ④ $6.2+1.3$ ⑤ $2.5+5.3$

13 계산을 하세요.

- (1) $0.8-0.2$
 (2) $4.7-3.9$

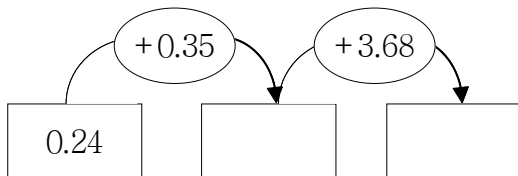
14 우유 1.2 L 중에서 재윤이가 0.7 L를 마셨다면, 마시고 남은 우유는 몇 L인가요? ()

- ① 0.4 L ② 0.5 L ③ 0.6 L
 ④ 0.7 L ⑤ 0.8 L

15 계산이 잘못된 곳을 찾아 바르게 계산해 보세요.

$$\begin{array}{r} 0.74 \\ + 0.5 \\ \hline 0.79 \end{array} \Rightarrow \boxed{}$$

16 빈 곳에 알맞은 수를 써넣으세요.



17 도윤이의 몸무게는 28.55 kg이고 가방의 무게는 3.47 kg입니다. 도윤이가 가방을 메고 무게를 재면 몇 kg이 되는지 풀이 과정을 쓰고, 답을 구하세요.

<풀이 과정> _____

<답> _____

18 계산을 하세요.

$$\begin{array}{r} (1) \quad 0.78 \\ - 0.46 \\ \hline \end{array} \qquad \begin{array}{r} (2) \quad 1.2 \\ - 0.85 \\ \hline \end{array}$$

19 빈칸에 알맞은 수를 써넣으세요.

<div style="text-align: center;"> $\xrightarrow{\quad - \quad}$ </div>		
0.85	0.49	
0.54	0.27	

20 어떤 수에서 3.42를 빼야 할 것을 잘못하여 더했더니 8.97이 되었습니다. 바르게 계산한 답은 얼마인지 풀이 과정을 쓰고, 답을 구하세요.

<풀이 과정> _____

<답> _____