

# EBS 방송과 함께하는 1학년 학습꾸러미 이렇게 활용하세요!

학습꾸러미로 가정에서 알차게 공부해요!

학부모님께!

본 교에서는 EBS 방송 연계 1학년 수업에 필요한 수업 시간표부터 주간학습계획, 학생 참여 중심 활동 자료를 정선하여 학습꾸러미를 제공합니다. 코로나 19 감염 확산을 최대한 예방하기 위해 밀접 접촉을 최소화하면서, 학생들의 학습에도 결손이 없도록 최선을 다해 노력하겠습니다. 가정에서도 이 어려움을 함께 극복할 수 있도록 도와주시고, 학교 교육 일정에 적극 협조해 주시기 바랍니다.

안내사항	<ul style="list-style-type: none"> <li>❖ 9월28일(월)~10월8일(목) 주간에 사용하는 학습 꾸러미 입니다.</li> <li>❖ 매일 8:40 학습 준비를 한 후 제일 먼저 <b>학생 건강 자가검진 설문조사</b>에 참여해주세요.</li> <li>❖ 주간학습 안내에 학습이 끝난 후 0표시 해주세요.</li> <li>❖ 9:00 EBS 2TV채널과 EBS Plus2채널에서 방송을 보며 학습합니다.</li> <li>❖ 학습꾸러미는 잘 모아두었다 등교하는 날 제출합니다. 담임선생님 확인합니다.</li> <li>❖ 준비물 : 연필, 지우개, 색연필, 사인펜, 가위, 풀, 색종이, 2학기 교과서, 10칸 국어공책 등.</li> </ul> <p style="margin-top: 20px;">전주 만성초등 학교      1학년      반      번      이름</p>
------	---

# 원격학습안내

전주만성초등학교

월(9월28일)		화 (29일) 등 교	추 석 연 휴  (9월30~ 10월4일)	월 (10월5일)		화 (6일) 등 교	수 (10월7일)		목 (8일) 등 교	한글날 (9일)
1 교시	국어			국어	국어					
	EBS 국어 (국어,국어활동)			EBS 국어 (국어)	EBS 국어 (국어,A4용지, 사인펜,가위)					
	국어 66~69쪽 국어활동24~26쪽			국어 74~77쪽,공책	국어80~81쪽					
2 교시	수학			수학	수학					
	EBS 수학 (수학,수학익힘, 블럭)			EBS 수학 (수학,수학익힘, 블럭)	EBS 수학 (수학)					
	수학 46~47쪽 수학익힘30~31쪽			수학 48~49쪽 수익32~33쪽	수학50~51쪽 수익34~35쪽					
3 교시	국어			국어	국어					
	문장부호의 쓰임 알기			여러개의 문장 으로 표현하기	받침에 주의 해 문장쓰기					
	학습꾸러미 3쪽			학습꾸러미 7쪽	학습꾸러미 11쪽					
4 교시	수학	수학	수학							
	빨셈하기(1)	빨셈하기(2)	빨셈하기(3)							
	학습꾸러미 4~5쪽	학습꾸러미 8쪽	학습꾸러미 12쪽							
5 교시	창의적체험활동	창의적체험활동	창의적체험활동							
	추석 달님에게 소원 빌기	나의 추석이야기	한글을 빛낸 위인 세종대왕							
	학습꾸러미 6쪽	학습꾸러미 9~10쪽	학습꾸러미 13쪽							
출석 확인										
가정 통신	❖ 매일 8:40 학습 준비를 한 후 제일 먼저 학생 건강 자가검진 설문조사에 참여해주세요. ❖ 주간학습 안내에 학습이 끝난 후 0표시 해주세요.									



월요일 - ③교시

# 국어 학습지

1. 빈칸에 알맞은 따옴표를 적어 봅시다.

(1)  어떤 마술을 보여 줄까?

(2)  여러분, 모두 여기를 보세요.

(3)  모자 속에 무엇이 들어 있을까요?

(4)  토끼가 나왔네요!

2. 따옴표의 종류와 쓰임을 맞게 읽는 방법을 생각해 봅시다.


종류	쓰임
 <p>큰따옴표</p>	
 <p>작은따옴표</p>	



월요일 - ④교시

# 수학 학습지

1. 그림을 보고 □ 안에 알맞은 수를 써넣으세요.



$$48 - \square = \square$$

2. 뺄셈을 해 보세요.

$$\begin{array}{r} 25 \\ - 2 \\ \hline \end{array}$$

$$\begin{array}{r} 39 \\ - 6 \\ \hline \end{array}$$

$$\begin{array}{r} 67 \\ - 5 \\ \hline \end{array}$$

$$\begin{array}{r} 84 \\ - 3 \\ \hline \end{array}$$

3. 차가 가장 큰 것에 ○표, 가장 작은 것에 △표 하세요.

$$76 - 5$$

$$79 - 4$$

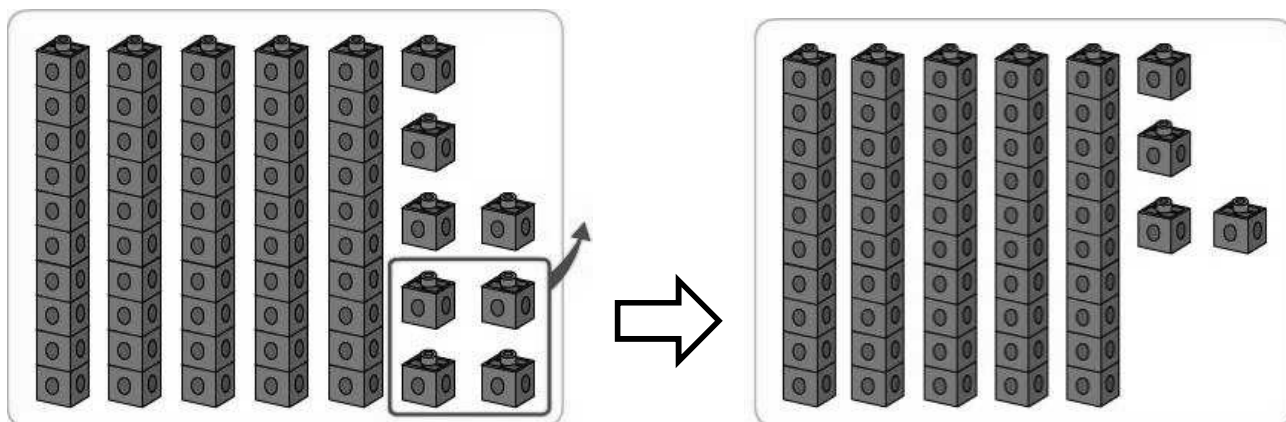
$$74 - 1$$

(                      ) (                      ) (                      )

4. 미진이가 농장에서 자두를 86개 땀습니다. 그중에서 5개를 먹었다면 남은 자두는 모두 몇 개인지 뽀셈식으로 나타내세요.

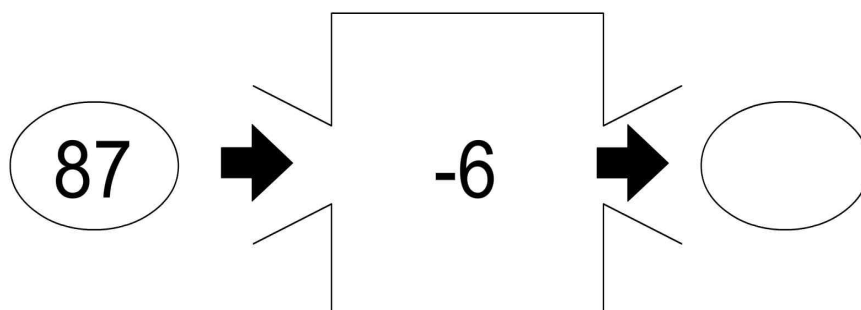
$$\square - \square = \square$$

5.그림을 보고 □ 안에 알맞은 수를 써넣으세요.



$$58 - 4 = \square$$

6. 빈 곳에 알맞은 수를 써넣으시오.





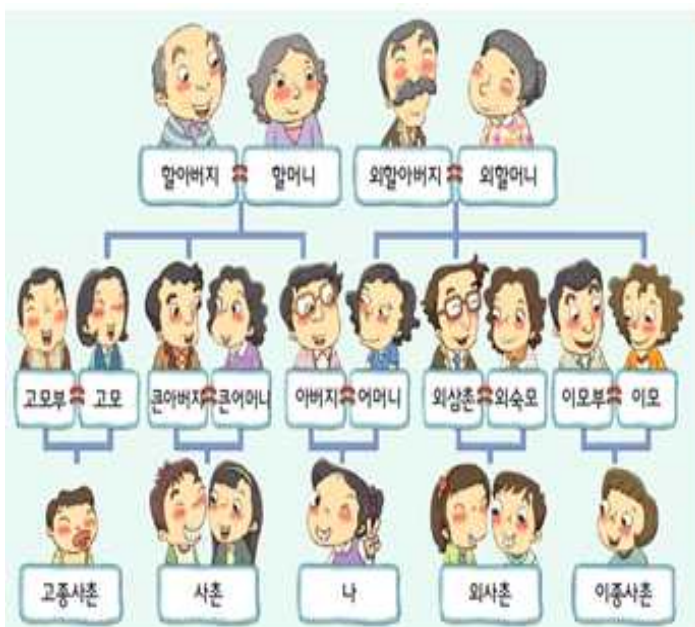
월요일 - ⑤교시

# 창의적 체험활동 학습지

○ 추석 달님에게 소원을 빌어요.

나의 소원

소원을 이루기 위해  
내가 할 수 있는 일



만나고  
싶어요

먹고  
싶어요

하고  
싶어요



월요일 - ③교시


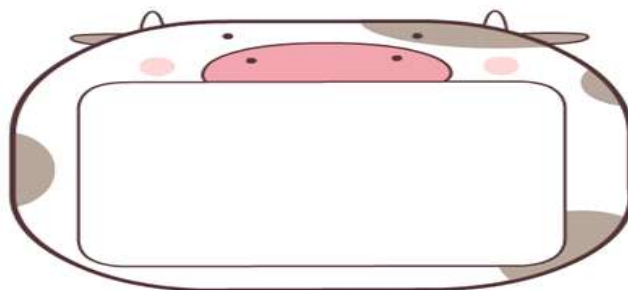
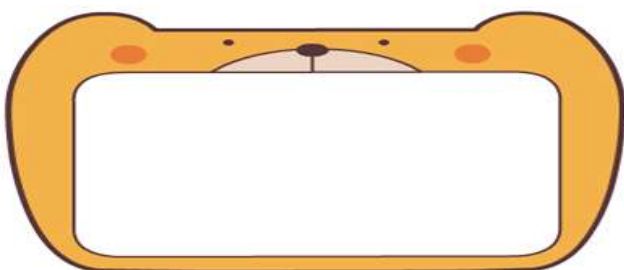
# 국어 학습지

※자신이 좋아하는 대상을 자세한 내용이 드러난 문장으로 소개해 봅시다.

(1) 누구를 소개하고 싶나요?



(2) 그 사람의 특징을 써 보세요.



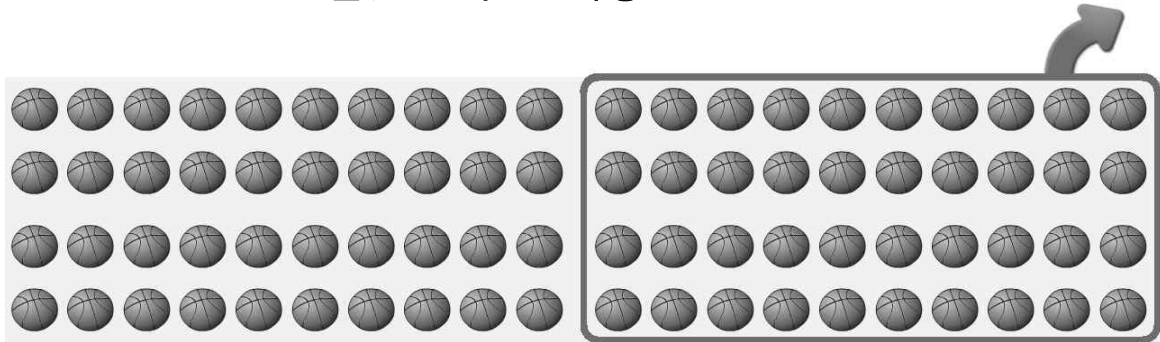
(3) (2)에서 찾은 특징을 생각하며 자세한 문장으로 소개해 보세요.



월요일 - ④교시

# 수학 학습지

1. 그림을 보고 □ 안에 알맞은 수를 써넣으세요.



$$80 - \square = \square$$

2. 뺄셈을 해 보세요.


$$\begin{array}{r} 30 \\ - 20 \\ \hline \end{array}$$

$$\begin{array}{r} 50 \\ - 20 \\ \hline \end{array}$$

$$\begin{array}{r} 70 \\ - 30 \\ \hline \end{array}$$

$$\begin{array}{r} 90 \\ - 30 \\ \hline \end{array}$$

3. 빈 곳에 알맞은 수를 써넣으세요.



4. 꽃밭에 장미 40송이, 튤립 60송이가 있습니다. 어떤 꽃이 얼마나 더 많은지 뺄셈식으로 알아보세요.

$$\square - \square = \square$$

⇒  $\square$  이/가  $\square$  송이 더 많습니다.





월요일 - ⑤교시

## 창의적 체험활동 학습지

※ 나의 추석 이야기

한복 입은  
내 모습

○○○의

추석

이야기

※ 추석에 대해 알고 있는 내용을 보기에서 골라 빈칸에 적어봅시다.

추석	(음력 8월 15일) 한가위
	(            )를 지내고 (            )을 만들어 먹어요.
	(            )와 같은 즐거운 놀이도 해요.

(보기)

팔죽, 세배, 강강술래, 창포물, 떡국, 부럼, 그네, 차례, 씨름, 쥐불놀이, 웃놀이, 송편

※ 내가 기억하는 추석 풍경을 그림이나 글로 표현해보세요.



수요일 - ③교시

## 국어 학습지

1. 빈칸에 알맞은 받침을 넣어 문장을 완성해 봅시다.

(1) 연필을 너무 많이 썼더니 

다	아	서
---	---	---

 짧아졌습니다.

(2) 

너	은
---	---

 운동장에서 아이들이 놀고 있습니다.

(3) 두 친구는 쌍둥이처럼 

다	았	습	니	다
---	---	---	---	---

 .

(4) 교실에 와서 친구들에게 

바	은
---	---

 표정으로 인사했습니다.

2. ‘ㄹ’, ‘ㄹㅎ’ 받침이 들어간 낱말에는 무엇이 있는지 써 봅시다.

ㄹ	
ㄹㅎ	

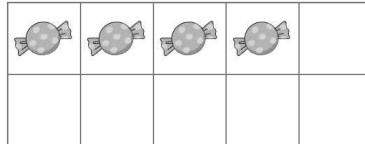
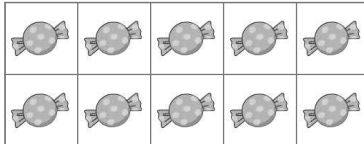
3. 여러 가지 받침이 들어간 낱말을 찾아봅시다.



수요일 - ④교시

# 수학 학습지

1. 초콜릿이 사탕보다 몇 개 더 많은지 알아보세요.



$$29 - \boxed{\phantom{00}} = \boxed{\phantom{00}}$$

2. 뺄셈을 해 보세요.

$$\begin{array}{r} 37 \\ - 10 \\ \hline \end{array}$$

$$\begin{array}{r} 54 \\ - 22 \\ \hline \end{array}$$

$$\begin{array}{r} 88 \\ - 45 \\ \hline \end{array}$$

$$\begin{array}{r} 92 \\ - 52 \\ \hline \end{array}$$

3. 차가 다른 뺄셈식을 찾아보세요.

$$55 - 23$$

$$69 - 37$$

$$43 - 10$$

$$86 - 54$$

( )

4. 책장에 동화책과 위인전이 모두 76권 있습니다. 그중 위인전이 35권이라면 동화책은 몇 권인지 뺄셈식으로 알아보세요.

$$\boxed{\phantom{00}} - \boxed{\phantom{00}} = \boxed{\phantom{00}}$$



수요일 - ⑤교시

## 창의적 체험활동 학습지

※ 10월 9일 (금) 요일은 한글날입니다.

한글을 빛낸 위인 세종대왕의 업적을 읽어 보고 입체로 만들어 봅시다.

한글을  
빛낸  
위인비석  
만들기

종이크래프트 만들기

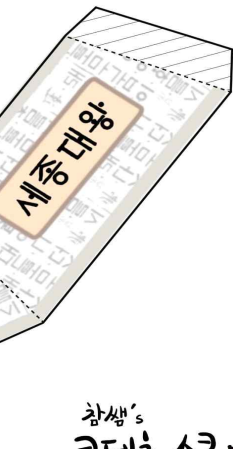


— 자르는 선  
- - - 밖으로 접는 선  
- · - · 안으로 접는 선



캐릭터 뒷면에  
폴칠을 한 뒤,  
예쁘게 붙여주세요!

세종대왕



참쌤's  
코텐츠 스킴